


سلسلة علم النفس ٨

# الاحصاء النفسية والاجتماعية والتربوية

تأليف  
الدكتور محمد السيد أبو النيل



دار النشر العربية







# الأحصاء

## النفسية والاجتماعية والتربوية



سلسلة علم النفس ٨

# الاحصاء النفسية والاجتماعية والتربوي

تأليف

الدكتور محمود السيد أبو النيل

أستاذ علم النفس

كلية الآداب - جامعة عين شمس

دار النهضة العربية  
للطباعة والنشر  
مبهرت - ص.ب. ١١-٧٤٩



---

روعي في هذا الكتاب مناسبتة لمستوى  
طلاب الأديبي بالجامعة الذين ليست لديهم  
خلفية في الرياضيات .

---

حقوق الطبع محفوظة  
١٤٠٧ هـ - ١٩٨٧ م

دار النهضة العربية  
للطباعة والنشر  
بيروت - ص. ب. ١١٧١١



---

\* الإدارة: بيروت، شارع مدحت باشا، بناية  
كريدية، تلفون: ٣٠٣٨١٦ /  
٣١٢٢١٣ / ٣٠٩٨٣٠  
برقياً: دانضة، ص. ب. ٧٤٩-١١  
تلكس: NAHDA 40290 LE  
29354 LE

---

\* المكتبة: شارع البستاني، بناية اسكندراني  
رقم ٣، غربي الجامعة العربية،  
تلفون: ٣١٦٢٠٢

---

\* المستودع: بئر حسن، تلفون: ٨٣٣١٨٠

---



# بِسْمِ اللَّهِ الرَّحْمَنِ الرَّحِيمِ

## مُتَقَدِّمَةُ الطَّبَعَةِ الْخَامِسَةِ

### الإحصاء كوسيلة وكتخصص وكتدريس

### في علم النفس والاجتماع والتربية

تحمل مقدمة الطبعة الخامسة من هذا الكتاب ذلك العنوان: «الإحصاء كوسيلة وكتخصص وكتدريس في علم النفس والاجتماع والتربية» وذلك للرد على كثير من الأسئلة والاستفسارات لدى الطلاب والباحثين في مجال علم النفس والاجتماع والتربية والتي تتركز حول كيفية تكوين القوانين في الإحصاء كقانون الانحراف المعياري أو معامل الارتباط أو مقاييس الدلالة الإحصائية من جهة، وتتركز من جهة أخرى حول فائدة تعلم الإحصاء بعد ظهور الكمبيوتر وانتشاره.

والجزء الأول من التساؤلات يثير مسألة على جانب كبير من الأهمية وهي الحدود القائمة بين تخصصات الأقسام العلمية في الجامعات، فالإحصاء كتخصص يواصل فيه الطالب دراساته العليا مكانه المعاهد المختصة وكليات العلوم والتجارة والاقتصاد، أما كأسلوب وكتدريس فالأمر يختلف لأن الباحث في مجالات علم النفس والاجتماع والتربية لا يهتم من الإحصاء ما يهتم المتخصص، فإذا كان المتخصص يدخل في مجال عمله إعداد وصياغة القوانين الإحصائية بأسسها الرياضية فإن الباحث النفسي والاجتماعي والتربوي لا يهتم منها إلا أنها وسيلة توصله فقط لنتائج اختبار

فروض بحثه ولا يعنيه الأمر شيئاً أن هذا القانون بسطه كذا أو مقامه كذا أو جذره كذا أو مربع ذلك الرقم كذا. فهذه أشياء لا تدخل في نطاق تخصصه الرئيسي وهو دراسة السلوك الإنساني في سياق اجتماعي تربوي. والباحث النفسي والاجتماعي والتربوي هنا شأنه شأن مخطط البرامج في الحاسب الآلي (الكمبيوتر) إنه يدخل بياناته بعد عمل البرنامج الخاص بتلك البيانات ويقوم بتشغيل جهاز الكمبيوتر دون أن يعنيه كيف تعمل الأجهزة الكهربائية حتى يصل إلى تلك النتائج لأن تلك المهمة المهندس الذي صمم الجهاز من الناحية الميكانيكية والكهربائية والناحية الالكترونية والذي يقع مكان تخصصه في تلك الأقسام العلمية بكليات الهندسة؛ بينما مخطط البرامج يقع مكان تخصصه في كلية العلوم والذي يمكن أن يواصل دراساته العليا بكلية العلوم بينما مهندس الكمبيوتر يمكن أن يواصل دراساته العليا في كلية الهندسة. إذا مخطط البرامج (كلية العلوم) يستعين بجهاز الكمبيوتر (كلية الهندسة) لإجراء المعالجات المختلفة على بياناته. كذلك الأمر بالنسبة للباحث النفسي والاجتماعي والتربوي فهو يستعين بالمعادلات الإحصائية التي توصل إليها المتخصصون في الإحصاء أو الإحصاء الرياضي لعمل المعالجات التي تتطلبها طبيعة بحثه.

أما بالنسبة للشق الآخر من التساؤل وهو الذي يختص بفائدة تعلم الإحصاء بعد ظهور الكمبيوتر ووجود برامج لكل العمليات الإحصائية فهذا التساؤل وإن كان طلاب الدراسات العليا في تخصص علم النفس يرددونه كل عام يدرسون فيه الإحصاء المتقدم فإنه من الممكن أن يكون تساؤلاً عاماً أيضاً لدى طلاب التخصصات الأخرى. والرد على ذلك يتضح في أننا نفترض أن باحثاً ما لا يعرف الإحصاء وتوفرت لديه بيانات عن عينة من الأفراد وتوفر له وضع فروض أو تساؤلات لأهداف بحثه وذهب بهذه البيانات إلى مخطط البرامج بالكمبيوتر فماذا سيقول لذلك المسؤول ليفعله له في البيانات التي

حملها معه؟ ، أو ما هي اللغة المشتركة بينهما حتى يمكن أن يتم شيء بالحاسب الآلي؟ وباختصار ما الذي سيطلبه ذلك الباحث الذي لا يعرف الإحصاء من الكمبيوتر إذا كان لا يعرف أن هذه البيانات إذا كان الفرض المراد اختباره كذا فإن المعالجات التي يطلبها لتطبيقها على تلك البيانات هي كذا وكذا... إلخ .

هذا بالنسبة للإحصاء كوسيلة وكتخصص وبقي الشق الأخير من العنوان وهو الإحصاء كتدريس ، أي من يقوم بتدريس الإحصاء في أقسام علم النفس والاجتماع والتربية؟ في الحقيقة ومن واقع الخبرة الطويلة يفضل الذي يجمع بين تخصص الإحصاء والتخصص في علم النفس أو الاجتماع أو التربية ، لكن إذا لم يتوفر فمن الذي يفضل؟ وفي الحقيقة أيضاً ومن واقع الخبرة الطويلة والتي عايشها مؤلف هذا الكتاب يفضل المتخصص في علم النفس والاجتماع والتربية والذي درس الإحصاء واستخدمها استخداماً طويلاً تشبعت بها أعماله . لأن خبرة هذه التخصصات من المتخصص في الإحصاء فقط كانت خبرة غير إيجابية ، فالمتخصص في الإحصاء يدرس الإحصاء دون أن يضيف عليها المعنى الذي تفرضه ضرورة المعرفة والفهم للسلوك الإنساني والبيئة الاجتماعية التربوية المحيطة به لأن ذلك الجزء الأخير لا علم ولا دراية له به لأنه ليس تخصصه ، فكيف حتى من أبسط الزوايا يأتي بالأمثلة المستمدة من حقول هذه التخصصات ليربط بين الإحصاء وبين مكونات السلوك من ذكاء وإدراك وتنشئة اجتماعية وقيم واتجاهات تربوية معينة. في الحقيقة كانت خلاصة تجربة هؤلاء المتخصصين شكوى من الطلاب وعدم عودة من المتخصص لتدريس الإحصاء مرة ثانية لوجود فجوة بينهما .

ولقد أتت هذه الطبعة مزيدة ومنقحة إذ تم تنقيح كل الكتاب وإعادة صياغته ، كما تم إضافة الكثير من التحاليل الإحصائية المفيدة لتحليل التباين

من الدرجة الثانية ، وإضافة معادلتين أخريتين لدلالة النسبة المئوية . كما تم تقديم الكثير من التمارين المحلوقة في التحليل العاملي . وبالنسبة للارتباطات أضيف الانحدار وحساب الدلالة بين معاملات الارتباط، وبالنسبة للدلالة الإحصائية أضيف حساب للدلالة بين المجموعات المرتبطة .

وفي النهاية لا ندعي أننا بمحتويات هذا الكتاب قد ألمنا بأطراف الإحصاء المترامية فذلك يحتاج لمجلد آخر، كما أننا أردنا للباحث والطالب ألا يقتصر إطلاعهم على ذلك الكتاب فقط فهناك مئات من كتب الإحصاء بالعربية والأجنبية بها الكثير مما في هذا الكتاب والقليل الذي ليس فيه .

وفقنا الله وغفر لنا من السهو والخطأ راجين ممن يقرأ الكتاب أن يفيدنا، بملاحظاته وتصويباته ، فجل من لا يسهو أو يخطئ سبحانه وتعالى عما يصفون .

**المؤلف**

القاهرة ١٩٨٧ .

## بِسْمِ اللَّهِ الرَّحْمَنِ الرَّحِيمِ

### مُتَقَدِّمَةُ الطَّبَعَةِ الثَّالِثَةِ (\*\*)

أقدم هذه الطبعة الثالثة من كتاب «الإحصاء النفسي والاجتماعي وبحوث ميدانية تطبيقية» وهي طبعة مزيدة ومنقحة، وانتهاز هذه الفرصة لأشكر زملائي بقسم علم النفس وتلاميذي من طلاب الدراسات العليا على معاوناتهم الطيبة في سبيل إخراج هذه الطبعة.

ولقد وجدت تغييراً بالصورة الحالية (\*\*\*) بدلاً من العنوان في الطبعة الثانية ليتطابق ذلك مع ما جاء به من بحوث في الجزء الرابع طبقت فيها المعالجات الإحصائية التي وردت في الأجزاء الثلاثة الأولى.

والله الموفق

المؤلف

---

(\*) مقدمة الطبعة الرابعة كانت صورة طبق الأصل عن مقدمة الطبعة الثالثة (١٩٨٠) دون أي

تعديل بها. (المؤلف ١٩٨٤).

(\*\*) والذي ظهر في الطبعة الثالثة وهو نفس العنوان الحالي.



## مُقدِّمة الطبعَة الثَّانِيَة

يمتاز كتاب «في الإحصاء النفسي والاجتماعي ومعايير اختبار الشخصية الإسقاطي الجمعي» بثلاث خصائص لم تضعها في الاعتبار كتب الإحصاء بالمكتبة المصرية وهي الإيجاز، التمارين والتدريبات المحلولة، وأنه كتاب عملي.

فالإيجاز في الإحصاء (خاصة وأن الإحصاء تساعد الباحث في علم النفس وعلم الاجتماع على بحث الظواهر النفسية والاجتماعية) يوجه الباحث لما يفيد مباشرة ولا يجعله يتوه في دروب هو في غنى عنها، خاصة وأنه يفتقر لخلفية في الرياضيات والجبر وحساب المثلثات تلك العلوم التي تشكل أساس وضع قوانين الإحصاء.

أما التمارين والتدريبات المحلولة فيقصد منها تثبيت وتدعيم ما يتعلمه الطالب من قواعد وقوانين تتعلق بالمعالجات الإحصائية للبيانات.

كذلك فإننا أردنا أن يكون هذا الكتاب عملياً أو من نوع تلك الكتب التي يطلق عليها اسم Cook Book (\*) فشمّل من الإحصاء الموضوعات الهامة والتي يشيع استخدامها باستمرار في البحوث والدراسات من ناحية

---

(\*) أنظر في ذلك كتاب:

Runyon-Haber, Fundmental.Behaviowral Statistics, Addison Comp. 1973.

ومن ناحية روعي التبسيط والسهولة والتسلسل في كيفية الوصول إلى النتائج .  
وفي تقسيمنا للكتاب لثلاثة أجزاء راعينا التدرج في تقديمها فقدمنا في  
الجزء الأول مبادئ الإحصاء النفسي والاجتماعي وفي الجزء الثاني  
الإحصاء التطبيقي وفي الجزء الثالث الإحصاء المتقدم . وكان الأساس من  
هذا التقسيم هو المنهج الجامعي .

ويتناول الجزء الأول جمع المعلومات والبيانات ومصادر ووسائل  
جمعها وطرائق تفريغها وتصنيفها ومراجعتها ووضعها في جداول تكرارية كما  
يتضمن طريقة تمثيل هذه البيانات بالرسوم البيانية . وبعد ذلك يتناول هذا  
الجزء المتوسطات الحسابية ومقاييس التشتت والمعايير الخاصة بالدرجة  
الخام كالدراجه المعيارية والمئين .

أما الجزء الثالث فيتناول معاملات الارتباط المتعلقة بمشاكل حساب  
الارتباط بين متغيرات كمية أو متغيرات كيفية أو هما معاً . ثم يعرض هذا  
الجزء لمقاييس الدلالة الإحصائية والتوزيع الاعتدالي وتعديل هذا  
التوزيع .

أما الجزء الثالث فيتناول معاملات الارتباط المتعلقة بمشاكل البحوث  
والتي تعاون الباحث في عزل المتغيرات وإبطال تأثيرها على النتائج كما  
تتضمن حساب الدلالة لأكثر من متغيرين أو حساب الدلالة للتوزيعات غير  
الاعتدالية كما يهتم بحساب دلالة النتائج التي تكون على شكل نسب مئوية .  
وأخيراً يهتم بعرض طرق التحليل العاملي .

هذا بالنسبة للإحصاء وقواعدها وخطوات حلها والتمارين المتعلقة  
بذلك . ولقد أردنا لهذه الطبعة من الكتاب (الثانية) أن تكون مختلفة عن  
الطبعة السابقة فأفردنا فيها عرضاً لبحوث تطبيقية استخدمت فيها الإحصاء  
بهدف إعداد معايير لمجموعة من اختبارات القدرات واختبارات الشخصية .



وهذا ما سيجده القارئ في الأجزاء الأخيرة من الكتاب مثل اختبارات الإبصار والتآزر والقوة العقلية في بحث «الحد الأدنى اللازم للأداء والمعايير التائية لاختبارات السائقين» وبحث «المعايير التائية لاختبار الشخصية الإسقاطي الجمعي الذي قام المؤلف بترجمته وتطبيقه على البيئة المحلية».

والله الموفق .

المؤلف



الجزء الأول

سبأى الأخصاء



## أولاً

### جمع المعلومات وتصنيفها وتوضيحها بالرسم

#### تعريف بالإحصاء

إذا عرفنا «الإحصاء» بأنها القيمة أو الدرجة التي تعبر عن النتيجة النهائية للعمليات الرياضية التي تمثل العينة أو المجتمع الأصلي فلا بد أن نشير إلى وجود ثلاثة تطورات في تاريخ الإحصاء تستحق الذكر، الأول نظرية أخطاء القياس لجالتون Galton F. وآخرين عن تطبيق المفاهيم الإحصائية في العلوم البيولوجية، والثاني ما قدمه فيشر Fisher من صياغات وابتكارات نظرية، وأخيراً الكمبيوتر الذي أدى إلى تسهيل إجراء العمليات المعقدة.

والأصل في كلمة الإحصاء أنها مشتقة من اللفظ اللاتيني «ستاتوس» أو «ستاتو» والذي يستعمل بمعنى الدولة كما يستعمل أيضاً ليشير للمعلومات المتصلة بنظام الدولة ومؤسساتها وأجهزتها المختلفة وأحوالها. ولذلك أطلق على الإحصاء اسم «ستاتستيك» Statistic ليبدل على مجموعة المعلومات الخاصة بالدولة في وقت من الأوقات ثم انتهى به الأمر ليبدل حتى الآن على معاني عدة منها:

- ١ - جمع المعلومات التي تبين الأحوال والظروف في البلاد مثل .
- أ - عدد المواليد والوفيات .

- ب - عدد الأذكىاء وعدد الأغبياء كما تكشف عنهم اختبارات الذكاء .
- ج - المحاصيل الزراعية والفواكه .
- د - عدد المتفوقين وعدد المتأخرين دراسياً .
- هـ - التجارة الداخلية والخارجية .
- و - عدد المرضى النفسيين وعدد الأسوياء في مجتمع ما .
- ز - عدد المتعلمين وغير المتعلمين (الأميين) .
- ح - عدد المقبولين بناءً على الاختيار المهني .
- ٢ - ويعني بالإحصاء إلى جانب ما سبق أنه فرع من فروع العلم له أسلوبه وطريقته وموضوعات البحث الخاصة به .
- فوائد الإحصاء
- وعلى هذا الأساس يقع على عاتق علم الإحصاء دراسة جميع نواحي الحياة في المجتمع . وتوفر المعلومات والبيانات الإحصائية المختلفة والمناسبة يستطيع الباحثون والمسؤولون :
- ١ - تفهم ومعرفة حالة البلاد بيسر وبسهولة .
- ٢ - تحديد احتياجات السكان من الغذاء والمساكن والمدارس والمصانع والوظائف .
- ٣ - الكشف عن النقط الضعيفة في التعليم أو الحالة الاقتصادية أو الخطوات التي تتبع في تربية الصغار وتعليمهم أو في محو أمية الكبار .
- ٤ - تتمكن الدولة على أساس مثل هذه المعلومات من اتخاذ الإجراءات الكفيلة بتلافي أو إزالة أسباب الضعف أو تحسين الأحوال في الزمن المناسب .
- ٥ - تمكن الباحث في مجال علم النفس من التنبؤ بالسلوك من خلال ما يجري

من معالجات إحصائية للبيانات التي تسم جمعها عن أفراد عينة البحث . ونتيجة لكل ذلك نشأت النظم الإحصائية مع نشوء الدولة ووجودها على وجه الأرض . فمن أبسط الأمور مثلاً أن أي حكومة في أي زمن من الأزمان تحتاج إلى معرفة عدد القادرين من السكان على حمل السلاح وعلى دفع الضرائب التي تفرض عليهم وذلك لتتمكن من إدارة دفة البلاد . ولعل أبسط الأمثلة التي تشير لأهمية الإحصاء كذلك ما قد يحدث في بعض البلاد الزراعية من نقص في أحد محاصيلها الزراعية وما يترتب على ذلك من نقص في المواد الغذائية أيضاً ، ففي مثل هذه الحالة تتحرك أجهزة الإحصاء والباحثون في هذا المجال لمعرفة حالة المحصول في المناطق الأخرى لكي يمكن عمل الإجراءات والخطوات اللازمة لتزويد سكان المناطق المصابة بالمواد الغذائية ولمنع ارتفاع أسعارها في نفس الوقت نتيجة النقص الذي أصاب المحصول . كذلك تهتم الدول المتقدمة بمعرفة خريطة توزيع القدرات العقلية والذهنية بين أفراد شعبها ليتم من خلال هذا المسح العام توزيع التلاميذ والطلاب على التعليم المناسب لهم ، وليتم أيضاً وضع كل فرد في المهنة والعمل المناسب لتفكيره وميوله ، ويتم تجنيد الشباب البالغين كل منهم في السلاح المناسب لقدراته ومواهبه .

ويمكن أن ينطبق المثال السابق أيضاً على مشكلة الأمية . فلو حدث مثلاً إجراء تقييم لبرنامج محو الأمية في إحدى القرى (وهو ضمن برنامج شامل لكل قرى الدولة بالطبع) وأشارت المعلومات المجموعة على أن مدى التحسن في محو الأمية يتضاءل شهراً بعد شهر وتحليل تلك المعلومات وجد أن نقص وسائل الإيضاح السمعية والبصرية هو السبب في ذلك فإنه يمكن على الفور الاستفادة من هذه النتيجة بتعميم الوسائل السمعية والبصرية في فصول التعليم في كل القرى وهكذا .

ومما سبق يتبين لنا بدون أدنى شك أن علم الإحصاء قد نشأ ونما

وتوسعت صلته بكل نواحي الحياة اليومية ليلبي متطلبات هذه الحياة من خلال إحصاء الدولة للبيانات الخاصة بالسكان وعددهم . وعلى مستوى الأفراد نجد في حياتنا اليومية أيضاً أن الفلاح والتاجر والصانع الحرفي يعتمد في نشاطه العملي اليومي على ملاحظاته الشخصية وعلى ما يسجله في كل لحظة ، أو من حين لحين في نوتة جيبه من معلومات في شكل أرقام ، وإذا كان أمياً لا يعرف القراءة أو الكتابة فإنه يعتمد على ذاكرته العقلية . ولكن بنشأة الصناعة والتجارة وتركزها في أماكن معينة لتخدم آلافاً من الناس لا أفراداً صغيرة لا يمكن الاعتماد على هذه الوسائل البدائية التي يعتمد عليها الأفراد كالعامل والفلاح والتاجر . بل يتم إنشاء نظم للحسابات يتلوها إضافة الإحصاء إلى هذه النظم الحسابية . والإحصاء بهذه الصورة لا يحل محل الحسابات ولا يلغيها ولكنه يكملها فقط فوظيفة الحسابات القيام بحساب نتائج النشاط الاقتصادي للمؤسسة كالأرباح والخسائر أما الإحصاء فهو يتابع النشاط الاقتصادي كبيع السلع المختلفة .

### فوائد الإحصاء : الأمية كمثال

ومن خلال كل ما سبق نستطيع القول بأنه يمكن الاستفادة من الإحصاء في مجال الأمية كمثال وما يرتبط بها من مشكلات سكانية وذلك لأن الإحصاء (\*) .

١ - تنفيذ في تنظيم وتوضيح الوضع بالنسبة للأمية في جميع البلاد العربية قبل وبعد تنفيذ التوصيات الخاصة بمحو الأمية والصادرة عن المؤتمرات التي يعقدها المهتمون ببحثها ودراستها .

---

(\*) عن محاضرة ألقاها المؤلف في دورة الإحصاء التي عقدتها المنظمة العربية للعلوم (جهاز محو الأمية) في نوفمبر ١٩٧٦ بمدينة بغداد عاصمة العراق للمسؤولين عن أجهزة محو الأمية في العالم العربي .



٢ - تفيد في توضيح ومقارنة نسبة الأمية في البلاد والدول المختلفة سواء أكان ذلك بشكل عام أو بشكل أكثر تخصصاً كأن تتم المقارنة بين الذكور والإناث في كل بلد على حدة وفي كل بلد بالنسبة للبلاد الأخرى .

٣ - تفيد في عمل التقديرات الخاصة بعدد السكان في فترة زمنية لاحقة وذلك بالاعتماد على معدلات المواليد والوفيات واستخراج معدلات الزيادة السكانية من ذلك . ومن خلال تلك التقديرات يمكن حساب نسبة الأميين إلى عدد السكان الذي تم الوصول إليه من هذه الدراسات الإحصائية .

٤ - لكي تتمكن الدولة من وضع الاحتياطات الكفيلة بمحو الأمية فإنه لا يتم لها ذلك بسهولة إلا من خلال معرفة أعداد الأميين في المناطق الجغرافية وذلك لتحديد مناطق انتشارهم لتخطيط وإعداد برامج محو الأمية ولا يتأتى ذلك كله إلا من خلال الإحصاء والمعالجات الإحصائية .

٥ - باستخدام الأساليب الإحصائية في معالجة المعلومات التي تم جمعها عن السن التي يشملها الإلزام يمكن معرفة مدى التغير الذي حدث على مدى العمر الذي يشمل الإلزام في التعليم الابتدائي في مجموعة من الدول .

٦ - تساعد الإحصاء في معرفة الأسباب الشائعة والتي تتكرر مراراً وتقف وراء انتشار الأمية في البلاد .

٧ - باستخدام المعالجات الإحصائية للاستبيانات والإجابة عليها يتمكن الباحثون من تحليل ومعرفة مدى توفر الوسائل والمعينات البصرية كالفرائط والمصورات في كتب محو الأمية ليتمكن من خلال هذا التحليل معالجة النقص في هذه النواحي .

## ثانياً خطوات البحث الإحصائي

يمر البحث الإحصائي في عدد من الخطوات نجملها فيما يلي :

- ١ - تحديد المشكلة وحجمها .
  - ٢ - تحديد البيانات الضرورية للإلقاء الضوء على طبيعة المشكلة .
  - ٣ - وسائل جمع البيانات .
  - ٤ - مصادر جمع البيانات .
  - ٥ - العمليات القانونية لجمع البيانات .
  - ٦ - دقة البيانات .
  - ٧ - المراجعة الميدانية .
  - ٨ - المراجعة المكتبية للبيانات .
- ١ - تحديد المشكلة وأهميتها :

لا يجري بحث من البحوث لأي ظاهرة من الظواهر أو مشكلة من المشاكل إلا من خلال إحساس المسؤولين، بل والباحثين أنفسهم بالآثار المادية والبشرية لهذه المشكلة التي تنتشر في أرجاء المجتمع . ويعني بذلك أنه كلما ازدادت المشكلة واستفحلت كلما شعر بها الناس وتحركت الأجهزة المعنية لدراستها .

ويأخذ مسار البحث تحديدهما :

التحديد الأول : خاص بأهم مشاكل المجتمع التي يجب دراستها قبل غيرها ويتم ذلك عن طريق مقارنة المعلومات المتوفرة عن الخسائر التي تنتج عن كل مشكلة سواء كانت هذه الخسائر مادية أو بشرية . ونوضح ذلك بالمثال التالي :

« طلب من أحد الباحثين أن يختار بين البدأ في دراسة ظاهرة رسوب التلاميذ في المرحلة الابتدائية ، أو في دراسة مشكلة العمال الصناعيين الذين يقعون في الحوادث أي : سيكولوجية الحوادث . ولكي يختار بين أي من هاتين المشكلتين لدراستها ، يقوم أولاً بجمع البيانات والمعلومات الخاصة بالأموال التي تنفقها الدولة وتضيق هباءاً مثوراً في كل من هاتين الظاهرتين ، وعدد الأفراد والنسبة المئوية للذين يعانون منهما ، وتأثير كل ذلك في نهاية الأمر على الدخل القومي . وعلى أساس ذلك يستطيع الباحث تحديد المشكلة التي يبدأ بدراستها حسب النسبة المئوية للأفراد الذين يقعون فيها (الحجم) ، والخسارة المادية التي تلحق بالمجتمع والمتمثلة فيما يتفق على التلاميذ من تعليم وخلافه .

أما التحديد الثاني : فيتعلق بتحديد عناصر المشكلة قبل بحثها لكي يعفي الباحث نفسه من الوقوع في الخطأ ومن أهم الجوانب التي يجب على الباحث القيام بها في هذا الصدد تحديد المفاهيم والألفاظ العلمية التي سيتم تناولها في البحث لأن ذلك من شأنه أن يبلور جوانب المشكلة التي سيتم دراستها في ذهن الباحث ، وبذلك لا يكون هناك اختلافاً بين هذا الباحث وأي باحث آخر بالنسبة لتعريف مفاهيم البحث . ويجب أن تكون صياغة مفاهيم البحث مشتقة من خلال ما يتبع من عمليات في ملاحظتها أو قياسها أو تسجيلها ، والمثال على ذلك ما أجري في بحث : أوضاع الأمية في البلاد العربية واستراتيجية مكافحتها ، حيث جاء في تعريف الأمي في الجمهورية العراقية بأنه :

كل عراقي تجاوز الخامسة عشر ولم يتعد الخامسة والأربعين من عمره ولم يكن منتظماً بأية مدرسة ولم يصل إلى المستوى الوظيفي .

وعلى الرغم من وضوح التعريف السابق وضوحاً تاماً إلا أن البحث قد حدد أيضاً المقصود بالمستوى الوظيفي الوارد في هذا التعريف بأنه :

أ - القدرة على قراءة فقرة من مخطوط أو مطبوع بفهم .

ب - القدرة على كتابة قطعة إملاء كتابة صحيحة .

ج - القدرة على التعبير الكتابي عن فكرة أو أكثر تعبيراً مفهوماً .

د - القدرة على قراءة الأعداد وكتابتها وإجراء العمليات الحسابية .

هـ - القدرة على تحسين عمله في مهنته .

و - القدرة على إدراك حقوقه وواجباته ليستطيع الإسهام في تطوير مجتمعه .

وبالإضافة لكل ما سبق فإن على الباحث في مجال محو الأمية أن يضع تحديداً لعلاقة بحثه هذا بالنواحي الآتية :

١ - التعليم الابتدائي .

٢ - حجم السكان .

٣ - مناهج محو الأمية .

٤ - وسائل الإعلام .

٥ - المعلمون القائمون على محو الأمية . . . الخ .

وبهذا يستطيع الباحث في مجال الأمية أن يحدد الحالات التي يجب دراستها لتحقيق الغرض من بحثه بحيث يقتصر في دراسته تلك على الأميين الذين ينطبق عليهم التعريف السابق .

والمثال الآخر عند دراسة موضوع كالدكاء Intelligence فعند بحث هذا الموضوع لا بد من القيام بتحديد المقصود بالدكاء كأن يكون مثلاً القدرة

على التعلم ، أو القدرة على إدراك العلاقات ، وتوضيح العوامل المرتبطة به من فطرة واكتساب أي العوامل الوراثية والبيئية . ويكون التحديد الإجرائي لمفهوم الذكاء هو الأسلم للباحث وذلك بربط الذكاء بأداة قياسه فيعرف الذكاء بأنه : ما يقيسه اختبار الذكاء من نواحي كالمعلومات والمفردات والمتشابهات والفهم ورموز الأرقام والاستدلالي الحسابي وذلك حسب ما جاء في مقياس وكسلر بلفيو للذكاء .

## ٢ - جمع البيانات الخاصة بالمشكلة :

بعد تحديد الباحث لمفاهيم البحث الأمر الذي أشرنا إليه فيما سبق يقوم بتحديد المعلومات والبيانات التي سيتم جمعها لمعرفة أبعاد المشكلة وإلقاء الضوء عليها .

وبالنسبة لمشكلة كالأمية فإن الباحث عليه أن يوفر البيانات الآتية ليستطيع دراسة هذه المشكلة :

- ١ - بيانات عن تعريف الأمي في تشريعات محو الأمية .
- ٢ - بيانات عن سن الأمي كما حددت في تشريعات محو الأمية .
- ٣ - بيانات عن وضع وتوزيع الأمية في البلاد والدول التي سيشملها بحثه .
- ٤ - بيانات عن نسب الأمية بين (الذكور والإناث في مناطق البحث) .
- ٥ - بيانات عن تعداد السكان التقديري .
- ٦ - بيانات عن أعداد الأطفال المقبولين في المدارس ونسبتهم إلى من في سن الإلزام .
- ٧ - بيانات عن التسرب من التعليم الإلزامي .
- بيانات عن التمويل وأوجه إنفاق الموازنة .
- ٩ - بيانات عن الكتب الدراسية المستخدمة في محو الأمية .

وعن مشكلة أخرى كمشكلة العوامل النفسية المرتبطة بالوقوع في

الحوادث فإن على الباحث أن يوفر البيانات الآتية :

- ١ - بيانات عن الوقت الضائع نتيجة الحادثة .
- ٢ - بيانات عن أيام الغياب طوال وقت الإصابة .
- ٣ - بيانات عن الخسائر المادية التي لحقت بالآلات والمواد والتي كانت مستعملة وقت الحادث .
- ٤ - بيانات عن التعويض المادي الذي يصرف للعامل من هيئة التأمينات الاجتماعية .
- ٥ - بيانات عن نفقات التدريب المهني الذي يتم للعمال الجدد بدلاً من العمال المصابين .
- ٦ - بيانات عن أسباب الحوادث تؤخذ من بطاقة تحليل الحادثة والتي يجريها مشرف الأمن الصناعي وهذه البيانات مثل : عدم الانتباه والسرعان - التحدث مع الزملاء - التعب والإجهاد شدة درجة الحرارة - الأتربة والغازات - نقص الخبرة والتدريب - نقص الاستعداد والقدرة .
- ٧ - بيانات خاصة بالمتطلبات العقلية والذهنية الخاصة بالعمل والتي تستخرج من استمارة تحليل العمل لاستخدام هذه المتطلبات في اختيار عمال جدد مناسبين للعمل .

٣- وسائل جمع البيانات :

أ- استمارة البحث :

يقوم الباحث بجمع البيانات الضرورية للبحث بإعداد مجموعة من الأسئلة توضع فيما يسمى باستمارة البحث ، وهي الوسيلة التي يتم من خلالها جمع هذه البيانات . وتعتمد هذه الوسيلة على قيام الباحث بالاتصال الشخصي بالمبحوثين من أفراد العينة أي إجراء مقابلة شخصية معهم يوجه إليهم فيها الأسئلة التي باستمارة البحث ، ويتولى بنفسه ملء البيانات من واقع

ما يدلى به المبحوث من إجابات على الأسئلة التي في الاستمارة المخصصة لذلك وقد يرسل الباحث في بعض الأحيان مندوبه للاتصال الشخصي بالمبحوثين .

ويلجأ الباحث عندما يتعذر الاتصال بالمبحوثين إلى أخذ عينة من دليل التليفون وإرسال الاستمارة إليهم بالبريد ليتم جمع المعلومات عن طريق التسجيل الذاتي ، وفيها يترك للمبحوث أن يكتب البيانات الخاصة به في اسمارة البحث .

وقد يقوم الباحث أيضاً بنشر «استمارة البحث» في مجلة من المجلات أو صحيفة من الصحف ، وقد تعرض على المبحوث عن طريق التليفزيون(\*) أو السينما وبعد الإجابة على الأسئلة يقوم المبحوث بإرسال البيانات إلى عنوان الباحث أو المؤسسة التي تقوم بالبحث عن طريق البريد أو عن طريق مندوبين يمرّون على الناس في منازلهم(\*\*).

وفي بعض الأحوال يمر الباحثون على منازل وبيوت المبحوثين من أفراد العينة ويتركسون لهم اسمارة البحث وبها التعليمات الخاصة بملء الاستمارة ليقوموا بأنفسهم بملئها ثم إرسالها بعد ذلك بالبريد إلى الجهة التي تقوم بإجراء البحث .

#### مزايا وعيوب الطرق السابقة :

وبطبيعة الحال فإن لكل طريقة من الطرق السابقة الخاصة بجمع البيانات مزايا وعيوب . فقيام الباحث بنفسه بتوجيه الأسئلة للمبحوث تمكنه

---

(\*) كما يحدث في الاستفتاء الذي تجرّه الإذاعة سنوياً للتعرف على رغبات الجمهور وآرائهم بالنسبة لبرامجها .

(\*\*) كما يحدث في التعداد العام للسكان حيث يتم فيه حصر بيانات تستخدم في التخطيط لوضع حلول لمشاكل الجماهير .

من أن يوضح ما يريد المبحوث أن يستفسر ويسأل عنه . عندما يلتبس عليه الأمر بالنسبة لأحد الألفاظ أو لأحد العبارات ، وبشرط أن لا يؤثر هذا التوضيح في المبحوث فيجعله يغير رأيه الأصلي . أما طريقة التسجيل الذاتي أي قيام المبحوث نفسه بالإجابة على أسئلة الاستمارة فهي تعتبر من الناحية الاقتصادية أقل نفقة من طريقة الاتصال الشخصي ، كما أنها بالإضافة لذلك تعطي الفرصة للمبحوث بأن يقوم بالإجابة على الأسئلة بدقة تامة لتوفر الوقت اللازم لذلك ، وفي نفس الوقت فإن هذه الطريقة تلغي تأثير المبحوث بالباحث عند الإجابة على بعض الأسئلة الحساسة والتي تمس حياته الشخصية الخاصة ، مثل إدمان المخدرات ، أو العلاقات الأسرية أو النواحي الجنسية . لكن من عيوب هذه الطريقة أن بعض المبحوثين قد لا يجيبون على أسئلة الاستبيان أو يرسلون إجاباتهم إلا بعد انتهاء إجراء التحليلات الإحصائية للبحث مما يترتب عليه أن لا تكون لإجاباتهم أية قيمة ، هذا إلى جانب أن هذه الطريقة قد لا يمكن تعميمها في الدول التي تنتشر فيها نسبة الأمية .

أما طريقة الاتصال الشخصي فهي إلى جانب ما سبق تمتاز بأنها تستخدم مع المتعلمين وغير المتعلمين لأن الباحث هو الذي يقوم بقراءة السؤال وما على المبحوث إلا أن يجيب على السؤال ويقوم الباحث مرة أخرى بتسجيل إجابة المبحوث كتابة ، كما أن الباحث في هذه الطريقة يستطيع أن يسجل رأيه وانطباعاته وملاحظاته عن طريقة وأسلوب المبحوث في الإجابة ومدى تعاونه وإجابته على الأسئلة بجدية أم لا .

ب - الملاحظة :

تستخدم الملاحظة أيضاً في جمع المعلومات والبيانات الخاصة بالبحث - وتعتبر الملاحظة أول مرحلة من مراحل البحث الإحصائي وتتلخص



الملاحظة في القيام بجمع المعلومات الإحصائية اللازمة لاتخاذ أي قرار. وتجري الملاحظة طوال الوقت أو عقب حدوث الظاهرة مثل تسجيل المواليد والوفيات والزيجات وحالات الطلاق ولكي يكون تسجيل الملاحظات مضبوطاً ودقيقاً يجب أن تتوفر مجموعة من الشروط مثل :

١ - يجب أن يتم التسجيل في الوقت المناسب فيسجل الحدث أو الظاهرة التي حدثت فور حدوثها حتى لا يمر وقت طويل بين وقوع الظاهرة وبين تسجيل الملاحظة المختصة بها إذ يترتب على عدم توفر هذا الشرط تسجيل ملاحظات غير دقيقة .

٢ - يجب إلزام الأفراد الذين تتوفر لديهم البيانات أو تحدث بينهم الظاهرة بتسجيل هذه البيانات فمثلاً يجب على الأباء أن يقوموا بتسجيل مواليدهم الجدد فور حدوث ذلك .

٣ - يجب توفر مراكز تسجيل هذه الأحداث في جميع أرجاء البلاد لتوفير وتسهيل عملية التسجيل على المواطنين .

وهناك نوعان من الملاحظة : الملاحظة المقصودة العلمية والملاحظة غير المقصودة الطارئة أو العابرة وأوجه الاختلاف بين هذين النوعين من الملاحظة يتمثل فيما يلي :

١ - تستخدم في الملاحظة العلمية المقصودة الأجهزة والأدوات العلمية كتلك التي تستخدم في ملاحظة سلوك الأطفال أو في تقييم برامج محو الأمية . والجهاز المستخدم في الملاحظة وشائع في مثل هذه الحالة هو الشاشة ذات الوجه الواحد هذا في حين أن الملاحظة غير المقصودة لا تستخدم فيها أجهزة أو أدوات .

٢ - في الملاحظة العلمية يحدد الباحث هدفه منذ البداية ويحدد أيضاً

البيانات والمعلومات التي يرغب في القيام بجمعها أما في الملاحظة غير المقصودة فهي تكون ملاحظة عابرة .

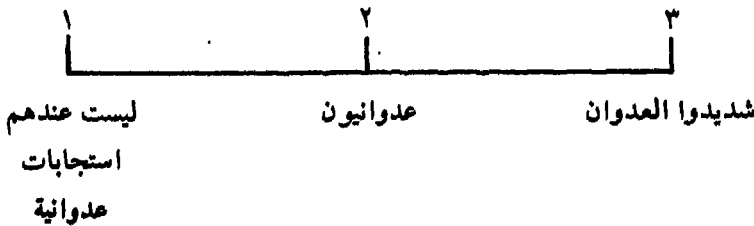
٣ - تسير الملاحظة العلمية على مدى خطوات محددة ومعروفة منذ البداية تتضمن جمع دقائق وتفاصيل الحدث .

٤ - يقوم الباحث في الملاحظة العلمية - كما سبق أن بينا - بتدوين ملاحظاته أولاً بأول حتى لا تتأثر البيانات بعامل النسيان .

ويضاف لهذين النوعين من الملاحظة (المقصودة أي العلمية وغير المقصودة أي العابرة) نوع ثالث من الملاحظة يستخدم في جمع البيانات تسمى بالملاحظة الميدانية وهي الملاحظة التي يستخدمها الباحث لمعرفة تقاليد وقيم وعادات وطرق التربية في الأسر المختلفة ، حيث ينتقل الباحث بنفسه إلى هذه الأسر ويقوم بتسجيل ملاحظاته في البيئة نفسها .

والباحث في دراسته الميدانية يعتمد على الملاحظة أي ملاحظة سلوك الأفراد أو الجماعة التي يقوم بدراستها في المجال الذي يعيش فيه هؤلاء الأفراد أو تلك الجماعة . والباحث في هذه الحالة قد يستخدم ميزاناً لتقدير Rating Scale ملاحظاته Observations . فإذا أراد مثلاً دراسة السلوك العدوانى لدى مجموعة من الأطفال فإنه يستخدم الميزان الآتى :

التعليمات : ضع علامة / تحت الصفة التي ترى أنها تنطبق على الطفل :



وهو يستطيع من خلال هذا الميزان أن يحول الأوصاف اللفظية (ليست عندهم استجابات عدوانية - عدوانيون - شديدوا العدوان) إلى أرقام وقيم كمية (١ - ٢ - ٣) يمكن إخضاعها للمعالجات والتحليلات الإحصائية .

#### ج- الوسائل الموضوعية :

كاختبارات الذكاء والشخصية وليس مجال الكلام عنها هنا .

#### ٤ - مصادر جمع البيانات :

يتفق جميع الباحثون والإحصائيون على أن هناك مصدران أساسيان يستخدمان في جمع البيانات الخاصة بأي بحث من البحوث وهما :

أ - المصدر التاريخي .

ب - المصدر الميداني .

#### أ - المصدر التاريخي :

وتنقسم المصادر التاريخية إلى قسمين القسم الأول يطلق عليه اسم المصادر الأولية، والقسم الثاني يطلق عليه اسم المصادر الثانوية، وتتمثل المصادر الأولية في المصادر التي تقوم بنشرها نفس الهيئة التي قامت بجمع البيانات وأشرفت على هذا الجمع . أما المصادر الثانية فهي نفس البيانات السابقة المجموعة عن المصادر الأولية لكن قامت بعرضها هيئة أخرى غير التي قامت بجمعها، وكان يتم كذلك عرض هذه البيانات في أحد الكتب أو المؤلفات العلمية أو المجلات أو الدوريات أو الاستشهاد بها في الأبحاث .

#### ب - المصدر الميداني :

ويقوم فيه الباحث بإجراء بحثه في الميدان الذي تتم فيه الظاهرة أو الذي يحدث فيه الحدث، ويلجأ الباحث لذلك عندما لا تفيد المصادر

التاريخية في الحصول على البيانات الخاصة بموضوع البحث أو حين لا تكفي هذه البيانات بالغرض الذي يهدف إليه البحث .

٥ - الشروط الواجب مراعاتها في جمع البيانات :

يراعى في جمع البيانات عدة شروط منها :

أ - دقة جمع البيانات :

١ - يجب على الباحث أن يتأكد من أن العينة التي تم جمع البيانات عنها قد تم اختيارها طبقاً للشروط والقواعد المعمول بها في اختيار العينات .

٢ - على الباحث أيضاً أن يتأكد من دقة عملية المراجعة التي أجراها المختصون على المعلومات التي تم جمعها وخاصة ما يتعلق بالجدولة والطبع وعمل الرموز اللازمة .

٣ - تأكد الباحث من توفر شروط إعداد الاستمارة ومن صحة صياغة الأسئلة الموجهة للمبحوثين .

٤ - التأكد من عدم تحيز الأسئلة .

٥ - التأكد من تدريب جامعي البيانات تدريباً كافياً .

٦ - عند استخدام المصادر الثانوية يجب التأكد من مطابقتها للمصادر الأولية وعدم وجود أخطاء أو تغيير بها .

ب - مراجعة البيانات :

لكي يتوفر إجراء البحث في ظروف سليمة ومضبوطة وعلمية لا بد من القيام بعمل مراجعة للبيانات التي تم جمعها . ويتم ذلك على النحو الآتي :

١ - تتم مراجعة الإجابات الخاصة بالمبحوثين وذلك لاستكمال الإجابات

- على الأسئلة التي نسي المبحوث الإجابة عليها وذلك بإعادة الاستمارة إليه لملئها مرة ثانية .
- ٢ - اكتشاف ما في البيانات من أخطاء غير متعمدة مثل عمر المفحوص والذي يتم معرفة صحته بطرح تاريخ الميلاد من تاريخ الاختبار .
- ٣ - عمل الإجراءات أو العمليات الحسابية المطلوبة والتي لا يمكن تكليف المبحوث القيام بها .
- ٤ - قد يؤجل الباحث القيام بملاً بعض البيانات أمام عينة البحث ولذلك لا بد من مراجعة الاستمارة لكتابة مثل هذه البيانات وذلك ليسهل عمل جداول معالجة بيانات البحث .
- ٥ - إذا كان سيتم معالجة البيانات عن طريق الحاسب الالكتروني فإنه يلزم عمل الإجراءات التي تسبق مثل هذه المعالجات فتراجع الاستمارة لإعطاء بياناتها المختلفة الرموز والعلامات الخاصة بذلك ليسهل على معدي برامج الكمبيوتر عمل التثقيب اللازم للكروت .
- ٦ - عينة البحث :

كلما استند الباحث في اختياره لعينة بحثه على الأسس العلمية السليمة في اختيار العينات كلما توصل لنتائج موضوعية تعكس بصورة واقعية المشكلة موضوع البحث وتشخص أبعادها تشخيصاً دقيقاً بحيث يمكن تقديم الحلول المفيدة . وبصورة عامه فإنه يقصد بالأساس العلمي أن تكون العينة التي سيتم إجراء البحث عليها مراعيأ فيها خصائص المجتمع الأصلي وبالنسب المتعارف عليها فيما يتعلق بكل خاصية من هذه الخصائص : كالسن بفتاته المختلفة، والجنس (ذكور- إناث)، ودرجة التعليم من أمي حتى التعليم العالي، والريف والحضر والأماكن القريبة والأماكن البعيدة، والمهن المختلفة .

## ٧ - استخدام الاستبيانات كأداة أساسية لجمع البيانات والمعلومات .

### أ - تصميم الاستبيان :

بعد أن يقوم الباحث بتحديد مفاهيم بحثه وبتحديد البيانات والمعلومات التي ستضمونها دراسته يعمل على إعداد استبيان يتكون من مجموعة من الأسئلة تدور حول هذه البيانات والمعلومات (كالعمر ودرجة التعليم والمستوى الاقتصادي الاجتماعي والحالة الزوجية والمسكن والملبس وأسباب الحوادث وأسباب الأمراض النفسية . . . إلخ) ويوجه هذه الأسئلة لأفراد عينته من المبحوثين .

وعملية القيام بتصميم الاستبيان تتطلب من القائم به دراية وخبرة بالعلوم التي تهتم بدراسة سلوك الإنسان كالتفكير والانفعال والاتجاهات والميلول وهذه العلوم هي : علم النفس وعلم الاجتماع وعلم النفس الاجتماعي والقياس النفسي . . . إلخ وبالإضافة لدراسته لتلك العلوم السابقة لا بد أن يتدرب في أحد الهيئات العلمية المعترف بها على القيام بإعداد وتصميم الاستبيان .

وفي إعداد الباحث للاستبيان لا بد أن يضع في اعتباره أن تكون صورة الاستبيان صادقة حتى تثير اهتمام المبحوث وتجذبه لملء البيانات مما يترتب على ذلك في نهاية الأمر تيسير مهمة الباحث نفسه . ويلجأ كثير من الباحثين إلى أن يرفقوا بالاستبيان قائمة بها تعليمات الاستبيان وتعريفاً بالموضوعات والمفاهيم التي تساعد الباحث والمبحوثين في نفس الوقت إلى ملء الاستمارة ملئاً صحيحاً دقيقاً . وقد تتضمن القائمة إلى جانب ما سبق ما يأتي من نواحي :

- ١ - الغرض من البحث .
- ٢ - الجوانب والموضوعات التي تتناولها الأسئلة .

٣ - الأفراد القائمون بجمع البيانات .

٤ - الباحثون المحللون لنتائج البحث .

٥ - تاريخ وفترة جمع البيانات .

ب - النواحي التي تراعى في تصميم الاستبيان .

١ - السهولة وعدم الغموض :

أي يجب أن تكون الألفاظ والكلمات والعبارات أو الجمل الموجودة في السؤال بسيطة وسهلة ومعروفة وليست غريبة أو غامضة بالنسبة للأفراد الذين يطبق عليهم البحث . وعلى سبيل المثال لا يجب أن تشتمل أسئلة الاستبيان الذي يطبق على مبحوثين يعيشون في المدينة على ألفاظ وكلمات شائعة في الريف كما أنه لا يجب كذلك أن تتضمن أسئلة الاستبيان الذي يطبق على مبحوثين يعيشون في الريف على كلمات وألفاظ شائعة في المدينة .

ومن الأسئلة الغامضة سؤال الباحث لأفراد عينة البحث عن رأيهم في وصول الأمريكان للمريخ؟ فإن الباحث في هذه الحالة سوف يجد في إجابات الأفراد عند تفريغها أن الإجابات ستكون عامة وعلى النحو الآتي :

هائل - رائع - جميل - عظيم - أحد أحداث التاريخ - اختراع من الاختراعات العلمية - تقدم علمي - نصر للأمريكان والمعسكر الغربي .

أما لو قدم الباحث وصاغ السؤال بصياغة محددة كأن يكون السؤال السابق على النحو الآتي :

«إن وصول الأمريكان للمريخ قد قلل من احتمال قيام الحرب - ما رأيك في هذا؟» .

أجب على السؤال السابق بوضع علامة ✓ صح أمام أحد العبارات الآتية التي تعبر عن رأيك؟

- (أ) موافق ( )  
(ب) غير موافق ( )  
(ج) محايد ( )

٢ - عدم التحيز :

أي يجب أن لا تتضمن أسئلة البحث عبارات أو ألفاظ من شأنها أن تجعل المجيب على السؤال متحيزاً عند إجابته عليها . كالسؤال الموجه للطلبة عن رأيهم في الامتحانات وإلغاء هذه الامتحانات وكالسؤال الموجه للمسلمين عن رأيهم في الإسلام والإجابة على السؤالين معروفة مسبقاً .

٣ - تجنب الأسئلة التي تؤدي للإيحاء :

وهي الأسئلة التي تتضمن في نفس الوقت الإجابة عليها كأن يوجه للمبحوثين السؤال الآتي :

« هل تريد العمل في العراق وهي البلد الشقيق؟ » .

أو « هل تغيبت عن العمل بسبب ذهابك للطبيب؟ » .

ويلاحظ على السؤالين السابقين أنهما لم يتيحاً للمبحوث سوى احتمال واحد للإجابة أي الإيحاء إليه بإجابة معينة ومن الأفضل أن تتعدد الاحتمالات لكي تتعدد بالتالي الإجابات . كذلك من المحتمل أن يتدخل الإيحاء في الأسئلة إذا وجهت للمبحوثين في فترة معينة من الزمن تكثر فيها حوادث الطائرات وكثرة عدد الموتى في هذه الحوادث فيوجه السؤال الآتي في الاستبيان :

« ما رأيك في السفر بالطائرات؟ » .



٤ - تجنب توجيه الأسئلة الحساسة التي تمس الحياة الخاصة للفرد:  
وهي تلك الأسئلة التي تدخل في صميم العلاقات الشخصية والاجتماعية للمبحوثين وتعتبر تدخلاً أو تطفلاً على هذه العلاقات. وهذه الأسئلة تتناول النواحي الآتية:  
العلاقات الجنسية - العلاقات النسائية - تعاطي المخدرات أو المسكرات - الأجرور والدخل.

ويمكن للباحث إعداد أسئلته بطريقة غير مباشرة لكي يستطيع المفحوص الإجابة عليها دون تكليف أو إحراج. كما يمكن أن يوجه أسئلته للمبحوث بعد أن تتم الألفة بينهما.

وإلى جانب النواحي السابقة هناك جوانب أخرى يجب أن تراعى عند عمل الاستبيان مثل: أن تكون أسئلة الاستبيان هي تلك الأسئلة الضرورية ويجب تجنب وجود أسئلة لا لزوم لها.

ج- مراجعة الاستبيان قبل التطبيق:

يراعى قبل الاستخدام النهائي للاستبيان ما يلي:

١ - مراجعة أسئلة الاستبيان قبل تطبيقها بإجرائها على مجموعة من المبحوثين تتفق في خصائصها ومواصفاتها مع أفراد البحث النهائي وذلك للتأكد من مناسبة الأسئلة واحتمال القيام بحذف أو إضافة أو توضيح بعض الأسئلة بعد هذه المراجعة.

٢ - مراجعة دراسة الباحثين للاستبيان دراسة شاملة بحيث يكونوا عارفين معرفة تامة بالتعليمات التفصيلية.

٣ - يجب على الباحثين أن يراجعوا صحة تسجيل البيانات في الاستبيان وذلك من ناحية شمول التسجيل لجميع البيانات المطلوبة ومن ناحية

اكتمال ملء بطاقة الاستبيان والصفحة الحاسوبية للتسجيل .

٤ - عند مراجعة الاستبيان لا يعرض تصحيح الأخطاء المكتشفة بتصحيح ما هو واضح أنه خطأ أو بواسطة إعادة التسجيل . ويتبين الخطأ عندما يكون أحد المبحوثين قد أجاب على السؤال الخاص بالحالة الزوجية في الخانة الخاصة بالعمر . أو عندما تكون وظيفة المبحوث مدرساً أو مهندساً ونجده قد وضع في خانة السن (٥) سنوات فقط ومن الواضح أن الرقم الصحيح هو (٥٠) عاماً وأن المبحوث قد نسي وضع الصفر . ومن الواضح أنه يترتب على عدم مراجعة الاستبيان إلى زيادة أو نقص المعلومات المسجلة على حد سواء .

د - تفريغ البيانات :

لا يمكن للباحث أو الدارس أن يفهم شيئاً من الاستبيانات قبل تفريغها لأنه بدون ذلك لن يتسنى له دراستها أو استخلاص النتائج أو تحليلها بالطرق الإحصائية المعروفة ، وتفسيرها من خلال الدراسات الاجتماعية والاقتصادية والنفسية .

ولذلك فلا بد من أن يقوم الباحث بتجميع هذه البيانات المتناثرة المختلفة في شكل كلي متكامل بحيث يستطيع الباحث بمجرد النظر إليها استخلاص الحقائق التي يهدف إليها أساساً من إجراء البحث .

ويقوم الباحثون عادة بعد مراجعتهم للاستمارة من جميع الزوايا وتأكدتهم من صحة ما جاء بها بتفريغ المعلومات الموجودة في الاستبيانات في جداول التفريغ الخاصة بذلك .

مثال : تضمنت أحد أسئلة استبيان من الاستبيانات هذا السؤال :

« كم عدد الأميين في القرية ؟ »

وتم توجيه هذا السؤال للمسؤولين في ٩٥ قرية من قرى مصر فكانت  
الإجابة على هذا السؤال في كل القرى هي تلك الأرقام:

|     |     |     |      |      |
|-----|-----|-----|------|------|
| ٢٠٤ | ٢٧٣ | ٢٠٣ | ٥٣٥  | ١٩٩  |
| ٢٧٠ | ١٨٣ | ١٧٨ | ٢٥٥  | ٣٩٩  |
| ٤١٧ | ٢٠٩ | ٢٧٨ | ٣٠٧  | ١٨٨  |
| ٢١٣ | ١٢٤ | ٢٥٥ | ١٨٧  | ٢١٩  |
| ٤٣١ | ١٥٢ | ٢٩٦ | ٢١   | ٢٦٨  |
| ٢٧١ | ١٧  | ٢٧٥ | ٢٢١  | ٩٨   |
| ٣٠٥ | ٢٤٩ | ٢٤٦ | ٣٢٦  | ١٠٤٩ |
| ٦٩٧ | ١٥٥ | ٥٤  | ٢٢٠  | ٧٧٥  |
| ٢١٦ | ١٢٧ | ١٦٣ | ٢٢١  | ١٥٦  |
| ٢٢٢ | ١٦٧ | ١٤٥ | ٣٠٠  | ٨٧   |
| ٢٠٧ | ٣٣  | ٥١  | ١٠٠  | ٣٠٧  |
| ١٥٢ | ١٨٨ | ١٧٦ | ٢١٦  | ١٣٩  |
| ٨٥  | ٢١٠ | ١٧٩ | ١٤٣  | ١٩٦  |
| ١١٠ | ٢٤٠ | ٢١٤ | ١٨٦  | ٢٢٠  |
| ٢٢٢ | ٢٣٦ | ١٥٨ | ٢٥٨  | ٤٤٧  |
| ٥٠٢ | ١٤٣ | ٢١١ | ١٣٣٢ | ٣٣٩  |
| ١٩٩ | ٣٩١ | ١٦٣ | ٢٤٦  | ٢٢٤  |
| ٥١٠ | ٢٢١ | ٢٥٣ | ٣٣٥  | ٢٠٤  |
| ٦٥٠ | ٤٤٤ | ٢٠٢ | ١١   | ٢٧٨  |

وواضح أنه على الرغم من قيام الباحث بتفريغ هذه البيانات من  
الاستبيان إلا أنه لا يكتمل فهم هذه الأرقام إلا بتجميعها ووضعها في جداول  
على شكل مجموعات وذلك على النحو الآتي:

| عدد القرى «التكرارات» | فئات عدد الأميين |
|-----------------------|------------------|
| ٩                     | ١٠٠ فما أقل      |
| ٢٦                    | من ١٠١ - ٢٠٠     |
| ٤٠                    | من ٢٠١ - ٣٠٠     |
| ٨                     | من ٣٠١ - ٤٠٠     |
| ٤                     | من ٤٠١ - ٥٠٠     |
| ٨                     | ٥٠١ فما فوق      |
| ٩٥                    | المجموع          |

## ثالثاً القيم وأنواعها

والباحث على النحو الذي رأيناه في الملاحظة (أرجع للملاحظة كوسيلة من وسائل جمع البيانات) يعطى لكل صفة من الصفات درجة من الدرجات فوجدناه يعطي لشدة العدوان ثلاث درجات، وللعنوان درجتان، وعدم وجود العدوان درجة واحدة، وهذه الدرجات في حد ذاتها تعتبر قيماً Values تخضع للمعالجة الإحصائية .

كما أن الباحث في الدراسات الميدانية أي الدراسات التي يعتمد فيها على مصادر ميدانية قد يستخدم أحد مقاييس الذكاء لو كان بصدد دراسة الفروق في مستوى الذكاء بين البنين والبنات مثلاً، أو قد يستخدم أحد الاختبارات التي تقيس سمات الشخصية مثل القلق Anxiety أو الاكتئاب Depression لو كان بصدد دراسة موضوع مثل العصاب Neuroses وعلاقته بالتوافق المهني في الصناعة . والباحث في كل هذه الأحوال يحصل على درجات كمية Quantative Score بالنسبة لكل فرد من الأفراد هي بمثابة درجات خام Raw score لأنها لم تخضع للتحليل الإحصائي Statistical analysis بعد، والذي سيتبين في الأجزاء القادمة من الكتاب، ففي حالة استخدام اختبار الذكاء يحصل الفرد على درجة تسمى نسبة الذكاء Intelligence quotient (I.Q.) وفي حالة اختبار الشخصية يحصل على درجة خام كما أسلفنا .

## ١ - القيم المتصلة :

وتسمى مثل هذه الدرجات التي تم الحصول عليها بالقيم أو الدرجات المتصلة Continuous V. أي الدرجات التي لا يوجد فاصل حاد بينها وبين بعضها البعض ، فلو طبقنا اختباراً على شخصين حصل أحدهما على ٥٠ درجة والثاني على ٥٥ درجة فإننا نتوقع أن يكون هناك اتصال بين الدرجتين على النحو الآتي :

(٥٠) ٥١ - ٥٢ - ٥٣ - ٥٤ - (٥٥) .

وليس ذلك فقط بل إننا نتوقع أيضاً أن يكون هناك اتصالاً بين كل درجة والدرجات الست الأخرى في المثال السابق فبين ٥٠ ، ٥١ يوجد ١ ، ٥٥ ، ٢ ، ٥٠ ، ٣ ، ٥٠ ، ٤ ، ٥٠ ، ٥ ، ٥٠ ، ٦ ، ٥٠ ، ٧ ، ٥٠ ، ٨ ، ٥٠ ، ٩ ، حتى ٥١ . وهكذا يتضح لنا الاتصال على النحو السابق بين كل درجة والأخرى . ونجد مثل هذا الاتصال ، بشكل أدق لو أردنا قياس السمات الفسيولوجية Physiological traits لدى الإنسان كالطول والوزن ودرجة الإبصار ، والسرعة في الجري . . . إلخ .

## ٢ - القيم المنفصلة :

إلا أنه ينبغي أن نعلم أن دراسة الظواهر المتعلقة بالإنسان وبظروفه الاقتصادية والاجتماعية والنفسية لا تتضمن باستمرار هذا البعد المتصل Continuous dimension . فهناك الكثير من الجوانب أو النواحي التي لا يمكن قياسها قياساً كميّاً على النحو السابق ونطلق على هذه النواحي أو الجوانب بالقيم المنفصلة Discrete V. أي أن كل جانب قائم بنفسه وبذاته ليس له صلة بباقي الجوانب أو النواحي . فإذا أراد باحث معرفة كل من الحالة التعليمية وتقديرات الكفاءة في العمل والحالة الاجتماعية لمجموعة من العمال يقوم بدراساتهم نفسياً أو اجتماعياً فإنه يجد توزيع هذه الجوانب على النحو التالي :

| وفي الكفاءة في العمل يجد التقديرات : | ففي الحالة التعليمية يجد هناك هذه القيم : |
|--------------------------------------|---|
| ممتاز                                | ١ - أمي : لا يقرأ ولا يكتب                |
| جيد جداً                             | ٢ - يقرأ ويكتب                            |
| جيد                                  | ٣ - إبتدائية                              |
| متوسط                                | ٤ - إعدادية                               |
| أقل من المتوسط                       | ٥ - ثانوية                                |
| ضعيف                                 | ٦ - جامعية                                |
|                                      | ٧ - شهادات عليا                           |

وليس ذلك فقط بالنسبة للحالة التعليمية والكفاءة في العمل بل فإنه يجد في بعض الفئات فئات أخرى ففي الثانوي يجد ثانوية عامة. وثانوية صناعية وثانوية تجارية . وكما هو واضح يوجد عدم اتصال بين كل فئة أخرى فلا يوجد بين الأمي والذي يقرأ ويكتب نصف أمي أو يقرأ ويكتب نص نص وهكذا . . .

كما أنه في مثال الحالة الاجتماعية نجد هذه الفئات :

- ١ - أعزب .
- ٢ - متزوج .
- ٣ - مطلق .
- ٤ - أرمل .

ويتضح لنا في ذلك المثال أيضاً الانفصال التام بين كل فئة والأخرى .

والخلاصة أن الباحث في مجال دراسته يجد نفسه بصدد نوعين من القيم : قيم متصلة وقيم منفصلة .

## التوزيع التكراري

١- توزيع القيم توزيعاً تكرارياً: يعتبر التوزيع التكراري Frequency distribution وسيلة لتجميع الدرجات المتقاربة في فئات أو تصنيفها في أقسام والتوزيع التكراري على هذا النحو يعطى صورة عن توزيع الصفة أو الظاهرة التي يقوم الباحث بدراستها والخصائص المختلفة التي تتميز بها.

ويوضح المثال الآتي هذا الكلام: قام باحث بدراسة للكشف عن القدرة على التذكر Remember لدى مجموعة من الأطفال عددهم خمسون طفلاً وكانت درجاتهم على النحو الآتي:

|     |    |    |    |     |
|-----|----|----|----|-----|
| ١٣  | ١٥ | ١١ | ٦  | ٨   |
| ٦   | ٣  | ٩  | ١٠ | ١٢  |
| ٨   | ١٨ | ١٨ | ٢٠ | ٦   |
| ١٧  | ٢  | ١٧ | ١٥ | ١٥  |
| ١٩  | ١٤ | ٩  | ١٧ | ١٤  |
| ٢١  | ١١ | ٥  | ٨  | ١٢  |
| ١٥  | ١٠ | ١٤ | ١١ | ١٩  |
| صفر | ٩  | ٦  | ١٣ | صفر |
| ١٢  | ١٧ | ١٧ | ١٦ | ٥   |
| ٧   | ١٢ | ١٦ | ١٠ | ١٩  |

والدرجات السابقة بصورتها تلك لا تصلح في تفسير أو دراسة موضوع التذكر، لدى الأطفال على النحو السابق أو في معرفة مدى ملائمة اختبار التذكر الذي استخدمه الباحث لمستوى أعمار الأطفال.

٢- الجدول التكراري: ولهذا يلجأ الباحث إلى وضع هذه القيم في



جدول تكراري يتضمن عدة فئات كل فئة تحوي الدرجات المتقاربة في قيمها. ويشبه الجدول التكراري الفراز الذي يقوم بوضع البرتقال في عدة صناديق حسب حجم البرتقال فيضع مثلاً البرتقال الصغير الحجم في الصندوق الأول والبرتقال المتوسط الحجم في الصندوق الثاني والبرتقال الكبير الحجم في الصندوق الثالث وهكذا. ويتضمن الجدول التكراري ثلاثة أعمدة: العمود الأول خاص بالفئات، والعمود الثاني خاص بالعلامات، والعمود الثالث خاص بالتكرارات. وتتضمن الفئة حدين: الحد الأعلى للفئة والحد الأدنى للفئة ويطلق على الفرق بينهما بمدى الفئة أي المسافة أو البعد Distance بين بداية ونهاية الفئة ومدى الفئة (أو طول الفئة).

مدى الفئة : الحد الأعلى للفئة - الحد الأدنى للفئة + ١

أو هي الفرق بين الحد الأدنى للفئة والحد الأدنى للفئة التي تليها. ونستطيع وضع الدرجات السابقة في جدول تكراري على هذا النحو متضمناً في أعمدته الثلاث: الفئات والعلامات والتكرارات:

| التكرار (ك) | العلامات            | الفئات |
|-------------|---------------------|--------|
| ٢           | //                  | صفر-١  |
| ٢           | //                  | ٢-٣    |
| ٢           | //                  | ٤-٥    |
| ٥           | ////                | ٦-٧    |
| ٦           | ////                | ٨-٩    |
| ٦           | ////                | ١٠-١٠  |
| ٦           | ////                | ١٢-١٣  |
| ٧           | ////                | ١٤-١٥  |
| ٧           | ////                | ١٦-١٧  |
| ٥           | ////                | ١٨-١٩  |
| ٢           | //                  | ٢٠-٢١  |
| ٥٠          | مجموع التكرارات مجك |        |

ويلاحظ أن الباحث في إعدادة للجدول التكراري عند استخدامه في توزيع الدرجات يتبع الخطوات الآتية:

١ - قام بتحديد أعلى قيمة وأدنى قيمة وأعلى قيمة في المثال السباق (٢١) ... وأدنى قيمة (صفرًا).

٢ - قام بعد ذلك بتصنيف الدرجات في مجموعة من الفئات كل فئة تشتمل على عدد من الدرجات المتقاربة في القيمة مع بعضها البعض.

٣ - قام في كل فئة بتحديد عدد الأطفال الذين يحصلون على درجات في اختبار التذكر على النحو الآتي:

- كم طفل يحصل على درجة ما بين صفر - ١ فئة أولى .
  - كم طفل يحصل على درجة ما بين ٢ - ٣ فئة ثانية .
  - كم طفل يحصل على درجة ما بين ٤ - ٥ فئة ثالثة .
  - كم طفل يحصل على درجة ما بين ٦ - ٧ فئة رابعة .
  - كم طفل يحصل على درجة ما بين ٨ - ٩ فئة خامسة .
  - كم طفل يحصل على درجة ما بين ١٠ - ١١ فئة سادسة .
  - كم طفل يحصل على درجة ما بين ١٢ - ١٣ فئة ثامنة .
  - كم طفل يحصل على درجة ما بين ١٤ - ١٥ فئة تاسعة .
  - كم طفل يحصل على درجة ما بين ١٦ - ١٧ فئة عاشرة .
  - كم طفل يحصل على درجة ما بين ١٨ - ١٩ فئة إحدى عشرة .
  - كم طفل يحصل على درجة ما بين ٢٠ - ٢١ فئة اثني عشرة .
- ويلاحظ أن لكل فئة حدين (بداية - ونهاية) . . .

مثلاً: الحد الأول من الفئة الأولى يبدأ من صفر وينتهي عند ١ واحد.  
ويمثل الجدول الآتي الحدود العليا والحدود الدنيا للفئات:

| الفئات    |           | ف     |
|-----------|-----------|-------|
| حدود دنيا | حدود عليا |       |
| ١         | صفر       | صفر - |
| ٣         | ٢         | - ٢   |
| ٥         | ٤         | - ٤   |
| ٧         | ٦         | - ٦   |
| ٩         | ٨         | - ٨   |
| ١١        | ١٠        | - ١٠  |
| ١٣        | ١٢        | - ١٢  |
| ١٥        | ١٤        | - ١٤  |
| ١٧        | ١٦        | - ١٦  |
| ١٩        | ١٨        | - ١٨  |
| ٢١        | ٢٠        | - ٢٠  |

٤ - عند تحديد عدد الأطفال في كل فئة يقوم الباحث بوضع علامة (/) لتعبر عن عدد الأطفال ، وكل علامة تشير لطفل واحد وعندما يصل عدد العلامات إلى أربعة كالأتي : //// ويضاف إليها علامة خامسة فإنها توضع على الأربع علامات على النحو الآتي : ///. وتسمى هذه المجموعة من العلامات بالحزمة وتشير إلى مجموعة من الأفراد عددهم خمسة . ويلجأ الباحث لذلك تسهيلاً لعملية العد للتكرارات في النهاية ومنعاً للوقوع في الخطأ .

٥ - يقوم الباحث بعد ذلك بترجمة هذه العلامات والحزم إلى أرقام لتوضع في العمود الأخير من الجدول التكراري وهو عمود التكرارات .

٦ - يتم جمع كل التكرارات الموجودة أمام الفئات ويجب أن يكون

مجموع التكرارات مساوياً لعدد الأشخاص (في مثالنا ٥٠ خمسين طفلاً).  
فإذا لم يكن مساوياً لعدد الأشخاص يقوم الباحث بمراجعة تصنيفه للدرجات  
مرة أخرى.

٧- ويتفق معظم الباحثين على إعطاء رمز ك للتكرارات ، مج ك  
لمجموع التكرارات ، ف للفئة ، ع للعلامات

٨- يحسب مركز الفئة بجمع الحد الأدنى للفئة الأولى مع الحد الأدنى  
للفئة الثانية ويتم قسمة حاصل الجمع على اثنين على النحو الآتي:

$$\text{مركز الفئة} = \frac{\text{الحد الأدنى للفئة الأولى} + \text{الحد الأدنى للفئة الثانية}}{٢}$$

٩- ويتضح فيما يلي مراكز الفئات في المثال السابق :

| مركز الفئة | حساب مركز الفئة                    | الفئة |
|------------|------------------------------------|-------|
| ١          | $= \frac{٢}{٢} = \frac{٢+٠}{٢}$    | صفر-  |
| ٣          | $= \frac{٦}{٢} = \frac{٤+٢}{٢}$    | - ٢   |
| ٥          | $= \frac{١٠}{٢} = \frac{٦+٤}{٢}$   | - ٤   |
| ٧          | $= \frac{١٤}{٢} = \frac{٨+٦}{٢}$   | - ٦   |
| ٩          | $= \frac{١٨}{٢} = \frac{١٠+٨}{٢}$  | - ٨   |
| ١١         | $= \frac{٢٢}{٢} = \frac{١٢+١٠}{٢}$ | - ١٠  |
| ١٣         | $= \frac{٢٦}{٢} = \frac{١٤+١٢}{٢}$ | - ١٢  |
| ١٥         | $= \frac{٣٠}{٢} = \frac{١٦+١٤}{٢}$ | - ١٤  |
| ١٧         | $= \frac{٣٤}{٢} = \frac{١٨+١٦}{٢}$ | - ١٦  |
| ١٩         | $= \frac{٣٨}{٢} = \frac{٢٠+١٨}{٢}$ | - ١٨  |
| ٢١         | $= \frac{٤٢}{٢} = \frac{٢٢+٢٠}{٢}$ | - ٢٠  |

١٠ - ويلاحظ في الفئة الأخيرة أنه قد تم جمعها مع الفئة المتوقع أن تكون بعدها (وإن لم يكن هناك درجة ٢٢ في المثال السابق) لحساب مركز هذه الفئة .

ولعله قد اتضح في الأذهان فائدة وقيمة توزيع الدرجات في جدول تكراري ففي المثال السابق تبين لنا هذه الحقائق :

١ - أن معظم الأطفال قد حصلوا على درجات متوسطة في اختبار التذكر. فنجد أن عددهم يزداد أمام الفئات ٦ ، ٨ ، ١٠ ، ١٢ ، ١٤ ، ١٧ أي أن عدد الأطفال الذين حصلوا على درجات بين ٦ - ١٧ يبلغ ٣٧ طفلاً .

٢ - أن مجموعة صغيرة من الأطفال قد حصلت على درجات منخفضة في الفئات صفر ، ٢ ، ٤ فيبلغ عددهم في هذه الفئات ٦ ستة أطفال وهم الأطفال الذين حصلوا على درجات بين صفر - ٥ .

٣ - أن مجموعة صغيرة أيضاً منهم قد حصلت على درجات مرتفعة أو على أعلى الدرجات أمام الفئتين ١٨ ، ٢٠ ويبلغ عددهم سبعة أطفال وهم الأطفال الذين حصلوا على درجات بين ١٦ ، ٢١ .

وبهذا الشكل يتبين أن الجدول التكراري قد أعطي وصفاً لتوزيع درجات اختبار التذكر بين مجموعة من ٥٠ خمسين طفلاً كنا نعجز عن معرفته بدون ذلك .

٣- التكرار النسبي : لا يكتفي الباحث في وصفه لظاهرة من الظواهر بما توصل إليه من توزيعه للقيم الخاصة بها في الجدول التكراري . بل يحتاج إلى جانب ذلك أن يعرف نسبة كل تكرار مقابل لكل فئة إلى التكرار الكلي ويطلق على هذا التكرار بالتكرار النسبي .

$$\text{التكرار النسبي} = \frac{\text{تكرار الفئة}}{\text{مجموع التكرارات}}$$

٤ - التكرار المئوي: وإلى جانب التكرار النسبي يحتاج الباحث إلى معرفة التكرار المئوي أي النسبة المئوية لكل تكرار مقابل لكل فئة من الفئات المختلفة في الجدول. فإذا أراد الباحث مثلاً معرفة النسبة المئوية للأفراد الذين حصلوا على درجات ما بين ٨ - ٩ في الجدول السابق قام بقسمة عدد التكرارات المقابلة لفئة هذه الدرجات على مجموع التكرارات وضرب خارج القسمة  $\times 100$  على النحو الآتي:

$$\text{التكرار المئوي} = \frac{\text{تكرار الفئة}}{\text{مجموع التكرارات}} \times 100$$

وفي الفئة ٨ - في المثال السابق التكرار المئوي  $= \frac{6}{5} \times 100 = 12\%$

مثال:

فيما يلي أجور مجموعة من العمال بإحدى الشركات عددهم ٥٠ خمسين عاملاً:

|    |    |    |    |    |    |    |    |    |    |
|----|----|----|----|----|----|----|----|----|----|
| ١٩ | ١٨ | ٢٢ | ١٧ | ٢١ | ١٦ | ١١ | ٢٠ | ١٥ | ٢٣ |
| ٣٣ | ٢٩ | ٥٠ | ٢٨ | ٣١ | ٢٥ | ٣٧ | ١٠ | ٣٠ | ٥٥ |
| ٢٨ | ٣٢ | ١٧ | ٢٧ | ٢٤ | ٢٦ | ١٢ | ٤٦ | ٣٥ | ١٨ |
| ٣٤ | ٦٧ | ٥٢ | ٢١ | ٣٩ | ٢٠ | ٤١ | ٤٠ | ٢٦ | ٣٤ |
| ٢٢ | ١٦ | ٤٣ | ٤٧ | ١٦ | ٣٨ | ١٣ | ٤٥ | ٤٠ | ٦٢ |

ويتضح في الجدول الآتي التوزيع التكراري والتكرار النسبي والتكرار المئوي لهذه الأجور:

| التكرار النسبي | التكرار النسبي        | ك  | العلامات (ع) | فئات (ف) |
|----------------|-----------------------|----|--------------|----------|
| ٦%             | $0,06 = \frac{3}{50}$ | ٣  | ///          | - ١٠     |
| ١٨%            | $0,18 = \frac{9}{50}$ | ٩  | //////       | - ١٥     |
| ١٦%            | $0,16 = \frac{8}{50}$ | ٨  | //////       | - ٢٠     |
| ١٤%            | $0,14 = \frac{7}{50}$ | ٧  | ////         | - ٢٥     |
| ١٢%            | $0,12 = \frac{6}{50}$ | ٦  | ////         | - ٣٠     |
| ١٠%            | $0,10 = \frac{5}{50}$ | ٥  | ////         | - ٣٥     |
| ٨%             | $0,08 = \frac{4}{50}$ | ٤  | ////         | - ٤٠     |
| ٦%             | $0,06 = \frac{3}{50}$ | ٣  | ///          | - ٤٥     |
| ٤%             | $0,04 = \frac{2}{50}$ | ٢  | //           | - ٥٠     |
| ٢%             | $0,02 = \frac{1}{50}$ | ١  | /            | - ٥٥     |
| ٢%             | $0,02 = \frac{1}{50}$ | ١  | /            | - ٦٠     |
| ٢%             | $0,02 = \frac{1}{50}$ | ١  | /            | - ٦٥     |
| ١٠٠%           | مجموع نسبي = ١        | ٥٠ | مجموع        |          |

ويلاحظ في الجدول السابق ما يلي :

- ١ - أن مجموع مساوياً لعدد العمال (٥٠) مما يدل على دقة حساب التوزيع .
- ٢ - أن مجموع النسبي واحد صحيح .
- ٣ - أن مجموع ك المئوي مائة .
- ٤ - أضاف هذا الجدول بما تضمنه من بيانات جديدة عن التكرار النسبي والتكرار المئوي ملامح جديدة عما يريد الباحث دراسته تتمثل في :
  - أ - معرفة النسب المئوية للأفراد الذين يحصلون على درجة ما . فإذا أراد الباحث أن يعرف النسبة المئوية للأفراد الذين حصلوا على درجات عند الفئة ٣٥ وجد أن نسبتهم ٨٪ .
  - ب - يزيد من توضيح توزيع الأجور بين العمال . فيجيب الجدول



للباحث عن كثير من التساؤلات التي قد تتبادر إلى ذهنه مثل :

- ١ - ما هي النسبة المئوية للأفراد الذين يحصلون على أجور مرتفعة؟
- ٢ - ما هي النسبة المئوية للأفراد الذين يحصلون على أجور منخفضة؟
- ٣ - ما هي النسبة المئوية للأفراد الذين يحصلون على أجور متوسطة؟

وبطبيعة الحال فإن الإجابة على الأسئلة السابقة والتي توجد في الجدول توجه نظر المسؤولين بالشركة لمعرفة علاقة توزيع الأجور على النحو السابق بالكفاية الإنتاجية كالغياب عن العمل والتمارض والأداء في العمل والوقوع في الحوادث . بمعنى هل النسبة المئوية للأفراد الذين يحصلون على أجور منخفضة كثيري الغياب والتمارض؟ . فتقوم الشركة بتحسين أجورهم وحالتهم الاقتصادية للإقلال من غيابهم وتمارضهم . . . إلخ . وبذلك نكون قد جنينا فائدة تطبيقية من مجرد توزيع أجور العمال ومعرفة النسب والتكرارات المئوية لذلك التوزيع .

## التكرار المتجمع الصاعد والتكرار المتجمع النازل

١ - التكرار المتجمع الصاعد : يحتاج الباحث في كثير من الأحيان أن يحدد من خلال التوزيع التكراري نسبة عدد الأفراد الذين تقل درجاتهم أو تزيد عن حد معين .

وفي الحالة الأولى : أي عندما يريد الباحث معرفة نسبة عدد الأفراد الذين تقل درجاتهم عن حد معين فإنه في هذه الحالة يقوم بتحديد :

- أ - الحد الأعلى للفئة .
- ب - التكرار المتجمع الصاعد .
- ج - التكرار المتجمع الصاعد النسبي .

## د - التكرار المتجمع الصاعد المئوي .

وفيما يلي أحد الجداول التكرارية والتي تمثل درجات ٥٠ خمسين طالباً في اختبار الذكاء اللفظي Verbal Intelligence وقد وضع فيه الحد

| الفئات | التكرار | الحد الأعلى<br>للفئة | كمتجمع<br>صاعد | كمتجمع<br>صاعد نسبي | كمتجمع<br>صاعد مئوي |
|--------|---------|----------------------|----------------|---------------------|---------------------|
| ٤٣-٤٠  | ٢       | ٤٣,٥                 | ٢              | ٠,٠٤                | ٤                   |
| ٤٧-٤٤  | ١٥      | ٤٧,٥                 | ١٧             | ٠,٣٤                | ٣٤                  |
| ٥١-٤٨  | ٢٠      | ٥١,٥                 | ٣٧             | ٠,٧٤                | ٧٤                  |
| ٥٥-٥٢  | ٩       | ٥٥,٥                 | ٤٦             | ٠,٩٢                | ٩٢                  |
| ٥٩-٥٦  | ٤       | ٥٩,٥                 | ٥٠             | ١,٠٠                | ١٠٠                 |
| مج     | ٥٠      |                      |                |                     |                     |

الأعلى للفئة والتكرار المتجمع الصاعد والتكرار المتجمع الصاعد النسبي والتكرار المتجمع Cumulative الصاعد المئوي .

وسنقوم بتوضيح كل جزء من أجزاء هذا الجدول وكيفية الحصول عليه :

١ - بالنسبة للعمود الأول وهو عمود الفئات (ف) فقد سبق الكلام عنه وقد وضع به الحد الأدنى والحد الأعلى للفئة ليتسنى الحصول على الحد الأعلى للفئة (العمود الثالث) لمثل هذه التكرارات المتجمعة الصاعدة من خلالهما .

٢ - العمود الثاني وبه تكرارات الفئات .

٣ - العمود الثالث وبه الحد الأعلى للفئة وقد تم تحديد الحد الأعلى للفئة الأولى بإضافة نصف الفرق بين الحد الأعلى للفئة (وهو ٤٣) والحد

الأدنى للفتة الثانية (وهو ٤٤) إلى الحد الأعلى للفتة الأولى (٤٣) وينضح هذا الكلام فيما يلي:

$$\underline{٤٤ \text{ (الحد الأدنى للفتة الثانية) - ٤٣ \text{ (الحد الأعلى للفتة الأولى)}}$$

$$٤٣ + \begin{matrix} ٢ \\ ٠,٥ \end{matrix} = ٤٣,٥ = \text{(الحد الأعلى للفتة)}$$

وبعد حساب الحد الأعلى للفتة الأولى يسهل تحديد الحد الأعلى للفتات التالية وذلك بإضافة مدى الفتة (وهو هنا ٤) على الحد الأعلى للفتة الأولى فيصير الحد الأعلى للفتة الثانية ٤٧,٥. وللفتة الثالثة ٥١,٥ وللفتة الرابعة ٥٥,٥ وللفتة الأخيرة ٥٩,٥ كما هو واضح من الجدول.

٤ - العمود الرابع به التكرار المتجمع الصاعد (ك متجمع صاعد). وبحسب التكرار المتجمع الصاعد بوضع التكرار المقابل للفتة الأولى ليكون أول تكرار متجمع صاعد في العمود الرابع وهو هنا التكرار المتجمع الصاعد ٢ ويشير لعدد الأفراد الذين تقل درجاتهم عن ٤٣,٥، ثم يحسب التكرار المتجمع الصاعد للفتة الثانية بإضافة تكرارها إلى التكرار المتجمع للفتة الأولى. وهكذا يتم حساب التكرار المتجمع لباقي الفتات ويسير ذلك كما يلي:

| ك    | ك  | ف       |
|------|----|---------|
| ٢ ←  | ٢  | ٤٣ - ٤٠ |
| ١٧ ← | ١٥ | ٤٧ - ٤٤ |
| ٣٧ ← | ٢٠ | ٥١ - ٤٨ |
| ٤٦ ← | ٩  | ٥٥ - ٥٢ |
| ٥٠ ← | ٤  | ٥٩ - ٥٦ |

ويشير التكرار للتجمع الصاعد ١٧ لعدد الأفراد الذين تقل درجاتهم عن ٤٧,٥.

ويشير التكرار المتجمع الصاعد ٣٧ لعدد الأفراد الذين تقل درجاتهم عن ٥١,٥ .

ويشير التكرار المتجمع الصاعد ٤٦ لعدد الأفراد الذين تقل درجاتهم عن ٥٥,٥ .

ويشير التكرار المتجمع الصاعد ٥٠ لعدد الأفراد الذين تقل درجاتهم عن ٥٩,٥ وهكذا .

٥ - العمود الخامس وبه التكرار المتجمع الصاعد النسبي ويتم الحصول على هذا التكرار بقسمة التكرار المتجمع الصاعد لكل فئة على مجموع التكرارات . فمثلاً التكرار المتجمع الصاعد النسبي للفئة الأولى ٠,٠٤ , تم الحصول عليه كما يلي :

$\frac{3}{0.04} = 0.04$  ، والتكرار المتجمع الصاعد النسبي للفئة الثانية تم الحصول عليه كما يلي  $\frac{7}{0.14} = 0.04$  وهكذا .

٦ - العمود السادس وبه التكرار المتجمع الصاعد المثنوي ويتم الحصول على هذا التكرار بقسمة التكرار المتجمع الصاعد لكل فئة على مجموع التكرارات مضروباً في مائة . . . فمثلاً التكرار المتجمع الصاعد المثنوي للفئة الأولى يحسب كما يلي :

$$\frac{2}{0.04} = 100 \times \frac{2}{0.04}$$

وللفئة الثانية كما يلي :

$$\frac{17}{0.14} = 100 \times \frac{17}{0.14}$$

وهكذا باقي الفئات .

ويشير التكرار المتجمع الصاعد المثنوي للنسبة المئوية لعدد الأفراد الذين تقل درجاتهم عن الحد الأعلى للفئة (في العمود الثالث) فمثلاً التكرار

المتجمع المثوي للفئة الأولى وهو ٤ يشير إلى أن النسبة المثوية للأفراد الذين تقل درجاتهم عن ٤٣,٥ هي ٤٪ وهكذا. كما يشير التكرار النسبي لنسبة كل تكرار للتكرار الكلي.

٢ - التكرار المتجمع النازل: رأينا في الكلام عن التكرار المتجمع الصاعد كيفية الاستفادة منه في البحوث المختلفة وتركز تلك الاستفادة في معرفة عدد أو نسبة أو النسبة المثوية للأفراد الذين تقل درجاتهم عن حد معين. ويحتاج الباحث بالإضافة إلى ذلك معرفة عدد، أو نسبة، أو النسبة المثوية للأفراد الذين تزيد درجاتهم عن حد معين ويكون ذلك من خلال التكرار المتجمع النازل وفي هذه الحالة يقوم الباحث بتحديد:

- أ - الحد الأدنى للفئة .
- ب - التكرار المتجمع النازل .
- ج - التكرار المتجمع النازل النسبي .
- د - التكرار المتجمع النازل المثوي

وتطبيق هذا الكلام على الجدول التكرار السابق :

| التكرار المتجمع النازل المثوي | التكرار المتجمع النازل النسبي | التكرار المتجمع النازل | الحد الأدنى للفئة | ك  | ف     |
|-------------------------------|-------------------------------|------------------------|-------------------|----|-------|
| ١٠٠                           | ١,٠٠                          | ٥٠                     | ٣٩,٥              | ٢  | ٤٣-٤٠ |
| ٩٦                            | ٠,٩٦                          | ٤٨                     | ٤٣,٥              | ١٥ | ٤٧-٤٤ |
| ٦٦                            | ٠,٦٦                          | ٣٣                     | ٤٧,٥              | ٢٠ | ٥١-٤٨ |
| ٢٦                            | ٠,٢٦                          | ١٣                     | ٥١,٥              | ٩  | ٥٥-٥٢ |
| ٠٨                            | ٠,٨                           | ٤                      | ٥٥,٥              | ٤  | ٥٩-٥٦ |

ويتضمن الجدول التكراري للتكرار المتجمع النازل نفس الأعمدة الموجودة في التكرار المتجمع الصاعد مع اختلاف في التسمية. ونوضح فيما يلي كيفية الحصول على البيانات الموجودة في كل عمود من الأعمدة السابقة:

١ - العمود الأول وبه الفئات حدودها العليا والدنيا.

٢ - العمود الثاني وبه التكرارات.

٣ - العمود الثالث وبه الحد الأدنى للفئات ويحدد الحد الأدنى للفئة بطرح نصف الفرق بين الحد الأعلى للفئة الأولى والحد الأدنى للفئة الثانية من الحد الأدنى للفئة الأولى ويتم حساب ذلك كما يلي:

$$٤٤ \text{ أي الحد الأدنى للفئة الثانية} - ٤٣ \text{ أي الحد الأعلى للفئة الأولى} = ٤٠$$

$$\frac{٤٠}{٢} = ٢٠$$

الحد الأدنى للفئة الأولى = ٤٠ - ٢٠ = ٢٠

ومتى تم تحديد الحد الأدنى للفئة الأولى على النحو السابق فإنه يتم تحديد الحد الأدنى لكل فئة بإضافة مدى الفئة للحد الأدنى للفئة السابقة فيكون الحد الأدنى للفئة الثانية هو ٣٩,٥ + ٤ = ٤٣,٥، والحد الأدنى للفئة الثالثة.

$$\text{هو } ٤٣,٥ + ٤ = ٤٧,٥ \text{، الحد الأدنى للفئة الرابعة.}$$

$$\text{هو } ٤٧,٥ + ٤ = ٥١,٥ \text{، والحد الأدنى للفئة الأخيرة.}$$

$$\text{هو } ٥١,٥ + ٤ = ٥٥,٥.$$

٤ - العمود الرابع وهو الخاص بالتكرار المتجمع النازل. ويتم حساب التكرار المتجمع النازل ابتداء من الفئة الأخيرة. فيكون التكرار المتجمع النازل للفئة الأخيرة هو نفس التكرار الأصلي لهذه الفئة. والتكرار المتجمع للفئة التي تليها (٥٢ - ٥٥) يكون بإضافة التكرار المتجمع النازل

للفئة السابقة (٥٦ - ٥٩) وهو ٤ إلى التكرار الأصلي لهذه الفئة وهو ٩ فيكون التكرار المتجمع النازل لهذه الفئة ١٣ وهكذا باقي الفئات ممكن أن يسير على النحو السابق والنحو التالي :

| ك    | ك    | ف       |
|------|------|---------|
| ٥٠ ← | → ٢  | ٤٣ - ٤٠ |
| ٤٨ ← | → ١٥ | ٤٧ - ٤٤ |
| ٣٣ ← | → ٢٠ | ٥١ - ٤٨ |
| ١٣ ← | → ٩  | ٥٥ - ٥٢ |
| ٤ ←  | → ٤  | ٥٩ - ٥٦ |

٥ - والعمود الخامس ويشير إلى نسبة التكرار المتجمع النازل لكل فئة بالنسبة للتكرار الكلي ويحسب بقسمة هذا التكرار الكلي فمثلاً التكرار المتجمع النازل للفئة الأولى وهو ٥٠ نسبة إلى التكرار الكلي  $\frac{50}{100000} = 0.0005$  وهكذا ويتم حساب نسبة باقي التكرارات إلى التكرار الكلي .

٦ - العمود السادس ويشير إلى النسبة المئوية للتكرار المتجمع النازل في كل فئة ويحسب بقسمة هذا التكرار الكلي ثم يتم ضرب الناتج في مائة فمثلاً التكرار المتجمع النازل للفئة الأولى وهو ٥٠ يكون التكرار المتجمع النازل المئوي له  $\frac{50}{100} \times 100 = 50$  وهكذا يتم حساب باقي التكرارات .

## رابعاً توضيح المعلومات بالرسم

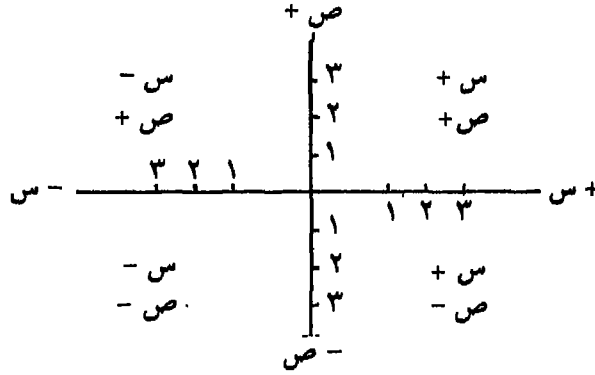
من خلال ما سبق عرضه عن الجدول التكراري تبين ما أضافه هذا الجدول من معرفة لم تكن في إمكاننا أو لدينا قبل إجراء هذا التوزيع . وبالإضافة لذلك نجد أن الباحث لا يكتفي بعرض المعلومات التي جمعها عن الظاهرة التي قام بدراستها في جدول تكراري بل يقسوم بتوضيح المعلومات باستخدام أسلوب آخر من أساليب التوضيح وهو الرسم . فالرسم يزيد من توضيح التوزيع أكثر من الاقتصار على الجدول التكراري وحده ، كما أن الرسم بالإضافة لذلك يعطي فكرة عامة عن توزيع القيم بمجرد النظر للرسم .

### محاوّر تمثيل المعلومات بالرسم

يستعمل في الرسم التوضيحي أو البياني محوران متعامدان وهما :  
المحور الأفقي ويطلق عليه المحور السيني .  
المحور الرأسي ويطلق عليه المحور الصادي .  
ويتضح هذان المحوران في الشكل رقم (١) الآتي :



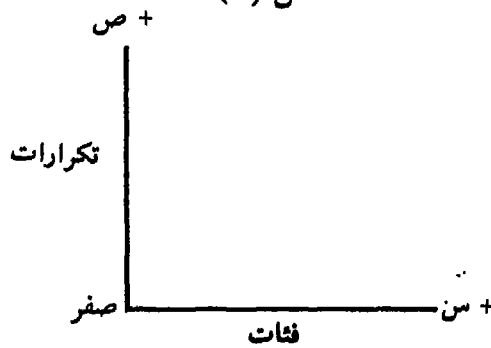
(شكل رقم ١)



ولكل محور من المحورين السابقين طرفين أحدهما سالب والآخر موجب. كما أن منطقة التقاء المحورين هي المنطقة الصفرية التي يبدأ عندها توزيع الدرجات سواء كان ذلك بصورة موجبة (الطرف الموجب) أو بصورة سالبة (الطرف السالب).

ونظراً لأن أغلب موضوعات هذا المنهج «مبادئ الإحصاء» تقوم على أساس استخدام متغير واحد فقط One Variable فإننا لن نحتاج في توضيح المعلومات بالرسم سوى لجزء واحد فقط من أجزاء الرسم السابق وهو الجزء س+، ص+ والذي يتمثل في الشكل رقم (٢)

شكل (٢)



ويتم وضع الفئات على المحور السيني، والتكرارات على المحور الصادي وفي العادة يكون تمثيل المعلومات بالرسم على ورق مربعات فتمثل كل فئة بواحد سنتيمتر، وكل تكرار بواحد سنتيمتر أيضاً، لكن ذلك يتغير حسب عدد الفئات وحسب أكبر تكرار في الجدول التكراري من جهة وحسب المساحة التي سيتم توضيح الرسم عليها من جهة أخرى.

## طرق توضيح المعلومات بالرسم

هناك عدة طرق يستخدمها الباحثون لتوضيح المعلومات والبيانات التي يحصلون عليها من بحوثهم وهذه الطرق هي:

- ١ - المضلع التكراري Frequency Polygon
- ٢ - المنحنى التكراري Frequency Curve
- ٣ - المدرج التكراري Frequency Histogram
- ٤ - المنحنى المتجمع الصاعد Ascending Cumulative Curve
- ٥ - المنحنى المتجمع النازل Descending Cumulative Curve
- ٦ - المنحنى الاعتدالي النموذجي Normal Distribution Curve

### ١ - المضلع التكراري

يستخدم نفس الأساس السابق الكلام عنه في رسم المضلع التكراري. ونورد فيما يلي مثلاً لدراسة أجراها أحد الباحثين على مجموعة من تلاميذ التدريب المهني عددهم ٥٠ تلميذاً مهنياً Apprenticeship بهدف قياس مهارة الأصابع Finger dexterity باختبار أوكونر Oconer لمهارة الأصابع:

|    |    |    |    |    |    |    |    |    |    |
|----|----|----|----|----|----|----|----|----|----|
| ٥٨ | ٥٤ | ٦٦ | ٥٧ | ٦٣ | ٦٢ | ٥٦ | ٦٧ | ٦٠ | ٥٥ |
| ٣٠ | ٥٩ | ٦٤ | ٣٢ | ٥٨ | ٥٧ | ٥٥ | ٦١ | ٢٦ | ٤٤ |
| ٦٩ | ١٦ | ٣٨ | ٢٢ | ٦٨ | ٣٧ | ٤٦ | ٥٣ | ٤٥ | ٤٥ |
| ٣١ | ٤٨ | ٦٠ | ٤٧ | ٦٥ | ٥٥ | ٣٦ | ٤١ | ٤٢ | ٣٥ |
| ٤٩ | ٥٤ | ١٢ | ٥٣ | ٢٧ | ٥٢ | ٤٠ | ٥٠ | ٤٣ | ٥٠ |

ويوضح الجدول الآتي توزيع هذه الدرجات والتكرار النسبي والتكرار المئوي لهذه الدرجات وذلك تمهيداً لرسم المصّلع التكراري.

| ك مئوي | ك نسبي                | ك  | ع          | ف   |
|--------|-----------------------|----|------------|-----|
| ٪٢     | $٠,٠٢ = \frac{١}{٥٠}$ | ١  | /          | -١٠ |
| ٪٢     | $٠,٠٢ = \frac{١}{٥٠}$ | ١  | /          | -١٥ |
| ٪٢     | $٠,٠٢ = \frac{١}{٥٠}$ | ١  | /          | -٢٠ |
| ٪٤     | $٠,٠٤ = \frac{٢}{٥٠}$ | ٢  | //         | -٢٥ |
| ٪٦     | $٠,٠٦ = \frac{٣}{٥٠}$ | ٣  | ///        | -٣٠ |
| ٪٨     | $٠,٠٨ = \frac{٤}{٥٠}$ | ٤  | ////       | -٣٥ |
| ٪١٠    | $٠,١٠ = \frac{٥}{٥٠}$ | ٥  | /////      | -٤٠ |
| ٪١٢    | $٠,١٢ = \frac{٦}{٥٠}$ | ٦  | 1/////     | -٤٥ |
| ٪١٤    | $٠,١٤ = \frac{٧}{٥٠}$ | ٧  | ///1/////  | -٥٠ |
| ٪١٨    | $٠,١٨ = \frac{٩}{٥٠}$ | ٩  | ////1///// | -٥٥ |
| ٪١٢    | $٠,١٢ = \frac{٦}{٥٠}$ | ٦  | 1/////     | -٦٠ |
| ٪١٠    | $٠,١٠ = \frac{٥}{٥٠}$ | ٥  | /////      | -٦٥ |
| ٪١٠٠   | ١,٠٠                  | ٥٠ | مجم        |     |

ولتمثيل المعلومات السابقة في الجدول بيانياً يقوم الباحث بتحديد  
النواحي الآتية :

١ - عدد الفئات وهي في المثال السابق ١٢ اثني عشر فئة .

٢ - أكبر تكرار في الجدول هو التكرار ٩ .

ويفيد تحديد هاتين الناحيتين في إعطاء كل فئة أو كل تكرار  
واحد سنتيمتر أو أكثر من ذلك . أو تمثيل كل تكرارين أو كل ثلاث تكرارات  
أو كل أربعة تكرارات أو كل خمس تكرارات بواحد سنتيمتر حسب المساحة  
الموجودة .

الشكل رقم (٣)



ويلاحظ أنه قد اتبع في رسم المضلع التكراري الخطوات الآتية :

١ - مثلت الفئات على المحور السيني (ف) والتكرارات على المحور

الأفقي (ك) .

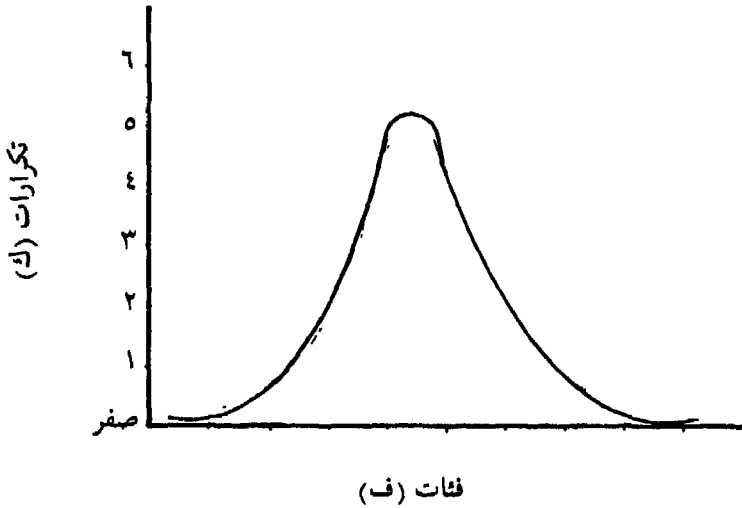
- ٢ - مثلت كل فئة بواحد سنتيمتر وكل تكرار بواحد سنتيمتر أيضاً .
- ٣ - وضعت نقطة حولها دائرة فوق منتصف الفئة (مركز الفئة) . وأمام التكرار المقابل لهذه الفئة . والسبب في وضع النقطة في مركز الفئة وليس فوقها مباشرة هو أن التكرار موزع على مدى الفئة كلها .
- ٤ - تم توصيل النقطة بعضها ببعض الآخر بخطوط مستقيمة ابتداء من الصفر، وتم إسقاط النقطة التي تعبر عن آخر تكرار على الفئة التالية للفئة ٦٥ - وهي الفئة ٧٠ - .

### أ - تعديل المضلع التكراري

#### Smoothing of Polygon

نجد في الشكل (٣) أنه لا يتمشى مع المنحنى الاعتدالي النموذجي Normal Distribution Curve أي المنحنى الذي يشبه الجرس تقريباً وفيه توجد الأغلبية في الوسط وأقلية في كل من الطرفين كما يتضح في الشكل (٤) التالي :

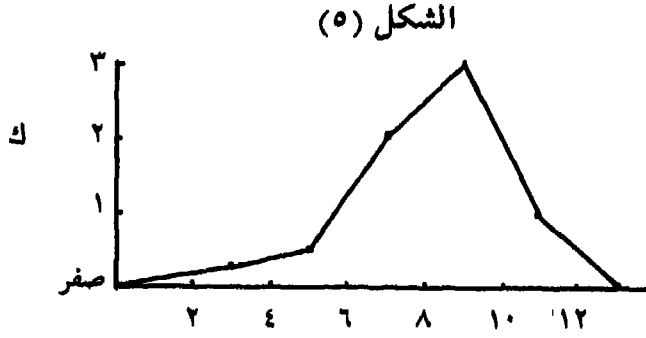
(شكل ٤)



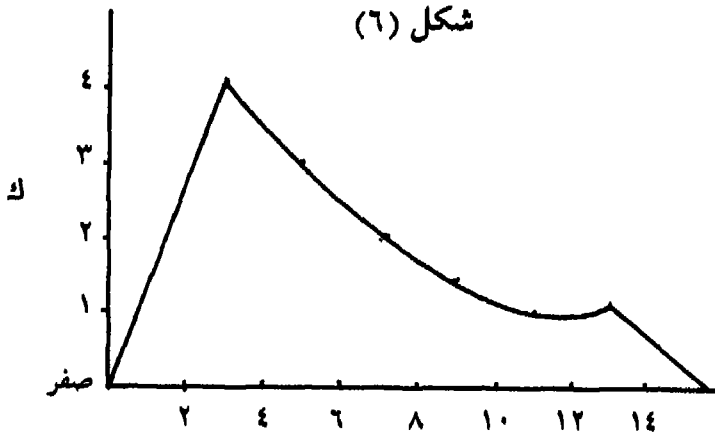
ب - أسباب عدم تطابق المصّلع مع المنحنى الاعْتدالي :  
وينشأ عدم تطابق، أو تقارب المصّلع التكراري (أو المنحنى المدرج التكراري) من المنحنى الاعْتدالي لعيوب في :  
أ - اختيار العينة Sample التي طبق عليها البحث .  
ب - الاختبار الذي طبق على أفراد العينة .  
ج - طبيعة توزيع الصفة أو السمة أو المهارة أو الاتجاه الذي يتم قياسه .

أ - العينة : فبالنسبة للعينة فمن المحتمل أن لا تكون ممثلة Representative تمثيلاً مناسباً للمجتمع الأصلي Population التي اختيرت منه ، ولعدم اتباع القواعد المعروفة في اختيار العينات ، أو لعدم استخدام أحد طرق الاختيار كالطريقة العشوائية Random sample حيث يتوفر فيها عدم التحيز Unbiased ، أو الطريقة المقيدة Controlled Sample والتي تكون فيها العينة مشروطة بشروط وبخصائص معينة ، أو بطريقة العينة الطباقية Stratified Sample.

ب - الاختبار: أما بالنسبة للاختبار فمن المحتمل أن لا يكون مناسباً لمستوى تعليم وأعمار أفراد العينة فإذا كان الاختبار أقل من مستوى أفراد العينة توقعنا أن يجيب عليه معظم الأفراد إجابات سليمة وقلة منهم هم الذين يفشلون في حل أسئلة الاختبار ويحصلون علي درجات منخفضة ويكون مصّلع (أو منحنى أو مدرج) توزيع الدرجات في هذه الحالة ملتويّاً نحو القيم الكبيرة ويوصف بأنه سالب الالتواء Negatively Skewod كما في الشكل (٥) .



أما إذ كان الاختبار أعلى من مستوى الأفراد (أي صعباً) فإننا نتوقع أن يحصل عدد قليل منهم على درجات مرتفعة وباقي الأفراد على درجات منخفضة ويكون مفضل توزيع الدرجات في هذه الحالة ملتويًا نحو القيم الصغيرة أي موجب الالتواء Positively Skewed كما في الشكل (٦).



جـ - طبيعة الصفة المقاسة : وقد ينشأ العيب في المفضل لأن طبيعة توزيع السمة المقاسة أو الاتجاه المقاس في المجتمع تسير في هذا الاتجاه وعلى هذا النحو. فلو قام باحث بقياس الذكاء لدى مجموعة من ضعاف العقول Mental Defective فإن النتيجة تكون على شكل توزيع تكراري موجب الالتواء كما في الشكل (٤) لأن معظمهم سيحصلون على درجات منخفضة في الذكاء.

## ج- استخدام المتوسطات المتحركة في تعديل المضلع .

وبناءً على ما سبق ، ونظراً لأن الباحث الذي يقوم بإجراء دراسة علمية تقابله كثير من الصعوبات والمعوقات التي تحول دون أن يقوم بضبط شروط وظروف بحثه أو تجربته ضبطاً تاماً ، وخاصة وأن موضوع الدراسة نفسه وهو الإنسان يتغير من حين لآخر، ويعيش في عالم متغير متحرك لا نستطيع أن نصفه بالثبات أو الجمود. لذلك يلجأ الباحث إلى عمل تسوية Smoothing للمضلع وهذه التسوية عبارة عن إجراء تعديل للتوزيع لعزل العيوب التي به من التواءات أو تعدد القمم Multimodal Curve والتي نتجت كما سبق أن قلنا من تدخل عوامل لم يستطع الباحث أو المجرب التغلب عليها أو ضبطها من البداية .

مثال لتعديل المضلع : أجرى باحث اختباراً لقياس القدرة على الفهم لدى مجموعة من الأفراد عددهم ٣٦ ستة وثلاثين فرداً فكانت درجاتهم كما يلي :

|    |    |    |   |    |    |    |   |    |
|----|----|----|---|----|----|----|---|----|
| ٩  | ١٠ | ٧  | ٦ | ١٣ | ١٤ | ١٥ | ٧ | ١٥ |
| ١٥ | ١٣ | ١٥ | ٥ | ١٣ | ٧  | ١١ | ٨ | ١٠ |
| ١٤ | ١٤ | ١٤ | ٣ | ١٥ | ٩  | ١١ | ٣ | ١١ |
| ١٥ | ١٥ | ١٣ | ٤ | ١١ | ١٠ | ١٣ | ٤ | ١٣ |

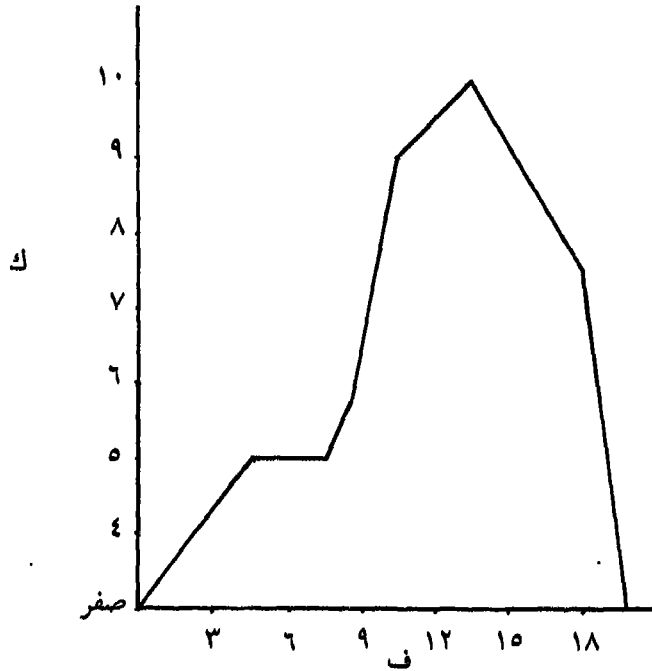
وأول ما نقوم بإجرائه هو توزيع القيم السابقة في جدول تكراري ، وذلك بتحديد أدنى قيمة وأعلى قيمة ، وأعلى قيمة هنا هي (١٥) وأدنى قيمة هي (٣) . ونحدد مدى للفئة بثلاثة . وبذلك يكون الجدول التكراري لتوزيع الدرجات السابقة كما يلي :



| ك  | ع        | ف   |
|----|----------|-----|
| ٥  | ///      | -٣  |
| ٥  | ///      | -٦  |
| ٩  | //// /// | -٩  |
| ١٠ | /// ///  | -١٢ |
| ٧  | /// ///  | -١٥ |
| ٣٦ | مجمك     |     |

فلو قمنا بتمثيل الجدول السابق باستخدام المضلع التكراري لوجدناه كما في الشكل الآتي (رقم ٧) ويلاحظ عليه وجود قمتان كما أنه ملتوي التواء موجباً.

شكل (٧)



والأسلوب المستخدم في عملية تعديل المضلع السابق يطلق عليه اسم المتوسطات المتحركة Runing or moving average وسنقوم بتطبيق عملية التعديل هذه على المثال السابق ثم نذكر بعدها مباشرة الخطوات التي سرنا عليها.

| ك بعد التعديل            | المتوسطات المتحركة                      | ك            | ف      |
|--------------------------|---|--------------|--------|
| $1,67 = 1,2 \frac{2}{3}$ | $= \frac{0}{3} = \frac{0 + 0 + 0}{3}$   | (صفر)<br>صفر | (صفر-) |
| $3,33 = 3 \frac{1}{3}$   | $= \frac{10}{3} = \frac{0 + 0 + 10}{3}$ | 0            | -3     |
| $6,33 = 6 \frac{1}{3}$   | $= \frac{19}{3} = \frac{0 + 0 + 19}{3}$ | 0            | -6     |
| $8 = 8,00$               | $= \frac{24}{3} = \frac{0 + 0 + 24}{3}$ | 9            | -9     |
| $8,67 = 8 \frac{2}{3}$   | $= \frac{26}{3} = \frac{7 + 9 + 10}{3}$ | 10           | -12    |
| $5,67 = 5 \frac{2}{3}$   | $= \frac{17}{3} = \frac{0 + 10 + 7}{3}$ | 7            | -15    |
| $2,33 = 2 \frac{1}{3}$   | $= \frac{7}{3} = \frac{0 + 7 + 0}{3}$   | صفر<br>(صفر) | (-18)  |
| 36                       |   | 36           | مج     |

### خطوات التعديل :

١ - تم عمل جدول تكراري تركت فيه خانتين في أعلاه وخانتين في أسفله (سطران في أعلى وسطران في أسفل الجدول).

٢ - افترض وجود فئة - في أول الفئات (صفر -) وفئة في نهاية الفئات (١٨ -) كما في العمود الأول من الجدول السابق .

وهذا الافتراض قائم على أساس تضمن العينة لأفراد حاصلين على درجات أدنى، وأفراد حاصلين على درجات أعلى مما في التوزيع الناتج عن الدراسة .

٣ - تم وضع تكرار قيمته صفرأ أمام كل فئة من الفئتين الفرضيتين السابقتين كما في العمود الثاني من الجدول السابق أيضاً .

٤ - وضع في بداية ونهاية الجدول تكرارين صفرين آخرين . التكرار الأول قبل تكرار الفئة الفرضية صفر- والتكرار الثاني بعد تكرار الفئة الفرضية -١٨

٥ - تم ابتداء من الفئة الفرضية الأولى (صفر -) جمع كل ثلاث تكرارات معاً وقسمة حاصل الجمع على ثلاثة وهو عدد التكرارات ويكون خارج القسمة وهو التكرار بعد التسوية فمثلاً في الفئة الأولى :

تم أخذ التكرار المقابل لها (صفر) والتكرار السابق (صفر) والتكرار التالي (٥) كما يلي :

$$\text{الفئة صفر -} = \frac{\text{صفر} + \text{صفر} + ٥}{٣} = \frac{٥}{٣} = ١ \frac{٢}{٣} = ١,٦٧$$

ومن الفئة ٣ - تم أخذ التكرار المقابل لها مباشرة (٥) والتكرار السابق (صفر) والتكرار التالي لها (٥) كما يلي :

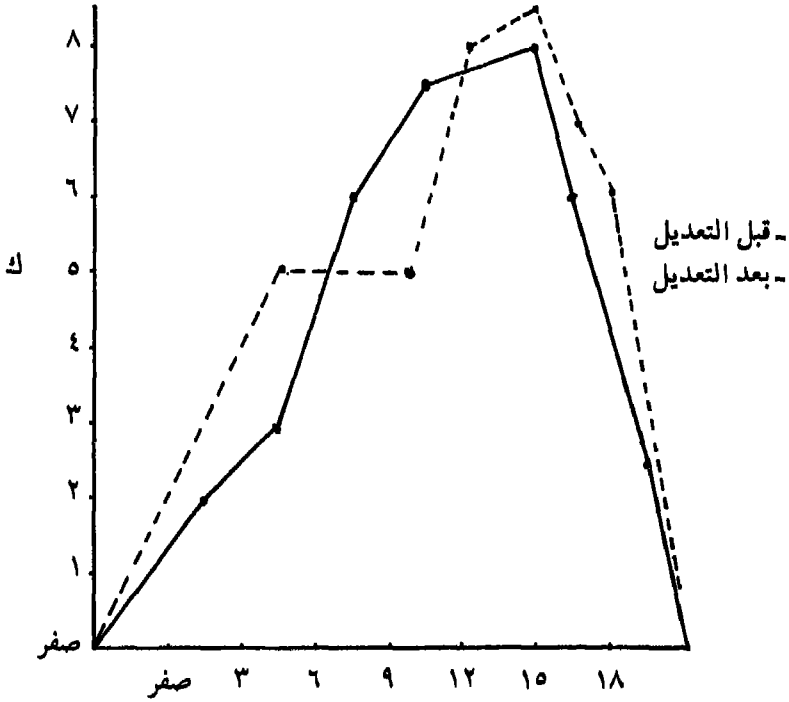
$$\text{الفئة ٣ -} = \frac{٥ + \text{صفر} + ٥}{٣} = \frac{١٠}{٣} = ٣ \frac{١}{٣} = ٣,٣٣$$

٦ - يلاحظ تحويل الكسر الاعتيادي إلى كسر عشري لسهولة التعامل عند جمع التكرارات بعد عملية التسوية . ويتفق عند عملية التحويل هذه أن

يساوي الثلث في خارج القسمة ٣٣, ٠ والثلاثين ٦٧, ٠ ليكملاً معاً واحد صحيح .  
 ٧ - ويلاحظ أيضاً أن يكون مجموع التكرار بعد التعديل مساوياً  
 للتكرار قبله ، ويتم التغاضي عن الفروق الصغيرة .

٨ - يُرسم المضلع التكراري للتكرارات قبل وبعد التعديل في شكل  
 واحد شكل رقم (٨) لنستطيع المقارنة بينهما في وقت واحد . ويلاحظ هنا أنه  
 لا بد من عمل حساب مسافات للفئتين الفرضيتين الفئة صفر - ، والفئة ١٨ - .

شكل (٨)



٩ - وهكذا يتبين من شكل (٨) أن المنحنى بعد التعديل قد تخلص من  
 كثير من العيوب الموجودة به كالتواء وتعدد القمم واقترب من المنحنى  
 الاعتمالي النموذجي .

## د - المقارنة بين توزيعين تكرارين باستخدام المضلع التكراري :

أحياناً يجري الباحث دراسته على أكثر من مجموعة مثل البنين ، والبنات ، والرجال ، والإناث . . . إلخ . ويحتاج لعقد المقارنات المختلفة بين كل مجموعة وأخرى للكشف عن طبيعة توزيع الدرجات في تلك المجموعات .

ويلجأ الباحث للتوصل إلى ذلك إلى الرسومات البيانية لتعطيه فكرة سريعة عن ذلك أي عن الفرق بين المجموعتين في توزيع الصفة . إلا أن عينات الباحث لا تكون جميعها متساوية العدد، فهل يعقد مقارنة بين مجموعتين أحدهما عددها ٥٠ خمسون طفلاً والأخرى عددها ٥٠٠ خمسمائة دون أن يجري أي معالجات على التوزيع التكراري لهما؟ وسواء كان ذلك في حالة اختلاف العدد في المجموعتين بين توزيعين تكرارين أم في حالة عدم اختلافه .

وسنرى فيما يلي مثالين للمقارنة بين توزيعين تكرارين في كل حالة من هذه الأحوال :

### ١ - المقارنة بين توزيعين في حالة عدم تساوي مجموع التكرارات :

أجرى باحث اختباراً للذكاء على مجموعتين من البنين والبنات وعدد البنين ٢٥ طالباً، وعدد البنات ٢٠ طالبة فكان توزيع الدرجات كما في الجدول الآتي :

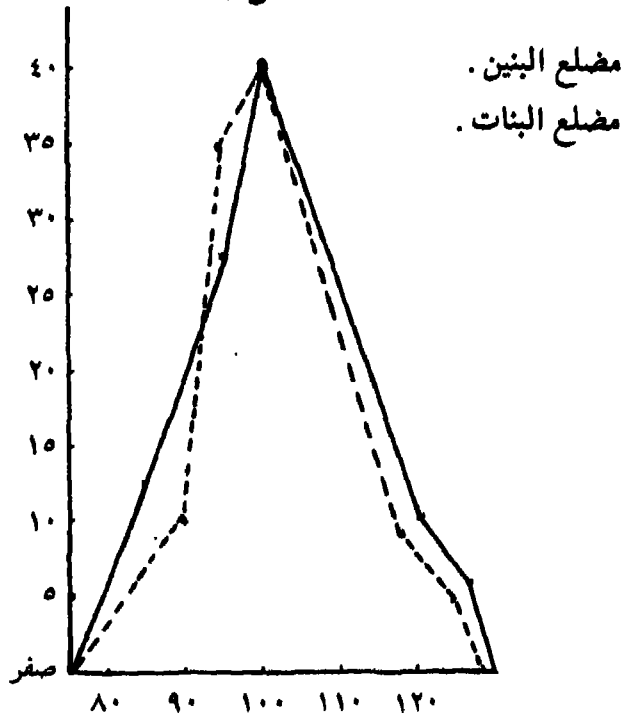
| المجموعة الأولى (بنين)          |    |      |
|---------------------------------|----|------|
| ك %                             | ك  | ف    |
| $12 = 100 \times \frac{3}{30}$  | 3  | -80  |
| $28 = 100 \times \frac{7}{30}$  | 7  | -90  |
| $40 = 100 \times \frac{10}{30}$ | 10 | -100 |
| $12 = 100 \times \frac{3}{30}$  | 3  | -110 |
| $8 = 100 \times \frac{2}{30}$   | 2  | -120 |
| مجمك % 100                      | 25 | مجمك |

| المجموعة الثانية (بنات)        |    |      |
|--------------------------------|----|------|
| ك %                            | ك  | ف    |
| $10 = 100 \times \frac{2}{20}$ | 2  | -10  |
| $35 = 100 \times \frac{7}{20}$ | 7  | -90  |
| $40 = 100 \times \frac{8}{20}$ | 8  | -100 |
| $40 = 100 \times \frac{2}{20}$ | 2  | -110 |
| $5 = 100 \times \frac{1}{20}$  | 1  | -120 |
| مجمك % 100                     | 20 | مجمك |

ويلاحظ أنه قد تم تحويل التكرارات في المجموعتين إلى تكرارات مئوية وذلك لكي يتم توحيد مجموع التكرارات فيهما وبعد ذلك تصبح المقارنة بالرسم بين المجموعتين ممكنة .

فيما يلي المصطلح التكراري لكل من المجموعتين في رسم واحد وهو الشكل (رقم ٩) ليسهل المقارنة بينهما .

شكل (٩)



٢ - المقارنة بين توزيعين في حالة تساوي مجموع التكرارات فيه .

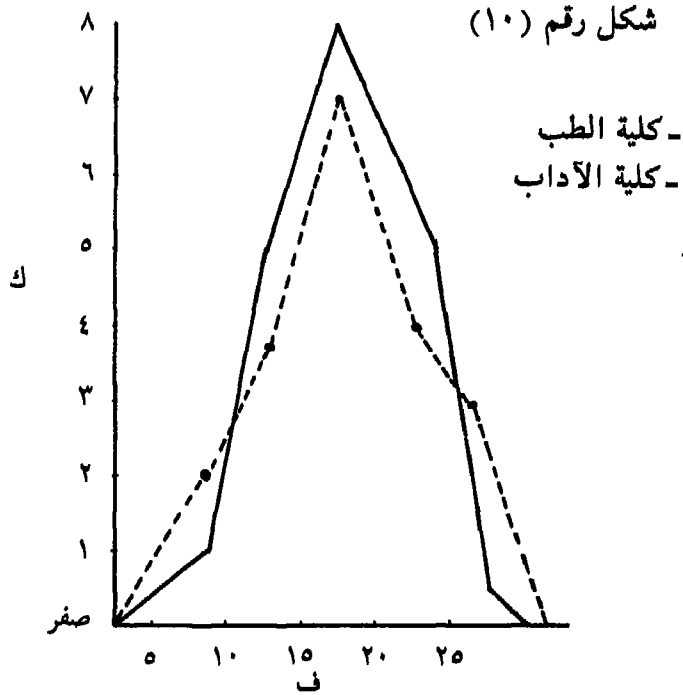
وفي الأحوال التي يجد الباحث نفسه إزاء عقد مقارنة بين مجموعتين متساويتين في مجموع التكرارات (أي في عدد أفراد العينة) فإنه لا يلجأ لتحويل التكرارات إلى تكرارات مثنوية كما في الحالة السابقة ، بل يقوم بعقد المقارنة بين المجموعتين ويستحسن أن يكون ذلك في رسم واحد لتسهيل عملية المقارنة .

ولتوضيح ذلك الكلام نضرب المثال الآتي :

ففي دراسة على مجموعتين متساويتين من طلبة الطب ، وطلبة كلية الآداب عن اتجاهاتهم نحو شعوب العالم قام الباحث بتوزيع القيم والدرجات التي حصل عليها الطلاب في الجدول التكراري الآتي :

| ف | - ٥ | - ١٠ | - ١٥ | - ٢٠ | - ٢٥ | مجمك |
|---|-----|------|------|------|------|------|
| ك | ١   | ٥    | ٨    | ٥    | ١    | ٢٠   |
| ك | ٢   | ٤    | ٧    | ٤    | ٣    | ٢٠   |

ويلاحظ من الجدول السابق أن مجموع التكرارات (مجمك) في كل من المجموعتين من الطلبة واحد وهو ٢٠ عشرون وكذلك - وكما سبق أن بينا - لا يلزم تحويل هذه التكرارات إلى تكرارات مئوية. ويبين الشكل (١٠) المقارنة بين المجموعتين باستخدام المضلع التكراري.



وفي حالة عدم اتفاق المجموعتين في الفئات أي يكون لكل مجموعة فئاتها الخاصة بها كأن يكون للمجموعة الأولى فئات مثل ٢، -٤، -٦، -٨، -١٠، وللمجموعة الثانية فئات مثل ٥، -١٠، -١٥، -٢٠، -٢٥.



فإنه لا يمكن المقارنة بينهما باستخدام مضعين في رسم واحد وذلك لأن لكل مجموعة فئات تختلف عن المجموعة الأخرى ويقتضي ذلك عمل مضع منفصل لكل منهما .

## ٢ - المنحنى التكراري

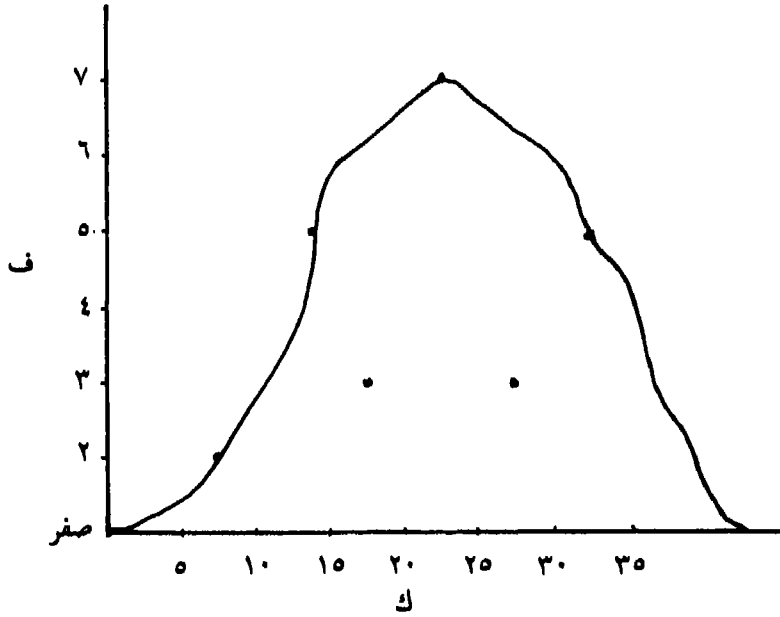
المنحنى التكراري أحد وسائل تمثيل المعلومات والبيانات بالرسم . ولا يختلف المنحنى التكراري عن المضع التكراري في طريقة رسمه إلا في حالة توصيل النقط الممثلة للتكرارات بعضها ببعض الأخر . ففي حين يقوم الباحث بتوصيل النقط بعضها ببعض مستخدماً القلم والمسطرة في حالة المضع التكراري ودون أن يترك أي نقطة من النقط فإنه في حالة المنحنى التكراري يقوم مستخدماً القلم فقط بتوصيل النقط القريبة بعضها ببعض متغاضياً عن النقط البعيدة سواء كانت مرتفعة أو منخفضة . وبطبيعة الحال فإن الخطوط التي يقوم الباحث باستخدامها لتوصيل النقط بعضها ببعض تأخذ شكلاً منحنياً . والهدف من رسم المنحنى التكراري على هذا النحو هو إعطاء شكل التوزيع على وجه العموم وليس بصورة تفصيلية .

وفيما يلي أحد التوزيعات التكرارية لدرجات ٢٥ طالباً في اختبار المفردات .

| ك  | ف     |
|----|-------|
| ٢  | ٥ -   |
| ٥  | ١٠ -  |
| ٣  | ١٥ -  |
| ٧  | ٢٠ -  |
| ٣  | ٢٥ -  |
| ٥  | ٣٠ -  |
| ٢٥ | مجموع |

والمنحنى التكراري الذي في الشكل (١١) التالي يمثل التوزيع السابق .

شكل رقم (١١)



ويلاحظ على المنحنى السابق أنه قد تم توصيل التكرارات المقابلة للفئات ٥- ، ١٠- ، ٢٠- ، ٣٠- ولم يتم توصيل التكرارات المقابلة للفئتين ١٥- ، ٢٥- نظراً لأنهما يمثلان نقاطاً منخفضة تؤثر في الشكل العام للمنحنى لو تم توصيلهما بباقي التكرارات .

تعديل المنحنى التكراري :

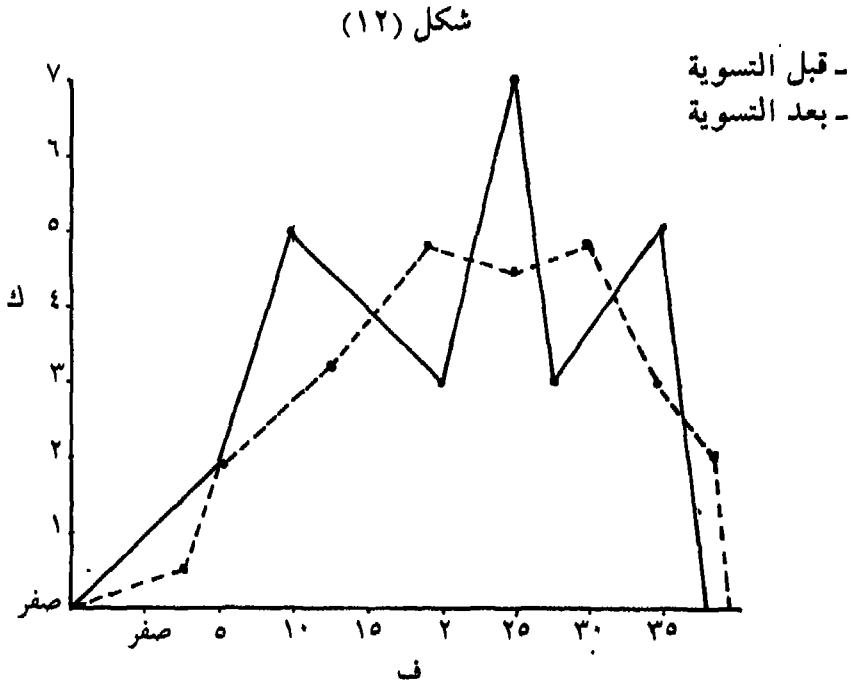
تتبع أيضاً نفس الطريقة التي اتبعت في تعديل المضلع التكراري أي باستخدام المتوسطات المتحركة .

وفيما يلي تعديل المثال السابق :

| ك بعد التعديل | التسوية بالمتوسطات المتحركة                             | ك     | ف       |
|---------------|---|-------|---------|
|               |   | (صفر) |         |
| ٠,٦٧          | $= \frac{٢}{٣} = \frac{٢ + \text{صفر} + \text{صفر}}{٣}$ | صفر   | (صفر -) |
| ٢,٣٣          | $= \frac{٧}{٣} = \frac{٥ + \text{صفر} + ٢}{٣}$          | ٢     | -٥      |
| ٣,٣٣          | $= \frac{١٠}{٣} = \frac{٣ + ٢ + ٥}{٣}$                  | ٥     | -١٠     |
| ٥,٠٠          | $= \frac{١٥}{٣} = \frac{٧ + ٥ + ٣}{٣}$                  | ٣     | -١٥     |
| ٤,٣٣          | $= \frac{١٣}{٣} = \frac{٣ + ٣ + ٧}{٣}$                  | ٧     | -٢٠     |
| ٥,٠٠          | $= \frac{١٠}{٣} = \frac{٥ + ٧ + ٣}{٣}$                  | ٣     | -٢٥     |
| ٢,٦٧          | $= \frac{٨}{٣} = \frac{\text{صفر} + ٣ + ٥}{٣}$          | ٥     | -٣٠     |
| ١,٦٧          | $= \frac{٥}{٣} = \frac{\text{صفر} + ٥ + \text{صفر}}{٣}$ | صفر   | (-٢٥)   |
|               |   | (صفر) | (صفر)   |
| ٢٥,٠٠         |   | ٢٥    | مجمك    |

ويلاحظ اتباع نفس القواعد التي سبق اتباعها في تعديل المضلع التكراري كما يلاحظ أن مجموع التكرارات بعد التعديل هو نفسه مجموع التكرارات قبل التعديل مما يشير إلى صحة ودقة عملية حساب التعديل باستخدام المتوسطات المتحركة.

وفيما يلي الشكل (١٢) الذي يمثل المنحنى التكراري للتوزيع السابق قبل وبعد التعديل .



ب - المقارنة بين توزيعين باستخدام المنحنى في حالة عدم تساوي مجموع التكرارات :

ويحدث أحياناً عدم تساوي مجموع التكرارات سواء أكان ذلك في المضلع أو المنحنى أو المدرج عندما يكون الباحث مثلاً بصدد إجراء دراسة عن الفروق بين الأطفال الريفيين والأطفال الحضريين Rural and urban Children في المعلومات العامة General Information (أحد اختبارات الذكاء الفرعية) . ولنفترض مثلاً أنه بدأ بدراسة الأطفال الريفيين وعددهم ٢٥ خمسة وعشرين طفلاً ثم قام بعد ذلك بدراسة الأطفال الحضريين ، فإن عليه عند القيام بدراسة هؤلاء الأطفال (الحضريين) أن يختارهم من نفس

مستوى العمر والتعليم والمستوى الاقتصادي الاجتماعي Socio-economic للأطفال الريفيين. وفي مثل هذه الأحوال لا يستطيع الباحث أن يجد عدداً من الأطفال الحضريين بنفس مستوى عمر وتعليم ومستوى اقتصادي الأطفال الريفيين. فيصبح لديه في نهاية الأمر ٢٥ طفلاً ريفياً، ٢٠ عشرين طفلاً حضرياً (من المدنيين) وعندما يطبق عليهم اختبار Test Scoring ٢٥ المعلومات العامة هذا يكون لديه بعد تصحيح الاختبار Raw Score هي درجات الأطفال خمسة وعشرين قيمة أو درجة خام ريفيين، ٢٠ عشرين قيمة أو درجة خام هي درجات الأطفال الحضريين. ويمثل الجدول التكراري الآتي توزيع درجات مجموعتين من الأطفال على اختبار المعلومات العامة.

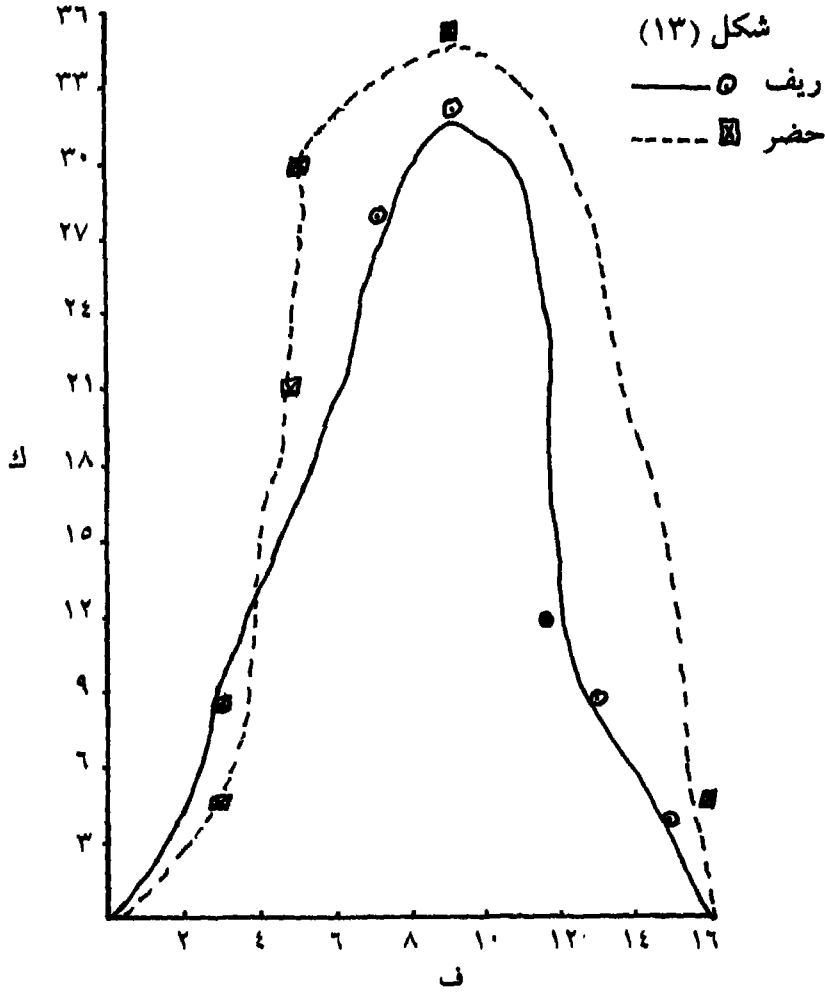
| تكرار الأطفال الحضريين | تكرار الأطفال الريفيين | ف    |
|------------------------|------------------------|------|
| ١                      | ٢                      | - ٢  |
| ٦                      | ٢                      | - ٤  |
| ٤                      | ٧                      | - ٦  |
| ٧                      | ٨                      | - ٨  |
| صفر                    | ٣                      | - ١٠ |
| ١                      | ٢                      | - ١٢ |
| ١                      | ١                      | - ١٤ |
| ٢٠                     | ٢٥                     | مجمك |

ولكي نستطيع المقارنة بين هاتين المجموعتين باستخدام المنحنى التكراري، نقوم أولاً بتحويل تكرار كل مجموعة لتكرارات مئوية وذلك لتوحيد مجموع التكرارات فيهما.

وفيما يلي الجدول الذي يمثل التكرارات الأصلية والتكرارات المئوية للمجموعتين:

| ف     | تكرارات الأطفال الريفيين | التكرارات المئوية للريفيين | تكرارات الأطفال الحضريين | التكرارات المئوية للحضريين |
|-------|--------------------------|----------------------------|--------------------------|----------------------------|
| - ٢   | ٢                        | ٨                          | ١                        | ٥                          |
| - ٤   | ١٢                       | ٨                          | ٦                        | ٣٠                         |
| - ٦   | ٧                        | ٢٨                         | ٤                        | ٢٠                         |
| - ٨   | ٨                        | ٣٧                         | ٧                        | ٣٥                         |
| - ١٠  | ٣                        | ١٢                         | صفر                      | ٠٠                         |
| - ١٢  | ٢                        | ٨                          | ١                        | ٥                          |
| - ١٤  | ١                        | ٤                          | ١                        | ٥                          |
| مجموع | ٢٥                       | ١٠٠                        | ٢٠                       | ١٠٠                        |

وفيما يلي المنحنى التكراري (شكل ١٣) الذي يمثل التوزيع التكرارين لمجموعتي الأطفال الريفيين والأطفال الحضريين والتكرارات الممثلة على المحور الصادي والتكرارات المئوية. وسنمثل كل اسم (واحد سنتيمتر) بخمس تكرارات.



ويلاحظ على هذا الرسم أن المنحنى الخاص بالأطفال الريفيين قد تغاضينا عند توصيل النقط الممثلة للتكرارات عن التكرارات المثوية المقابلة للفتات ٤ - ، ١٠ - وفي المنحنى الخاص بالأطفال الحضريين قد تغاضينا عند توصيل النقط الممثلة للتكرارات عن التكرارات المثوية المقابلة للفتات ٦ - ، ١٢ - ، وبالنسبة للأطفال الريفيين تغاضينا عن التكرارات المثوية المقابلة للفتات ٤ - ، ١٠ - . وليس خاف على أذهاننا أن تلك النقط الممثلة للتكرارات والتي تغاضينا عنها عند رسم المنحنى راجعة إلى عيوب تتمثل أما.

في الاختبار، أو في اختبار العينة، أو أنه راجع لطبيعة السمة نفسها. ولذلك فإنه من الممكن إجراء تسوية لهذه التكرارات المئوية.

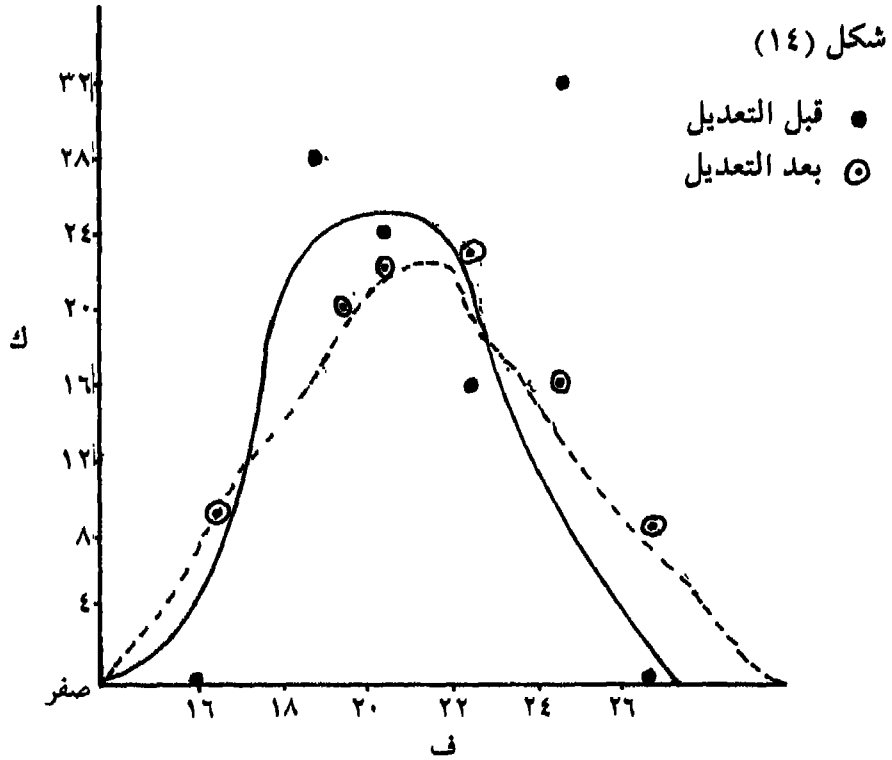
ج - تعديل التكرارات المئوية: كما سبق أن تبين في الفقرة السابقة من وجود عيوب في المنحنى التكراري المشوي كما يحدث في المنحنى التكراري (قبل تحويل تكراراته لتكرارات مئوية) وكما سبق أن تبين لنا أيضاً أنه في هذه الأحوال يتم عمل تعديل للمنحنى التكراري فإنه من الممكن أيضاً عمل تعديل للتكرارات المئوية وفيما يلي جدول تكراري يمثل توزيع أعمار ٢٥ طالباً من طلبة قسم العمارة بكلية الهندسة والتكرارات المئوية والمتوسطات المتحركة لهذه التكرارات المئوية.

| ك % بعد التعديل | متوسطات متحركة التعديل   | ك % مئوي | ك  | ف      |
|-----------------|--|----------|----|--------|
| ٩,٣٣            | $٩ \frac{1}{3} = \frac{٢٨ + \text{صفر} + \text{صفر}}{٣}$         | (صفر)    |    |        |
| ١٧,٣٣           | $١٧ \frac{1}{3} = \frac{٥٢}{٣} = \frac{٢٤ + \text{صفر} + ٢٨}{٣}$ | صفر      |    | (- ١٦) |
| ٢٢,٦٧           | $٢٢ \frac{2}{3} = \frac{٦٨}{٣} = \frac{١٦ + ٢٨ + ٢٤}{٣}$         | ٢٨       | ٧  | - ١٨   |
| ٢٤,٠٠           | $٢٤ = \frac{٧٢}{٣} = \frac{٣٢ + ٢٤ + ١٦}{٣}$                     | ٢٤       | ٦  | - ٢٠   |
| ١٦,٠٠           | $١٦ = \frac{٤٨}{٣} = \frac{\text{صفر} + ١٦ + ٢٢}{٣}$             | ١٦       | ٤  | - ٢٢   |
| ١٠,٦٧           | $١٠,٦٧ = \frac{٣٢}{٣} = \frac{\text{صفر} + ٣٢ + \text{صفر}}{٣}$  | ٣٢       | ٨  | - ٢٤   |
|                 |  | صفر      |    | (- ٢٦) |
|                 |  | (صفر)    |    |        |
| ١٠٠,٠٠          | مجمك مئوي بعد التسوية  | ١٠٠      | ٢٥ | مجمك   |

وفيما يلي المنحنى التكراري شكل (١٤) للتكرارات المئوية قبل وبعد

التعديل:





ويلاحظ في الرسم الموجود بشكل (١٤) أنه قد تم التغاضي عن التكرارات المقابلة للفئتين ١٨ - ، ٢٤ - عند رسم منحنى التكرارات المئوية قبل التسوية .

د - المقارنة بين توزيعين باستخدام المنحنى في حالة تساوي مجموع التكرارات :

يتم رسم المنحنى مباشرة دون تحويل التكرارات إلى تكرارات مئوية كما يمكن رسم منحنى التوزيعين معاً في رسم واحد إذا كانا متفقين في الفئات أي لهما نفس الفئات أما إذا كان كل توزيع له فئاته الخاصة به سواء من حيث المدى أو العدد فإنه من الضرورة عمل كل توزيع خاص . ويبين التوزيعين التكرارين التاليين توزيع درجات مجموعتين من عمال النسيج

على أحد اختبارات تمييز الألوان Color Discrimination Test وعدذ العمال  
في كل مجموعة ٤٠ عاملاً وهما مختلفان في عدد الفئات وفي مدى الفئة :

| ك  | ف    |
|----|------|
| ٢  | - ٣  |
| ١  | - ٦  |
| ١٥ | - ٩  |
| ١١ | - ١٢ |
| ١٠ | - ١٥ |
| ١  | - ١٨ |
| ٤٠ | مجمك |

| ك  | ف    |
|----|------|
| ١  | - ٥  |
| ١  | - ١٠ |
| ١٨ | - ١٥ |
| ١٥ | - ٢٠ |
| ٣  | - ٢٥ |
| ٣  | - ٣٠ |
| ٤٠ | مجمك |

ويتم رسم المنحنى التكراري لهاتين المجموعتين كما سبق أن ذكرنا  
كما أنه من الممكن عمل تسوية لتكرارات كل مجموعة باستخدام  
المتوسطات المتحركة .

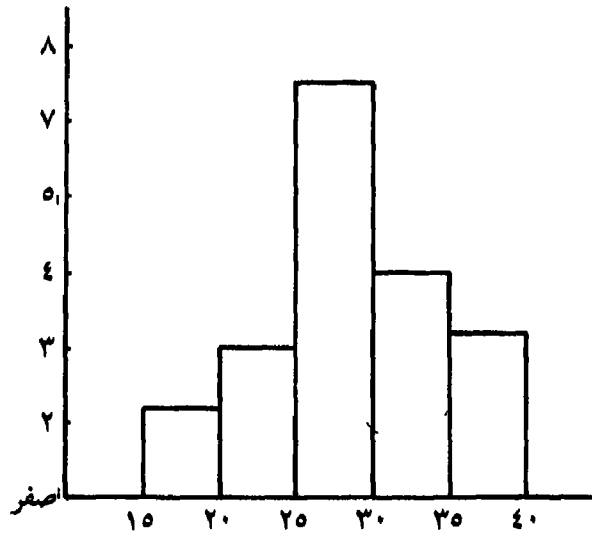
### ٣- المدرج التكراري

يختلف المدرج التكراري عن كل من المنحنى والمضلع التكراري في  
أنه في حين يكون تمثيل التكرار في كل من المنحنى والمضلع بنقطة في مركز  
الفئة فإنه في المدرج يمثل التكرار بمستطيل يرسم على الفئة كلها من بدايتها  
إلى نهايتها .

فيما يلي جدول تكراري لتوزيع مستوى الأداء في العمل لدى مجموعة  
من الموظفين الكتابيين Clerical Employess عددهم ٢٠ عشرين موظفاً :

| ك  | ف    |
|----|------|
| ٢  | - ١٥ |
| ٣  | - ٢٠ |
| ٨  | - ٢٥ |
| ٤  | - ٣٠ |
| ٣  | - ٣٥ |
| ٢٠ | مجمك |

شكل (١٥)



أ- تعديل المدرج التكراري: يتم التعديل (كما في المنحنى والمضلع) باستخدام المتوسطات المتحركة. وفيما يلي توزيع تكراري لدرجات مجموعة من الأحداث الجانحين عددهم ٢٠ جانحاً على اختبار الاكتتاب.

| ك  | ف    |
|----|------|
| ٢  | - ٣  |
| ٣  | - ٤  |
| ٢  | - ٦  |
| ٦  | - ٨  |
| ٢  | - ١٠ |
| ٥  | - ١٢ |
| ٢٠ | مجمك |

وواضح من التوزيع السابق وجود ثلاث قمم مرتفعة وقمتين منخفضتين أما القمم المرتفعة فهي التكرارات المقابلة للفئات ٤ - ، ٨ - ، ١٢ - .

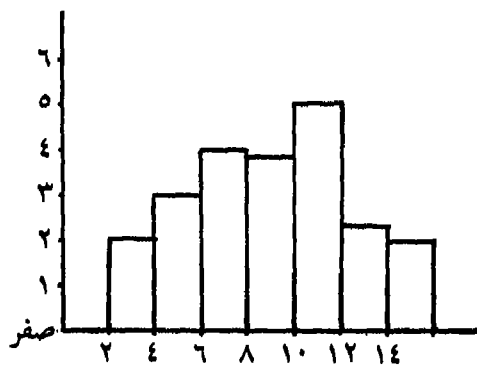
أما القمم المنخفضة فهي التكرارات المقابلة للفئات ٦ - ، ١٠ - .

ولما كانت هذه الارتفاعات والانخفاضات المتمثلة في التكرارات تمثل عيوباً في التوزيع راجع للعينة أو للاختبار... إلخ. يجب على الباحث عمل تسوية لها للتخلص منها. وفيما يلي تسوية لهذه التكرارات بالمتوسطات المتحركة:

| ك معدل | المتوسطات المتحركة   | ك          | ف      |
|--------|--|------------|--------|
| ٠, ٦٧  | $\frac{٢}{٣} = \frac{٢}{٣} = \frac{٢ + \text{صفر} + \text{صفر}}{٣}$  | (صفر)      | (صفر-) |
| ١, ٦٧  | $\frac{١٢}{٣} = \frac{٥}{٣} = \frac{٣ + \text{صفر} + ٢}{٣}$          | ٢          | -٢     |
| ٢, ٣٣  | $\frac{٢١}{٣} = \frac{٧}{٣} = \frac{٢ + ٢ + ٣}{٣}$                   | ٣          | -٤     |
| ٣, ٦٧  | $\frac{٣٢}{٣} = \frac{١١}{٣} = \frac{٦ + ٣ + ٢}{٣}$                  | ٢          | -٦     |
| ٣, ٣٣  | $\frac{٣١}{٣} = \frac{١٠}{٣} = \frac{٢ + ٢ + ٦}{٣}$                  | ٦          | =٨     |
| ٤, ٣٣  | $\frac{٤١}{٣} = \frac{١٣}{٣} = \frac{٥ + ٦ + ٢}{٣}$                  | ٢          | -١٠    |
| ٢, ٣٣  | $\frac{٢١}{٣} = \frac{٧}{٣} = \frac{\text{صفر} + ٢ + ٥}{٣}$          | ٥          | -١٢    |
| ١, ٦٧  | $\frac{١٢}{٣} = \frac{٥}{٣} = \frac{\text{صفر} + ٥ + \text{صفر}}{٣}$ | صفر<br>صفر | (-١٤)  |
| ٢٠, ٠٠ |  | ٢٠         | مجم    |

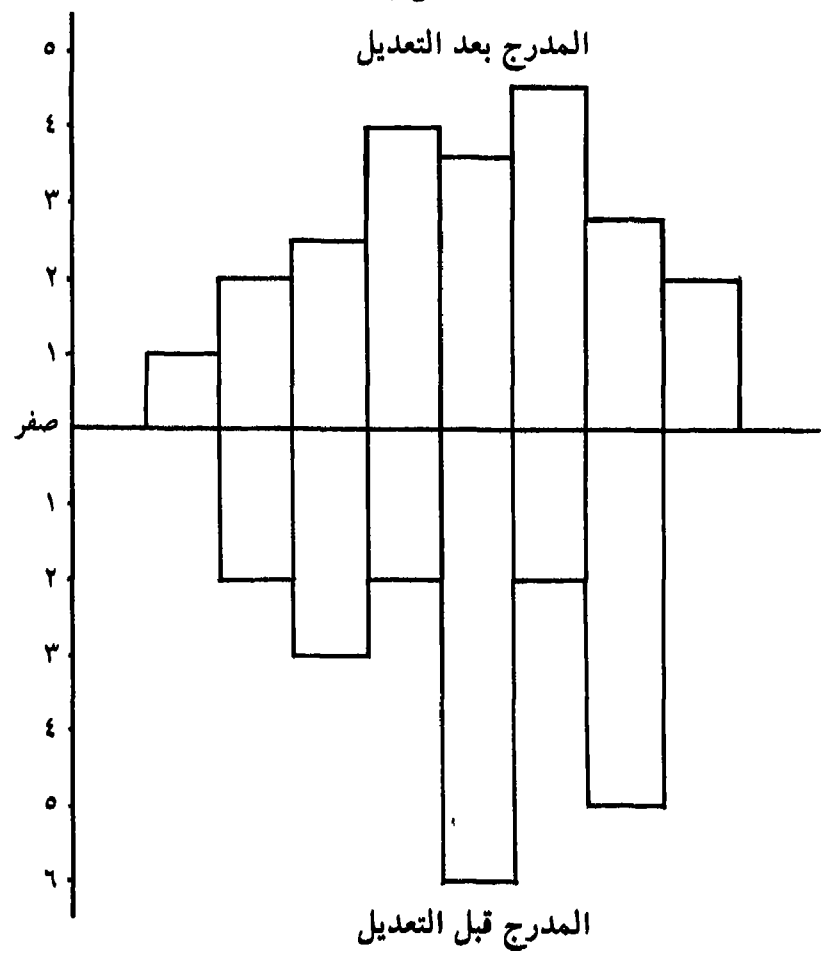
ويبين الرسم التالي المدرج التكراري بعد التعديل شكل (١٦):

شكل (١٦)



وفي حالة المدرج التكراري يكون من الصعب رسم المدرج قبل وبعد التسوية في رسم واحد إلا إذا استخدم الباحث في ذلك الألوان أو التظليل

شكل (١٧)



بلون للمدرج قبل التسوية وبلون آخر للمدرج بعد التسوية . ولذلك يقترح البعض أن يكون رسم المدرجين (قبل وبعد التسوية) في رسم واحد على أن يكون أحدهما في جهة والآخر في جهة ثانية ويوضح الرسم الذي في الشكل (١٧) ذلك الكلام .

ب - المقارنة بين توزيعين بالمدرج التكراري في حالة عدم تساوي التكراري .

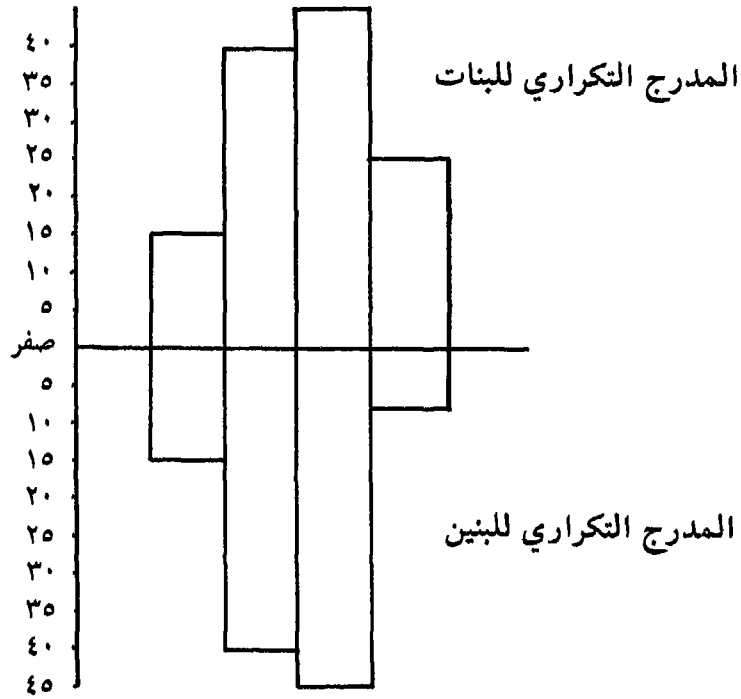
في هذه الحالة يتم تحويل التكرارات إلى تكرارات مثنوية وبعد ذلك يمكن المقارنة بين التوزيعين في رسم واحد كما في شكل (١٥) .

وفيما يلي توزيعين تكراريين لمجموعتين من الأطفال الذكور والإناث من حيث التعاون في مجال اللعب Cooperation وعدد مجموعة الذكور ٢٠ ومجموع الإناث ٢٥ .

| ف       | ك بنات | ك بنين | ك % بنات | ك % بنين |
|---------|--------|--------|----------|----------|
| ٥ -     | ٣      | ٢      | ١٢       | ١٠       |
| ١٠ -    | ٧      | ٩      | ٢٨       | ٤٥       |
| ١٥ -    | ١٠     | ٨      | ٤٠       | ٤٠       |
| ٢٠ -    | ٥      | ١      | ٢٠       | ٥        |
| المجموع | ٢٥     | ٢٠     | ١٠٠      | ١٠٠      |

وفيما يلي المدرجين التكراريين لتوزيع درجات البنين والبنات في السلوك التعاوني شكل (١٦) .

شكل (١٨)



ويلاحظ أننا في الرسم السابق شكل (١٨) قد مثلنا كل خمس تكرارات بواحد سنتيمتر.

جـ - المقارنة بين توزيعين بالمدرج التكراري في حالة تساوي التكرارات :  
 يتم مباشرة تمثيل التوزيعين في رسم واحد كما في الشكل (١٦) من التكرارات الأصلية .

#### ٤ - توضيح التكرار المتجمع الصاعد «بالرسم»

يمكن تمثيل التكرار المتجمع الصاعد في رسم بياني باستخدام المضلع أو المنحنى التكراري بحيث يشير المحور السيني للحدود العليا



للفئات ويشير المحور الرأسي للتكرار المتجمع الصاعد.

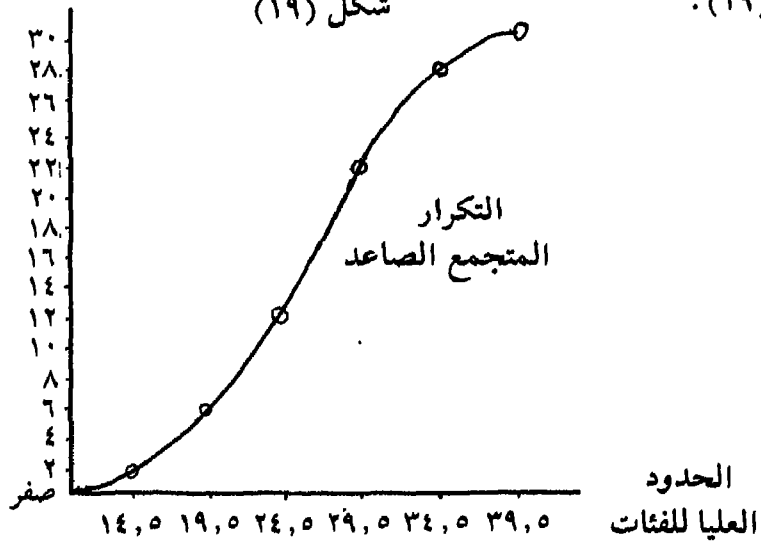
وفيما يلي أحد التوزيعات التكرارية التي توضح درجات مجموعة من الأناث على أحد الاختبارات السوسيومترية Sociometric Test

| ك  | الحدود العليا للفئات | ك  | ف       |
|----|----------------------|----|---------|
| ٢  | ١٤,٥                 | ٢  | ١٤ - ١٠ |
| ٦  | ١٩,٥                 | ٤  | ١٩ - ١٥ |
| ١٣ | ٢٤,٥                 | ٧  | ٢٤ - ٢٠ |
| ٢١ | ٢٩,٥                 | ٨  | ٢٩ - ٢٥ |
| ٢٧ | ٣٤,٥                 | ٦  | ٣٤ - ٣٠ |
| ٣٠ | ٣٩,٥                 | ٣  | ٣٩ - ٣٥ |
|    |                      | ٣٠ | المجموع |

ويوضح الشكل الآتي المضلع المتجمع الصاعد لهذا التوزيع شكل

شكل (١٩)

(١٩).



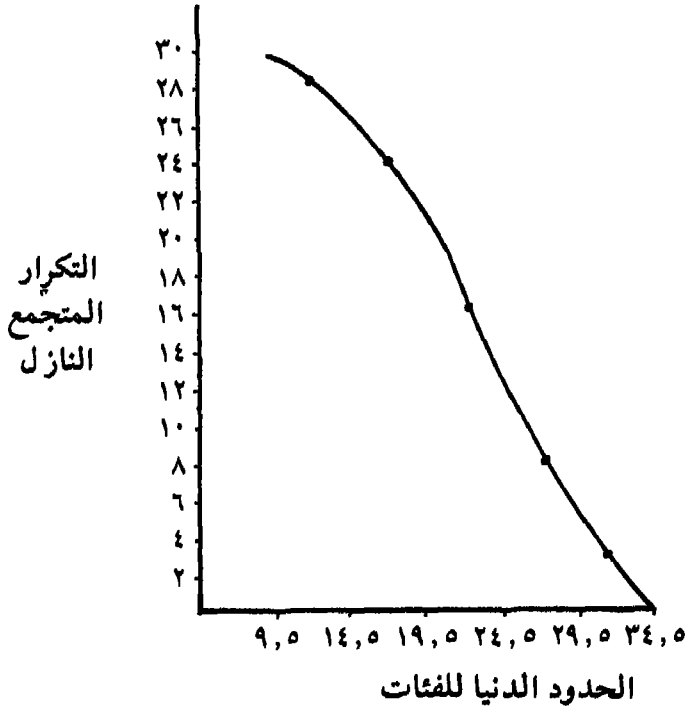
### ٥- توضيح التكرار المتجمع النازل «بالرسم»

ويمكن تمثيل التكرار المتجمع النازل أيضاً في رسم بياني باستخدام المضلع أو المنحنى التكراري. ويتم ذلك بعد حساب الحدود الدنيا للفتات وللتكرار المتجمع النازل. ويمثل الجدول التالي المتجمع النازل للمثال السابق (درجات مجموعة الأناث على الاختبار السوسيومترى).

| التكرار المتجمع النازل | الحدود الدنيا للفتات | ك  | ف       |
|------------------------|----------------------|----|---------|
| ٣٠                     | ٩,٥                  | ٢  | ١٤ - ١٠ |
| ٢٨                     | ١٤,٥                 | ٤  | ١٩ - ١٥ |
| ٢٤                     | ١٩,٥                 | ٧  | ٢٤ - ٢٠ |
| ١٧                     | ٢٤,٥                 | ٨  | ٢٩ - ٢٥ |
| ٩                      | ٢٩,٥                 | ٦  | ٣٤ - ٣٠ |
| ٣                      | ٣٤,٥                 | ٣  | ٣٩ - ٣٥ |
|                        |                      | ٣٠ | المجموع |

ويمثل الرسم التالي شكل (٢٠) المضلع المتجمع النازل للتكرار المتجمع النازل في الجدول السابق.

شكل رقم (٢٠)



### أسئلة للمراجعة العامة للجزء السابق

١ - فيما يلي درجات خمسين تلميذاً من تلاميذ التدريب المهني على

اختبار الاستدلال الميكانيكي Mechanical Reasoning .

|    |    |    |    |    |
|----|----|----|----|----|
| ١٣ | ١٥ | ١١ | ٦  | ١٢ |
| ٦  | ٣  | ٩  | ١٠ | ٨  |
| ٨  | ١٨ | ١٨ | ٢٠ | ٦  |
| ١٧ | ٢  | ١٧ | ١٥ | ١٥ |
| ١٩ | ١٤ | ٩  | ١٧ | ١٤ |
| ٢٠ | ١١ | ٥  | ٨  | ١٢ |

|     |    |    |    |     |
|-----|----|----|----|-----|
| ١٥  | ١٠ | ١٤ | ١١ | ١٩  |
| صفر | ٩  | ٦  | ١٣ | صفر |
| ١٢  | ١٧ | ١٧ | ١٦ | ٥   |
| ٧   | ١٦ | ١٦ | ١٠ | ١٩  |

والمطلوب توزيع الدرجات السابقة في جدول تكراري مدى الفئة فيه  
 ٣. ثم إعادة توزيع نفس هذه الدرجات في جدول تكراري آخر مدى الفئة  
 منه ٤.

٢ - يمثل الجدول التكراري الآتي درجات مجموعة من العاملات في  
 مصنع تغليف علب الحلوى على اختبار السرعة اليدوية Manual Speed.

| ك  | ف       |
|----|---------|
| ٦  | - ١٠    |
| ٩  | - ١٥    |
| ١٠ | - ٢٠    |
| ٥  | - ٢٥    |
| ٣٠ | المجموع |

والمطلوب :

- أ - تعديل التوزيع السابق .
- ب - رسم المضلع التكراري قبل وبعد التعديل .
- ج - حساب التكرار النسبي .
- د - حساب التكرار المئوي .

٣ - فيما يلي توزيع الدرجات لمجموعة العمال قبل وبعد التدريب على

اختبار لقياس التأزر بين اليدين : Two Hand Co-ordination .

| التوزيع بعد التدريب |         | التوزيع قبل التدريب |         |
|---------------------|---------|---------------------|---------|
| ك                   | ف       | ك                   | ف       |
| ٥                   | - ١٢    | ٧                   | - ١٠    |
| ٥                   | - ١٧    | ٨                   | - ١٥    |
| ١٥                  | - ٢٢    | ١٢                  | - ٢٠    |
| ٩                   | - ٢٧    | ١٠                  | - ٢٥    |
| ١٠                  | - ٣٢    | ٩                   | - ٣٠    |
| ٣                   | - ٣٧    | ٢                   | - ٣٥    |
| ٣                   | - ٤٢    | ٢                   | - ٤٠    |
| ٥٠                  | المجموع | ٥٠                  | المجموع |

والمطلوب :

- أ - رسم المضلع التكراري للتوزيع قبل التدريب .  
 ب - رسم المدرج التكراري للتوزيع بعد التدريب .  
 ج - عدل التوزيع قبل وبعد التدريب باستخدام المتوسطات المتحركة .  
 ٤ - يمثل التوزيع التكراري الآتي درجات ٢٥ خمسة وعشرين شخصاً  
 على اختبار الذكاء العملي : Performance Intelligence .

|   |    |    |    |    |    |    |
|---|----|----|----|----|----|----|
| ف | ٧٥ | ٨٠ | ٨٥ | ٩٠ | ٩٥ | مج |
| ك | ٣  | ٥  | ١٠ | ٤  | ٣  | ٢٥ |

والمطلوب :

أ - حساب نسبة الأفراد الذين تقل درجاتهم عن ٨٤,٥ باستخدام التكرار المتجمع الصاعد.

ب - حساب نسبة الأفراد الذين تزيد درجاتهم عن ٧٩,٥ باستخدام التكرار المتجمع النازل.

ج - إرسم المنحنى المتجمع الصاعد للتوزيع السابق.

د - إرسم المنحنى المتجمع النازل للتوزيع السابق.

٥ - فيما يلي درجات مجموعتين من تلاميذ المدارس على اختبار الشخصية أحدهما لتلاميذ المدارس الأميرية والأخرى لتلاميذ المدارس الخاصة. وعدد تلاميذ المدارس الأميرية ٣٠ ثلاثين. وعدد تلاميذ المدارس الخاصة ٢٠ عشرين.

| تلاميذ<br>(مدارس خاصة) |    | تلاميذ<br>(مدارس أميرية) |    |    |
|------------------------|----|--------------------------|----|----|
| ١٧                     | ٦  | ١٥                       | ٥  | ٦  |
| ١٥                     | ١٠ | ١٦                       | ٩  | ٥  |
| ١٦                     | ٢٥ | ٢١                       | ٢٠ | ١٠ |
| ١٤                     | ١١ | ١٤                       | ١٨ | ١٥ |
| ١٣                     | ١٤ | ١٣                       | ١٦ | ٧  |
| ٦                      | ٧  | ٩                        | ٤  | ٨  |
| ٦                      | ٨  | ٦                        | ٧  | ٩  |
| ١٠                     | ٦  | ١١                       | ٨  | ٣  |
| ١١                     | ٥  | ١٠                       | ١٢ | ١١ |
| ١٢                     | ١٠ | ٥٥                       | ١٣ | ١٣ |

والمطلوب :

أ - المقارنة بين توزيع درجات المجموعتين .

ب - تعديل التوزيع لدرجات المجموعتين .

ج - رسم المدرج التكراري لدرجات تلاميذ المدارس الأميري .

د - رسم المنحنى التكراري لدرجات تلاميذ المدارس الخاصة .

٦ - فيما يلي أعمار ٥٠ خمسين شخصاً أجرى عليهم أحد الباحثين

دراسة سيكولوجية .

والمطلوب : عمل جدول تكراري لهذه الأعمار ثم تمثيل هذا الجدول

بطريقتين من طرق الرسم .

| شهر | سنة | شهر | سنة | شهر | سنة | شهر | سنة | شهر | سنة |
|-----|-----|-----|-----|-----|-----|-----|-----|-----|-----|
| ٧   | ٥   | ٣   | ٢   | ٢   | ٣   | ٣   | ٢   | -   | ٣   |
| ٣   | ٥   | ٤   | ٣   | -   | ٣   | ٧   | ٤   | ٥   | ٣   |
| ٩   | ٦   | ٤   | ٥   | ٩   | ٥   | ٥   | ٥   | ٥   | ٥   |
| ٦   | ٢   | ٨   | ٥   | -   | ٥   | ٤   | ٨   | ٤   | ٣   |
| ٧   | ٣   | ٦   | ٧   | ٦   | -   | ٦   | ٦   | ٦   | ٥   |
| ٩   | ٥   | ٤   | ٦   | ١   | ٣   | ١١  | ٦   | ٣   | ٣   |
| ٣   | ٤   | ١   | ٦   | ٧   | ٤   | ٧   | ٦   | ٧   | ٤   |
| ٤   | ٢   | ١   | ٣   | ٦   | ٦   | ٣   | ٣   | ٣   | ٣   |
| -   | ٤   | ٧   | ٤   | ٤   | ٥   | ١٠  | ٤   | ١٠  | ٥   |
| ٤   | ٣   | ٢   | ٥   | ٨   | ٥   | ٨   | ٥   | ٨   | ٦   |

## خامساً مقاييس النزعة المركزية CENTRAL TENDENCY M.

تبين من خلال الجزء السابق كيف استطاعت الإحصاء عن طريق توزيع الدرجات أو القيم في جداول تكرارية وتمثيل هذه التوزيعات التكرارية بالرسم أن تمد الباحث بكثير من الخصائص والصفات التي تتميز بها هذه الدرجات ، والتي تعكس أيضاً بمجرد النظر مدى دقة البحث أو الدراسة التي تم عملها والمتمثلة في :

١ - اختيار العينة أي هل أختار الباحث العينة التي أجرى عليها بحثه بأحد الطرق العلمية المعروفة في اختيار العينات أم كان اختياره لها يعتمد على أسلوبه الشخصي والذاتي Subjective .

٢ - الاختبار أو الأداة المستخدمة أي هل استخدم الباحث الأداة التي أجرى عليها الكثير من المعالجات بحيث أصبحت مناسبة لمستوى عمر وللمستوى تعليم العينة التي يجري عليها الدراسة أم استخدم أداة Tool صالحة للأطفال على الكبار أو استخدم أداة صالحة للكبار على الأطفال ، من ناحية ثانية استخدم أداة صالحة للمتعلمين على الأميين؟

ولا تقتصر حاجة الباحث من الدرجات الخام عند هذا الحد، كما أن ما تقدمه الإحصاء يتعدى مجرد توزيع الدرجات في جداول تكرارية وتمثيلها



بالرسم إلى تليخيص هذه الدرجات جميعاً وتركيزها في درجة أو قيمة واحدة تغني وتعبّر عن كل قيم ودرجات المجموعة . ويطلق على تلك الأساليب التي تمد الباحث بهذه القيمة بالمتوسطات Averages أو القيم المركزية أو النزعة المركزية Central Tendency ومن هذه الأساليب :

١ - المتوسط الحسابي (أو الوسط الحسابي) Arithmetic Mean

٢ - الوسيط (أو الأوسط) Median

٣ - المنوال (أو الشائع) Mode

ولهذه الأساليب قيمة تطبيقية في حياة الإنسان فلا تكاد تخلو حياته من الأرقام فصاحب المصنع يحتاج لمعرفة متوسط إنتاج مصنعه اليومي خلال الشهر فيقوم بجمع إنتاج كل يوم من أيام الشهر وقسمة الناتج على ثلاثين يوماً (أو ٢٨ أو ٣١) حيث يفيد ذلك في مقارنة متوسط إنتاج هذا الشهر بالشهر السابق أو الأسبق فيعرف من خلال المقارنة هل حدثت زيادة في إنتاج هذا الشهر أم حدث انخفاض فيبحث في سببه ويقوم بعمل الإجراءات التي تساعد على عدم تكرار ذلك .

### ١ - المتوسط الحسابي (أو الوسط الحسابي)

يعرف البعض المتوسط الحسابي لمجموعة من الدرجات أو القيم بأنه القيمة التي لو وزعت على كل فرد من أفراد العينة لكان مجموع هذه القيم هو المجموع الحقيقي للقيم الأولى . ويعرفه البعض الآخر بأنه متوسط عدد من القيم هو خارج قسمة مجموع هذه القيم على عددها . فلو كان لدينا عشرة أفراد طبقنا عليهم اختباراً للدكاء وكانت درجات هؤلاء الأفراد العشرة هي :

٧٥ - ٦٠ - ١٠٠ - ١٠٥ - ٩٠ - ٨٥ - ٧٠ - ١١٠ - ١٢٠ - ٨٠

فإننا نقوم بجمع هذه الدرجات (٨٩٥) وقسمة الناتج على عشرة

(فيكون المتوسط  $\frac{895}{100} = 8,95$  كما يلي :

ويرمز للمتوسط الحسابي (8,95) بالرمز «م» .

ويرمز لمجموع القيم (895) بالرمز «جـ س» .

ويرمز لعدد القيم (10) بالرمز ن .

ويكون المتوسط الحسابي على أساس ذلك  $م = \frac{جـ س}{ن}$

وهناك ثلاث طرق للحصول على المتوسط الحسابي هي :

١ - الطريقة العادية أو الشائعة .

٢ - طريقة مراكز الفئات .

٣ - الطريقة المختصرة .

#### أ - الطريقة الشائعة أو العادية

وهي الطريقة التي نستخدمها في حياتنا اليومية وهي التي سبق الكلام عنها، ونسوق مثلاً آخر عليها فلو فرض أن القيم الآتية تمثل الإنتاج اليومي خلال أسبوع لمجموعة من عمال الصلب :

$$١٢ - ١٥ - ٢١ - ٧ - ١٣ - ٨$$

فيكون مجموع هذه القيم هو :

$$٧٦ = ٨ + ١٣ + ٧ + ٢١ + ١٥ + ١٢$$

ويكون المتوسط الحسابي لهذه القيم هو :

$$١٢,٦٧ = ٦ - ٧٦$$

أي أن جـ س = ٧٦

$$٦ = ن ،$$

$$١٢,٦٧ = م ،$$

## ب - طريقة مراكز الفئات

الطريقة السابقة «الشائعة» هي التي نستخدمها في حياتنا اليومية عندما نكون بصدد عدد قليل من القيم كما في الأمثلة السابقة . لكن الحياة اليومية تتميز بالأعداد الكبيرة من الأفراد والأعداد الكبيرة من معدلات الإنتاج . . . إلخ . بحيث لو استخدمنا فيه مع هذه الأعداد الكبيرة الطريقة العادية حدثت الكثير من الأخطاء . ولنا أن نتوقع أن يقوم صاحب مصنع بقسمة مجموع إنتاج مصنعه خلال العالم على عدد أيام السنة وهو ٣٦٥ يوماً ، أو بقسمة مجموع إنتاج العمال (بعد جمعه) على عدد العمال البالغ عددهم ألفين من العمال مثلاً . ولا يتوقف الأمر على احتمال وقوعه في الأخطاء بل أن هذه الطريقة وما تتطلبه من جمع وقسمة تستغرق وقتاً طويلاً وجهداً مضيئاً يتنافى مع ما يقدمه لنا العلم من اقتصاد في الوقت والجهد .

وتقوم طريقة مراكز الفئات أساساً على توزيع القيم في جدول تكراري ، فلو فرض وطبقنا اختباراً من اختبارات الشخصية على ٥٠ شخصاً وكانت درجاتهم على النحو الآتي :

|    |    |    |    |    |
|----|----|----|----|----|
| ١٧ | ١٥ | ٣٨ | ٢٥ | ٣٢ |
| ٢٧ | ٢٩ | ٣٠ | ٣٢ | ٢٢ |
| ٢٢ | ٣٦ | ٢٢ | ٢٨ | ١٨ |
| ٤٥ | ٤٥ | ٨  | ٤٦ | ٢٨ |
| ٢٧ | ٤٤ | ٥  | ٣٤ | ١٥ |
| ٣٧ | ٢٥ | ٣٧ | ٢٨ | ٢١ |
| ١٩ | ٣٤ | ٢٥ | ٢٥ | ٣٨ |
| ٣٥ | ١٩ | ٤٩ | ٤٩ | ٤٢ |
| ٢٣ | ٢٤ | ٢٧ | ٣٥ | ٣٨ |
| ١٦ | ٢٧ | ١٤ | ٢٣ | ٢٢ |

فإننا نقوم بتوزيع هذه القيم في جدول تكراري كما يلي :

| س × ك  | س    | ك  | ف    |
|--------|------|----|------|
| ١٥     | ٧,٥  | ٢  | - ٥  |
| ١٢,٥   | ١٢,٥ | ١  | - ١٠ |
| ١٢٢,٥  | ١٧,٥ | ٧  | - ١٥ |
| ١٨٠,٠  | ٢٢,٥ | ٨  | - ٢٠ |
| ٣٣٠,٠  | ٢٧,٥ | ١٢ | - ٢٥ |
| ١٦٢,٥  | ٣٢,٥ | ٥  | - ٣٠ |
| ٣٠٠,٠  | ٣٧,٥ | ٨  | - ٣٥ |
| ٨٥,٠   | ٤٢,٥ | ٢  | - ٤٠ |
| ٢٣٧,٥  | ٤٧,٥ | ٥  | - ٤٥ |
| ١٤٤٥,٠ |      | ٥٠ |      |

وتتلخص الخطوات التي يتم بها الحصول على المتوسط الحسابي بهذه الطريقة فيما يلي :

١ - توزيع القيم في جدول تكراري .

٢ - الحصول على مراكز الفئات (س) ويتم ذلك بجمع الفئة الأولى + الفئة الثانية وقسمة الناتج على اثنين (في المثال السابق :  $\frac{١٥+١٢,٥}{٢} = ١٣,٥$ ) ليتم الحصول على 'مركز الفئة الأولى وللحصول على مركز الفئة الثانية يكون أما بجمع الفئة الثانية + الفئة الثالثة وقسمة الناتج على اثنين كما في الفئة الأولى أو بإضافة مدى الفئة (وهي هنا = ٥) على مركز الفئة السابقة فمثلاً مركز الفئة الأولى =  $٧,٥$  فيكون مركز الفئة الثانية  $٧,٥ + ٥ = ١٢,٥$  وهكذا مراكز باقي الفئات .

٣ - يتم ضرب مراكز الفئات في التكرارات (س × ك) أي ضرب مركز كل فئة في تكرارها فمثلاً مركز الفئة الأولى ٧,٥ وتكرار هذه الفئة ٢ فيكون س × ك = ٧,٥ × ٢ = ١٥ وهكذا.

٤ - نقوم بحساب مج س × ك وذلك بجمع ناتج ضرب مراكز الفئات في التكرارات (١٤٤٥).

٥ - نقوم بتطبيق القانون الآتي :

$$م = \frac{\text{مجم س} \times \text{ك}}{\text{مجم ك}} = \frac{١٤٤٥}{٥٠} = ٢٨,٩$$

أي أن متوسط درجات المجموعة (٥٠ شخصاً) على اختبار الشخصية هو ٢٨,٩ درجة.

#### ج- الطريقة المختصرة

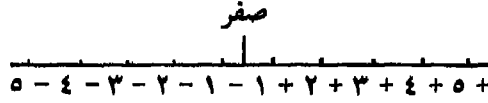
لاحظنا ما تنطوي عليه طريقة مراكز الفئات أيضاً من صعوبات تتمثل في عملية ضرب التكرارات في مراكز الفئات ، وما بكل من مراكز الفئات (س) وضرب مراكز الفئات في التكرارات من كسور تعرض الباحث لكثير من الأخطاء سواء في الجمع أو الضرب . ولذلك فإن حساب المتوسط الحسابي بالطريقة المختصرة تغني الباحث من الوقوع في مثل هذه الأخطاء فيتم الحصول عليه بسهولة وبسرعة . وتقوم هذه الطريقة على أساس الانحراف الفرضي فتفرض مركزاً صفرياً في منتصف التوزيع التكراري يزيد واحد صحيح في اقترابها من النهاية الكبرى للتوزيع وتقل في كل خطوة واحد صحيح في اقترابها من النهاية الصغرى للتوزيع . ثم يتم ضرب الانحراف الفرضي في التكرارات . وبالنسبة للتوزيع التكراري في المثال السابق تتم العمليات الآتية على هذا الجدول كما يتبين لنا فيما يلي :

| كح  | ح   | ك  | ف       |
|-----|-----|----|---------|
| ٨-  | ٤-  | ٢  | -٥      |
| ٣-  | ٣-  | ١  | -١٠     |
| ١٤- | ٢-  | ٧  | -١٥     |
| ٨-  | ١-  | ٨  | -٢٠     |
| صفر | صفر | ١٢ | -٢٥     |
| ٥+  | ١+  | ٥  | -٣٠     |
| ١٩+ | ٢+  | ٨  | -٣٥     |
| ٠٦+ | ٣+  | ٢  | -٤٠     |
| ٢٠+ | ٤+  | ٥  | -٤٥     |
| ٣٣- |     | ٥٠ | المجموع |
| ٤٧+ |     |    |         |
| ١٤+ |     |    |         |

ويتبع ما يلي في الحصول على المتوسط الحسابي بالطريقة المختصرة.

١- حساب الانحراف الفرضي أو الفرض الصفري ويرمز له بالرمز  $\bar{X}$  وذلك كما سبق أن بينا وهو وضع صفر في منتصف التوزيع يزيد واحد صحيح في اقترابه من النهاية الكبرى للتوزيع ويتضح ذلك إذا نظرنا للانحراف الفرضي  $+١$  نجد أنه يقابل الفئة  $-٣٠$  والانحراف الفرضي  $+٢$  نجد أنه يقابل الفئة  $-٣٥$  . . . وهكذا. وينخفض الانحراف الفرضي واحد صحيح في اقترابه من النهاية الصغرى للتوزيع ويتضح ذلك إذا نظرنا للانحراف الفرضي  $-١$  نجد أنه يقابل الفئة  $-٢٠$  والانحراف الفرضي  $-٢$  يقابل الفئة  $-١٥$  . . . وهكذا. ولعلنا نتذكر أن الانحراف الفرضي هذا مشابه لمحاور تمثيل

البيانات بالرسم البياني فمثلاً المحور السيني أو المحور الصادي نجد أنه يتخذ له وسطاً مقداره صفر ثم يتزايد تزايداً موجباً في جهة وينقص تناقصاً سالباً في جهة أخرى كما نرى في الرسم الآتي:



٢ - ضرب كل انحراف فرضي في التكرار المقابل له لتحصل على ك

ح

٣ - جمع حاصل ضرب الانحراف الفرضي في التكرارات وفي هذه الخطوة سنجد لدينا مجموعتين من الدرجات أحدهما ذا إشارات سالبة (وهو ضرب الانحراف الفرضي السالب في التكرارات) والآخر ذا إشارات موجبة. وفي هذه الحالة يتم جمع كل مجموعة على حدة ثم يطرح الصغير من الكبير وتكون إشارة حاصل الجمع حسب إشارة المجموع الكبير فلو كان مجموع النواقص - ٢٠ ومجموع الزوائد + ١٥ كان الناتج - ٥ ولو كان مجموع الزوائد + ٢٠ ومجموع النواقص - ١٧ لكان الناتج + ٣ ولو كان مجموع النواقص مساوي لمجموع الزوائد كان الناتج صفراً.

٤ - نقوم بعد ذلك بتطبيق القانون الآتي:

$$م = \text{مركز الفئة الصفرية} \pm \frac{\text{مجموع ح} / \text{مجموع ك} \times \text{ف}}$$

حيث أن:

$$م = \text{المتوسط الحسابي}$$

$$\text{مركز الفئة الصفرية} = \frac{\text{الفئة المقابلة للصفر} + \text{الفئة التي بعدها}}{٢}$$

$$\text{وهي في المثال السابق} = \frac{٣٠ + ٢٥}{٢} = ٢٧,٥$$

مجموع ح = مجموع ضرب التكرارات في الانحراف الفرضي.

مجدك = مجموع التكرارات .

ف = مدى الفئة .

$\pm$  = تتحدر هذه الإشارة حسب إشارة الناتج في عمود مجدك ح .

## (٢) الوسيط (أو الأوسط)

يعرف الوسيط Median بأنه الدرجة التي تقع في وسط (منتصف) توزيع درجات مجموعة الأفراد . أو هو الدرجة التي يكون موقعها في منتصف المجموعة تماماً بين ترتيب هذه الدرجات فيكون قبلها نصف عدد الدرجات ويكون بعدها النصف الباقي لعدد الدرجات . فلو كان لدينا مجموعة من الأفراد عددهم خمسة طبق عليهم اختباراً لقياس القدرة العددية Numerical ability وكانت درجاتهم على هذا الاختبار هي : ٦-٥-٩-٨-١٣ فإننا نقوم بترتيب هذه الدرجات بطريقتين على النحو الآتي :

تصاعدياً : ٥ - ٦ - ٨ - ٩ - ١٣ .

فيكون الوسيط ٨ لأنه يقع في الوسط تماماً وعدد الدرجات التي قبله (٦،٥) نصف عدد الدرجات ، وعدد الدرجات التي بعده (٩،١٣) هي النصف الآخر .

أو تنازلياً : ١٣ - ٩ - ٨ - ٦ - ٥

فيكون الوسيط ٨ لأنه يقع في الوسط تماماً أيضاً .

وسنذكر فيما يلي كيفية حساب الوسيط من القيم الخام ومن الجدول التكراري ومن الرسم باستخدام التكرار المتجمع الصاعد والنازل المثويين .

أ - حساب الوسيط من القيم الخام :

١ - في حالة الأعداد الفردية :

أي عندما يكون عدد العينة التي يجري عليها الباحث دراسته فردية كأن



يكون قد أجرى بحثه على ثلاثة أفراد أو خمسة أو سبعة أو ٩ أو ١١ أو ١٣ أو ١٥ أو ١٧ أو ١٩ أو ٢١ . . . وهكذا.

مثال :

أجرى باحث دراسة على مجموعة من سبعة أطفال لمعرفة القدرة على التذكر لديهم وكانت أعمارهم :

٧ - ٩ - ١٣ - ١١ - ٥ - ٩ - ٧

ولحساب وسيط هذه الدرجات نقوم بترتيبها ترتيباً تصاعدياً أو تنازلياً. كما سبق أن بينا على النحو الآتي :

١٣ - ١١ - ٩ - ٩ - ٧ - ٧ - ٥

فيكون حساب الوسيط كالآتي :

$$\text{رتبة } و = \frac{١ + ن}{٢}$$

حيث و = الوسيط، ن = عدد القيم أو درجات الأفراد أي عدد أفراد العينة.

١ = أي أن الدرجات فردية ليكن رتبة الوسيط حسب ذلك :

$$\text{رتبة الوسيط} = \frac{١ + ٧}{٢} = ٤$$

أي أن رتبة الوسيط هي الدرجة الرابعة أي الدرجة ٩

٢ - في حالة الأعداد الزوجية :

ويكون ذلك عندما يقوم الأخصائي بإجراء دراسته على عينة من الأفراد عددهم زوجي أي فردين أو أربعة أفراد أو ٦ أو ٨ أو ١٠ أو ١٢ أو ١٤ أو ١٦ أو ١٨ وهكذا.

مثال :

أجريت دراسة على عينة من العمال عددهم عشرة وكانت أجورهم كما

يلي :

٢٠ - ١٣ - ٩ - ٢٥ - ١٧ - ١٩ - ١٥ - ٢١ - ٢٤ - ١٨ .

فيكون ترتيب هذه الأجور ترتيباً تصاعدياً كما يلي :

٩ - ١٣ - ١٥ - ١٧ - ١٨ - ١٩ - ٢٠ - ٢١ - ٢٤ - ٢٥

وبالنظر للدرجات السابقة نجد أن هناك قيمتين في الوسط هما ١٨ ، ١٩ يسبقهما نصف الدرجات ٩ ، ١٣ ، ١٥ ، ١٧ ويجيء بعدهما النصف الباقي من الدرجات ٢٠ ، ٢١ ، ٢٤ ، ٢٥ ويمكن تحديد رتبة القيمتين اللتين في الوسط على النحو الآتي :

رتبة القيمة الأولى =  $\frac{١٠}{٢}$  = وهي في المثال السابق =  $\frac{١٠}{٢}$  = ٥

أي القيمة التي يكون ترتيبها الخامس وهي القيمة ١٨ .

رتبة القيمة الثانية =  $\frac{١١}{٢}$  =  $\frac{١١}{٢}$  = ٥,٥

أي القيمة التي يكون ترتيبها السادس وهي القيمة ١٩ .

وبعد ذلك يمكن حساب الوسيط كما يلي :

الوسيط =  $\frac{\text{مجموع القيمتين اللتين في الوسط}}{٢}$

وبالتعويض في المثال السابق :

الوسيط =  $\frac{١٩ + ١٨}{٢} = \frac{٣٧}{٢} = ١٨,٥$

ب - حساب الوسيط في الجدول التكراري :

ويتسم ذلك عندما يكون البحث الذي أجري ذا أعداد كبيرة ويكون

الاحتمال كبيراً للوقوع في الخطأ إذا استخدمت الطريقة السابقة، هذا بالإضافة إلى صعوبة تطبيقها. وفي مثل هذه الأحوال (الأعداد الكبيرة) لا بد من توزيع الدرجات في جدول تكراري فلو فرض وكان لدينا جدولاً تكرارياً للتوزيع درجات مجموعة من الأفراد عددهم خمسين على اختبار للتوتر كما يلي:

ف: ٥ - ١٠ - ١٥ - ٢٠ - ٢٥ - ٣٠ -

ك: ٣ ١٤ ٩ ١٠ ١٢ ٢

فإنه يلزم إيجاد التكرار المتجمع الصاعد لإكمال الجدول تمهيداً للحصول على الوسيط.

| تكرار متجمع صاعد | ك  | ف    |
|------------------|----|------|
| ٣                | ٣  | - ٥  |
| ١٧               | ١٤ | - ١٠ |
| ٢٧               | ١٠ | - ١٥ |
| ٣٦               | ٩  | - ٢٠ |
| ٤٨               | ١٢ | - ٢٥ |
| ٥٠               | ٢  | - ٣٠ |
|                  | ٥٠ |      |

وتحسب رتبة الوسيط كما يلي  $= \frac{\text{مجم ك}}{٢} = \text{أي } \frac{٥٠}{٢} = ٢٥$

ويكون حساب الوسيط باستخدام القانون الآتي:

و = الحد الأدنى للفئة الوسيطة +

رتبة الوسيط - تكرار متجمع صاعد للفئة قبل الوسيطة  $\times$  مدى الفئة  
تكرار الفئة الوسيطة .

حيث أن :

و = الوسيط

الحد الأدنى للفئة الوسيطة =

وهي الفئة التي يقع فيها التكرار المتجمع  
الصاعد لرتبة الوسيط فمثلاً رتبة الوسيط  
في المثال السابق = ٢٥ وموقعها في  
التكرار المتجمع الصاعد بين التكرار  
المتجمع الصاعد ١٧ ، ٢٧ أي أن الحد  
الأدنى للفئة الوسيطة هو ١٥ -

رتبة الوسيط = مجموع التكرارات مقسومة على اثنين

تكرار متجمع صاعد للفئة قبل الوسيطة =

أي التكرار المتجمع الصاعد للفئة قبل  
الوسيطة فالفئة قبل الوسيطة في التكرار  
السابق هي الفئة ١٠ - والتكرار المتجمع  
الصاعد المقابل لها هو ١٧ .

تكرار الفئة الوسيطة =

التكرار الأصلي المقابل للفئة الوسيطة  
فإذا كانت الفئة الوسيطة هي ١٥ - فإن  
تكرارها هو ١٠ .

مدى الفئة =

وهو في هذا المثال يساوي ٥ .

وبالتعويض من القانون في المثال السابق :

$$5 \times \frac{8}{11} + 15 = 5 \times \frac{17-25}{11} + 15 = و$$

$$19 = 4 + 15 = \frac{4}{11} + 15 =$$

$$19 = \text{أي أن قيمة الوسيط} = 19$$

جـ - حساب الوسيط عن طريق الرسم :

ويمكن حساب الوسيط بالرسم وذلك بحساب التكرار المتجمع النازل والتكرار المتجمع الصاعد.

مثال :

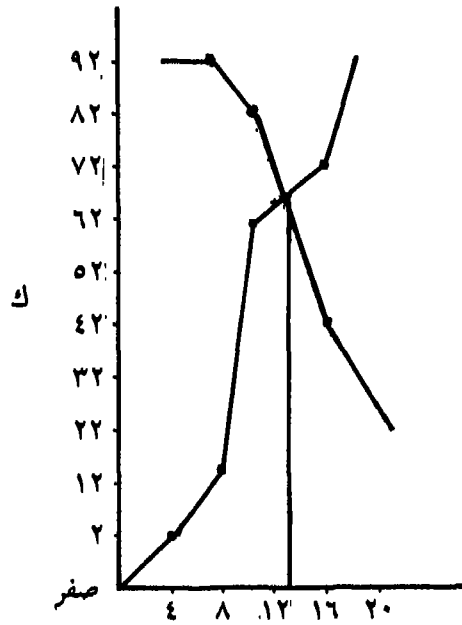
أجريت دراسة على ٤٠ أربعين شخصاً لمعرفة اتجاهاتهم نحو الحرب والسلام فكانت درجاتهم موزعة كما يلي :

| تكرار متجمع صاعد مثوي | تكرار متجمع صاعد نسبي | تكرار متجمع صاعد | ك  | ف   |
|-----------------------|-----------------------|------------------|----|-----|
| ٢                     | ,٠٢                   | ١                | ١  | -٤  |
| ١٤                    | ,١٤                   | ٦                | ٥  | -٨  |
| ٦٢                    | ,٠٦٢                  | ١٩               | ١٣ | -١٢ |
| ٧٢                    | ,٠٧٢                  | ٢٩               | ١٠ | -١٦ |
| ١٠٠                   | ١,٠٠                  | ٤٠               | ١١ | -٢٠ |
|                       |                       |                  | ٤٠ |     |

ويكون التكرار المتجمع المثوي النازل لهذا التوزيع هو :

| تكرار متجمع<br>نازل مثوي | تكرار متجمع<br>نازل نسبي | تكرار متجمع<br>نازل | ف  | ك   |
|--------------------------|--------------------------|---------------------|----|-----|
| ١٠٠                      | ١,٠٠                     | ٤٠                  | ١  | -٤  |
| ٩٧                       | ٠,٩٧                     | ٣٩                  | ٥  | -٨  |
| ٨٥                       | ٠,٨٥                     | ٣٤                  | ١٣ | -١٢ |
| ٥٢                       | ٠,٥٢                     | ٢١                  | ١٠ | -١٦ |
| ٢٧                       | ٠,٢٧                     | ١١                  | ١١ | -٢٠ |
|                          |                          |                     | ٤٠ |     |

ويتم رسم المنحنى لكل من التكرار المثوي الصاعد والتكرار المثوي  
النازل كما يلي:



وبطبيعة الحال فإن قيمة الوسيط تتحدد بإسقاط خط على محور الفئات عند تلاقي المضلع التكراري المثوي الصاعد مع المضلع التكراري المثوي النازل، وتكون قيمة الوسيط عند النقطة التي يقع عندها الخط الساقط في محور الفئات وبطبيعة الحال فإن قيمة الوسيط عن طريق الرسم لا تكون بنفس دقة حسابه عن طريق الجدول التكراري كما في ثانياً.

### (٣) المنوال Mode

المنوال هو أكثر القيم التي تحصل على أكبر تكرار، وعلى ذلك يعتبر المنوال أكثر الدرجات شيوعاً. وهناك طريقتين للحصول على المنوال الأولى حسابية من الجدول التكراري والثانية عن طريق الرسم:

وهناك طريقتين للحصول على المنوال الأولى بصورة حسابية من الجدول التكراري والثانية عن طريق الرسم:

أ- حساب المنوال من الجدول التكراري:

ويتم ذلك عن طريق تحديد أكبر تكرار في الجدول وتكون الفئة المقابلة له هي الفئة المنوالية. وبعد ذلك يتم تطبيق القانون الخاص بذلك.

مثال:

ويتضح لنا الكلام السابق من خلال تطبيقه على أحد الأمثلة.

| ف    | ك  | تحديد التكرارات المستخدمة في حساب المنوال |
|------|----|---|
| ٥ -  | ٣  |   |
| ١٠ - | ٧  | تكرار الفئة قبل المنوالية                 |
| ١٥ - | ١٢ | أكبر تكرار تقابله الفئة المنوالية ١٥ -    |
| ٢٠ - | ٨  | تكرار الفئة بعد المنوالية                 |
| ٢٥ - | ٥  |   |

وللحصول على قيمة المنوال بعد ذلك يتم تطبيق القانون الآتي :

$$\text{المنوال} = \text{الحد الأدنى للفئة المنوالية} + \text{مدى الفئة} \\ \times \frac{\text{تكرار الفئة بعد المنوالية}}{\text{مجموع تكراري الفئة قبل وبعد المنوالية}}$$

وبالتعويض عن القانون السابق في المثال السابق أيضاً تصبح قيمة

المنوال هي :

$$\text{المنوال} = 10 + \frac{4}{8+7} \times 5 + 10 = 10 + \frac{4}{15} \times 5 + 10 = 17,66$$

ب - حساب المنوال عن طريق الرسم :

ويمكن حساب المنوال عن طريق الرسم باستخدام المدرج التكراري أيضاً

ويوضح لنا المثال التالي هذا الكلام :

مثال :

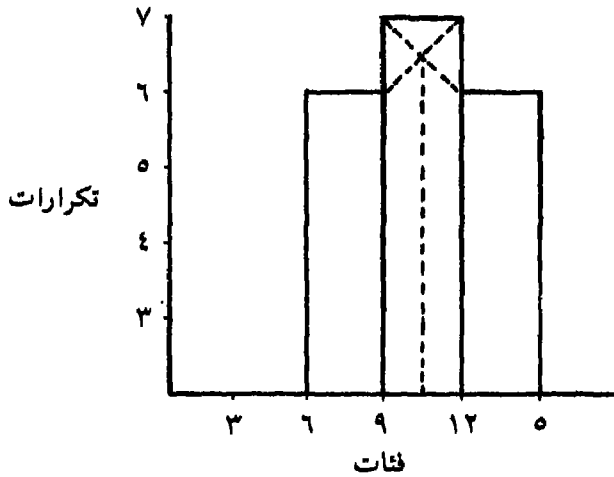
| تحديد التكرارات المستخدمة في حساب المنوال | ك | ف   |
|---|---|-----|
|   | 5 | -3  |
| تكرار الفئة قبل المنوالية                 | 6 | -6  |
| تكرار الفئة المنوالية                     | 7 | -9  |
| تكرار الفئة بعد المنوالية                 | 6 | -12 |
|   | 3 | -15 |

وتكون الخطوات التي تتبع للحصول على المنوال من المدرج

التكراري هي :



- ١ - نقوم برسم تكرار الفئة المنوالية وتكرار الفئة التي قبلها والتي بعدها فقط.
- ٢ - نقوم بإيصال الطرف الأيمن لقمة الفئة قبل المنوالية بالطرف الأيمن لقمة الفئة المنوالية وذلك بمد خط بينهما.
- ٣ - نقوم بإيصال الطرف الأيسر لقمة الفئة بعد المنوالية بالطرف الأيسر لقمة الفئة المنوالية وذلك عن طريق مد خط بينهما.
- ٤ - بعد عملية الإيصال السابقة سنجد أن الخطين يتقاطعان.
- ٥ - نقوم بإنزال مستقيم من نقطة تقاطع الخطين السابقين على المحور السيني الخاص بالفئات.
- ٦ - تعتبر نقطة سقوط المستقيم على المحور السيني هي قيمة المنوال. ويوضح الرسم التالي للمثال السابق هذا الكلام.



وتكون قيمة المنوال كما يتحدد من خلال النقطة التي سقط عليها المستقيم المنقط في محور الفئات ١٠,٥ تقريباً. ويمكن التحقق من ذلك من

خلال حساب المنوال من الجدول التكراري كما يلي :

$$\text{المنوال} = 9 + 3 \times \frac{6}{6+6} = 9 + 3 \times \frac{6}{12} = 10,5$$

بعض المشاكل في المنوال :

قد نجد في بعض الأحيان اشتغال الجدول التكراري على أكبر تكرارين متساويين في القيمة كما يلي :

| ك | ف    |
|---|------|
| ١ | - ٥  |
| ٨ | - ٧  |
| ٢ | - ٩  |
| ٨ | - ١١ |
| ٤ | - ١٣ |
| ٢ | - ١٥ |

وكما سبق يلاحظ في الجدول السابق أن أكبر تكرار هو ٨ ويوجد هذا التكرار في مقابل الفئتين - ٧ ، - ١١ - ويعني مثل هذا التكرار أننا بصدد مجموعتين واحدة ولذلك يلزم الحصول على منوالين لا منوال واحد كما يلي :

$$\text{قيمة المنوال الأول} = 7 + 2 \times \frac{2}{2+2} = 7 + 2 \times \frac{2}{4} = 8,33$$

$$= 7 + \frac{4}{4} = 8,33$$

$$\text{قيمة المنوال الثاني} = 11 + 2 \times \frac{4}{4+2} = 11 + \frac{8}{6} = 12,67$$

$$= 12,67$$

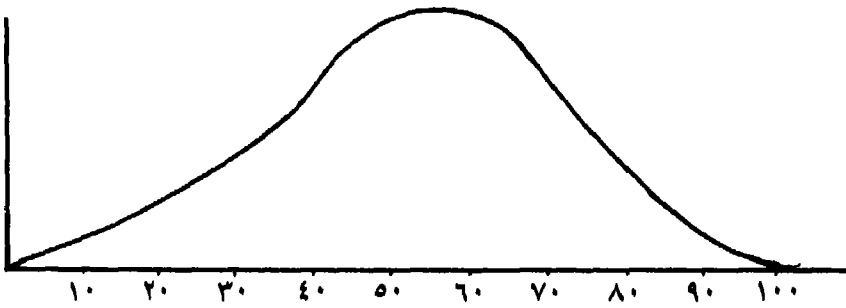
ويمكن اعتبار متوسط المنوالين السابقين المنوال الذي يعبر عن القيمة الأكثر شيوعاً للجدول السابق :

$$\text{المنوال في الجدول السابق} = 8, 13, 12, 67 \div 2 = 21, 00 \div 2 = 10, 5$$

العلاقة بين المتوسطات الثلاث في التوزيع التكراري :

يقصد بعلاقة المتوسطات الثلاث (المتوسط الحسابي - الوسيط - المنوال) موقعهم في التوزيع التكراري بالنسبة لبعضهم البعض .

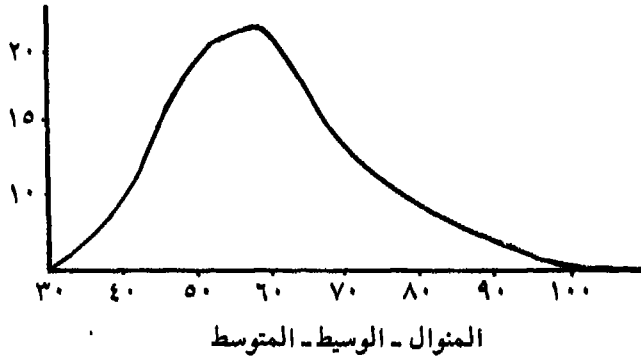
١ - وعندما يكون التوزيع اعتدالياً (يقصد بالتوزيع الاعتدالي أن القيم الأصلية الموضوعة في الجدول التكراري نابعة من عينة تمثل المجتمع الأصلي تمثلاً سليماً وعشوائياً . وأن أداة القياس التي تم استخدامها - اختبار ذكاء مثلاً - مناسبة لمستوى سن وتعليم أفراد العينة كما أن الاختبار ذكاء مثلاً - مناسبة لمستوى سن وتعليم أفراد العينة كما أن الاختبار نفسه أجريت عليه معالجات إحصائية كثيرة للتأكد من صلاحيته) نجد أن قيم المتوسطات الثلاث واحدة وبالتالي فإن موقعهم في المنحنى التكراري يكون في نقطة واحدة كما يلي :



المتوسط - الوسيط - المنوال

(موقع المتوسط والوسيط والمنوال في التوزيع الاعتدالي) .

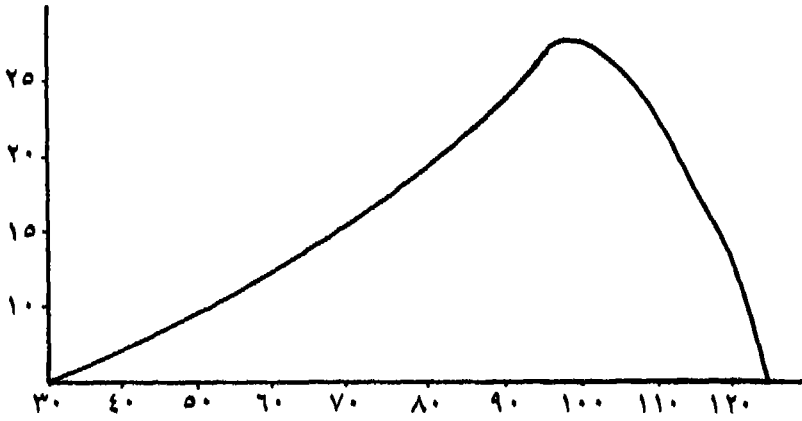
٢ - في حالة التوزيعات الملتوية أي التوزيعات التكرارية التي تكون فيها الدرجات والقيم الأصلية نابعة من تطبيق اختبار ذكاء مثلاً على عينة من ضعاف العقول أي أن الاختبار يكون صعباً في مستواه بالنسبة لهم . أو أن يطبق اختبار سهل في مستواه على طلبة في المدارس الثانوية أو الكليات الجامعية فينجح معظمهم في الاختبار. ويكون التوزيع في حالة ضعاف العقول موجب الالتواء Positively skewed وذلك لأن التكرارات تكون



مجتمعة عند القيم الصغيرة ويكون موقع الوسيط في الوسط، والمنوال على اليسار والمتوسط على اليمين .

٢ - موقع المتوسط والوسيط والمنوال في التوزيع الموجب الالتواء :

ويكون التوزيع في حالة طلبة الكليات سالب الالتواء Negatively أي تكون التكرارات متجمعة عند القيم الكبرى أي أن معظمهم ينجحون في الإجابة على معظم أسئلة الاختبار ويكون موقع الوسيط في الوسط والمنوال على اليمين (عكس حالة الالتواء الموجب) والمتوسط على اليسار.



المنوال - الوسيط - المتوسط

٣- موقع المتوسط والمنوال والوسيط في حالة التوزيع السالب الالتوائي.

الحصول على قيمة المتوسطات الثلاث في حالة غياب أحدهما:

يمكن الحصول على قيمة أحد المتوسطات الثلاث إذا توفرت قيمة

المتوسطات الأخران عن طريق المعادلات الآتية:

$$١ - \text{المتوسط الحسابي} = \frac{٣}{٣} \text{ الوسيط} - \frac{١}{٣} \text{ المنوال}$$

$$٢ - \text{الوسيط} = \frac{١}{٣} \text{ المنوال} + \frac{٢}{٣} \text{ المتوسط الحسابي}$$

$$٣ - \text{المنوال} = ٣ \times \text{الوسيط} - ٢ \times \text{المتوسط الحسابي}.$$

ويوضع المثال الآتي هذا الكلام.

|                |      |
|----------------|------|
| ك              | ف    |
| ٣              | - ٥  |
| ٧              | - ١٥ |
| ١٢             | - ١٥ |
| ٨              | - ٢٥ |
| $\frac{٥}{٣٥}$ | - ٢٥ |

وقيمة المنوال في المثال السابق = ١٧,٦٦

وقيمة الوسيط = ١٨,١

وقيمة المتوسط = ١٨,٣٣

١ - الحصول على المتوسط من قيمة الوسيط والمنوال:

$$\frac{٥٤,٣}{٣} = ١٧,٦٦ \times \frac{١}{٣} - ١٨,١ \times \frac{٢}{٣} = \text{المتوسط}$$

$$١٨,٣٢ = ٨,٨٣ - ٢٧,١٥ = \frac{١٧,٦٦}{٣} =$$

٢ - الحصول على الوسيط من قيمة المتوسط والمنوال:

$$\frac{١٧,٦٦}{٣} = ٨,٣٢ \times \frac{٢}{٣} + ١٧,٦٦ \times \frac{١}{٣} = \text{الوسيط}$$

$$١٨,٠٩ = ١٢,٢١ + ٥,٨٨ = \frac{٣١,٦٤}{٣} =$$

٣ - الحصول على المنوال من قيمة الوسيط والمتوسط:

$$\text{المنوال} = ١٨,١ \times ٣ - ١٨,٣٢ \times ٢ = ٣٦,٦٤ - ٥٤,٣ = ١٧,٦٦.$$

## تمارين على المتوسطات

١ - أجرى باحث دراسة على مجموعة من الأطفال المشردين بهدف التعرف على مستوى ذكائهم وكان عددهم ثلاثين طفلاً ودرجاتهم كانت كما يلي :

٧٣-٤٣-١٠٣-٩٨-٧٢-٦٦-١٠٠-٩٩-٨٧-٨٥  
١٠٠-١١٠-٧٢-٨٩-٥٢-٩٦-١٠٢-٨٧-٦٦-٥٣  
١٠١-٦٥-٨٥-٩٥-٦٥-٥٢-١٠٠-١١٠-١٠٠-٩٥

والمطلوب أولاً :

- ١- توزيع الدرجات السابقة في جدول تكراري مدى الفئة فيه ١٠ .
- ٢- حساب المتوسط الحسابي بطريقتين .
- ٣- حساب الوسيط بطريقتين .
- ٤- حساب المنوال بطريقتين .

والمطلوب ثانياً .

- ١- رسم المضلع التكراري للدرجات السابقة بعد توزيعها في جدول تكراري مرة ثانية على أن يكون مدى الفئة ١٥ .
- ٢- تسوية التوزيع باستخدام المتوسطات المتحركة .

٣- رسم المدرج التكراري .

٢ - فيما يلي توزيعين تكرارين لمجموعتين من الإناث والذكور على أحد الاختبارات النفسية .

| ك أناث | ك ذكور | ف    |
|--------|--------|------|
| ١٢     | ٧      | - ١٠ |
| ١٣     | ٨      | - ١٢ |
| ١٧     | ١٥     | - ١٤ |
| ٢٣     | ٢٢     | - ١٦ |
| ١٧     | ٢٢     | - ١٨ |
| ٨      | ٦      | - ٢٠ |
| ٩٠     | ٨٠     |      |

المطلوب أولاً:

- ١ - المقارنة بين المجموعتين باستخدام المضلع .
- ٢ - حساب المنوال في مجموعة الذكور .
- ٣ - حساب المتوسط الحسابي في مجموعة الإناث .
- ٤ - حساب الوسيط في مجموعة الذكور والإناث .



## سادساً

### مقاييس التشتت

#### Measure of Scattering

مقدمة: إن النتائج التي نخرج بها من المتوسطات الحسابية مضللة إلى حد كبير إن لم تقترن بمعامل آخر هو التشتت. والدليل على ذلك الكلام أنه لو كان لدينا مجموعتين من الأفراد طبق عليهما أحد اختبارات القدرات وكان عدد الأفراد في كل مجموعة أربعة وكانت درجات المجموعتين على الاختبار كما يلي:

|                   |    |    |     |    |    |          |
|-------------------|----|----|-----|----|----|----------|
| الأشخاص:          | ١  | ٢  | ٣   | ٤  | مج | المتوسطة |
| المجموعة الأولى:  | ٥٠ | ٥  | صفر | ٢٥ | ٨٠ | ٢٠       |
| المجموعة الثانية: | ٢٠ | ١٨ | ٢١  | ٢١ | ٨٠ | ٢٠       |

ويتبين لنا من خلال ما سبق أن المتوسط في المجموعتين واحد رغمًا من أن الأفراد في المجموعة الثانية متقاربين في درجاتهم من بعضهم البعض ومن المتوسط. إلا أنه في المجموعة الأولى نجد أن الشخص الأول قد حصل على درجة ٥٠ خمسين والثاني حصل على درجة ٥ خمسة والثالث حصل على درجة صفر والرابع حصل على درجة ٢٥ خمسة وعشرين. ونلاحظ أن درجات أفراد هذه المجموعة متباعدة عن بعضها البعض ورغمًا من ذلك فإن متوسطها مماثل لمتوسط المجموعة الثانية. ولمعرفة الوضع الحقيقي لقيم المجموعة لا بد أن نقيس مدى تباعد أو تشتت القيم بعضها عن

بعض . ولا يعني ذلك أن المتوسط لا قيمة له بل أن مقياس التشتت يفيد في تفسير المتوسط بل والظاهرة موضوع الدراسة ولقياس التشتت عدة أساليب منها :

١ - المدى المطلق Range

٢ - نصف المدى الربيعي Semi interquartile Range

٣ - الانحراف عن المتوسط Mean deviation

٤ - الانحراف المعياري Standard deviation

### (١) المدى المطلق

يعتمد المدى المطلق في حسابه على أعلى قيمة وأدنى قيمة في التوزيع . ويتم طرح أدنى قيمة من أعلى قيمة . فلو كان لدينا القيم الآتية وهي درجات عشر أفراد في اختبار للقدرة اللفظية Verbal ability .

الأفراد ١ ٢ ٣ ٤ ٥ ٦ ٧ ٨ ٩ ١٠

القيم ٩ - ٢٠ - ٢٤ - ٢ - ١١ - ١٣ - ٢٥ - ١٤ - ١٢ - ٥

فإننا نلاحظ أن أصغر قيمة هي درجة الفرد رقم (٧) وهي الدرجة ٢ وأن أكبر قيمة هي درجة الفرد رقم (٤) وهي الدرجة ٢٥ . ولذا فإن المدى المطلق يساوي :

المدى المطلق = أكبر قيمة - أصغر قيمة .

وبالتعويض تصبح قيمة المدى المطلق في المثال السابق :

$$\text{المدى المطلق} = 25 - 2 = 23$$

حساب المدى المطلق في جدول تكراري

ويمكن الحصول على المدى المطلق من الجدول التكراري وهو

يساوي :

المدى المطلق = الحد الأعلى لأعلى فئة - الحد الأدنى لأدنى فئة .

| ك | ف    |
|---|------|
| ٣ | - ٥  |
| ٤ | - ١٠ |
| ٥ | - ١٥ |
| ٣ | - ٢٠ |

الحد الأدنى لأدنى فئة = ٥

الحد الأعلى لأعلى فئة = ٢٤

المدى المطلق = ٢٤ - ٥ = ١٩ .

## (٢) نصف المدعي الربيعي

لاحظنا في المدى المطلق أنه يعتمد في حسابه على أعلى قيمة وعلى أدنى قيمة إذا كنا سنقوم بحسابه من القيم الخام مباشرة . أما إذا كنا سنحصل عليه من الجدول التكراري فإنه يعتمد أيضاً في حسابه على أعلى فئة وعلى أدنى فئة . أي أن عيب المدى المطلق يتركز في اهتمامه عند حسابه على قيمتين مهملاً باقي القيم وهاتين القيمتين المتطرفتين لا تمثلان بطبيعة الحال قيم المجموعة .

ولتلافي العيب السابق يهتم نصف المدى الربيعي في حسابه على الجزء المتوسط من القيم مع إهمال القسم العلوي والقسم السفلي . ويتم استخراجها بإيجاد التكرار المتجمع الصاعد لتكرارات المجموعة كما في المثال الآتي :

| ك صاعد | ك   | ف    |
|--------|-----|------|
| ١٢     | ١٢  | صفر- |
| ٤٠     | ٢٨  | - ١٠ |
| ٧٦     | ٣٦  | - ٢٠ |
| ١١٦    | ٤٠  | - ٣٠ |
| ١٤٨    | ٣٢  | - ٤٠ |
| ١٦٨    | ٢٠  | - ٥٠ |
| ١٧٦    | ٨   | - ٦٠ |
|        | ١٧٦ |      |

ولحساب نصف المدى الربيعي من الجدول السابق تتبع ما يلي :

$$١ - \text{نقوم بحساب رتبة الربيع الأدنى وهو يساوي } = \frac{\text{مجم ك}}{٤}$$

$$٢ - \text{نقوم بحساب رتبة الربيع الأعلى وهو يساوي } = \text{مجم ك} \times \frac{٣}{٤}$$

(أو طرح رتبة الربيع الأدنى من مجموع التكرارات ويكون الناتج هو رتبة الربيع الأعلى).

٣- نقوم بتحديد رتبة الربيعين الأدنى والأعلى بالنسبة للتكرار الصاعد.

٤- نقوم بحساب قيمة الربيع الأدنى والربيع الأعلى باستخدام القانون الآتي.

$$\text{قيمة الربيع} = \text{الحد الأدنى للفئة الربيعية} + \text{مدى الفئة} \times$$

$$\frac{\text{رتبة الربيع} - \text{التكرار المتجمع الصاعد للفئة قبل الربيعية}}{\text{تكرار للفئة الربيعية}}$$

تكرار للفئة الربيعية

ويلاحظ أن القانون السابق هو نفس قانون الوسيط مع تغيير كلمة الوسيط بالربيعية.

٥ - بعد ذلك يتم حساب نصف المدى الربيعي بالقانون الآتي :

$$\frac{R_3 - R_1}{4} = \text{نصف المدى الربيعي}$$

،  $R_3 =$  الربيع الثالث ،  $R_1 =$  الربيع الأول .

ونطبق الخطوات السابقة على المثال السابق كما يلي :

$$1 - \text{رتبة الربيع الأدنى} = \frac{176}{4} = 44$$

$$2 - \text{رتبة الربيع الأعلى} = \frac{3}{4} \times 176 = 132$$

$$= 132 - 44 = 88$$

٣ - تقع رتبة الربيع الأدنى في التكرار المتجمع الصاعد بين ٤٠ ، ٧٦ .

٤ - تقع رتبة الربيع الأعلى في التكرار المتجمع الصاعد بين ١١٦ ،

١٤٨ .

$$5 - \text{قيمة الربيع الأدنى} = 20 + (10 \times \frac{40 - 44}{36}) = 21,11$$

٦ - قيمة الربيع الأعلى :

$$= 40 + 10 \times \frac{116 - 132}{36} = 45$$

$$7 - \text{قيمة نصف المدى الربيعي} = \frac{21,11 + 45}{2}$$

$$= \frac{13,89}{2} = 11,95$$

ويرمز للربيع الثالث بالرمز  $R_3$

وللربيع الأول بالرمز  $R_1$

وفي الإنجليزية يرمز للربيع الثالث بالرمز Q3 وللربيع الأول Q1 .

استخدام الربيع في استخراج المجموعات المتطرفة من التوزيع :

يمكن أن يستخدم الباحث قيمة الربيع الأعلى فما فوق للكشف عن الأفراد

الموجودين في التوزيع ويمثلون أعلى أداء، وتستخدم قيمة الربيع الأدنى فما أقل للكشف عن الأفراد الذين يقعون في التوزيع ويمثلون أقل أداء. ويطلق على مثل هذه المجموعات بالمجموعات المخططة المستخرجة من جماعة ذات أصل واحد كجماعة الفصل المدرسي مثلاً والتي يمكن من خلال الربيع معرفة المتفوقين دراسياً وغير المتفوقين.

وبعد عملية فصل كل مجموعة على حدة يمكن حساب دلالة الفرق بين تحصيلهم بأسلوب الدلالة المناسب كما سنرى فيما بعد.

### (٣) الانحراف عن المتوسط

وجدنا في نصف المدى الربيعي أنه يقتصر على القيم التي في وسط التوزيع مهملات القيم التي في طرفي التوزيع. وهذا عيب لا يمكن إغفاله ولذلك فلا بد من مقياس للتشتت يضع في اعتباره القيم جميعاً. ويعتبر كل من الانحراف عن المتوسط والانحراف المعياري من مقاييس التشتت التي تضع في حسابها كل القيم ولذلك يشيع استخدامهما.

وهناك طريقتان لحساب الانحراف عن المتوسط الأولى من القيم الخام والثانية من الجدول التكراري.

#### أ - حساب الانحراف عن المتوسط من القيم الخام:

. ويعتمد ذلك على حساب المتوسط الحسابي للقيم ثم حساب انحراف هذه القيم عن المتوسط. ثم جمع مجموع الانحرافات بصرف النظر عن الإشارات وقسمة الناتج على عدد القيم فيساوي خارج القسمة الانحراف عن المتوسط.

مثال:

| الأشخاص | القيم | انحراف القيم عن المتوسط |
|---------|-------|-------------------------|
| ١       | ٤٥    | ١ +                     |
| ٢       | ٥٢    | ٨ +                     |
| ٣       | ٦٣    | ١٩ +                    |
| ٤       | ٣١    | ١٣ -                    |
| ٥       | ٥٠    | ٦ +                     |
| ٦       | ٤٢    | ٢ -                     |
| ٧       | ٢٥    | ١٩ -                    |
|         |       | <u>٣٤ +</u>             |
|         |       | <u>٣٤ -</u>             |
|         |       | صفر                     |

مجموع القيم = ٣٠٨  
متوسط القيم =  $٣٠٨ \div ٧ = ٤٤$

مجموع الانحرافات بصرف النظر عن الإشارات =  $٣٤ + ٣٤ = ٦٨$

الانحراف عن المتوسط =  $٦٨ \div ٧ = ٩,٧١$

والخطوات التي تم اتباعها هي:

١ - جمع القيم للأشخاص السبعة .

٢ - قسمة مجموع القيم على عدد الأشخاص لنحصل على المتوسط .

٣ - حساب انحراف كل قيمة عن المتوسط بطرح المتوسط من القيمة .

٤ - جمع الانحراف الموجب الإشارة والسالب الإشارة كل على حدة ، ويجب أن يكون كلا الانحرافين متساوياً . فيكون الناتج صفراً .

٥ - جمع الانحرافات الموجبة والانحرافات السالبة بصرف النظر عن إشاراتها ، على بعضهما البعض .

٦ - قسمة مجموع الانحرافات على عدد الأشخاص لنحصل على الانحراف عن المتوسط.

ب - حساب الانحراف عن المتوسط من الجدول التكراري:

يعتمد حساب الانحراف عن المتوسط من الجدول التكراري على حساب الفرق بين المتوسط الحسابي ومركز الفئة وضرب هذا الفرق في تكرار الفئات . . . يتضح هذا الكلام في المثال الآتي:

مثال:

| ف   | ك   | ح   | ك ح  | س | س-م | س - م × ك |
|-----|-----|-----|------|---|-----|-----------|
| -٨  | ٥   | -٤  | -٢٠  | ٩ | ٩   | ٤٥        |
| -١٠ | ١٢  | -٣  | -٣٦  | ٧ | ١١  | ٨٤        |
| -١٢ | ١٥  | -٢  | -٣٠  | ٥ | ١٣  | ٧٥        |
| -١٤ | ١٨  | -١  | -١٨  | ٣ | ١٥  | ٥٤        |
| -١٦ | ١٥  | صفر | -    | ١ | ١٧  | ١٥        |
| -١٨ | ١٧  | ١+  | ١٧+  | ١ | ١٩  | ١٧        |
| -٢٠ | ١٩  | ٢+  | ٣٨+  | ٣ | ٢١  | ٥٧        |
| -٢٢ | ١١  | ٣+  | ٣٣+  | ٥ | ٢٣  | ٥٥        |
| -٢٤ | ٩   | ٤+  | ٣٦+  | ٧ | ٢٥  | ٦٣        |
| ٢٢  | ٩   | ٥+  | ٤٥+  | ٩ | ٢٧  | ٨١        |
|     | ١٣٠ |     | ١٦٩+ |   |     | ٥٤٦       |
|     |     |     | ١٠٤- |   |     |           |
|     |     |     | ٦٥+  |   |     |           |



وخطوات حساب الانحراف عن المتوسط من الجدول التكراري هي :

- ١ - حساب المتوسط الحسابي .
- ٢ - حساب مراكز الفئات .
- ٣ - حساب الفرق بين مراكز الفئات والمتوسط .
- ٤ - ضرب الناتج من الخطوة السابقة في التكرارات .
- ٥ - نقوم بجمع العمود س - م  $\times$  ك .
- ٦ - نقوم بقسمة الناتج في الخطوة السابقة على مجموع التكرارات .

$$\text{لنحصل على الانحراف عن المتوسط} = \frac{\text{مجموع س-م} \times \text{ك}}{\text{مجموع ك}}$$

ويتضح الكلام السابق بالتعويض عن القانون كما يلي :

$$\text{المتوسط الحسابي} = 17 + 2 \times \frac{175}{131} = 18$$

$$\text{الانحراف عن المتوسط} = \frac{547}{131} = 4,2$$

### (٤) الانحراف المعياري

يتشابه الانحراف المعياري مع الانحراف المتوسط في طريقة حسابه والاختلاف الوحيد يتركز في أن الانحراف المعياري يتخلص من الإشارات بتربيع القيم . وللحصول على الانحراف المعياري توجد طريقتان :

الأولى : من القيم الخام .

والثانية : من الجدول التكراري .

أ - حساب الانحراف المعياري من القيم الخام :

وتتلخص هذه الطريقة بعد حساب الانحراف عن المتوسط تربيع هذا الانحراف (للتخلص من الإشارات) ثم إيجاد الجذر التربيعي لمجموع هذه الانحرافات مقسومة على عدد الأشخاص . والانحراف المعياري بهذه.

الصورة عبارة عن الجذر التربيعي لمتوسط مربعات الانحرافات عن المتوسط.

مثال :

| الأفراد | القيم | الانحراف عن المتوسط | مربع الانحراف عن المتوسط |
|---------|-------|---------------------|--------------------------|
| ١       | ٣٥    | ١                   | ١                        |
| ٢       | ٣٧    | ٣-                  | ٩                        |
| ٣       | ٢٠    | ١٢-                 | ١٤٤                      |
| ٤       | ٤٤    | ١٠                  | ١٠٠                      |
| ٥       | ٣٠    | ٤-                  | ١٦                       |
| ٦       | ٣٩    | ٥                   | ٢٥                       |
| ٧       | ٣١    | ٣                   | ٩                        |
|         | ٢٣٨   |                     | ٣٠٤                      |

$$\text{المتوسط} = 7 \div 238 = 34$$

$$\text{الانحراف المعياري} = \sqrt{\frac{304}{7}} = \sqrt{43,43} = 6,59$$

ب - حساب الانحراف المعياري من الجدول التكراري :

وتتبع في ذلك نفس خطوات حساب المتوسط ثم تضرب ك ح في ح لنحصل على ك آح ، وبعد ذلك يتم تطبيق القانون الآتي :

$$ع = \sqrt{ف \left[ \frac{\text{مجمك ح}^2}{\text{مجمك}} - \frac{\text{مجمك ح}^2}{\text{مجمك}} \right]}$$

حيث أن :

ع = الانحراف المعياري .

ف = مدى الفئة .

مجدك ح' = مجموع ضرب الانحراف ك ح في ح .

مجدك = مجموع التكرارات .

مجدك ح = مجموع ضرب الانحراف ح في التكرار .

مثال :

| ك ح | ك ح | ح   | ك  | ف   |
|-----|-----|-----|----|-----|
| ٣   | ٣-  | ١-  | ٣  | -٥  |
| -   | -   | صفر | ٤  | -١٠ |
| ٨   | ٨+  | ١+  | ٨  | -١٥ |
| ٢٠  | ١٠+ | ٢+  | ٥  | -٢٠ |
| ٣١  | ٣-  |     | ٢٠ |     |
|     | ١٨+ |     |    |     |
|     | ١٥+ |     |    |     |

وبالتعويض عن القانون السابق تكون قيمة ع هي :

$$ع = \sqrt{\frac{٣٠}{٢٠} - \frac{١٥}{٢٠}} = \sqrt{١,٥٥ - ٠,٥٦} = ٠,٩٧$$

$$٤,٨٥ = ٠,٩٧ \times ٥ = \sqrt{٠,٩٤} \times ٥ =$$

$$٠,٤٧٠ = ٠,٩٤ \times ٥ = \sqrt{٠,٩٩} \times ٥ =$$

## تمارين على مقاييس التشتت

١- يوضح الجدول التكراري الآتي توزيع درجات مجموعة من الطلبة في أحد مقاييس الاتجاهات .

| ك  | ف    |
|----|------|
| ٣  | - ١٠ |
| ٤  | - ٢٠ |
| ١٣ | - ٣٠ |
| ١١ | - ٤٠ |
| ١٠ | - ٥٠ |
| ١٠ | - ٦٠ |

والمطلوب حساب :

١ - المدى المطلق .

٢ - نصف المدى الربيعي .

٣ - الانحراف عن المتوسط .

٤ - الانحراف المعياري .

٢ - فيما يلي قيم ٤٠ أربعين عاملاً على اختبار للمعلومات

الميكانيكية :

٨ - ١١ - ١٣ - ١٦ - ١٤ - ١٢ - ٢٣ - ١٧ - ٢٥ - ١٥

٧ - ٣٠ - ٢٤ - ٢٣ - ١٩ - ٨ - ١٠ - ١٥ - ٢٢ - ١٧

٣٠ - ١٣ - ١١ - ٨ - ٨ - ٩ - ١٥ - ١٢ - ١٣ - ٢٣

١٤ - ٨ - ١٢ - ١٠ - ١٧ - ١٥ - ٣١ - ٣٠ - ٢٤ - ٢٢

والمطلوب :

- ١ - حساب المدى المطلق .
- ٢ - توزيع القيم في جدول تكراري .
- ٣ - حساب التشتت عن طريق : نصف المدى الربيعي والانحراف المعياري .

## سابعاً المعايير Norms

مقدمة: إن القيمة الخام في أي مجموعة من القيم لا تعطي معنى أو دلالة. فإذا فرضنا أن شخصاً ما أخذ في مادة ١٥ من عشرين (١/٥) فإن هذه الدرجة لا تدل على ما إذا كان هذا الشخص قوياً في هذه المادة أو متوسطاً أو ضعيفاً. فقد يكون الاختيار صعباً حتى أن هذه الدرجة هي أعلى الدرجات وقد يكون سهلاً بحيث أن هذه الدرجة أقل الدرجات أو قد يكون متوسطاً بحيث أن هذه الدرجة تقع في وسط التوزيع.

لهذا فإن القيمة الخام Raw Score لا تستعمل عادة في المقارنات ومن الوسائل المستخدمة لهذا الغرض الدرجة المعيارية والمثينة.

### ١ - الدرجة المعيارية Standard Score

وقانون الدرجة المعيارية (\*) قائم على أساس حساب الفرق بين القيمة والمتوسط مقسوماً على الانحراف المعياري.

$$\text{الدرجة المعيارية} = \frac{\text{القيمة} - \text{المتوسط}}{\text{س} - \text{م}} = \frac{\text{الانحراف المعياري}}{\text{ع}}$$

(\*) يمكن معرفة هل هناك فرق له دلالة إحصائية بين درجة الفرد الخام وبين متوسط جماعته باستخدام الدرجة المعيارية وتوضع درجة الفرد في المعادلة مكان القيمة. ويعتبر الفرق دالاً عند مستوى ٠,٠٥ إذا كانت الدرجة المعيارية ١,٩٦ ودالاً عند ٠,٠١ عندما تساوي ٢,٥٨.

\* والدرجة المعيارية على ذلك قد تساوي صفراً في حالة تساوي القيمة بالمتوسط.

\* كذلك تكون الدرجة المعيارية موجبة الإشارة إذا كانت القيمة أعلى من المتوسط.

\* وتكون الدرجة المعيارية (S.S.) سالبة الإشارة إذا كانت القيمة أقل من المتوسط.

مثال:

|                 |                     |     |                 |     |
|-----------------|---------------------|-----|-----------------|-----|
| ك               | ح                   | ح   | ك               | ف   |
| ١٠              | ١٠ -                | ١ - | ١٠              | - ٢ |
| -               | -                   | صفر | ٢٠              | - ٤ |
| $\frac{١٠}{٢٠}$ | $\frac{١٠ +}{١٠ -}$ | ١ + | $\frac{١٠}{٤٠}$ | - ٦ |
|                 | $\frac{١٠ +}{صفر}$  |     |                 |     |

م في المثال السابق = ٥

ع في المثال السابق = ١,٤

فإذا أردنا حساب الدرجات المعيارية المقابلة للقيم الآتية:

$$٦ - ٥ - ٤,٥$$

نطبق القانون السابق:

$$\text{الدرجة المعيارية للقيمة } ٤,٥ = \frac{٥ - ٤,٥}{١,٤} = -٠,٣٦$$

$$\text{الدرجة المعيارية للقيمة } ٥ = \frac{٥ - ٥}{١,٤} = \text{صفر}$$

$$\text{الدرجة المعيارية للقيمة } 6 = \frac{5-6}{1,4} = \frac{1}{1,4} = 0,71$$

تحويل الدرجات المعيارية للقيم الأصلية :

في الجدول السابق ما هي القيمة المقابلة للدرجة المعيارية + 2 .

معنى الدرجة المعيارية + 2 هو أن القيمة الخام تزيد عن المتوسط

بمقدار 2 انحراف معياري أي بمقدار  $2 \times 1,4$

وفي هذا المثال تكون القيمة المقابلة للدرجة المعيارية + 2 تساوي =

$$7,8 = 2,8 + 5 = 1,4 \times 2 + 5$$

القيمة الخام = المتوسط  $\pm$  الدرجة المعيارية  $\times$  ع

ولحساب القيمة المقابلة للدرجة المعيارية - 1 فإنها تساوي =  $1 - 5 \times$

$$3,6 = 1,4 - 5 = 1,4$$

## ٢ - الدرجة التائية

وهي عبارة عن درجة معيارية متوسطها 50 وانحرافها المعياري 10 .

وبها يمكن التخلص من الإشارات السالبة والموجبة في الدرجة المعيارية .

فمثلاً لو كان لدينا درجة معيارية - 1 فإن الدرجة التائية المقابلة لها تساوي =

$$10 - 50 = 10 \times 1 - 50 = 40$$

وقانون الدرجة التائية يساوي :

$$= 50 \pm \text{الدرجة المعيارية} \times 10$$

## ٣ - المئين

### Percentile

يشير المئين لمركز الفرد بالنسبة للجماعة التي ينتمي إليها ويستعين به

الأخصائي في عمليات الاختيار المهني Vocational Selection فبعد أن يطبق



الاختبار على الشخص ويقوم بتصحيحه فإنه يحاول أن يعرف مركز هذا الشخص بالنسبة لمجموعته في معايير الاختبار المئينية .

ويدل المئين على النسبة المئوية للقيم التي تقع قبل القيمة المطلوبة . فإذا كانت الرتبة المئينية لشخص ما في اختبار معين بالنسبة لمجموعة هي (٩٠ درجة) كان معنى ذلك أن ٩٠٪ من أفراد العينة تحتل مكاناً أدنى من المكان الذي يحتله هذا الفرد ومعنى ذلك أنه كلما زادت الرتبة المئينية للقيمة ذل ذلك على أنها قيمة كبيرة نسبياً بالنسبة لقيم المجموعة .

مثال :

| ك صاعد | ك   | ف    |
|--------|-----|------|
| ٣٠     | ٣٠  | - ٢  |
| ٨٠     | ٥٠  | - ٤  |
| ١٢٠    | ٤٠  | - ٦  |
| ١٧٠    | ٥٠  | - ٨  |
| ٢٠٠    | ٣٠  | - ١٠ |
|        | ٢٠٠ |      |

والمطلوب في هذا المثال معرفة المئين الـ ٧٠ وتكون أول خطوة هي حساب رتبة القيمة في المجموعة ثم حساب قيمة المئين (قانونها كقانون الوسيط) .

$$\text{رتبة القيمة} = 200 \times \frac{7}{100} = 140$$

$$\text{قيمة المئين} = \text{الحد الأدنى للفئة المئينية} +$$

$$\frac{\text{رتبة القيمة} - \text{التكرار المجتمع الصاعد قبل الفئة المئينية}}{\text{تكرار الفئة}} \times \text{مدى الفئة}$$

قيمة المئين في المثال السابق :

$$8,8 = \frac{40}{50} + 8 = 2 \times \frac{120-140}{50} + 8 =$$

الخطوات :

١ - أوجد رتبة المئين في المجموعة =  $\frac{\text{القيمة}}{100} \times \text{مجموع ك}$

٢ - لإيجاد قيمة المئين تتبع نفس طريقة الحصول على الوسيط. أي نحصل على

التكرار المجتمع الصاعد ومنه نعرف تكرار الفئة المئينية .

٣ - القيمة = الحد الأدنى للفئة +

$$\frac{\text{الفرق بين رتبة القيمة وك صاعد} \times \text{مدى الفئة}}{\text{تكرار الفئة}}$$

### تمارين

الجدول التكراري الآتي يمثل توزيع أحد السمات الانفعالية :

| ك  | ف    |
|----|------|
| ٧  | - ١٠ |
| ٨  | - ١٢ |
| ١٣ | - ١٤ |
| ١٥ | - ١٦ |
| ٥  | - ١٨ |
| ٢  | - ٢٠ |

والمطلوب :

١ - حساب الدرجات المعيارية المقابلة للقيم الآتي :

$$١٠ - ١١ - ١٦ - ١٧ - ٢٠$$

٢- حساب قيمة المئين الـ ٥٠، ٤٠، ٥٥.

٣- أحسب الدرجات التائية المقابلة للدرجات المعيارية الآتية:

$$.١,٣ + ،١ - ،١ + ،٥ + ،٤٢ - ،٣ .$$



الجزء الثاني  
الاجزاء الطبيعي



# أولاً

## معاملات الارتباط

### Correlation Coefficient

مقدمة : يستخدم معامل الارتباط في الكشف عن العلاقة بين أي متغيرين واما إذا كانت هذه العلاقة موجبة أو سالبة . ويقصد بأن العلاقة موجبة (+) أن الزيادة في أحد المتغيرين يتبعه زيادة في المتغير الثاني ، مثل الزيادة في انتظام التلاميذ وحضورهم إلى المدرسة يتبعه زيادة في درجة تحصيلهم ، ومثل الزيادة في مواظبة العامل على عمله وإطاعته لأوامر رؤسائه (المتغير الأول) يتبعه زيادة في كفاءته الإنتاجية في العمل (المتغير الثاني) . كما يقصد بأن العلاقة سالبة (-) أن الزيادة في أحد المتغيرين يتبعه نقصان في المتغير الآخر مثل زيادة أيام غياب العامل عن عمله (المتغير الأول) يتبعه نقصان في كمية إنتاجية (المتغير الثاني) ومثل زيادة عدد الحوادث التي يقع فيها العامل في عمله (المتغير الأول) يتبعها نقصان في عدد الوحدات التي يستطيع إنتاجها (المتغير الثاني) أي أن العلاقة تكون عكسية فكلما زادت في ناحية تبعها نقصان (عكس الزيادة) في الناحية الثانية .

وعندما نعبر عددياً عن نوع هذه العلاقة في مجال العلوم الإنسانية كعلم النفس وعلم الاجتماع فإن هذه العلاقة تقع بين أقل من + ١ وبين أقل من - ١ ، أي تقع بين + ٠,٩٩ - ٠,٩٩ وذلك لأن العلاقة التامة الكاملة سواء أكانت موجبة (+ ١) أو كائت سالبة (- ١) لا توجد في مجال علم النفس

والاجتماع بل توجد في مجال العلوم الطبيعية فقط مثل العلاقة بين حجم الغاز وضغطه فكلما زاد ضغطنا باليد على بالونة بها غاز قلت كمية الغاز الموجودة في البالونة بنفس مقدار الضغط . . . وهكذا . كذلك فإننا نجد عند وضعنا لجسم صلب من الخشب مثلاً على سطح إناء به ماء وضغطنا بإصبعنا على هذا الجسم فإن حجم الجزء الذي غاص من هذا الجسم في الماء يعادل كمية الماء التي زادت في الإناء وبنفس المقدار أي أن العلاقة هنا تكون تامة وموجبة أي تساوي + ١ .

والسبب في أن العلاقة في مجال علم النفس وعلم الاجتماع لا تكون تامة موجبة أو تامة سالبة كتلك السابق الكلام عنها في العلوم الطبيعية راجع إلى أن موضوع الدراسة في مجال هذه العلوم (النفس والاجتماع) وهو أن الإنسان كائن متغير تبعاً للظروف العائلية والاجتماعية والبيئية التي يعيش فيها . فنجدته سعيداً في وقت وحزيناً في وقت آخر عندما تحدث له حادثة ما أو تلم به مصيبة أو كارثة لضياع نقوده أو رسوبه وعدم نجاحه في الامتحان أو العمل . كذلك نجد أن هذا الإنسان في وقت ما يتمتع بعلاقات حسنة مع زملائه وأصدقائه وأفراد أسرته وفي وقت آخر نجد أن هذه العلاقات قد سادها التوتر والصراع بسبب عدم التعاون أو المنافسة على موضوع ما بينه وبين باقي أفراد جماعته . كذلك نجد أن هذا الإنسان يفكر تفكيراً صائباً سليماً في لحظة ما ، وفي لحظة أخرى نجد أن تفكيره قد تلون بالاضطراب والتفكك وذلك لشدة واستمرار ما يواجهه في دراسته أو عمله من مواقف الفشل وعدم النجاح ، ولهذا كله فإننا لا نتوقع مثلاً أنه إذا حفظ الطالب أو تلميذ التدريب درسه وعرف جميع قواعده وحل كثيراً من الامتحانات السابقة المماثلة أن يحصل على الدرجة النهائية - وهذا الكلام بالنسبة للأغلبية بالطبع لأنه من المحتمل كثيراً أن يحدث للطالب يوم الامتحان أمر ما يؤدي إلى عدم حصوله على الدرجة النهائية كتأخر لحظات عن الامتحان نتيجة لظروف المواصلات



أو لضياح بطاقة دخوله الامتحان مما يؤدي ذلك إلى تأخره بعض الوقت حتى يتم إثبات شخصيته بوسيلة أخرى . أو كأن يكسر سن قلمه أو ينضب ما فيه من حبر، أو يحدث في بيته أي خلاف بين أبيه وأمه . . . إلخ . كل هذه الأمور بدون أدنى شك تؤثر في نتيجة الطالب وبالتالي - وكما سبق أن قلنا - لا نتوقع أن تكون هناك علاقة تامة موجبة أو تامة سالبة في مجال علم النفس وعلم الاجتماع بل تكون العلاقة فيهما جزئية موجبة (+ ٤٢ , ٠ , مثلاً) أو جزئية سالبة (٠ , ٤٢ , - , مثلاً) وسنوضح فيما بعد أنواع هذه العلاقات الخمس إحصائياً:

- أ - التامة الموجبة .
- ب - التامة السالبة .
- ج - الجزئية الموجبة .
- د - الجزئية السالبة .
- هـ - العلاقة الصفرية أي لا يوجد علاقة بين المتغيرين .

وأشكال معاملات الارتباط كثيرة منها:

- أ - معامل ارتباط الرتب لسبيرمان .
- ب - معاملات ارتباط بيرسون الآتية :
  - ١ - معامل ارتباط بيرسون عن طريق القيم الخام .
  - ٢ - معامل ارتباط بيرسون عن طريق الانحراف عن المتوسط .
  - ٣ - معامل ارتباط بيرسون عن طريق جدول الانتشار .
- ج - معامل التوافق .
- د - معامل فاي .
- هـ - معامل الارتباط الثنائي .

وسنتناول كل منها فيما بعد بالتفصيل محددين الخطوات المختلفة المستخدمة في حسابه ، ضاربين كثيراً من الأمثلة المحلولة على ذلك .

## (١) معامل ارتباط الرتب لسبيرمان

### Rank Correlation

يستخدم معامل ارتباط الرتب لسبيرمان في حالة العينات التي يكون العدد فيها صغيراً ويعتمد في حسابه على ترتيب القيم في كل من المتغيرين موضوع الدراسة ثم حساب الفرق بينهما وبعد ذلك يتم تربيع هذا الفرق للتخلص من الإشارات .

وقانون معامل ارتباط الرتب هو:

$$r = 1 - \frac{6 \sum d^2}{n(n^2 - 1)}$$

ولعل كلامنا يكون واضحاً لو أوردنا المثال الآتي:

مثال (١) .

أراد باحث أن يعرف هل هناك علاقة بين حجم أسرة العامل الصناعي وكفاءته الإنتاجية أم لا؟ . أي هل كلما زاد عدد أفراد أسرة العامل كلما زادت كفاءته الإنتاجية أم العكس؟ . فقام الباحث بجمع بيانات عن خمسة من هؤلاء العمال تتعلق بعدد أفراد أسرته (المتغير س) وتتعلق بكفاءته الإنتاجية (المتغير ص) فكانت كما يلي:

| العمال<br>(ق) | حجم الأسرة<br>(س) | الكفاءة<br>الإنتاجية<br>(ص) | رتبة<br>س | رتبة<br>ص | ف   | ف <sup>٢</sup> |
|---------------|-------------------|-----------------------------|-----------|-----------|-----|----------------|
| ١             | ٥                 | ٤                           | ١         | ٢         | ١-  | ١              |
| ٢             | ٢                 | ١                           | ٤         | ٥         | ١-  | ١              |
| ٣             | ٤                 | ٣                           | ٢         | ٣         | ١-  | ١              |
| ٤             | ٣                 | ٥                           | ٣         | ١         | ٢+  | ٤              |
| ٥             | ١                 | ٢                           | ٥         | ٤         | ٢-  | ٤              |
|               |                   | ١٥                          | ١٥        |           | ٣+  | ١١             |
|               |                   |                             |           |           | ٣-  |                |
|               |                   |                             |           |           | صفر |                |

وبالتعويض عن معادلة ارتباط الرتب لسبيرمان في هذا المثال كما

يلي:

$$= \frac{66}{120} - 1 = \frac{11 \times 6}{(1-25)5} - 1 = r$$

$$, 450 = 0,55 - 1 = r$$

حيث أن:

ر = معامل الارتباط.

ف<sup>٢</sup> = مجموع مربع الفرق بين رتبة س، رتبة ص.

ن = عدد الأفراد.

ن<sup>٢</sup> = مربع عدد الأفراد.

مثال (٢):

أراد باحث أن يكشف عن العلاقة بين العمر والذكاء لدى مجموعة

مكونة من ٦ ستة أفراد وكانت درجاتهم على هذين المتغيرين كالآتي:

| ق | س  | ص  | رتبة س | رتبة ص | ف   | ف   |
|---|----|----|--------|--------|-----|-----|
| ١ | ٢٥ | ٩  | ٢      | ٤      | ٢-  | ٤   |
| ٢ | ١٥ | ١٠ | ٣      | ٣      | صفر | صفر |
| ٣ | ٣٠ | ١٢ | ١      | ١      | صفر | صفر |
| ٤ | ١٠ | ٨  | ٥      | ٥      | صفر | صفر |
| ٥ | ٨  | ١١ | ٦      | ٢      | ٤+  | ١٦. |
| ٦ | ١٢ | ٧  | ٤      | ٦      | ٢-  | ٤   |
|   |    |    | ٢١     | ٢١     | ٤+  | ٢٤  |
|   |    |    |        |        | ٤-  |     |
|   |    |    |        |        | صفر |     |

$$r = \frac{144}{35 \times 6} - 1 = \frac{24 \times 6}{(1-36)6} - 1 = r$$

$$r = \frac{144}{21} - 1 = 0,686 - 1 = -0,314$$

أ- خطوات حساب معامل ارتباط الرتب:

ومن خلال المثالين السابقين يتضح لنا أن خطوات معامل ارتباط الرتب

تنحصر فيما يلي:

١- نقوم بترتيب المتغير الأول (س) ترتيباً تنازلياً وذلك بإعطاء الرتبة الأولى لأكبر درجة والرتبة الثانية للدرجة التي تليها وهكذا. ويوضع هذا الترتيب في العمود الثالث المسمى رتبة س.

٢- نقوم بترتيب المتغير الثاني (ص) بنفس طريقة ترتيب المتغير الأول وذلك بإعطاء أكبر درجة الرتبة الأولى والدرجة التي تليها الرتبة الثانية وهكذا حتى ننتهي من إعطاء رتب لكل درجات المتغير. ويوضع هذا الترتيب في العمود الرابع المسمى رتبة ص.

٣ - نقوم بحساب الفرق بين رتبة س وبين رتبة ص وذلك بطرح رتبة ص من رتبة س أو العكس كلاهما صحيح . ويوضح الناتج في العمود المسمى ف أي الفرق .

٤ - نقوم بعد ذلك بتربيع الفرق ويوضح الناتج في العمود المسمى ف٢ .

٥ - نقوم بجمع القيم الموجودة في العمود ف٢ لنحصل على مجف ٢ . ويمكن مراجعة الخطوات السابقة للتأكد من صحتها على النحو الآتي :

١ - أن يكون مجموع العمود رتبة س مساوياً لمجموع العمود رتبة ص .

٢ - أن يكون مجموع العمود الخامس ف مساوياً للصفر أي أن يكون مجموع القيم الموجبة مساوياً لمجموع القيم السالبة .

٦ - وبعد ذلك يتم تطبيق القانون على النحو السابق ذكره .

ب - حساب معامل ارتباط الرتب في حالة تكرار القيم في المتغيرين س، ص أو أحدهما .

في أحيان كثيرة يحصل أحد أفراد العينة أو أكثر على نفس الدرجة التي يحصل عليها فرد آخر. أي أن يتكرر وجود أكثر من درجة متساوية في القيمة مع بعضها البعض كأن يحصل محمد في المتغير س وهو التذكر على درجة ١٢ وهي نفس الدرجة التي حصل عليها حسام فلو كانت درجتني أحمد وحسام هما أعلى الدرجات التي حصل عليها أفراد العينة أعطينا أحدهما الرتبة الأولى أي واحد وأعطينا الآخر الرتبة الثانية أي اثنين ثم نقوم بعد ذلك بجمع الرتبين وقسمتهما على عددهما فيكون الناتج هو الرتبة التي توضع أمام درجتني أحمد وحسام وذلك على النحو الآتي :

| الأسماء | س  | الرتبة | رتبة |
|---------|----|--------|------|
| أحمد    | ١٢ | (١)    | ١,٥  |
| حسام    | ١٢ | (٢)    | ١,٥  |

متوسط مجموع الرتبين (٣)  $1,5 = 2 \div (3)$

مثال (٣):

| ق | س  | ص  | رتبة س | رتبة ص | ف     | ف'    |
|---|----|----|--------|--------|-------|-------|
| ١ | ٢٠ | ٨  | ١      | ٤      | ٣,٠ - | ٩,٠٠  |
| ٢ | ١٩ | ٩  | ٢,٥    | ٣      | ٠,٥ - | ٠,٢٥  |
| ٣ | ١٩ | ١٠ | ٢,٥    | ١,٥    | ١,٠   | ١,٠٠  |
| ٤ | ١٥ | ٧  | ٤      | ٥      | ١,٠ - | ١,٠٠  |
| ٥ | ١٢ | ١٠ | ٥      | ١,٥    | ٣,٥   | ١٢,٢٥ |
|   |    |    | ١٥     | ١٥     | ٤,٥ - | ٢٣,٥٠ |
|   |    |    |        |        | ٤,٥ + |       |
|   |    |    |        |        | صفر   |       |

ففي هذا المثال (٣) نجد أنه عند ترتيبنا للمتغير س أعطينا أكبر قيمة وهي الرتبة واحد، والقيمة التي تلي ذلك هي ١٩، نجد أنه توجد قيمة أخرى مساوية لها فنعطي أحد القيمتين اثنين والقيمة الأخرى الرتبة ثلاثة ثم نقوم بقسمتهما على النحو التالي:  $2 + 3 = 5 = 2,5$  أي أن رتبة كل من القيمتين واحدة وهي ٢,٥ وذلك لأنهما متساويتين. وكذلك الأمر بالنسبة للقيمة ١٠ في المتغير ص.

وبالتعويض عن معادلة معامل ارتباط الرتب لسبيرمان في هذا المثال كما يلي:

$$r = 1 - \frac{23,5 \times 6}{1 - 20 \times 0}$$

$$r = 1 - \frac{141}{24 \times 0} = 1,18 - 1 = 0,18$$

ج - حساب العلاقة بين متغيرين ينقسمان انقساماً نوعياً بمعامل ارتباط الرتب :  
 يمكن استخدام معامل ارتباط الرتب في حساب العلاقة بين متغيرين  
 ينقسم كل منهما انقساماً نوعياً حسب طبيعة البحث مثل العلاقة بين تقديرات  
 المدرسين لمستوى تحصيل التلاميذ وبين تقديرات الاقتصاديين لمستواهم  
 الاقتصادي .

مثال :

فيما يلي تقديرات المدرس لمستوى تحصيل ثلاثة من تلاميذه وكذلك  
 تقديرات المختصين لمستواهم الاقتصادي .

ق التحصيل الاقتصادي رتبة التحصيل رتبة الاقتصادي الفرق مربع الفرق

|   |     |   |   |   |               |
|---|-----|---|---|---|---------------|
| ١ | ١ - | ٣ | ٢ | ١ | جيد جداً فقير |
| ١ | ١ + | ٢ | ٣ | ٢ | متوسط غني     |
| - | صفر | ١ | ١ | ٣ | ممتاز ثري     |
| ٢ |     |   |   |   |               |

$$r = 1 - \frac{2 \times 6}{1 - 9 \times 3} = 1 - \frac{12}{24} = 1 - 0,5 = 0,5$$

أي أن العلاقة بين التحصيل والمستوى الاقتصادي علاقة موجبة .

### تمارين (\*)

١ - في دراسة على مجموعة من الأطفال أجرى الباحث عليهم

(\*) من المفيد في مثل هذه التمارين أن يقوم الطالب بحلها بنفسه أولاً حسب القواعد السابقة ثم  
 يقوم بمراجعة حله بالحل الموجود بعد التمارين .

اختبارين أحدهما يقيس القدرة على التصور والثاني يقيس اقدرة على التذكر وكان عدد هؤلاء الأطفال ١٠ وكانت درجاتهم كما يلي:

س (التصور): ١٢ - ٢٤ - ١٨ - ١٠ - ٧ - ١٧ - ٣٢ - ٢١ - ٢٣ - ٦

ص (التذكر): ٨ - ١٣ - ١٤ - ٢٢ - ١٧ - ٢ - ٥ - ١٥ - ١١ - ٣

٢ - أجرى باحث بحثاً على مجموعة من الذكور عددهم ٥ أفراد فطبق عليهم اختباراً للشخصية لقياس الانطواء والانبساط فكانت درجاتهم عليهما:

س (الانطواء): ٥ - ٦ - ٥ - ٤ - ٣

ص (الانبساط): ١٢ - ١١ - ١٠ - ١١ - ٨

أحسب معامل الارتباط في الدراسة والبحث السابقين .

٣ - صنف درجات خمسة من العمال على اختبار للذكاء إلى خمس مستويات كما استخرجت تقديراتهم على مقياس الكفاية الإنتاجية فكانت كما يلي:

| العمال  | ١     | ٢     | ٣     | ٤        | ٥        |
|---------|-------|-------|-------|----------|----------|
| الذكاء  | ضعيف  | أقل   | متوسط | فوق      | جيد جداً |
| الكفاية | مقبول | متوسط | جيد   | جيد جداً | ممتاز    |

والمطلوب حساب لارتباط بين الذكاء والكفاية .

الحل:



التمرين الأول:

| ق  | س  | ص  | رتبة ص | رتبة ص | ف   | ف <sup>2</sup> |
|----|----|----|--------|--------|-----|----------------|
| ١  | ١٢ | ٨  | ٧      | ٧      | صفر | صفر            |
| ٢  | ٢٤ | ١٣ | ٢      | ٥      | ٣-  | ٩              |
| ٣  | ١٨ | ١٤ | ٥      | ٤      | ١+  | ١              |
| ٤  | ١٠ | ٢٣ | ٨      | ١      | ٧+  | ٤٩             |
| ٥  | ٧  | ١٧ | ٩      | ٢      | ٧+  | ٤٩             |
| ٩  | ١٧ | ٢  | ٦      | ١٠     | ٤-  | ١٦             |
| ٧  | ٣٢ | ٥  | ١      | ٨      | ٧-  | ٤٩             |
| ٨  | ٢١ | ١٥ | ٤      | ٣      | ١+  | ١              |
| ٩  | ٢٣ | ١١ | ٣      | ٦      | ٣-  | ٩              |
| ١٠ | ٦  | ٣  | ١٠     | ٩      | ١+  | ١              |
|    |    |    | ٥٥     | ٥٥     | ١٧- | ١٨٤            |
|    |    |    |        |        | ١٧+ |                |
|    |    |    |        |        | صفر |                |

$$\frac{1104}{990} - 1 = \frac{184 \times 61}{1 - 100 \times 10} - 1 = \text{س}$$

$$\text{س} = 1, 12 - 1 = 0, 12 -$$

### التمرين الثاني:

| ق | س | س  | رتبة س | رتبة ص | ف     | ف    |
|---|---|----|--------|--------|-------|------|
| ١ | ٥ | ١٢ | ٢,٥    | ١      | ١,٥ + | ٢,٢٥ |
| ٢ | ٦ | ١١ | ١      | ٢,٥    | ١,٥ - | ٢,٢٥ |
| ٣ | ٥ | ١٠ | ٢,٥    | ٤      | ١,٥ - | ٢,٢٥ |
| ٤ | ٤ | ١١ | ٤      | ٢,٥    | ١,٥ + | ٢,٢٥ |
| ٥ | ٣ | ٨  | ٥      | ٥      | صفر   | صفر  |
|   |   |    | ١٥     | ١٥     | ٣ +   | ٩    |
|   |   |    |        |        | ٣ -   | صفر  |

$$r = \frac{9 \times 6}{1 - 25 \times 5} - 1 = \frac{54}{24 \times 5} - 1$$

$$r = \frac{54}{120} - 1 = 0,45 - 1 = -0,55$$

### التمرين الثالث:

| ق | الذكاء   | الكفاية  | رتبة ذكاء | رتبة كفاية | ف   | ف   |
|---|----------|----------|-----------|------------|-----|-----|
| ١ | ضعيف     | مقبول    | ٥         | ٥          | صفر | صفر |
| ٤ | أقل      | متوسط    | ٤         | ٤          | صفر | صفر |
| ٣ | متوسط    | جيد      | ٣         | ٣          | صفر | صفر |
| ٤ | فوق      | جيد جداً | ٢         | ٢          | صفر | صفر |
| ٥ | جيد جداً | ممتاز    | ١         | ١          | صفر | صفر |

$$r = \frac{6 \times \text{صفر}}{1 - 25 \times 5} - 1 = \frac{\text{صفر}}{120} - 1 = -1$$

## حدود معامل الارتباط

تبين بعد الجزء السابق كيفية الحصول على معامل الارتباط ويجدر بنا هنا أن نعرف من خلال التمارين الإحصائية المختلفة حدود هذا العامل مدللين على ذلك بالأمثلة . وإنما نستطيع تبين هذه الحدود من خلال النظر لرتبة كل من المتغيرين ، ومن خلال جدول الانتشار أو ما يسمى بالجدول المزدوج .

أ - من خلال النظر للرتب

١ - في حالة العلاقة التامة الموجبة :

مثال :

| ق | ص  | ص   | رتبة س   | رتبة ص   | ف          | ف <sup>٢</sup> |
|---|----|-----|----------|----------|------------|----------------|
| ١ | ٢٠ | ٦   | ١        | ١        | صفر        | صفر            |
| ٢ | ١٨ | ٥   | ٢        | ٢        | صفر        | صفر            |
| ٣ | ٩  | ٣   | ٣        | ٣        | صفر        | صفر            |
| ٤ | ٧  | صفر | ٤        | ٤        | صفر        | صفر            |
|   |    |     | <u>٤</u> | <u>٤</u> | <u>صفر</u> | <u>صفر</u>     |
|   |    |     | ١٠       | ١٠       | صفر        | صفر            |

$$r = 1 - \frac{6 \times \text{صفر}}{1 - 16 \times 4} = 1 - \frac{\text{صفر}}{60}$$

$$r = 1 - \text{صفر} = 1 +$$

ويتضح لنا بمجرد النظر لرتبة كل من المتغيرين س ، ص أن قيم المتغير س قد أخذت نفس رتب قيم المتغير ص وفي هذه الحالة نتوقع أن تكون قيمة معامل الارتباط تساوي + ١ أي أنها علاقة موجبة .

٢- في حالة العلاقة التامة السالبة :

مثال :

| ق | س  | ص  | رتبة س    | رتبة ص    | ف           | ف          |
|---|----|----|-----------|-----------|-------------|------------|
| ١ | ٣٥ | ١٢ | ١         | ٨         | ٧-          | ٤٩         |
| ٢ | ٣٢ | ١٣ | ٢         | ٧         | ٥-          | ٢٥         |
| ٣ | ١٨ | ٢٧ | ٣         | ٦         | ٣-          | ٩          |
| ٤ | ١٧ | ٢٨ | ٤         | ٥         | ١-          | ١          |
| ٥ | ١٠ | ٣٠ | ٥         | ٤         | ١+          | ١          |
| ٦ | ٩  | ٤٥ | ٦         | ٣         | ٣+          | ٩          |
| ٧ | ٨  | ٥٠ | ٧         | ٢         | ٥+          | ٢٥         |
| ٨ | ٢  | ٦٥ | ٨         | ١         | ٧+          | ٤٩         |
|   |    |    | <u>٣٦</u> | <u>٣٦</u> | <u>١٦-</u>  | <u>١٦٨</u> |
|   |    |    |           |           | <u>١٦ ع</u> |            |
|   |    |    |           |           | صفر         |            |

$$r = 1 - \frac{168 \times 6}{1 - 64 \times 8}$$

$$r = 1 - \frac{1008}{0.4} = 1 - 2520 = -2519$$

ويلاحظ بمجرد النظر إلى العلاقة العكسية بين رتب المتغير (س) ورتب المتغير (ص) فنجد أن القيمة الأولى ٣٥ في المتغير س قد أخذت الرتبة ١ بينما القيمة الأولى ١٢ في المتغير ص قد أخذت الرتبة ٨. كذلك نلاحظ أن القيم في المتغير س مرتبة ترتيباً تنازلياً والقيم ص مرتبة ترتيباً تصاعدياً وهنا يعني أن الزيادة في المتغير الأول (س) يتبعها نقصان في المتغير الثاني (ص).

## ب - من خلال جدول الانتشار (\*)

في الجدول التكراري يتم وضع الدرجات الخاصة بمتغير واحد فيه على شكل فئات وتكرارات . أما جدول الانتشار أو الجدول المزدوج فهو عبارة عن جدولين تكرارين وضعا معاً ليمثلا درجات متغيرين من المتغيرات المراد حساب العلاقة بينهما . لكن الفرق بين الجدول التكراري وبين الجدول المزدوج هو أنه يتم وضع علامة واحدة لتعبر عن كل قيم في الأول أما في الثاني فإنه يتم وضع علامة واحدة أيضاً لكن هذه العلامة تعبر عن قيمتين الأولى خاصة بالمتغير الأول والثانية خاصة بالمتغير الثاني .

وفيما يلي المثالين السابقين في حالة العلاقة التامة الموجبة والعلاقة التامة السالبة لنوضحها من خلال جدول الانتشار .

### ١ - في حالة العلاقة التامة الموجبة :

مثال :

| ق | س  | ص   | ص / س | صفر | - ٥ | مج |
|---|----|-----|-------|-----|-----|----|
| ١ | ٢٠ | ٦   | - ٧   | //  |     | ٢  |
| ٢ | ١٨ | ٥   | - ١٧  | //  |     | ٢  |
| ٣ | ٩  | ٣   | مج    | ٢   | ٢   | ٤  |
| ٤ | ٧  | صفر |       |     |     |    |

وقد تم عمل الجدول المزدوج السابق باتباع الخطوات الآتية :

١ - عمل جدول بالصورة السابقة والتي تختلف فئاته حسب عدد

القيم .

(\*) ويطلق عليه أيضاً اسم الجدول المزدوج .

- ٢ - جعل فئات المتغير س هي المربعات الرأسية .
- ٣ - جعل فئات المتغير ص هي المربعات الأفقية .
- ٤ - عمل فئات للمتغير س بنفس طريقة الجدول التكراري .
- ٥ - عمل فئات للمتغير ص بنفس طريقة الجدول التكراري .
- ٦ - لوضع درجات المتغيرين في الجدول يكون كالآتي :
- ١ - يتم تفرغ كل درجتين متقابلتين معاً ، وعلى سبيل المثال يتم تفرغ القيمتين الخاصتين بالفرد ١ الأول وهما ٢٠ ، ٦ معاً .
- ٢ - نجد بالنسبة للقيمة الأولى من المتغير س وهي ٢٠ يمكن تفرغها في الفئة ١٧ - ، وأن القيمة الأولى من المتغير ص وهي ٦ يمكن تفرغها في الفئة ٥ - .
- ٣ - نبحث عن المربع المقابل للفئة ١٧ - وفي نفس الوقت يكون مقابلاً للفئة ٥ - وهو هنا في هذه الحالة المربع الأخير .
- ٤ - نقوم بوضع علامة / في هذا المربع لتعبر هذه العلامة عن العلاقة بين هاتين الدرجتين ويمكن أن نصور ذلك على النحو الآتي :
- الفئة ٥ -  
↓  
الفئة ١٧ - ← —————
- ٥ - بالنسبة للقيمتين التاليتين الخاصتين بالفرد (٢) الثاني وهما ١٨ ، ٥ نجد أن القيمة الأولى ١٨ من المتغير س يمكن تفرغها في الفئة ١٧ - ، وأن القيمة الثانية ٥ من المتغير ص يمكن تفرغها في الفئة ٥ - وعلى هذا الأساس يتم البحث عن المربع المقابل لكل من هاتين الفئتين معاً فنجد أنه هو نفس المربع الأخير والسابق وضع علامة للقيمتين ٢٠ ، ٦ فيه فيتم على هذا الأساس وضع علامة ثانية في نفس المربع لتعبر عن العلاقة بين الدرجتين ١٨ ، ٥ أيضاً .

٦ - بالنسبة للقيمتين التاليتين الخاصتين بالفرد (٣) الثالث وهما ٣،٩ نجد أن القيمة الأولى من المتغير س يمكن تفريرها في الفئة ٧ - ، والقيمة الثانية من المتغير ص يمكن تفريرها في الفئة صفر - . وعلى هذا الأساس يتم بعد ذلك البحث عن المربع لكل من الفئتين السابقتين فنجد أن المربع الأول في العمود الأول والصف الأول فيتم وضع علامة / فيه لتعبر عن العلاقة بين هاتين الدرجتين .

٧ - كذلك نجد أنه يمكن تمثيل القيمتين الأخيرتين الخاصتين بالفرد (٤) الرابع وهما ٧ ، صفر في نفس مربع القيمتين السابقتين وهما ٣،٩ .

النتيجة : عندما تكون العلاقة تامة موجبة فإننا نجد أن انتشار العلامات في الجدول يسير في الاتجاه من أ - د كما يتبين في الجدول السابق :

|     |    |    |    |    |
|-----|----|----|----|----|
| ص   | -٢ | -٤ | -٦ | مج |
| -٥  |    |    |    |    |
| -١٠ |    |    |    |    |
| -١٥ |    |    |    |    |
| مج  |    |    |    |    |

أ

ب

ج

د

٢- في حالة العلاقة التامة السالبة :

| ص  | س  |
|----|----|
| ١٢ | ٣٥ |
| ١٣ | ٣٢ |
| ٢٧ | ١٨ |
| ٢٨ | ١٧ |
| ٣٠ | ١٠ |
| ٤٢ | ٩  |
| ٥٠ | ٨  |
| ٦٥ | ٢  |

| ص   | س | مجم |
|-----|---|-----|
| -٢  | / | //  |
| -١٢ |   | //  |
| -٢٢ |   |     |
| -٣٢ |   | //  |
|     |   | مجم |

النتيجة: تم وضع القيم الخاصة بالمتغيرين بنفس الصورة السابقة وعندما تكون العلاقة تامة سالبة فإن انتشار العلامات في الجدول يسير في الاتجاه من حـ ب كما يلي وكما يتبين في الجدول السابق.

| ص   | س | مجم |
|-----|---|-----|
| -٥  |   |     |
| -١٠ |   |     |
| -١٥ |   |     |
|     |   | مجم |



## تمارين

١- أجرى باحث دراسة على مجموعة من العمال للكشف عن العلاقة بين أجورهم وعدد مرات الجزاءات التي توقع عليهم فكانت القيم التي حصل عليها بالنسبة لخمسة عشر عاملاً بالنسبة للأجور والجزاءات هي:

س: ١٠-١٥-١٧-٢٧-٣٢-٣٣-٣٨-٤٠-٤٥-٤٨-٥٠-٦٥-٦٦-٦٨-٧٠.

ص: ٣٠-٢٨-٢٦-٢٤-٢٢-٢٠-١٨-١٦-١٥-١٢-١١-١٠-٨-٧-٦.

بين العلاقة بين المتغيرين بالطرق الآتية:

أ- جدول الانتشار.

ب- الرتب بين المتغيرين.

ج- الطريقة الإحصائية.

٢- أراد باحث أن يعرف العلاقة بين العمر والأجر الذي يحصل عليه الموظف في عمله فأجرى بحثه على ثماني أفراد فكانت أعمارهم وأجورهم كما يلي:

س: ٥٠-٤٨-٤٥-٤٣-٣٨-٣٥-٢٥-٢٠

ص: ٣٢-٢٨-٢٧-٢٤-٢٢-٢٠-١٨-١٧

أحسب العلاقة بين المتغير بنفس الطريقة السابقة.

الحل:

١- حل التمرين الأول:

١ - عن طريق جدول الانتشار:

| س   | ص  | -٦ | -١٠ | -١٤ | -١٨ | -٢٢ | -٢٦ | -٣٠ | مج |
|-----|----|----|-----|-----|-----|-----|-----|-----|----|
| -١٠ |    |    |     |     |     |     | //  | /   |    |
| -٢٠ |    |    |     |     | /   |     |     |     |    |
| -٣٠ |    |    |     |     | //  | /   |     |     |    |
| -٤٠ |    |    | /   | //  |     |     |     |     |    |
| -٥٠ |    |    | /   |     |     |     |     |     |    |
| -٦٠ |    | // | /   |     |     |     |     |     |    |
| -٧٠ |    | /  |     |     |     |     |     |     |    |
|     | مج |    |     |     |     |     |     |     |    |

ويتضح من مسار خط الانتشار الذي يصل بين ب ، ج أن نوع العلاقة  
تامة سالبة .

ب - عن طريق الرتب بين المتغيرين :

| ق  | س  | ص  | رتبة س | رتبة ص | ف           | فا          |
|----|----|----|--------|--------|-------------|-------------|
| ١  | ١٠ | ٣٠ | ١٥     | ١      | ١٤ +        | ١٩٦         |
| ٢  | ١٥ | ٢٨ | ١٤     | ٢      | ١٢ +        | ١٤٤         |
| ٣  | ١٧ | ٢٦ | ١٣     | ٣      | ١٠ +        | ١٠٠         |
| ٤  | ٢٧ | ٢٤ | ١٢     | ٤      | ٨ +         | ٦٤          |
| ٥  | ٣٢ | ٢٢ | ١١     | ٥      | ٦ +         | ٣٦          |
| ٦  | ٢٣ | ٢٠ | ١٠     | ٦      | ٤ +         | ١٦          |
| ٧  | ٣٨ | ١٨ | ٩      | ٧      | ٢ +         | ٤           |
| ٨  | ٤٠ | ١٦ | ٨      | ٨      | صفر         | صفر         |
| ٩  | ٤٥ | ١٥ | ٧      | ٥      | ٢ -         | ٤           |
| ١٠ | ٤٨ | ١٢ | ٦      | ١٠     | ٤ -         | ٦           |
| ١١ | ٥٠ | ١١ | ٥      | ١١     | ٦ -         | ٣٦          |
| ١٢ | ٦٥ | ١٠ | ٤      | ١٢     | ٨ -         | ٦٤          |
| ١٣ | ٦٦ | ٨  | ٣      | ١٣     | ١٠ -        | ١٠٠         |
| ١٤ | ٦٨ | ٧  | ٢      | ١٤     | ١٢ -        | ١٤٤         |
| ١٥ | ٧٠ | ٦  | ١      | ١٥     | ١٤ -        | ١٩٦         |
|    |    |    |        |        | <u>٥٦ -</u> | <u>١١٢٠</u> |
|    |    |    |        |        | <u>٥٦ +</u> |             |
|    |    |    |        |        | صفر         |             |

ويتضح من رتبتي س، ص أن رتبة القيمة الأولى في المتغير س خمسة عشر بينما رتبة القيمة الأولى في المتغير ص واحد، ويتضح لنا من مجرد النظر للرتب أن العلاقة عكسية .

جـ - بالطريقة الإحصائية :

$$س = \frac{1120 \times 6}{224 \times 15} - 1 = \frac{1120 \times 6}{1 - 225 \times 15} - 1 = 1$$

$$س = 1 - \frac{6720}{3360} = -1 = 2 = -1 = 1$$

وتشير القيمة الناتجة - ١ إلى أن العلاقة تامة سالبة .

٢ - حل التمرين الثاني :

١ - عن طريق جدول الانتشار :

| ص  | س  | ق |
|----|----|---|
| ٣٢ | ٥٠ | ١ |
| ٢٨ | ٤٨ | ٢ |
| ٢٧ | ٤٥ | ٣ |
| ٢٤ | ٤٣ | ٤ |
| ٢٢ | ٣٨ | ٥ |
| ٢٠ | ٣٥ | ٦ |
| ١٨ | ٢٥ | ٧ |
| ١٧ | ٢٠ | ٨ |

| ص  | س  | ق |
|----|----|---|
| ٢٠ | /  |   |
| ٢٥ | /  |   |
| ٣٠ | /  |   |
| ٣٥ | // |   |
| ٤٠ | /  |   |
| ٤٥ | // |   |
| مج |    |   |

ويلاحظ أن خط الانتشار الخاص بالعلامات يسير في الاتجاه أ - د مما يعطينا تنبؤاً بأننا لو حسبنا العلاقة فستكون موجبة .

## ٢ - عن طريق الرتب :

| ق | س  | ص  | رتبة س | رتبة ص | ف          | فا         |
|---|----|----|--------|--------|------------|------------|
| ١ | ٥٠ | ٣٢ | ١      | ١      | صفر        | صفر        |
| ٢ | ٤٨ | ٢٨ | ٢      | ٢      | صفر        | صفر        |
| ٣ | ٤٥ | ٢٧ | ٣      | ٣      | صفر        | صفر        |
| ٤ | ٤٣ | ٢٤ | ٤      | ٤      | صفر        | صفر        |
| ٥ | ٣٨ | ٢٢ | ٥      | ٥      | صفر        | صفر        |
| ٦ | ٣٥ | ٢٠ | ٦      | ٦      | صفر        | صفر        |
| ٧ | ٢٥ | ١٨ | ٧      | ٧      | صفر        | صفر        |
| ٨ | ٢٠ | ١٧ | ٨      | ٨      | صفر        | صفر        |
|   |    |    |        |        | <u>صفر</u> | <u>صفر</u> |
|   |    |    |        |        | صفر        | صفر        |

ومن مجرد النظر إلى رتب س ، ص نجد أن قيم س قد أخذت نفس رتب ص مما يجعلنا نتنبأ أيضاً بأن العلاقة ستكون - لو حسبناها إحصائية - تامة موجبة .

## ٣ - بالطريقة الإحصائية :

$$س = ١ - \frac{٦ \times \text{صفر}}{(١ - ٦٤)٨} = \frac{\text{صفر}}{٥٠٤}$$

$$س = ١ - \text{صفر} = ١ +$$

## (٢) معاملات ارتباط بيرسون

تتفادى معاملات ارتباط بيرسون العيوب الموجودة في معامل ارتباط الرتب والمتعلقة باعتماده على الرتب في حسابه لا على القيم نفسها . ومعاملات بيرسون هي :

أ - معامل ارتباط بيرسون عن طريق الانحرافات .

ب - معامل ارتباط بيرسون عن طريق القيم الخام .  
ج - معامل ارتباط بيرسون عن طريق جدول الانتشار .

وبدون شك فهناك أنواعاً عديدة أخرى من معاملات الارتباط سيأتي ذكرها في القسم الخاص «بالإحصاء المتقدم» بعد ذلك . وستتناول فيما يلي طرق حساب معاملات ارتباط بيرسون كل على حدة .

أ - معامل ارتباط بيرسون عن طريق الانحرافات .

يعتبر معامل ارتباط بيرسون عن طريق الانحرافات من أكثر معاملات الارتباط شيوعاً لأنه يتأثر بجميع القيم المعطاة . فهو إذاً يسد نقصاً هاماً في معامل ارتباط الرتب لأن ذلك الأخير يتناول في حسابه الرتب لا القيم نفسها كما سبق أن ذكرنا ، وحساب معامل الارتباط على أساس الرتب أقل دقة من حسابه على أساس القيم إذ أن زيادة القيمة أو نقصها لا يغير من قيمة معامل الارتباط إذا حسبناه باستخدام معامل الرتب لسبيرمان . هذا بينما يتأثر معامل بيرسون بأي تغيير في القيمة . وسنعطي أمثلة نقارن من خلالها بين الطريقتين ، ولكي يتأكد بواسطتها هذا الكلام !

ويعتمد معامل ارتباط بيرسون عن طريق الانحرافات على حساب المتوسط الحسابي لكل من المتغيرين المراد معرفة العلاقة بينهما ثم يتم حساب انحراف كل قيمة عن متوسطها ثم تربيع هذه الانحرافات وضربها في بعضها بعد ذلك .

مثال :

أجرى باحث دراسة على مجموعة مكونة من أربعة أشخاص لمعرفة العلاقة بين مستوى ذكائهم (س) وسمات شخصيتهم (ص) ، وكانت دراجاتهم على المتغيرين س ، ص كما يلي :

| ن  | س  | ص   | ح <sup>٢</sup> س | ح <sup>٢</sup> ص | ح <sup>٢</sup> س | ح <sup>٢</sup> ص |
|----|----|-----|------------------|------------------|------------------|------------------|
| ١  | ٢٥ | ٥٠  | ٣,٢٥             | ٢,٥              | ١٠,٥٦            | ٦,٢٥             |
| ٢  | ١٩ | ٦٠  | ٢,٧٥             | ١٢,٥             | ٧,٥٦             | ١٥٦,٢٥           |
| ٣  | ١٠ | ٣٨  | ٩,٥-١١,٧٥        | ٩,٥              | ١٣٨,٠٦           | ٩٠,٢٥            |
| ٤  | ٣٣ | ٤٢  | ٥,٥-١١,٢٥        | ٥,٥              | ١٢٦,٥٦           | ٣٠,٢٥            |
| مج | ٨٧ | ١٩٠ |                  | ٢٨٢,٧٤           | ٢٨٣,٠٠           | ١١٩,٧٦+          |
|    |    |     |                  |                  |                  | ٩٦,٢٦-           |
|    |    |     |                  |                  |                  | ٢٣,٥٠+           |

$$م س = \frac{\Delta Y}{X} = ٢١,٧٥$$

$$م ص = \frac{Y}{X} = ٤٧,$$

وقانون معامل ارتباط بيرسون عن طريق الانحرافات هو:

$$r = \frac{\text{مجموع } س \times \text{ح}^٢ \text{ ص}}{\sqrt{\text{مجموع } س^٢ \times \text{مجموع } ح^٢ \text{ ص}}}$$

حيث أن:

مجموع س<sup>٢</sup> ح<sup>٢</sup> ص = حاصل ضرب ح<sup>٢</sup> س في ح<sup>٢</sup> ص

ح<sup>٢</sup> س = مربع انحراف القيم عن متوسطها وذلك بالنسبة للمتغير س.

ح<sup>٢</sup> ص = مربع انحراف قيم المتغير ص عن متوسطها. وبالتعويض

عن القانون في المثال السابق نجد أن:

$$r = \frac{٢٣,٥٠}{\sqrt{٢٨٣,٠٠ \times ٢٨٢,٧٤}} = \frac{٢٣,٥٠}{٢٨٢,٨٧} = ٠,٠٨٣$$

والخطوات التي تم من خلالها حساب معامل الارتباط عن طريق

الانحرافات هي:

١ - جمع قيم المتغير س وقسمة الناتج على ن ويكون الناتج هو متوسط هذا المتغير. ولقد كان مجموع قيم المتغير س (مج س) في المثال السابق ٨٧، ومتوسط هذا المتغير ٢١,٧٥.

٢ - جميع قيم المتغير ص وقسمة الناتج على ن ويكون الناتج هو متوسط هذا المتغير. ولقد كان مجموع قيم المتغير ص (مج ص) في المثال السابق ١٩٠، ومتوسط هذا المتغير ٤٧,٥.

٣ - حساب انحراف كل قيمة من قيم المتغير س عن متوسطها وذلك بطرح هذا المتوسط من كل قيمة من قيم المتغير س ويوضع الناتج في العمود ح س أي انحراف القيم عن متوسطها.

٤ - حساب انحراف كل قيمة من قيم المتغير ص عن متوسطها وذلك بطرح هذا المتوسط من كل قيمة من قيم المتغير ص ويوضع الناتج في العمود ح ص أي انحراف القيم عن متوسطها.

٥ - تربيع كل انحراف من الانحرافات الموجودة في العمود ح س ليتم الحصول على العمود ح<sup>٢</sup> س. ويتم بعد ذلك جمع مربع انحرافات هذا العمود لنحصل على مج ح<sup>٢</sup> س.

٦ - تربيع كل انحراف من الانحرافات الموجودة في العمود ح ص ليتم الحصول على العمود ح<sup>٢</sup> ص. ويتم بعد ذلك جمع مربع انحرافات هذا العمود لنحصل على مج ح<sup>٢</sup> ص.

٧ - يتم ضرب انحراف ح س  $\times$  ح ص ليتم الحصول على ح س ح ص. ويتم بعد ذلك جمع حاصل ضرب هذه الانحرافات في بعضها لنحصل على مج ح س ح ص.

٨ - بعد ذلك يطبق القانون السابق ذكره.



## مقارنة معامل ارتباط الرتب بمعامل الارتباط عن طريق الانحرافات

سبق أن قلنا أن عيوب معامل ارتباط الرتب أنه يعتمد في حسابه على الرتب لا على القيم نفسها. ومعنى ذلك أنه لو تغيرت القيم فلن تتأثر قيمة معامل الارتباط. لكنه في حالة معامل ارتباط بيرسون عن طريق الانحرافات فإننا نجد أن أي تغير في القيم يؤثر على قيمة معامل الارتباط وهذا هو المتوقع. وفيما يلي مثلاً تم حله بطريقة الرتب وبطريقة الانحرافات.

بطريقة الرتب:

| ق | س  | ص  | ز س | ز ص | ف   | ف <sup>٢</sup> |
|---|----|----|-----|-----|-----|----------------|
| ١ | ٢٠ | ٤٥ | ٢   | ٢   | صفر | صفر            |
| ٢ | ١٥ | ٥٠ | ٣   | ١   | ٢   | ٤              |
| ٣ | ٥  | ٣٠ | ٤   | ٤   | صفر | صفر            |
| ٤ | ٢٣ | ٤١ | ١   | ٣   | ٢-  | ٤              |
|   |    |    |     |     | صفر | ٨              |

$$س = ١ - \frac{٨ \times ٦}{١ - ١٦ \times ٤} - ١ = \frac{١٨}{٦} - ١ = ٠,٨ - ١ = -٠,٢$$

بطريقة الانحرافات:

| ق | س  | ص   | ح <sup>ص</sup> س | ح <sup>ص</sup> ص | ح <sup>س</sup> س | ح <sup>ص</sup> ص | ح <sup>س</sup> ص |
|---|----|-----|------------------|------------------|------------------|------------------|------------------|
| ١ | ٢٠ | ٤٥  | ٤,٢٥ +           | ٣,٧٥ +           | ١٨,٦             | ١٤,٦             | ١٥,٩٤ +          |
| ٢ | ١٥ | ٥٠  | ٠,٧٥ -           | ٨,٧٥ +           | ٠٠,٥٦            | ٧٦,٥٦            | ٦,٥٦ -           |
| ٣ | ٥  | ٣٠  | ١٠,٠٠ -          | ١١,٢٥ -          | ١١,٥٦            | ١٢٦,٥٦           | ١٢٠,٩٤ +         |
| ٤ | ٢٣ | ٤٠  | ٧,٢٥ +           | ١,٢٥ -           | ٥٢,٥٦            | ١,٥٦             | ٩,٠٦ -           |
|   | ٦٣ | ١٦٥ |                  |                  | ١٨٦,٧٤           | ٢١٨,٧٤           | ١٥,٦٢ -          |
|   |    |     |                  |                  |                  |                  | ١٣٦,٨٨ +         |
|   |    |     |                  |                  |                  |                  | ١٢١,٢٦           |

$$م س = \frac{73}{4} = 18,25$$

$$م ص = \frac{170}{4} = 42,5$$

$$ر = \frac{121,26}{\sqrt{40847,05}} = \frac{121,26}{218,74 \times 186,74}$$

$$ر = \frac{121,26}{202,11} = 0,60$$

وهكذا يتضح أن قيمة معامل الارتباط قد تغيرت في معامل ارتباط الرتب عنه في معامل الارتباط عن طريق الانحرافات. ليس ذلك فقط بل وكما سبق أن قلنا فإن معامل ارتباط الرتب نفسه لا تتغير قيمته إذا زادت القيم أو نقصت ما دامت هذه الزيادة أو النقص لا يغير وضع القيمة بالنسبة للمجموعة، في حين أن قيمة معامل الارتباط عن طريق الانحرافات تتغير لو تغيرت القيم. وسنعطي فيما يلي أمثلة تبين ذلك.

مثال:

| ق | س  | ص  | ر س | ر ص | ف   | ف   | قبل تغيير القيم |
|---|----|----|-----|-----|-----|-----|-----------------|
| 1 | 15 | 20 | 3   | 3   | صفر | صفر |                 |
| 2 | 27 | 30 | 2   | 2   | صفر | صفر |                 |
| 3 | 8  | 10 | 4   | 4   | صفر | صفر |                 |
| 4 | 35 | 40 | 1   | 1   | صفر | صفر |                 |
|   |    |    |     |     | صفر | صفر |                 |

$$س = 1 - \frac{16 \times 4}{1 - 16 \times 4} = 1 - \frac{صفر \times 6}{صفر} = 1$$

$$س = 1 - صفر = 1$$

وحساب نفس المثال مع تغيير في القيم في كل من المتغيرين .:

| بعد تغيير القيم |    |    |    |    |            |                |
|-----------------|----|----|----|----|------------|----------------|
| ق               | س  | ص  | رس | رص | ف          | ف <sup>٢</sup> |
| ١               | ١٠ | ١٠ | ٣  | ٣  | صفر        | صفر            |
| ٢               | ٢٠ | ٢٥ | ٢  | ٢  | صفر        | صفر            |
| ٣               | ٥  | ٤  | ٤  | ٤  | صفر        | صفر            |
| ٤               | ٣٠ | ٣٥ | ١  | ١  | <u>صفر</u> | <u>صفر</u>     |
|                 |    |    |    |    | <u>صفر</u> | <u>صفر</u>     |

$$س = ١ - \frac{صفر \times ٦}{(١ - ١٦)٤} - ١ = \frac{صفر}{١٥ \times ٤} - ١$$

$$س = ١ - صفر = ١ +$$

وهكذا نجد أن معامل ارتباط الرتب لم تختلف قيمته عن ١ رغماً من اختلاف القيم في المتغيرين س، ص في الحالتين. بينما تختلف قيمة معامل الارتباط عن طريق الانحرافات في نفس الحالتين السابقتين وسنبين ذلك فيما يلي:

الحالة الأولى: قبل تغيير القيم.

| ق | س  | ص   | ح <sup>٢</sup> س | ح <sup>٢</sup> ص | ح <sup>٢</sup> ص | ح <sup>٢</sup> س |
|---|----|-----|------------------|------------------|------------------|------------------|
| ١ | ١٥ | ٢٠  | ٦,٢٥ -           | ٥ -              | ٣٩,٠٦            | ٢٥               |
| ٢ | ٢٧ | ٣٠  | ٥,٧٥ +           | ٥ +              | ٣٣,٠٦            | ٢٥               |
| ٣ | ٨  | ١٠  | ١٣,٢٥ -          | ١٥ -             | ١٧٥,٥٦           | ٢٢٥              |
| ٤ | ٣٥ | ٤٠  | ١٣,٧٥ +          | ١٥ +             | ١٨٩,٠٦           | ٢٢٥              |
|   | ٨٥ | ١٠٠ |                  |                  | ٤٣٦,٧٤           | ٥٠٠              |
|   |    |     |                  |                  |                  | ٢٠٦,٢٥           |
|   |    |     |                  |                  |                  | ٤٦٥,٠٠           |

$$م س = \frac{٨٥}{٤} = ٢١,٢٥$$

$$م ص = \frac{١٠٠}{٤} = ٢٥$$

$$0,995 = \frac{465}{467} = \frac{465}{436,74 \times 500} \sqrt{\quad} = r$$

الحالة الثانية - بعد تغيير القيم:

| ق | س  | ص  | ح       | س      | ح      | ص      | ح      | ص | ح | ص | ح | ص |
|---|----|----|---------|--------|--------|--------|--------|---|---|---|---|---|
| ١ | ١٠ | ١٠ | ٦,٢٥ -  | ٨,٥ -  | ٣٩,٠٦  | ٧٢,٢٥  | ٥٣,١٣  |   |   |   |   |   |
| ٢ | ٢٠ | ٢٥ | ٣,٧٥ +  | ٦,٥ +  | ١٤,٠٦  | ٤٢,٢٥  | ٢٤,٣٨  |   |   |   |   |   |
| ٣ | ٥  | ٤  | ١١,٢٥ - | ١٤,٥ - | ١٢٦,٥٦ | ٢١٠,٢٥ | ١٣     |   |   |   |   |   |
| ٤ | ٣٠ | ٣٥ | ١٣,٧٥ + | ١٦,٥ + | ١٨٩,٠٦ | ٢٧٢,٢٥ | ٢٢٦,٨٨ |   |   |   |   |   |
|   | ٦٥ | ٧٤ |         |        | ٣٦٨,٧٤ | ٥٩٧,٠٠ | ٤٦٧,٥٢ |   |   |   |   |   |

$$١٦,٢٥ = \frac{٦٠}{٤} = م س$$

$$١٨,٥٠ = \frac{٧٤}{٤} = م س$$

$$0,996 = \frac{467,52}{469,19} = \frac{467,52}{597 \times 368,74} \sqrt{\quad} = r$$

وهكذا نجد أن قيمة معامل الارتباط عن طريق الانحرافات قد تغيرت قيمته في الحالة الأولى عنه في الحالة الثانية وذلك لأن القيم نفسها قد تغيرت أي أن قيمة معامل الارتباط تتأثر بالقيم نفسها بينما لم نجد ذلك في معامل ارتباط الرتب.

ب - معامل ارتباط بيرسون عن طريق القم الخام:

وجدنا في معامل ارتباط بيرسون عن طريق الانحرافات أنه يتطلب كثيراً من الخطوات ونتائجه يوجد بها الكثير من الكسور مما يحتاج لوقت طويل في حسابه إلى جانب أن الباحث قد يقع في الكثير من الأخطاء نتيجة لذلك. أما معامل ارتباط بيرسون عن طريق القيم الخام فيتحاشى ذلك. ويعتمد هذا

المعامل في حسابه على تربيع القيم في كل متغير من المتغيرين ثم ضرب المتغير س في المتغير ص . وفيما يلي مثالاً يوضح ذلك :

مثال :

| ن | س  | ص  | س <sup>٢</sup> | ص <sup>٢</sup> | س ص |
|---|----|----|----------------|----------------|-----|
| ١ | ٢  | ٣  | ٤              | ٩              | ٦   |
| ٢ | ٤  | ٥  | ١٦             | ٢٥             | ٢٠  |
| ٣ | ٢  | ١  | ٤              | ١              | ٢   |
| ٤ | ٦  | ٧  | ٣٦             | ٤٩             | ٤٢  |
| ٥ | ٣  | ٤  | ٩              | ١٦             | ١٢  |
|   | ١٧ | ٢٠ | ٦٩             | ١٠٠            | ٨٢  |

وقانون معامل الارتباط عن طريق القيم الخام :

$$س = \frac{مجم س ص - \frac{مجم س \times مجم ص}{ن}}$$

$$\sqrt{\frac{مجم س^٢ - \frac{(مجم س)^٢}{ن}}{مجم ص^٢ - \frac{(مجم ص)^٢}{ن}}}$$

وبالتعويض عن القانون في المثال السابق نجد أن قيمة :

$$ر = \frac{٢٠ \times ١٧}{٥} - ٨٣ = ٦٩$$

$$\sqrt{\frac{\frac{٢٠^٢}{٥} - \frac{(١٧)^٢}{٥}}{\frac{٢٠^٢}{٥} - \frac{(١٧)^٢}{٥}}}$$

$$ر = \frac{٣٤٠}{٥} - ٨٣ = ٦٩$$

$$\frac{٦٨ - ٨٢}{٨٠ - ١٠٠ \times ٥٧,٨ - ٦٩} = \frac{\frac{٣٤٠}{٥} - ٨٣}{\frac{٤٠٠}{٥} - ١٠٠ \times \frac{٣٨٩}{٥} - ٦٩}$$

$$r = \frac{14}{20 \times 11,6} = \frac{14}{224} = \frac{14}{14,97} = 0,935$$

خطوات حساب معامل ارتباط بيرسون عن طريق القيم الخام:

- ١- تربيع قيم س ويوضع الناتج في العمود س<sup>٢</sup>.
- ٢- تربيع قيم ص ويوضع الناتج في العمود ص<sup>٢</sup>.
- ٣- ضرب قيم س × قيم ص ويوضع الناتج في العمود س ص.
- ٤- تجمع الأعمدة لنحصل:

- من العمود الأول على مج س.
- ومن العمود الثاني على مج ص.
- ومن العمود الثالث على مج س<sup>٢</sup>.
- ومن العمود الرابع على مج ص<sup>٢</sup>.
- ومن العمود الخامس على مج س ص.

٥- نطبق القانون الآتي:

$$r = \frac{\text{مج س ص} - \frac{\text{مج س} \times \text{مج ص}}{n}}{n}$$

$$\sqrt{\frac{\text{مج س}^2 - \frac{(\text{مج ص})^2}{n}}{n} \times \frac{\text{مج ص}^2 - \frac{(\text{مج س})^2}{n}}{n}}$$

حيث أن:

س = معامل الارتباط.

مج س ص = مجموع ضرب القيم في المتغيرين س ، ص في بعضهما البعض.

ن = عدد الأفراد.

مج س = مجموع القيم في المتغير س.

مج ص = مجموع القيم في المتغير ص.

مج س<sup>٢</sup> = مجموع تربيع القيم في المتغير س.

مجموع تربيع القيم في المتغير ص .

ج- معامل ارتباط بيرسون عن طريق جدول الانتشار:

نلاحظ من خلال الأمثلة السابقة في كل من معاملي ارتباط بيرسون السابقين سواء أكان عن طريق القيم الخام أو الانحرافات أنهما يصلحان من الناحية العملية في حالة العينات الصغيرة . أما إذا تضمنت العينة التي يجري عليها الباحث بحثه مئات من الأشخاص فإنه سيستغرق وقتاً طويلاً جداً في حسابه لمعامل الارتباط بهاتين الطريقتين كما أنه محتاج في نفس الوقت لمساحات كبيرة من الورق يسجل عليها قيم المتغيرين س ، ص ويجري حساب العلاقة بينهما . ولذلك فإن معامل الارتباط عن طريق جدول الانتشار . «الجدول المزدوج» يصلح في مثل هذه الأحوال إذ نتمكن من وضع درجات المتغيرين في هذا الجدول لأي عينة من العينات مهما كبر حجم هذه العينة . وقد سبق أن بينا كيف يمكن تفرغ درجات المتغيرين في هذا الجدول . وسنكتفي هنا في معرفة خطوات حساب هذا المعامل .

مثال :

فيما يلي درجات مجموعة مكونة من ١٥ خمسة عشر تلميذاً على اختبار للذكاء (س) والذاكرة (ص) .

درجات س : ٧-٣-٥-٨-١٢-١٤-٢٥-٨-٩-٣-٧-١١-٢٢-

٢٣ .

درجات ص : ٦-٥-٣-١٣-١١-١٥-٣٣-١٨-٩-١٦-٤-٢-١٠-

١١-١٥ .

وفيما يلي جدول الانتشار الخاص بالمتغيرين السابقين :

|       |                 |                |     |     |     |     |     |     |
|-------|-----------------|----------------|-----|-----|-----|-----|-----|-----|
| ص     | ص               | ص              | ص   | ص   | ص   | ص   | ص   | ص   |
| -٣    | ١٢ <sup>٢</sup> | ٣ <sup>٣</sup> | -٣٢ | ٩   | ٩   | ٩   | ٩   | ٩   |
| -١٠   | ٢               | ١              | ٣   | صفر | ٢   | ١+  | ٢   | ٢   |
| -١٧   | ٢               | ١              | ٢   | ٢   | ٢   | ٢   | ٢   | ٢   |
| -٢٤   |                 |                | ١   | ٢+  | ٢+  | ٢+  | ٢+  | ٢+  |
| مجموع | ٩               | صفر            | ١   | ١٥  | ١٥  | ١٧+ | ١٥  | ١٧+ |
|       | ٢-              | ١-             | ١+  | ٥-  | ١٨- | ١٤+ | ٥-  | ١٤+ |
| مجموع | ١٨-             | ٥-             | ١+  | ٢٣- | ١+  | ٢٢- | ٢٣- | ٢٢- |
| مجموع | ٣٦              | ٥              | ١   | ٤٢  | ١   | ٤٢  | ٤٢  | ٤٢  |
| مجموع | ١٠              | ٢              | ٢   | ١٤+ | ٢   | ١٤+ | ١٤+ | ١٤+ |

وقانون معامل ارتباط بيرسون عن طريق الانتشار هو:

$$r = \frac{\text{مجموع } \text{ص} \times \text{مجموع } \text{ص} - \frac{\text{مجموع } (\text{ص} \times \text{ص})}{n}}{n}$$

$$\sqrt{\frac{\text{مجموع } \text{ص}^2 - \frac{(\text{مجموع } \text{ص})^2}{n}}{n} \times \frac{\text{مجموع } \text{ص}^2 - \frac{(\text{مجموع } \text{ص})^2}{n}}{n}}$$

وبالتعويض عن القانون في المثال السابق:



$$\begin{aligned} & \frac{22 \times 5 - 14}{10} = r \\ & \sqrt{\frac{(22-)^2}{10} - 42 \times \frac{(5-)^2}{10} - 10} = r \\ & \frac{110 - 14}{10} = r \\ & \sqrt{\frac{484 - 42 \times 30 - 10}{10}} = r \\ & \frac{7,33 - 14}{32,27 - 42 \times 1,67 - 10} = r \\ & \frac{6,67}{129,7} = \frac{6,67}{9,7 \times 13,33} = r \\ & ,09 = \frac{6,67}{11,39} = r \end{aligned}$$

وخطوات حساب هذا المعامل هي :

١ - تفرغ القيم المعطاة في جدول الانتشار. ويتم جمع التكرارات الموجودة في كل صف لنحصل على مجس، كما يتم جمع التكرارات الموجودة في كل عمود لنحصل على مجص.

٢ - يتم وضع انحراف فرضي أمام مجس، مجص لنحصل على ح.

٣ - يتم ضرب الانحراف الفرضي في التكرار المقابل له (الموجود في مجس، أو مجص) ليتم الحصول على ح<sup>٢</sup> س ح<sup>٢</sup> ص ثم يتم ضرب ذلك الأخير في ح لنحصل على ح<sup>٣</sup> س، ح<sup>٣</sup> ص.

٤ - نقوم بضرب الانحراف الفرضي المقابل للصف الأول × الانحراف الفرضي المقابل للعمود الأول في نفس الجدول، ونضع الناتج في الركن

العلوي الأيمن للمربع (وهو هنا في هذا المثال المربع الأول في الصف الأول) ثم نضرب هذا الناتج في تكرار الخلية ونضع ناتج الضرب في الركن الأسفل الأيسر من نفس المربع .

٥ - نقوم بضرب الانحراف الفرضي للصف الأول أيضاً  $\times$  الانحراف الفرضي للعمود الثاني ، ونضع الناتج في الركن العلوي الأيمن من المربع الثاني في الصف الأول ، ثم نضرب الناتج  $\times$  تكرار الخلية . ونضع الناتج بعد ذلك في الركن الأسفل الأيسر من نفس المربع . وهكذا حتى نهاية تكرارات الصف الأول .

٦ - نقوم بضرب الانحراف الفرضي للصف الثاني  $\times$  الانحراف الفرضي للعمود والأداء ونضع الناتج في الركن العلوي الأيمن في المربع الأول في الصف الثاني ونضرب بعد ذلك الناتج  $\times$  تكرار هذا المربع . وهكذا حتى نهاية الصف الثاني . ثم تنتقل إلى الانحراف الفرضي للصف الثالث . . . وهكذا .

٧ - نقوم بجمع حواصل الضرب السابقة الموضوعه في الركن الأسفل الأيسر في المربعات بالنسبة للصف الأول ويوضع هذا الناتج في العمود ح<sup>١</sup> س<sup>١</sup> وكذلك بالنسبة للصف الثاني والثالث . . . وهكذا . ثم تتم نفس هذه الخطوة بالنسبة للعمود الأول ويوضع هذا الناتج في الصف ح<sup>٢</sup> س<sup>٢</sup> س . وكذلك الأمر بالنسبة للعمود الثاني والثالث . . . وهكذا .

٨ - يجب أن يكون الناتج في مج ح<sup>٢</sup> س<sup>٢</sup> ح<sup>٢</sup> س<sup>٢</sup> مساوياً للناتج في مج ح<sup>٢</sup> س<sup>٢</sup> ح<sup>٢</sup> س<sup>٢</sup> .

٩ - نطبق بعد ذلك القانون السابق .

## تمارين محلولة على معاملات الارتباط السابقة

١ - طبق باحث اختبارين على مجموعة من التلاميذ عددهم عشرة أحدهما يقيس الذكاء والآخر يقيس الثبات الانفعالي ، فكانت درجاتهم على هذين الاختبارين كما يلي :

س : ١٥ - ٢٠ - ١٨ - ٢٢ - ٣٣ - ٥٧ - ٤٨ - ٣٢ - ١٨ - ٢٢

ص : ٩ - ١١ - ٧ - ٢٣ - ٢٥ - ٧٥ - ١٨ - ٣٢ - ١٧ - ٣٣

أحسب الارتباط بين الذكاء والثبات الانفعالي بطريقة الرتب والانحرافات .

٢ - أجرى باحث دراسة على عينة من الأطفال مجموعها عشرة لمعرفة العلاقة بين مستوى الذاكرة لديهم وبين أعمارهم فكانت درجات ذاكرتهم وأعمارهم كما يلي :

س : ٣ - ٥ - ٢ - ١ - ٤ - ٦ - ٢ - ٣ - ٥

ص : ٢ - ٥ - ٤ - ٣ - ٦ - ٧ - ٤ - ٣ - ٢ - ٤

أحسب معامل الارتباط بين س ، ص بطريقة الرتب والانحرافات والقيم .

الحل:

التمرين الأول:

١ - بطريقة الرتب:

| ق  | س  | ص  | رس        | ض         | ف            | ف'           |
|----|----|----|-----------|-----------|--------------|--------------|
| ١  | ١٥ | ٩  | ١٠        | ٩         | ١,٠٠ +       | ١,٠٠         |
| ٢  | ٢٠ | ١١ | ٧         | ٨         | ١,٠ -        | ١,٠٠         |
| ٣  | ١٨ | ٧  | ٨,٥       | ١٠        | ١,٥ -        | ٢,٢٥         |
| ٤  | ٢٢ | ٢٣ | ٥,٥       | ٥         | ٠,٥ +        | ٠,٢٥         |
| ٥  | ٣٣ | ٢٥ | ٣         | ٣,٥       | ,٥ -         | ,٢٥          |
| ٦  | ٥٧ | ٢٥ | ١         | ٣,٥       | ٢,٥ -        | ٦,٢٥         |
| ٧  | ٤٨ | ١٨ | ٢         | ٦         | ٤,٠٠ -       | ١٦,٠٠        |
| ٨  | ٣٢ | ٣٢ | ٤         | ٢         | ٢,٠٠ +       | ٤,٠٠         |
| ٩  | ١٨ | ١٧ | ٨,٥       | ٧         | ١,٥٠ +       | ٢,٢٥         |
| ١٠ | ٢٢ | ٣٣ | ٥,٥       | ١         | ٤,٥٠ +       | ٢٠,٢٥        |
|    |    |    | <u>٥٥</u> | <u>٥٥</u> | <u>٩,٥ +</u> | <u>٥٣,٥٠</u> |
|    |    |    |           |           | ٩,٥ -        |              |
|    |    |    |           |           | صفر          |              |

$$س = \frac{٣٢٠}{٩٩٠} - ١ = \frac{٥٣,٥ \times ٦}{-١٠٠ \times ١٠} - ١ =$$

$$س = ٠,٣ - ١ = -٠,٧ \quad , \quad ,٧ = ,٣ - ١ = ,$$

(\*) بالتقريب.

٢ - بطريقة الانحرافات :

| ق  | س     | ص   | ح س    | ح ص  | ح س    | ح ص | ح ص   |
|----|-------|-----|--------|------|--------|-----|-------|
| ١  | ١٥    | ٩   | - ١٢,٥ | ١١   | ٢٥     | ١٢١ | ,٥    |
| ٢  | ٢٠    | ١١  | - ٧,٥  | ٩    | ,٢٥    | ٨١  | ,٥    |
| ٣  | ١٨    | ٧   | - ٩,٥  | ١٣   | ,٢٥    | ١٦٩ | ,٥    |
| ٤  | ٢٢    | ٢٣  | - ٥,٥  | ٣    | ٢٥     | ٩   | - ,٥  |
| ٥  | ٣٣    | ٢٥  | + ٥,٥  | ٥    | ,٢٥    | ٢٥  | ,٥    |
| ٦  | ٥٧    | ٢٥  | + ٢٩,٥ | ٥    | ,٢٥    | ٢٥  | ,٥    |
| ٧  | ٤٨    | ١٨  | + ٢٠,٥ | ٢    | ,٢٥    | ٤   | - ,٥  |
| ٨  | ٢٢    | ٣٢  | - ٥,٥  | ١٢   | ,٢٥    | ١٤٤ | ,٥    |
| ٩  | ١٨    | ١٧  | - ٩,٥  | ٣    | ,٢٥    | ٩   | ,٥    |
| ١٠ | ٢٢    | ٣٣  | - ٥,٥  | ١٣   | ,٢٥    | ١٦٩ | - ,٥  |
|    | ٢٧٥ , | ٢٠٠ | - ٥٦   | - ٣٨ | ١٧٨٤,٥ | ٧٥٦ | ٦٠٠ + |
|    |       |     |        | ٥٦ + | ٣٨ +   |     | ١٤٣ - |
|    |       |     |        | صفر  | صفر    |     | ٤٥٧   |

$$م س = \frac{٢٧٥}{١٠} = ٢٧,٥$$

$$م ص = \frac{٢٠٠}{١} = ٢٠٠$$

$$س = \frac{٤٥٧}{\sqrt{٧٥٦ \times ١٧٨٤,٥}} = \frac{٤٥٧}{\sqrt{٢٣٤٩٠,٨٢}}$$

$$س = \frac{٤٥٧}{١١٦١,٤} = ٠,٣٩$$

| ق  | س   | ص | وس        | وص        | ف           | ف          |
|----|-----|---|-----------|-----------|-------------|------------|
| ١  | ٣   | ٢ | ٥,٥       | ٩,٥       | ٤,٠٠ -      | ١٦,٠٠      |
| ٢  | ٥   | ٥ | ٢,٥       | ٣         | ٠,٥٠ -      | ٠٠,٢٥      |
| ٣  | ٢   | ٤ | ٧,٥       | ٥         | ٢,٥٠ +      | ٦,٢٥       |
| ٤  | ١   | ٣ | ٩         | ٧,٥       | ١,٥٠ +      | ٢,٢٥       |
| ٥  | صفر | ٦ | ١٠        | ٢         | ٨,٠٠ +      | ٦٤,٠٠      |
| ٦  | ٤   | ٧ | ٤         | ١         | ٣,٠٠ +      | ٩,٠٠       |
| ٧  | ٦   | ٤ | ١         | ٥         | ٤,٠٠ -      | ١٦,٠٠      |
| ٨  | ٢   | ٣ | ٧,٥       | ٧,٥       | صفر         | صفر        |
| ٩  | ٣   | ٢ | ٥,٥       | ٩,٥       | ٤,٠٠ -      | ١٦,٠٠      |
| ١٠ | ٥   | ٤ | ٢,٥       | ٥         | ٢,٥٠ -      | ٦,٢٥       |
|    |     |   | <u>٥٥</u> | <u>٥٥</u> | <u>١٥ -</u> | <u>١٣٩</u> |
|    |     |   |           |           | <u>١٥ +</u> |            |
|    |     |   |           |           | صفر         |            |

$$= \frac{٨٣٤}{١-١٠٠ \times ١٠} - ١ = \frac{١٣٩ \times ٦}{١-١٠٠ \times ١٠} - ١ = \text{س}$$

$$٠,١٦ = ٠,٨٤ - ١ = ,$$

٢ - بطريقة الانحرافات :

| ق  | س   | ص  | ح <sup>س</sup> | ح <sup>ص</sup> | ح <sup>س</sup> | ح <sup>ص</sup> | ح <sup>ص</sup> |
|----|-----|----|----------------|----------------|----------------|----------------|----------------|
| ١  | ٣   | ٢  | ٠,١٠ -         | ٢ -            | ٠,٠١           | ٤              | ٠,٢٠ +         |
| ٢  | ٥   | ٥  | ١,٩٠ +         | ١ +            | ٣,٦١           | ١              | ١,٩٠ +         |
| ٣  | ٢   | ٤  | ١,١٠ -         | صفر            | ١,٢١           | صفر            | صفر            |
| ٤  | ١   | ٣  | ٢,١٠ -         | ١ -            | ٤,٤١           | ١              | ٢,١٠ +         |
| ٥  | صفر | ٦  | ٣,١٠ -         | ٢ +            | ٩,٦١           | ٤              | ٦,٢٠ -         |
| ٦  | ٤   | ٧  | ٠,٩٠ +         | ٣ +            | ٠,٨١           | ٩              | ٢,٧٠ +         |
| ٧  | ٦   | ٤  | ٢,٩٠ +         | صفر            | ٨,٤١           | صفر            | صفر            |
| ٨  | ٢   | ٣  | ١,١٠ -         | ١ -            | ١,٢١           | ١              | ١,١٠ +         |
| ٩  | ٣   | ٢  | ٠,١٠ -         | ٢ -            | ٠,٠١           | ٤              | ٠,٢٠ +         |
| ١٠ | ٥   | ٤  | ١,٩٠ +         | صفر            | ٣,٦١           | صفر            | صفر            |
|    | ٣١  | ٤٠ | ٧,٦ -          | ٦ -            | ٣٢,٩٠          | ٢٤             | ٦,٢ -          |
|    |     |    | ٧,٦ +          | ٦ +            |                |                | ٨,٢ +          |
|    |     |    | صفر            | صفر            |                |                | ٢,٠٠ +         |

$$م س = \frac{٣١}{١٠} = ٣,١$$

$$م ص = \frac{٤٠}{١٠,١} = ٤$$

$$س = \frac{٢}{\sqrt{٧٨٩,٦}} = \frac{٢}{\sqrt{٢٤ \times ٣٢,٩}} = ٠,٠٧$$

$$س = \frac{٢}{٧٨,١} = ٠,٠٢٥٦$$

### (٣) معامل التوافق (\*)

تهتم معاملات الارتباط السابقة بإيجاد العلاقة بين المتغيرات التي يمكن قياسها قياساً كمياً باستخدام الأدوات المختلفة في علم النفس وعلم الاجتماع . لكننا نجد في نفس الوقت أن هناك الكثير من المتغيرات النوعية التي تنقسم فيما بينها انقساماً كيفياً وتحتاج إلى إيجاد العلاقة بينها ، كالحاجة مثلاً إلى إيجاد العلاقة بين لون العين أو البشرة أو الشعر لدى الأبناء بلون العين أو البشرة أو الشعر لدى الآباء . ويقع على عاتق معامل التوافق حساب مثل هذا النوع من العلاقات . ويحسب معامل التوافق من خلال الانتشار لتكرارات تلك المتغيرات النوعية وذلك بترتيب كل تكرار وقسمته على حاصل ضرب مجموع عمود التكرار في مجموع صفه ، وذلك بالنسبة لكل صف ثم يتم جمع التكرارات المربعة في كل صف على بعضها البعض . . . وهكذا في باقي الصفوف .

$$\text{وقانون معامل التوافق (ق) } = \sqrt{1 - \frac{1}{\text{مج}}}$$

وفيما يلي مثلاً نوضح من خلاله خطوات حساب معامل التوافق .

مثال :

أراد باحث أن يعرف العلاقة بين الصفات الوراثية بالنسبة للون البشرة لدى الأبناء بلون البشرة لدى الآباء فحصل على البيانات الآتية في جدول الانتشار .



| الأبناء | الأباء | أسمر | أبيض | قمحي | مج |
|---------|--------|------|------|------|----|
| أسمر    | ٢      | ٣    | ٥    | ١٠   |    |
| أبيض    | ٤      | ١    | ٢    | ٧    |    |
| قمحي    | ٤      | ٦    | ٣    | ١٣   |    |
| مج      | ١٠     | ١٠   | ١٠   | ٣٠   |    |

$$\text{مج الصف الأول} = \frac{{}^2(5)}{10 \times 10} + \frac{{}^2(3)}{10 \times 10} + \frac{{}^2(2)}{10 \times 10} =$$

$$0,25 + 0,09 + 0,04 = \frac{35}{100} + \frac{9}{100} + \frac{4}{100} =$$

$$0,38 =$$

$$\text{مج الصف الثاني} = \frac{{}^2(2)}{2 \times 10} + \frac{{}^2(1)}{2 \times 10} + \frac{{}^2(4)}{2 \times 10} =$$

$$0,30 = \frac{21}{70} = \frac{4}{70} + \frac{1}{70} + \frac{16}{70} =$$

$$\text{مج الصف الثالث} = \frac{{}^2(3)}{13 \times 10} + \frac{{}^2(6)}{13 \times 10} + \frac{{}^2(4)}{13 \times 10} =$$

$$0,47 = \frac{91}{130} = \frac{9}{130} + \frac{36}{130} + \frac{76}{130} =$$

$$1,15 = 0,47 + 0,30 + 0,38 = \text{مجموع الصفوف}$$

$$0,23 \sqrt{0,87 - 11} = \sqrt{\frac{1}{1,15} - 1} = \text{ق}$$

$$0,36 = \text{ق}$$

خطوات حساب معامل التوافق (\*).

١ - يتم إيجاد مربع تكرار كل خلية من خلايا جدول الانتشار ثم يتم قسمة هذا المربع على مجموع تكرارات عموده مضروباً في مجموع تكرارات صفه كما يلي:

$$\frac{\text{مربع تكرار الخلية}}{\text{مجموع تكرار العمود} \times \text{مجموع تكرار الصف}}$$

٢ - يتم جمع النواتج بالنسبة لكل صف على حدة.  
٣ - نقوم بجمع مجموع الصفوف على بعضها البعض لنحصل على مجموع الصفوف.

٤ - نطبق القانون الآتي:

$$Q = \sqrt{\frac{1}{n}}$$

حيث أن:

Q = معامل التوافق.

n = مقدار ثابت.

n = مجموع الصفوف المشار إليها في ٣.

## (٤) معامل ارتباط فاي

### Phi Correlation

في كثير من الأحيان يجد الباحث أن المتغيرين اللذين يريد دراسة العلاقة بينهما ينقسمان (أي كل منهما) إلى قسمين نوعيين فقط. ويصلح هذا المعامل مثلاً عندما يريد الباحث إيجاد العلاقة بين من أجابوا على أحد

(\* تكون فئات كل متغير مساوية لفئات المتغير الآخر).

الأسئلة بنعم ولا ، مع من أجابوا بنعم ولا أيضاً على سؤال آخر في نفس المقياس أو الاستبيان . ويعتمد هذا المعامل في حسابه على التكرارات الموجودة بجدول الانتشار . وقانون معامل فاي :

$$\text{معامل فاي} = \sqrt{\frac{ad - bc}{هـوزح}}$$

مثال :

أراد باحث أن يعرف العلاقة بين من أجابوا : نعم ، لا على السؤال الأول في أحد استبيانات الاتجاهات الاجتماعية بمن أجابوا : نعم ، لا على السؤال الثاني في نفس الاستبيان فكانت نتائج التكرارات هي هذين السؤالين كما يلي :

| س / ص | نعم  | لا   | مجم  |
|-------|------|------|------|
| نعم   | أ ١٠ | ب ٥  | د ١٥ |
| لا    | ج ٥  | د ١٠ | و ١٥ |
| مجم   | ز ١٥ | ح ١٥ | ٣٥   |

$$\text{معامل فاي} = \sqrt{\frac{٥ \times ٥ - ١٠ \times ١٠}{١٥ \times ١٥ \times ١٥ \times ١٥}} = \sqrt{\frac{٢٥ - ١٠٠}{٢٢٥ \times ٢٢٥}}$$

$$= \frac{١٧٥}{٣٣٥} = ٠,٣٣$$

مثال :

أراد باحث أن يعرف العلاقة بين من عولجوا بدواء ومن لم يعالجوا به وبين من شفوا ولم يشفوا من هاتين الفئتين (أي من أخذوا الدواء ومن لم يأخذوه) . فكانت التكرارات كما في جدول الانتشار الآتي :

| س          | ص  | شفوا | لم يشفوا | مجم  |
|------------|----|------|----------|------|
| عولجوا     | ٢٠ | أ    | ب        | ٣٨ ح |
| لم يعالجوا | ١٠ | ج    | د        | ٣٥ ز |
|            | ٣٠ | هـ   | و        | ٨٣   |

$$\text{معامل فاي} = \sqrt{\frac{10 \times 18 - 35 \times 20}{53 \times 30 \times 45 \times 38}}$$

$$\frac{520}{2718900} = \frac{520}{1590 \times 1710} \sqrt{= \frac{180 - 700}{1590 \times 1710} \sqrt{=}}$$

$$,32 = \frac{520}{1648,91} =$$

### (٥) معامل الارتباط الثنائي

في كثير من الأحيان يجد الباحث في مجال علم النفس وعلم الاجتماع والعلوم الأخرى أن عليه أن يصل إلى العلاقة بين متغيرين أحدهما ينقسم إلى فئات كمية (كالذكاء مثلاً) والمتغير الثاني ينقسم إلى فئتين نوعيتين (كالانبساط والانطواء - كقوة الأنا وضعف الأنا . . . إلخ) . ويستخدم معامل الارتباط الثنائي Bi-Serial Correlation لإيجاد مثل هذا النوع من العلاقة ويعتمد في حسابه على الوصول إلى المتوسط الحسابي لكل من المتغيرين النوعيين وعلى الانحراف المعياري للتكرارات الكلية . وقانون معامل ارتباط بيرسون .

$$r = \frac{24-12}{\frac{10}{30}}$$

حيث أن :

- م ١ = متوسط المتغير الأول النوعي (مجموعة ١) .  
 م ٢ = متوسط المتغير الثاني النوعي (مجموعة ب) .  
 ع = الانحراف المعياري للمجموعة الكلية .  
 أ = نسبة تكرار المجموعة ١ على التكراري الكلي .  
 ب = نسبة تكرار المجموعة ب على التكرار الكلي .  
 ص = الارتفاع المقابل لأي من النسبتين أ أو ب في جدول المنحنى  
 الاعتدالي .

وفيما يلي مثالاً يوضح ذلك .

مثال :

أحسب العلاقة بين الذكاء وسمتي الانطواء والانبساط في الجدول

الآتي :

| شخصية / الذكاء | -٥٠ | -٧ | -٩٠ | -١١٠ | مجم |
|----------------|-----|----|-----|------|-----|
| (أ) الانطواء   | ٣   | ٨  | ١٢  | ٢    | ٢٥  |
| (ب) الانبساط   | ٤   | ٧  | ١٠  | ٤    | ٢٥  |
| مجم            | ٧   | ١٥ | ٢٢  | ٦    | ٥٠  |

م ١ (متوسط المتغير ١)

| ك ح         | ح   | ك        | ف     |
|-------------|-----|----------|-------|
| ٣ -         | ١ - | ٣        | - ٥٠  |
| صفر         | صفر | ٨        | - ٧٠  |
| ١٢ +        | ١ + | ١٢       | - ٩٠  |
| ٤ +         | ٢ + | <u>٢</u> | - ١١٠ |
| <u>١٦ +</u> |     | ٢٥       |       |
| <u>٣ -</u>  |     |          |       |
| ١٣ +        |     |          |       |

$$= 20 \times 0,52 + 80 = 20 \times \frac{13}{25} + 80 = \text{م}$$

$$90,4 = 10,4 + 80 =$$

م ب (متوسط المتغير ب)

| ك ح         | ح   | ك        | ف     |
|-------------|-----|----------|-------|
| ٤ -         | ١ - | ٤        | - ٥٠  |
| صفر         | صفر | ٧        | - ٧٠  |
| ١٠ +        | ١ + | ١٠       | - ٩٠  |
| ٨ +         | ٢ + | <u>٤</u> | - ١١٠ |
| <u>١٨ +</u> |     | ٢٥       |       |
| <u>٤ -</u>  |     |          |       |
| ١٤ +        |     |          |       |

$$19,2 = 20 \times \frac{14}{25} + 80 = \text{م ب}$$

ع كلي (الانحراف المعياري للمجموعة الكلية)

|                  |            |     |          |       |
|------------------|------------|-----|----------|-------|
| ك ح <sup>٢</sup> | ك ح        | ح   | ك        | ف     |
| ٧                | ٧-         | ١-  | ٧        | - ٥٠  |
| -                | -          | صفر | ١٥       | - ٧٠  |
| ٢٢               | ٢٢+        | ١+  | ٢٢       | - ٩٠  |
| <u>٢٤</u>        | <u>١٢+</u> | ٢+  | <u>٩</u> | - ١١٠ |
| ٥٣               | ٢٧+        |     | ٥٠       |       |

$$\begin{aligned} \sqrt{\frac{(27) - 53}{50}} \sqrt{20} &= ع \\ \sqrt{(0,54) - 1,06} \sqrt{20} &= ع \\ \sqrt{0,29 - 1,06} \sqrt{20} &= ع \\ = 0,88 \times 20 = 000,77 \sqrt{20} &= ع \\ 17,60 = 0,88 \times 20 &= ع \\ 0,50 = \frac{25}{50} &= \text{نسبة ا} \\ 0,50 = \frac{25}{50} &= \text{نسبة ب} \end{aligned}$$

الارتفاع ص المقابل لأي من النسبتين في جدول ارتفاعات المنحنى.  
الاعتدالي = 0,40

$$\begin{aligned} \text{معامل الارتباط الثنائي} &= \frac{م-أ}{ع} \times \frac{ب}{ص} \\ \text{رث} &= \frac{0,5 \times 0,5 \times 91,2 - 90,4}{0,4 \times 17,4} \\ \text{رث} &= \frac{0,25 \times 0,8 - 0,63}{0,40 \times 17,6} \\ &= -0,32, \text{ وبالتقريب} = -0,3 \end{aligned}$$

خطوات حساب معامل الارتباط الثنائي :

- ١ - حساب متوسط المجموعة أ ونرمز له بالرمز م أ .
- ٢ - حساب متوسط المجموعة ب ونرمز له م ب .
- ٣ - حساب الانحراف المعياري للمجموعة الكلية ونرمز له بالرمز ع .
- ٤ - إيجاد نسبة المجموعة أ ، ونسبة المجموعة ب إلى المجموع الكلي ونرمز لهما بالرمزين أ ، ب .
- ٥ - من جدول المنحنى الاعتدالي نبحث عن الارتفاع ص المقابل للمساحة الكبرى أو المساحة الصغرى أ ، ب ونرمز لهذا الارتفاع بالرمز ص .
- ٦ - نطبق القانون السابق والذي يرمز له بالرمز رث .
- ٧ - وفيما يلي جدول ارتفاعات ومساحات المنحنى الاعتدالي الذي يتم من استخراج النسبة المذكورة في الخطوة رقم ٥ . وسيستخدم هذا الجدول عند الكلام على الجزء الخاص بتحويل التوزيع لأقرب توزيع اعتدالي .



## جدول ارتفاعات ومساحات المنحني الاعتدالي

| الارتفاع<br>(ص) | المساحة<br>الكبرى | المساحة<br>الصغرى | الدرجة<br>المعيارية | الارتفاع<br>(ص) | المساحة<br>الكبرى | المساحة<br>الصغرى | الدرجة<br>المعيارية |
|-----------------|-------------------|-------------------|---------------------|-----------------|-------------------|-------------------|---------------------|
| ,٠٨٦٣           | ,٩٥٩٩             | ,٩٥٩٩             | ,٠٤٠١               | ,٣٩٨٩           | ,٥٠٠٠             | ,٥٠٠٠             | ,٠,٠٠               |
| ,٠٧٩٠           | ,٩٦٤١             | ,٠٣٥٩             | ١,٨٠                | ,٣٩٨٤           | ,٥١٩٩             | ,٤٨٠١             | ,٠,٠٥               |
| ,٠٧٢١           | ,٩٦٧٨             | ,٠٣٢٢             | ١,٨٥                | ,٣٩٧٠           | ,٥٣٩٨             | ,٤٦٠٢             | ,٠,١٠               |
| ,٠٦٥٦           | ,٩٧١٣             | ,٠٢٨٧             | ١,٩٠                | ,٣٩٤٥           | ,٥٥٩٦             | ,٤٤٠٤             | ,٠,١٥               |
| ,٠٥٩٦           | ,٩٧٤٤             | ,٠٢٥٦             | ١,٩٥                | ,٣٩١٠           | ,٥٧٩٣             | ,٤٢٠٧             | ,٠,٢٠               |
| ,٠٥٤٥           | ,٩٧٧٢             | ,٠٢٢٨             | ٢,٠٠                | ,٣٨٦٧           | ,٥٩٨٧             | ,٤٠١٢             | ,٠,٢٥               |
| ,٠٤٨٨           | ,٩٧٩٨             | ,٠٢٠٢             | ٢,٠٥                | ,٣٨١٤           | ,٦١٧٩             | ,٣٨٢١             | ,٠,٣٠               |
| ,٠٤٤٠           | ,٩٨٢١             | ,٠١٧٩             | ٢,١٠                | ,٣٧٥٢           | ,٦٣٦٨             | ,٣٦٣٢             | ,٠,٣٥               |
| ,٠٣٩٥           | ,٩٨٤٢             | ,٠١٥٨             | ٢,١٥                | ,٣٦٨٣           | ,٦٥٥٤             | ,٣٤٤٦             | ,٠,٤٠               |
| ,٠٣٥٥           | ,٩٨٦١             | ,٠١٣٩             | ٢,٢٠                | ,٣٦٠٥           | ,٦٧٣٦             | ,٣٢٦٤             | ,٠,٤٥               |
| ,٠٣١٧           | ,٩٨٧٩             | ,٠١٣٢             | ٢,٢٥                | ,٣٥٢١           | ,٦٩١٥             | ,٣٠٨٥             | ,٠,٥٠               |
| ,٠٢٧٨٣          | ,٩٨٩٣             | ,٠١٠٧             | ٢,٣٠                | ,٣٤٢٩           | ,٧٠٨٨             | ,٢٩١٢             | ,٠,٥٥               |
| ,٠٢٥٢           | ,٩٩٠٦             | ,٠٠٩٤             | ٢,٣٥                | ,٣٣٣٢           | ,٧٢٥٧             | ,٢٧٤٣             | ,٠,٦٠               |
| ,٠٢٢٤           | ,٩٩١٨             | ,٠٠٨٢             | ٢,٤٠                | ,٣٢٣٠           | ,٧٤٢٢             | ,٢٥٧٨             | ,٠,٦٥               |
| ,٠١٩٨           | ,٩٩٢٩             | ,٠٠٧١             | ٢,٤٥                | ,٣١٢٧           | ,٧٥٨٠             | ,٢٤٢٠             | ,٠,٧٠               |
| ,٠١٧٥           | ,٩٩٣٨             | ,٠٠٦٢             | ٢,٥٠                | ,٣٠١١           | ,٧٧٣٤             | ,٢٢٢٦٦            | ,٠,٧٥               |
| ,٠١٥٤           | ,٩٩٤٦             | ,٠٠٥٤             | ٢,٥٥                | ,٢٨٩٧           | ,٧٨٨١             | ,٢١١٩             | ,٠,٨٠               |
| ,١٠٣٦           | ,٩٩٥٣             | ,٠٠٤٧             | ٢,٦٠                | ,٢٧٨٠           | ,٨٠٢٣             | ,١٩٧٢             | ,٠,٨٥               |
| ,٠٧١٩           | ,٩٩٦٠             | ,٠٠٤٠             | ٢,٦٥                | ,٢٦٦١           | ,٨١٥٩             | ,١٨٤١             | ,٠,٩٠               |
| ,٠١٠٤           | ,٩٩٦٥             | ,٠٠٢٥             | ٢,٧٠                | ,٢٥٤١           | ,٨٧٨٩             | ,١٧١١             | ,٠,٩٥               |
| ,٠٠٧٩           | ,٩٩٧٤             | ,٠٠٢٦             | ٢,٨٠                | ,٢٤٢٠           | ,٨٤١٧             | ,١٥٨٧             | ١,٠٠                |
| ,٠٠٦٠           | ,٩٩٨١             | ,٠٠١٩             | ٢,٩٠                | ,٢٢٩٩           | ,٨٥٣١             | ,١٤٦٩             | ١,٠٥                |
| ٦٠٠٤٤           | ,٩٩٨٦٥            | ,٠٠١٣٥            | ٣,٠٠                | ,٢١٧٩           | ,٩٦٤٣             | ,١٣٥٧             | ١,١٠                |
| ,٠٠٣٣           | ,٩٩٠٣             | ,٠٠٠٩٧            | ٣,١٠                | ,٢٠٥٩           | ,٨٧٤٩             | ,١٢٥١             | ١,١٥                |
| ,٠٠٢٤           | ,٩٩٩٣١            | ,٠٠٠٦٩            | ٣,٢٠                | ,١٩٤٢           | ,٨٨٤٩             | ,١١٥١             | ١,٢٠                |
| ,٠٠١٢           | ,٩٩٩٦٦            | ,٠٠٠٣٤            | ٣,٤٠                | ,١٨٢٦           | ,٨٩٤٤             | ,١١٥٦             | ١,٢٥                |
| ,٠٠٠٦           | ,٩٩٩٨٤            | ,٠٠٠١٦            | ٣,٦٠                | ,١٧٤١           | ,٩٠٣٢             | ,٠٩٦٨             | ١,٣٠                |
| ,٠٠٠٣           | ,٩٩٩٩٣            | ,٠٠٠٠٧            | ٣,٨٠                | ,١٦٠٤           | ,٩١١٥             | ,٠٨٨٥             | ١,٣٥                |
| ,٠٠٠١           | ,٩٩٩٦٨٣           | ,٠٠٣١٧            | ٤٦٠٠                | ,١٤٩٧           | ,٩١٩٢             | ,٠٨٠٨             | ١,٤٠                |
| ,٠٠٠٠١٥         | ,٩٩٩٩٦٦           | ,٠٠٠٠٣٤           | ٤,٥٠                | ,٢٣٩٤           | ,٩٢٦٥             | ,٠٧٣٥             | ١,٤٥                |
| ,٠٠٠٠٠١٦        | ,٩٩٩٩٩٧           | ,٠٠٠٠٠٣           | ٥,٠٠                | ,١٢٩٥           | ,٩٢٣٢             | ,٠٦٦٨             | ١,٥٠                |
| ,٠٠٠٠٠٠٠٠٠٠     | ٩٩٩٩٩٩٩٩          | ,٠٠٠٠٠٠٠١         | ٦,٠٠                | ,١٣٠٠           | ,٩٢٩٤             | ,٠٦٠٦             | ١,٥٥                |
|                 |                   |                   |                     | ,١١٠٩           | ,٩٤٥٧             | ,٠٥٤٨             | ١,٦٠                |
|                 |                   |                   |                     | ,١٠٢٣           | ,٩٥٠٥             | ,٠٤٩٥             | ١,٦٥                |
|                 |                   |                   |                     | ,٠٩٤٠           | ,٩٥٥٤             | ,٠٤٤٦             | ١,٧٠                |

كيفية استخراج النسبة أو النسبة ب من جدول ارتفاعات المنحنى الاعتمالي :

١ - يوضع في الاعتبار أن قيمة النسبتين بجمعهما معاً تساويان واحد

صحيح .

٢ - نحدد أي النسبتين هي الأصغر في القيمة لنبحث عن الارتفاع المقابل لها من خلال العمود المسمى : المساحة الصغرى . فلو كانت هذه النسبة الصغرى تساوي ٠,٥٠٠ مثلاً فإننا ننظر في عمود المساحة الصغرى ونبحث عن المساحة المساوية تماماً لهذه النسبة ثم نتبع في عمود الارتفاع (ص) القيمة المقابلة لهذه المساحة فنجد أنها تساوي ٠,٠٨٦٣ أي أن الارتفاع ص = ٠,٠٨٦٣

٣ - نحدد النسبة الكبرى ونبحث عن الارتفاع المقابل لها من خلال العمود المسمى : المساحة الكبرى ، فلو كانت هذه النسبة الكبرى تساوي ٠,٥٠٠ (مادامت النسبة الصغرى ٠,٥٠٠ فإن النسبة الثانية أو الكبرى لا بد أن تكون كما في ١ مساوية لـ : ٠,٥٠٠ أي أن نجمع النسبتين ٠,٥٠٠ + ٠,٥٠٠ نجد أنهما يساويان واحد صحيح) فإننا ننظر في عمود المساحة الصغرى ونبحث عن المساحة المساوية تماماً لهذه النسبة ثم نتبع في عمود الارتفاع (ص) القيمة المقابلة لهذه المساحة فنجد أنها تساوي ٠,٠٨٦٣ أي أن الارتفاع ص = ٠,٠٨٦٣

٤ - باستمرار يكون الارتفاع ص المقابل للنسبة الصغرى هو نفسه المقابل للنسبة الكبرى ولذلك يكفي بالحصول على الارتفاع ص من الخطوة رقم ٢ فقط.

### حساب دلالة معامل الارتباط

لا يعتد بقيمة معامل الارتباط سواء أكان كبيراً أو صغيراً إلا إذا كان دالاً ، وتشير الدلالة إلى وجود علاقة حقيقية وجوهرية بين المتغيرين الذي

حسب الارتباط بينهما . ويتم حساب دلالة معامل الارتباط على النحو الآتي :

١ - تتم معرفة عدد أفراد العينة المراد حساب العلاقة أو الارتباط بين متغيرين قياساً فيها ، ويرمز لعدد أفراد العينة بالرمز ن .

٢ - يتم حساب درجة الحرية وهي تساوي ن - ٢ .

٣ - ننظر في جدول دلالة معاملات الارتباط الإحصائية أمام درجة الحرية وتحت النسبتين ٠,٠٥ ، ٠,٠١ ، فإذا كان معامل الارتباط أقل من القيمة الموجودة تحت كل من هاتين النسبتين على حدة كان غير دالاً ، أما إذا كان مساوياً أو أكبر من القيمة الموجودة تحت النسبة ٠,٠١ ، قلنا أنه دال عند ٠,٠١ ، وإذا كان مساوياً أو أكبر من القيمة الموجودة تحت النسبة ٠,٠٥ ، قلنا أنه دال عند ٠,٠٥ .

٤ - يقصد بأن معامل الارتباط دال عند ٠,٠١ ، أن نسبة الثقة في معامل الارتباط المستخرج في البحث تساوي ٩٩٪ ونسبة الشك فيه ١٪ - ويقصد بأن معامل الارتباط دال عند ٠,٠٥ ، أن نسبة الثقة فيه ٩٥٪ ونسبة الشك ٥٪ .

٥ - وفيما يلي جدول دلالة معاملات الارتباط :

## جدول دلالة معامل الارتباط

| درجة الحرية<br>ن - ٢ | الدلالة     |             | درجة الحرية<br>ن - ٢ | الدلالة     |             | درجة الحرية<br>ن - ٢ | الدلالة     |             |
|----------------------|-------------|-------------|----------------------|-------------|-------------|----------------------|-------------|-------------|
|                      | عند<br>٠,٠٥ | عند<br>٠,٠١ |                      | عند<br>٠,٠٥ | عند<br>٠,٠١ |                      | عند<br>٠,٠٥ | عند<br>٠,٠١ |
| ١                    | ٠,٩٩٧       | ١,٠٠٠       | ٨                    | ٠,٦٣٢       | ٠,٧٦٤       | ١٤                   | ٠,٧٩١       | ٠,٩٩٧       |
| ٢                    | ٠,٩٥٠       | ٠,٩٩٠       | ٩                    | ٠,٦٠٢       | ٠,٧٣٥       | ١٣                   | ٠,٧٧٠       | ٠,٩٥٠       |
| ٣                    | ٠,٨٧٨       | ٠,٩٥٩       | ١٠                   | ٠,٥٧٦       | ٠,٧٠٧       | ١١                   | ٠,٧٤٦       | ٠,٩١٧       |
| ٤                    | ٠,٨١١       | ٠,٩١٧       | ١١                   | ٠,٥٥٣       | ٠,٦٧٦       | ١٢                   | ٠,٧٣٤       | ٠,٨٧٤       |
| ٥                    | ٠,٧٥٤       | ٠,٨٧٤       | ١٢                   | ٠,٥٣٢       | ٠,٦٥٠       | ١٣                   | ٠,٧٢٣       | ٠,٨٣٤       |
| ٦                    | ٠,٧٠٧       | ٠,٨٣٤       | ١٣                   | ٠,٥١٠       | ٠,٦٣١       | ١٤                   | ٠,٦٩٧       | ٠,٨٠٧       |
| ٧                    | ٠,٦٦٦       | ٠,٧٩١       | ١٤                   | ٠,٤٩٧       | ٠,٦١٦       | ١٥                   | ٠,٦٧٣       | ٠,٧٦٤       |
| ١٠                   | ٠,٦١٦       | ٠,٧٤٦       | ١٥                   | ٠,٤٨٣       | ٠,٥٩٦       | ١٦                   | ٠,٦٥٣       | ٠,٧٣٥       |
| ٢٠                   | ٠,٥٠٠       | ٠,٦٣٢       | ٢٠                   | ٠,٤٣٣       | ٠,٥٣٢       | ٢٠                   | ٠,٦١٦       | ٠,٦٧٣       |
| ٣٠                   | ٠,٤٥٠       | ٠,٦٠٢       | ٣٠                   | ٠,٤١٣       | ٠,٥١٠       | ٣٠                   | ٠,٥٩٦       | ٠,٦٥٠       |
| ٤٠                   | ٠,٤١٣       | ٠,٥٧٦       | ٤٠                   | ٠,٣٩٧       | ٠,٤٩٧       | ٤٠                   | ٠,٥٧٦       | ٠,٦٣٢       |
| ٥٠                   | ٠,٣٧٦       | ٠,٥٥٣       | ٥٠                   | ٠,٣٨٣       | ٠,٤٨٣       | ٥٠                   | ٠,٥٥٣       | ٠,٦٠٢       |
| ٦٠                   | ٠,٣٤٣       | ٠,٥٣٢       | ٦٠                   | ٠,٣٧٣       | ٠,٤٧٣       | ٦٠                   | ٠,٥٣٢       | ٠,٥٧٦       |
| ٧٠                   | ٠,٣١٦       | ٠,٥١٠       | ٧٠                   | ٠,٣٦٣       | ٠,٤٦٣       | ٧٠                   | ٠,٥١٠       | ٠,٥٥٣       |
| ٨٠                   | ٠,٢٩٧       | ٠,٤٩٧       | ٨٠                   | ٠,٣٥٣       | ٠,٤٥٣       | ٨٠                   | ٠,٤٩٧       | ٠,٥٣٢       |
| ٩٠                   | ٠,٢٨٣       | ٠,٤٨٣       | ٩٠                   | ٠,٣٤٣       | ٠,٤٤٣       | ٩٠                   | ٠,٤٨٣       | ٠,٥١٠       |
| ١٠٠                  | ٠,٢٦٦       | ٠,٤٦٣       | ١٠٠                  | ٠,٣٣٣       | ٠,٤٣٣       | ١٠٠                  | ٠,٤٦٣       | ٠,٤٩٧       |

| درجة الحرية | البيانات |          | درجة الحرية | البيانات |          | درجة الحرية | البيانات |      |
|-------------|----------|----------|-------------|----------|----------|-------------|----------|------|
|             | البيانات | البيانات |             | البيانات | البيانات |             |          |      |
| ٢٧          | ٣٠٣٠     | ١٠٥٠     | ٥٣          | ٧٧٦٠     | ١٨٨٠     | ٢-٧         | ١٨٨٠     | ٧٨١٠ |
| ٢٦          | ٤٦٣٠     | ٥٠٥٠     | ٥٥          | ١٧٧٠     | ٣٥٣٠     | ٠٥          | ٣٥٣٠     | ٥١١٠ |
| ٢٥          | ٧٧٣٠     | ٤٦٣٠     | ٥٦          | ٥٥٦٠     | ٥٤٣٠     | ٠٠١         | ٥٤٣٠     | ١٧٠٠ |
| ٢٤          | ١٧٣٠     | ٨٧٣٠     | ٥٧          | ٤٣٣٠     | ١٠٣٠     | ٠٠١         | ١٠٣٠     | ٧٧٠٠ |
| ٢٣          | ٣٨٣٠     | ٧٨٣٠     | ٥٨          | ٨١٦٠     | ١٧٧٠     | ٠٠١         | ١٧٧٠     | ٧٦٠٠ |
| ٢٢          | ٨٤٣٠     | ٥٨٣٠     | ٥٩          | ٥٠٦٠     | ١٤٣٠     | ٠٠١         | ١٤٣٠     | ٧٨١٠ |
| ٢١          | ١٤٣٠     | ١٤٣٠     | ٦٠          | ٣٨١٠     | ٣٥٣٠     | ٠٠١         | ٣٥٣٠     | ٧٨١٠ |
| ٢٠          | ١٤٣٠     | ١٤٣٠     | ٦١          | ٣٨١٠     | ٣٥٣٠     | ٠٠١         | ٣٥٣٠     | ٧٨١٠ |
| ١٩          | ٥٥٣٠     | ٤٥٣٠     | ٦٢          | ٥٥٣٠     | ٤٥٣٠     | ٠٠١         | ٤٥٣٠     | ٧٨١٠ |
| ١٨          | ٦٣٣٠     | ٦٣٣٠     | ٦٣          | ٦٣٣٠     | ٦٣٣٠     | ٠٠١         | ٦٣٣٠     | ٧٨١٠ |
| ١٧          | ٥٨٣٠     | ٧١٣٠     | ٦٤          | ٥٨٣٠     | ٧١٣٠     | ٠٠١         | ٧١٣٠     | ٧٨١٠ |
| ١٦          | ٧١٣٠     | ٧١٣٠     | ٦٥          | ٧١٣٠     | ٧١٣٠     | ٠٠١         | ٧١٣٠     | ٧٨١٠ |
| ١٥          | ٧١٣٠     | ٧١٣٠     | ٦٦          | ٧١٣٠     | ٧١٣٠     | ٠٠١         | ٧١٣٠     | ٧٨١٠ |
| ١٤          | ٧١٣٠     | ٧١٣٠     | ٦٧          | ٧١٣٠     | ٧١٣٠     | ٠٠١         | ٧١٣٠     | ٧٨١٠ |
| ١٣          | ٧١٣٠     | ٧١٣٠     | ٦٨          | ٧١٣٠     | ٧١٣٠     | ٠٠١         | ٧١٣٠     | ٧٨١٠ |
| ١٢          | ٧١٣٠     | ٧١٣٠     | ٦٩          | ٧١٣٠     | ٧١٣٠     | ٠٠١         | ٧١٣٠     | ٧٨١٠ |
| ١١          | ٧١٣٠     | ٧١٣٠     | ٧٠          | ٧١٣٠     | ٧١٣٠     | ٠٠١         | ٧١٣٠     | ٧٨١٠ |
| ١٠          | ٧١٣٠     | ٧١٣٠     | ٧١          | ٧١٣٠     | ٧١٣٠     | ٠٠١         | ٧١٣٠     | ٧٨١٠ |
| ٩           | ٧١٣٠     | ٧١٣٠     | ٧٢          | ٧١٣٠     | ٧١٣٠     | ٠٠١         | ٧١٣٠     | ٧٨١٠ |
| ٨           | ٧١٣٠     | ٧١٣٠     | ٧٣          | ٧١٣٠     | ٧١٣٠     | ٠٠١         | ٧١٣٠     | ٧٨١٠ |
| ٧           | ٧١٣٠     | ٧١٣٠     | ٧٤          | ٧١٣٠     | ٧١٣٠     | ٠٠١         | ٧١٣٠     | ٧٨١٠ |
| ٦           | ٧١٣٠     | ٧١٣٠     | ٧٥          | ٧١٣٠     | ٧١٣٠     | ٠٠١         | ٧١٣٠     | ٧٨١٠ |
| ٥           | ٧١٣٠     | ٧١٣٠     | ٧٦          | ٧١٣٠     | ٧١٣٠     | ٠٠١         | ٧١٣٠     | ٧٨١٠ |
| ٤           | ٧١٣٠     | ٧١٣٠     | ٧٧          | ٧١٣٠     | ٧١٣٠     | ٠٠١         | ٧١٣٠     | ٧٨١٠ |
| ٣           | ٧١٣٠     | ٧١٣٠     | ٧٨          | ٧١٣٠     | ٧١٣٠     | ٠٠١         | ٧١٣٠     | ٧٨١٠ |
| ٢           | ٧١٣٠     | ٧١٣٠     | ٧٩          | ٧١٣٠     | ٧١٣٠     | ٠٠١         | ٧١٣٠     | ٧٨١٠ |
| ١           | ٧١٣٠     | ٧١٣٠     | ٨٠          | ٧١٣٠     | ٧١٣٠     | ٠٠١         | ٧١٣٠     | ٧٨١٠ |
| ٠           | ٧١٣٠     | ٧١٣٠     | ٨١          | ٧١٣٠     | ٧١٣٠     | ٠٠١         | ٧١٣٠     | ٧٨١٠ |

مثال :

لو أجرى باحث دراسته على عينة مكونة من ثلاثين طالباً من المدارس الثانوية وطبق عليهم في هذه الدراسة اختباراً للذاكرة فكان معامل الارتباط بين درجات هؤلاء التلاميذ على اختبار الذاكرة وأعمارهم ٠٠,٣٧٢ فإن حساب دلالة هذا المعامل يتم كما يلي :

$$١ - \text{درجة الحرية في هذا المثال هي } ق - ٢ = ٣٠ - ٢ = ٢٨ .$$

٢ - وبالكشف عن دلالة هذا المعامل عند درجة الحرية ٢٨ وتحت مستوى ٠,٠٥ ، ٠,٠١ نجد أن قيمته أعلى من القيمة الموجودة تحت ٠,٠٥ ، وأقل من القيمة الموجودة تحت ٠,٠١

٣ - إذاً معامل الارتباط ٠,٣٧٢ دال عند ٠,٠٥ فقط وليس دالاً عند ٠,٠١ أي أن الارتباط حقيقي بنسبة ثقة ٩٥٪ ونسبة شك ٥٪ :

### تعليق على معاملات الارتباط

في معاملات ارتباط التوافق وفاي الثنائي ذكرنا أنها تستخدم في حالة المتغيرات التي تنقسم فيما بينها انقساماً كيفياً . ولا يعني هذا أنها لا تستخدم في حالة المتغيرات التي تنقسم إلى فئات كمية بل ممكن استخدامها في تلك الحالة الأخيرة أيضاً .

تحويل جدول الانتشار المزدوج إلى جدول يستخدم في حساب التوافق وفاي والثنائي :

من السهل القيام بتحويل جدول الانتشار المزدوج إلى جداول يصلح من خلالها حساب معامل ارتباط التوافق ومعامل ارتباط فاي ومعامل الارتباط الثنائي وذلك بهدف التأكد بأكثر من طريقة من قيمة معامل الارتباط

المستخرج (\*) . ويمكن ذلك بطبيعة الحال إذ كانت الفئات التي تنقسم إليها المتغيرات كمية .

مثال :

أجرى باحث دراسة بهدف معرفة العلاقة بين حجم أسرة العامل (س) وبين كمية إنتاجه في العمل (ص) وكانت العلاقة بين س ، ص كما هي في جدول الانتشار الآتي :

| ص \ س | - ٤٠ | - ٣٥ | - ٣٠ | - ٢٠ | - ٢ | مجم |
|-------|------|------|------|------|-----|-----|
| - ١   | ٢    | ٤    | صفر  | ١    | ٢   | ٩   |
| - ٣   | ٦    | ٨    | ٣    | ٢    | ٥   | ٢٤  |
| - ٥   | ٩    | ٣    | ٣    | ٢    | ٢   | ١٩  |
| - ٧   | ١٠   | ٩    | ٧    | ٦    | ١   | ٣٣  |
| مجم   | ٢٧   | ٢٤   | ١٣   | ١١   | ١٠  | ٨٥  |

والجدول السابق من الممكن حساب معامل ارتباط بيرسون عن طريق جدول الانتشار من خلاله . أما إذا أردنا حساب معامل التوافق منه فإن ذلك يتطلب تحويل هذا الجدول إلى جدول موحد الفئات في س ، ص وذلك لأننا كما نعرف في معامل التوافق يجب أن تكون عدد الفئات في المتغير س هي نفس عدد الفئات في المتغير ص ، والجدول السابق عدد فئات س أربعة وعدد فئات ص خمسة ، والمطلوب إذاً بالنسبة

(\*) لا تكون بالضرورة قيمة معامل الارتباط متطابقة عند الحصول عليها بأكثر من طريقة .

لمعامل التوافق جعل عدد فئات ص أربعة بدلاً من خمسة ويتم ذلك بدمج الفئة الأخيرة ٤٠ - في الفئة التي قبلها ٣٥ - . وتتم هذه الخطوة بإضافة التكرارات الموجودة تحت الفئة ٤٠ - في التكرارات المقابلة لها تحت الفئة ٣٥ - . فمثلاً التكرار ٢ في الصف الأول وتحت الفئة ٤٠ - يضاف للتكرار المقابل له ٤ في نفس الصف الأول والموجود تحت الفئة ٣٥ - ليصير التكرار الجديد للفئة ٣٥ - مساوياً ٦ في الصف الأول . وتتم نفس الخطوة السابقة في الصف الثاني والصف الثالث والصف الرابع .

ويكون بذلك الجدول الجديد بعد إضافة الفئة ٤ - إلى الفئة ٣٥ - كما

يلي :

| ص   | ٢٠ | - ٢٥ | - ٣٠ | ٣٥ فما فوق | مج |
|-----|----|------|------|------------|----|
| - ١ | ٢  | ١    | صفر  | ٦          | ٩  |
| - ٣ | ٥  | ٢    | ٣    | ١٤         | ٢٤ |
| - ٥ | ٢  | ٢    | ٣    | ١٢         | ١٩ |
| - ٧ | ١  | ٦    | ٧    | ١٩         | ٣٣ |
| مج  | ١٠ | ١١   | ١٣   | ٥١         | ٨٥ |

وهكذا نجد أن الجدول السابق أصبح المتغير ص له نفس عدد الفئات التي للمتغير س ويمكن بذلك حساب معامل التوافق منه .

وبالنسبة لمعامل فاي يتم دمج تكرارات كل فئتين في المتغير س معاً ويكون ذلك بدمج تكرارات الفئة ٣ - مع تكرارات الفئة ١ - ، ويتم دمج



تكرارات الفئة ٧ - مع تكرارات الفئة ٥ - . كذلك الأمر بالنسبة للمتغير ص  
 يتم دمج تكرارات الفئتين الأولتين معاً ودمج تكرارات الفئات الثلاث الأخيرة  
 مع بعضهم ويكون ذلك بدمج تكرارات الفئة ٢٥ - مع تكرارات الفئة ٢٠ -  
 ودمج تكرارات الفئتين ٣٥ - ، ٤٠ - في الفئة ٣٠ - ويكون شكل الجدول كما  
 يلي :

| ص<br>س    | ٢٠ - | ٣٠ فما فوق | مج |
|-----------|------|------------|----|
| - ١       | ١٠   | ٢٣         | ٣٣ |
| ٥ فما فوق | ١١   | ٤١         | ٢٥ |
| مج        | ٢١   | ٦٤         | ٨٥ |

وفي حالة معامل الارتباط الثاني فإن المتغير ص يظل باقياً كما هو ويتم  
 دمج تكرارات المتغير س كل فئتين في فئة واحدة ، وذلك بضم تكرارات الفئة  
 ٣ - في الفئة ١ - وتكرارات الفئة ٧ - في الفئة ٥ وبذلك يكون شكل الجدول  
 كما يلي :

| ص<br>س | ٢٠ - | ٢٥ - | ٣٠ - | ٣٥ - | ٤٠ - | مج |
|--------|------|------|------|------|------|----|
| - ١    | ٧    | ٣    | ٣    | ١٢   | ٨    | ٣٣ |
| - ٥    | ٣    | ٨    | ١٠   | ١٢   | ١٩   | ٥٢ |
| مج     | ١٠   | ١١   | ١٣   | ٢٤   | ٢٧   | ٨٥ |

## تمارين محلولة على معاملات الارتباط السابقة

٢ - أحسب العلاقة بين المتغيرين س، ص في الجدول الآتي :

| ص<br>س | أعزب | متزوج | مطلق | أرمل | مج |
|--------|------|-------|------|------|----|
| أعزب   | ٧    | ٣     | ٤    | ٦    | ٢٠ |
| متزوج  | ٥    | ٣     | ٨    | ٤    | ٢٠ |
| مطلق   | ٣    | ٧     | ٤    | ٦    | ٢٠ |
| أرمل   | ٥    | ٧     | ٤    | ٤    | ٢٠ |
| مج     | ٢٠   | ٢٠    | ٢٠   | ٢٠   | ٨٠ |

٢ - أحسب العلاقة بين س، ص في الجدول الآتي :

| ص<br>س | أذكياء | أغبياء | مج |
|--------|--------|--------|----|
| ناجحون | ٢٣     | ١٦     | ٢٩ |
| فاشلون | ٣٢     | ٥      | ٢٧ |
| مج     | ٥٥     | ٢١     | ٧٦ |

٣ - أحسب العلاقة بين س، ص في الجدول الآتي :

|       |      |      |      |      |     |
|-------|------|------|------|------|-----|
| ص / س | ١٠ - | ٢٠ - | ٣٠ - | ٤٠ - | مجم |
| ناجح  | ٢    | ٣    | ٥    | ١٠   | ٢٠  |
| راسب  | ٩    | ٨    | ٧    | ٦    | ٣٠  |
| مجم   | ١١   | ١١   | ١٢   | ١٦   | ٥٠  |

الحل :

١ - حل التمرين الأول (معامل التوافق) :

$$\begin{aligned} \text{مجم الصف الأول} &= \frac{{}^2(6)}{20 \times 20} + \frac{{}^2(4)}{20 \times 20} + \frac{{}^2(3)}{20 \times 20} + \frac{{}^2(7)}{20 \times 20} \\ &= \frac{110}{400} = \frac{39 + 16 + 9 + 49}{400} = \end{aligned}$$

$$\begin{aligned} \text{مجم الصف الثاني} &= \frac{{}^2(4)}{20 \times 20} + \frac{{}^2(8)}{20 \times 20} + \frac{{}^2(3)}{20 \times 20} + \frac{{}^2(5)}{20 \times 20} \\ &= 0,29 = \frac{114}{400} = \frac{16 + 64 + 9 + 25}{400} = \end{aligned}$$

$$\begin{aligned} \text{مجم الصف الثالث} &= \frac{{}^2(6)}{20 \times 20} + \frac{{}^2(4)}{20 \times 20} + \frac{{}^2(7)}{20 \times 20} + \frac{{}^2(3)}{20 \times 20} \\ &= 0,28 = \frac{110}{400} = \frac{36 + 16 + 49 + 9}{400} = \end{aligned}$$

$$\begin{aligned} \text{مجم الصف الرابع} &= \frac{{}^2(4)}{20 \times 20} + \frac{{}^2(4)}{20 \times 20} + \frac{{}^2(7)}{20 \times 20} + \frac{{}^2(5)}{20 \times 20} \\ &= 0,27 = \frac{106}{400} = \frac{16 + 16 + 49 + 25}{400} = \end{aligned}$$

$$\text{مجم الصفوف} = 0,27 + 0,28 + 0,29 + 0,28 = 1,12$$

$$\text{معامل التوافق (ق)} = \sqrt{\frac{1}{1,09} - 1} = \sqrt{0,89 - 1} = \sqrt{-0,11} = 0,33$$

$$\text{ق} = \sqrt{0,91 - 1} = \sqrt{-0,09} = 0,3$$

٢ - حل التمرين (معامل فاي):

| ص<br>س | أذكياء | أغبياء | مجم  |
|--------|--------|--------|------|
| ناجحون | أ ٢٣   | ب ١٦   | ٣ هـ |
| فاشلون | ج ٣٢   | د ٥    | ٣٧ و |
| مجم    | ٥٥ ز   | ٢١ ح   | ٧٦   |

$$\text{معامل فاي} = \sqrt{\frac{\text{أدب ح}}{\text{هـ و ز ح}}}$$

$$\text{وبالتعويض} = \sqrt{\frac{32 \times 16 - 5 \times 23}{21 \times 55 \times 37 \times 39}} = \sqrt{\frac{512 - 115}{1767660}}$$

$$\text{فاي} = \frac{397}{1290,99} = 0,31$$

٣- حل التمرين الثالث (معامل الارتباط الثنائي):

| متوسط ب    |           |          |            | متوسط أ    |     |    |     |
|------------|-----------|----------|------------|------------|-----|----|-----|
| ك          | ح         | ك        | ف          | لح         | ح   | ك  | ف   |
|            |           |          |            |            | ١-  | ٢  | -١٠ |
| ٩-         | ١-        | ٩        | -١٠        | ٢-         | صفر | ٣  | -٢٠ |
| -          | صفر       | ٨        | -٢٠        | ٥          | ١+  | ٥  | -٣٠ |
| ٧+         | ١+        | ٧        | -٣٠        | ٥+         | ٢+  | ١٠ | -٤٠ |
| <u>١٢+</u> | <u>٢+</u> | <u>٦</u> | <u>-٤٠</u> | <u>٢٠+</u> |     |    |     |
| ١٠+        |           | ٣٠       |            | ٢٣+        |     | ٢٠ |     |

$$٢٨,٣٣ = ١٠ \times \frac{١٠}{٣٠} + ٢٥ = م \quad ٣٦,٥ = ١٠ \times \frac{٢٣}{٢٠} + ٢٥ = م$$

ع (الانحراف المعياري) للمجموعة الكلية:

| لح        | لح         | ح         | ل         | ف          |
|-----------|------------|-----------|-----------|------------|
| ١١        | ١١-        | ١-        | ١١        | -١٠        |
| -         | -          | صفر       | ١١        | -٢٠        |
| ١٢        | ١٢+        | ١+        | ١٢        | -٣٠        |
| <u>٤٤</u> | <u>٢٢+</u> | <u>٢+</u> | <u>١٦</u> | <u>-٤٠</u> |
|           | ١١,-       |           | ٥٠        |            |
| ٦٧        | <u>٣٤+</u> |           |           |            |
|           | ٢٣+        |           |           |            |

$$ع = \sqrt{١٠ \left( \frac{٢٣}{٥٠} - \frac{٦٧}{٥٠} \right)^2}$$

$$\text{نسبة أ، ب} = 1,34 \text{ } 10,21 - 1,13 \text{ } 10,21 = 1,06 \times 10 = 10,6$$

$$\text{أ} = \frac{10,6}{2} = 5,3$$

$$\text{نسبة ب} = \frac{10,6}{5,3} = 2$$

ص المقابلة لنسبة ص أو نسبة س في جدول ارتفاعات المنحنى

$$\text{الاعتدالي هي} = 0,3867 = 0,39$$

$$\text{س ث} = \frac{0,6 \times 0,4}{0,39} \times \frac{38,33 - 36,50}{10,6} =$$

$$\text{س} = \frac{0,24}{0,39} \times \frac{8,17}{10,6} =$$

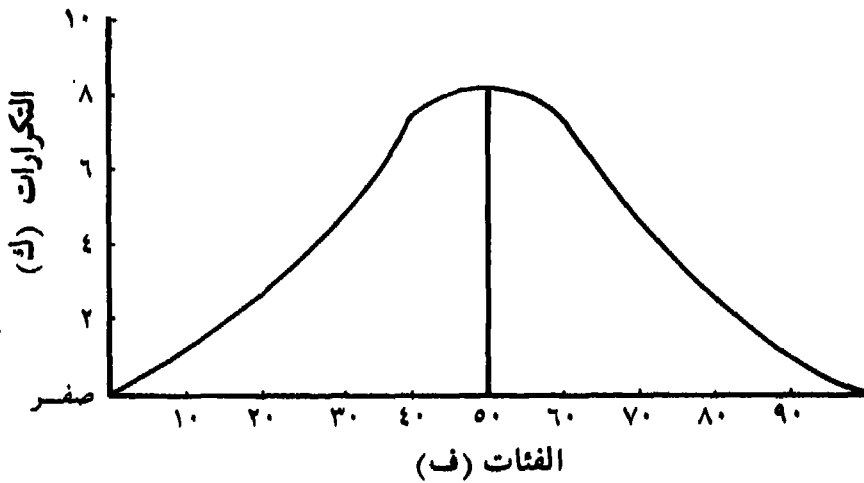
$$=$$

## المنحنى الاعتدالي

«تعديل التوزيع التجريبي لأقرب توزيع اعتدالي»

إذا أجرى باحث اختباراً نفسياً أو استبياناً اجتماعياً على مجموعة من الأشخاص ثم صنف درجات هذا الاختبار أو الاستبيان الاجتماعي في جدول تكراري فإن منحنى توزيع هذه الدرجات يكون اعتدالياً إذا لم تكن هناك أخطاء متعلقة بحجم العينة ومدى تمثيلها للمجتمع أو متعلقة بظروف الاختيار أو الاستبيان من ناحية مناسبه لعمر ومستوى تعليم أفراد العينة من ناحية ولشباته وصدقه من ناحية أخرى، أو متعلقة بظروف الباحث والمبحوث المزاجية عند تطبيق الاختبار، أو متعلقة بالصفة أو السمة المقاسة. وفي هذه الحالة يكون شكل منحنى التوزيع مشابهاً لشكل الجرس كما يلي:

«منحنى التوزيع الاعتدالي».



ومن خصائص المنحنى الاعتدالي :

- ١ - أن نصفاه ينطبقان انطباقاً تاماً على بعضهما البعض .
- ٢ - أن قيمة المتوسط الحسابي والوسيط والمتوال واحده .
- ٣ - أن التكرارات تكون في الأطراف صغيرة القيمة وكبيرة في الوسط .

لكنه نظراً لصعوبة تفادي الأخطاء السابقة في البحوث التجريبية الميدانية والمتعلقة بالعينة والمقياس وظروف الاختبار فإنه من الطبيعي أن نجد أن التوزيع الخاص بدرجات البحوث العملية (التجريبية والميدانية) ينحرف قليلاً أو كثيراً عن التوزيع الاعتدالي . لذلك فإن الباحث يحتاج في كثير من الأحيان إلى تعديل التوزيع حتى ينطبق على التوزيع الاعتدالي Normal distribution Curve ، أي على اعتبار أن سبب انحراف التوزيع التجريبي عن التوزيع الاعتدالي النموذجي راجع إلى أن البحث أجري في الظروف والأخطاء السابقة . والباحث يفترض في هذه الحالة أن السمة التي يقيسها موزعة توزيعاً اعتدالياً في المجتمع الأصلي . وخطوات تعديل التوزيع التجريبي لأقرب توزيع اعتدالي هي :

١ - أحسب المتوسط الحسابي والانحراف المعياري لقيم الجدول التكراري .

٢ - أوجد مراكز الفئات س .

٣ - إ طرح المتوسط الحسابي من كل مركز من مراكز الفئات (س - م) .

٤ - أقسم باقي الطرح على الانحراف المعياري لتحصل على الدرجة

المعيارية لمراكز الفئات  $\frac{(س - م)}{ع}$

٥ - إرجع إلى جدول ارتفاعات المنحنى الاعتمالي لاستخراج

الارتفاع (ص) المقابل لكل درجة معيارية من الدرجات المستخرجة في الخطوة السابقة (ص) .

٦ - أضرب الارتفاعات الناتجة من الخطوة السابقة في معامل ثابت

يساوي  $\frac{ف ن}{ع}$  حيث أن :

ف = مدى الفئة .

ن = مجموع التكرارات .

ع = الانحراف المعياري .

وبضرب الارتفاعات في المعامل الثابت أو المقدار الثابت ينتج

التكرار المعدل المطلوب الذي تنطبق عليه شروط التوزيع الاعتمالي النموذجي (ك) .



مثال :

| ك      | س- م | الارتفاع | ك     |
|--------|------|----------|-------|
| ف      | س    | ع        | (ص)   |
| صفر- ٣ | ١    | ١,٨٣     | ٢,١٩  |
| - ٢    | ٣    | ٠,٩١     | ٧,٤٠  |
| - ٤    | ٥    | صفر      | ١٠,٩٦ |
| - ٦    | ٧    | ٠,٩١     | ٧,٤   |
| - ٨    | ٩    | ١,٨٣     | ٢,١٩  |
|        |      |          | ٣٠,١٤ |

$$م = ٥ + ٢ \times \frac{\text{صفر}}{٣٠} = ٥$$

$$ع = ٢ \sqrt{٢ - \frac{٣٦}{٣٠}} = ١,٠٩٥ \times ٢ = ٢,١٩$$

$$\text{المقدار الثابت} = \frac{٦٠}{٢,١٩} = \frac{٣٠ \times ٢}{٢,١٩} = ٢٧,٤٠$$

ونلاحظ في المثال السابق أن التكرار الاعتمالي المعدل (ك) قريب في قيمته (٣٠, ١٤) من التكرار التجريبي (ك).

تمرين

حول التوزيع التجريبي الآتي لأقرب توزيع اعتدالي .

| ك              | ف    |
|----------------|------|
| ٧              | - ٨  |
| ١٠             | - ١٢ |
| ١٥             | - ٢٦ |
| $\frac{١١}{٦}$ | - ٢٠ |
| ٤٩             | - ٢٤ |

الحل :

| ك     | ص     | م-س   | م-س   | س    | لح | كح  | ح   |
|-------|-------|-------|-------|------|----|-----|-----|
| ٤,٣١  | ,١١   | ١,٦٢- | ٧,٩٢- | ١٠   | ٢٨ | ١٤- | ٢-  |
| ١١,٣٧ | ,٢٩   | ,٠٨-  | ٣,٩٢- | ١٤   | ١٠ | ١٠- | ١-  |
|       | ١٥,٦٨ | ,٤٠   | ,٠٢+  | ,٠٨+ | ١٨ | صفر | صفر |
| ١١,٣٧ | ,٢٩   | ,٨٤+  | ٤,٠٨+ | ٢٢   | ١١ | ١١+ | ١+  |
| ٣,٩٢  | ,١٠   | ١,٦٦+ | ٨,٠٨+ | ٢٦   | ٢٤ | ١٢+ | ٢+  |
|       |       | ٤٦,٦٥ |       |      |    | ٧٣  | ٢٤- |
|       |       |       |       |      |    | ٢٣+ |     |
|       |       |       |       |      |    | ١-  |     |

$$١٧,٩٢ = ,٠٨ - ١٨ = \frac{١}{٤٩} \times ٤ - ١٨ = م$$

$$١,٤٨٦٤ = ,٠٠٤ - ١,٤٩ \quad \frac{١}{٤٩} = \sqrt{\frac{١}{٤٩} - \frac{٧٣}{٤٩}} \quad \frac{١}{٤٩} = ع$$

$$٤,٨٨ = ١,٢٢ \times ٤ =$$

$$المقدار الثابت = \frac{٤٩ \times (*)}{٥} = ٣٩,٢$$

### مساحات المنحنى الاعتدالي

وفيما يلي المساحات المحصورة في المنحنى الاعتدالي ونسبة حالات

التوزيع :

$$\left[ \begin{array}{l} ١ - \text{المتوسط الحسابي} + \text{واحد انحراف معياري} \\ \text{الكلية} \\ \text{والمتوسط الحسابي} - \text{واحد انحراف معياري} \end{array} \right] \text{ ومن نسبة حالات التوزيع } ٢٧,٦٨\% \text{ من المساحة}$$

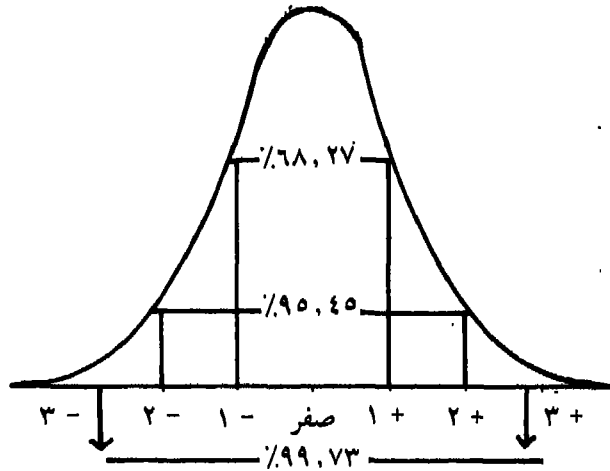
(\*) تم التناهي عن الكسور العشرية في هذا المثال.

٢ - المتوسط الحسابي + اثنين انحراف معياري  
 الكلية  
 ومن نسبة حالات التوزيع ٥٩,٤٥ ٪ من المساحة  
 والمتوسط الحسابي - اثنين انحراف معياري

٣ - المتوسط الحسابي + ثلاثة انحراف معياري  
 الكلية  
 ومن نسبة حالات التوزيع ٩٩,٧٣ ٪ من المساحة  
 والمتوسط الحسابي - ثلاثة انحراف معياري

وتتضح المساحات ونسبة الحالات السابقة في الرسم الآتي :

رسم مساحات ونسبة الحالات في المنحنى الاعتمالي .



## ثانياً

### الدلالة الإحصائية

#### Measurement of Statistical Significant

#### أولاً - الخطأ المعياري للعينه

اتضح في الأجزاء السابقة أن عدم اقتراب التوزيع كما تبين في الرسوم البيانية من التوزيع الاعتدالي من أهم أسبابه أن العينه لا تقترب في خصائصها وحجمها من عينه المجتمع الأصلي . ومن ناحية ثانية أننا لوقمنا بعمل «تحليل متتابع للعينه» Sample Sequential analysis بمقارنتها بالمجتمع الأصلي سنجد مدى التطابق بين العينه والأصل . أي أنه إذا اقتربت قيمة المتوسط في العينه من قيمة المتوسط في المجتمع الأصلي كانت العينه متطابقة مع هذا المجتمع الأصلي . لكن هذا الأمر صعب جداً لأن إمكانية عمل مسح كامل للمجتمع الأصلي تفوق قدرات الأجهزة المسؤولة لوجود المناطق النائية من الواحات والبوادي والصحراء . وللتغلب على ذلك يقترح الإحصائيون سحب عدة عينات متساوية في الحجم من المجتمع الأصلي ويتم حساب المتوسط الحسابي والانحراف المعياري لهذه العينات وحساب الفروق بينها باستخدام المقاييس الخاصة بذلك (والتي سيتم عرضها في الجزء الحالي من الكتاب) فإذا لم توجد فروق بينها فإن ذلك يشير إلى أنها تنتمي لمجتمع أصلي واحد ويمكن اعتبار تلك العينات عينه واحدة .

## الخطأ المعياري :

يشير الخطأ المعياري لأحد المعاملات الإحصائية كالمتوسط أو الوسيط إلى القيمة التي يتراوح حولها حدوث المعامل لو تكررت الدراسة المستخرج منها هذا المعامل مرة ثانية. وعلى هذا الأساس يمكن حساب الخطأ المعياري للمتوسط الحسابي والخطأ المعياري للانحراف والخطأ المعياري للوسيط.

### ١ - الخطأ المعياري للمتوسط الحسابي :

يحسب الخطأ المعياري للمتوسط الحسابي بقسمة الانحراف المعياري للعينة على الجذر التربيعي لعدد أفراد العينة كما يلي :

$$\text{الخطأ المعياري للمتوسط} = \frac{\text{الانحراف المعياري للعينة}}{\sqrt{\text{عدد العينة}}}$$

فإذا كان عدد العينة ٥٠٠، ومتوسطها ٥٠، والانحراف المعياري لدرجات الأفراد فيها ٢٠ كان الخطأ المعياري للمتوسط كالآتي :

$$\text{الخطأ المعياري للمتوسط} = \frac{٢٠}{\sqrt{٥٠٠}} = \frac{٢٠}{٢٢,٣٦} = ٠,٨٩٤$$

وبذلك فإن قيمة هذا المتوسط تتراوح في حالة إعادة الدراسة بين قيمتين تستخرجان في ضوء الخطأ الذي يوافق عليه الباحث في دراسته .

فإذا كانت نسبة الخطأ التي يرضيها الباحث في دراسته هي ٠,٠٥ فالقيمة المقابلة لها تكون ١,٩٦، أما إذا كانت نسبة الخطأ التي يرضيها الباحث ٠,٠١ فإن القيمة المقابلة لها تكون ٢,٥٨.

وعلى هذا الأساس فإن المتوسط الحسابي الحقيقي للمجتمع الأصلي تنحصر قيمته كالآتي :

١ - في حالة نسبة خطأ ٠,٠٥ تتراوح قيمته بين ٥٠ - ١,٩٦ ، ٥٠ + ١,٩٦ أي بين ٤٨,٠٤ ، ٥١,٩٦ .

٢ - في حالة نسبة خطأ ٠,٠١ تتراوح قيمته بين ٥٠ - ٢,٥٨ ، ٥٠ + ٢,٥٨ أي بين ٤٧,٤٢ ، ٥٢,٥٨ .

٢ - الخطأ المعياري للانحراف المعياري :

ويتم حسابه بقسمة الانحراف المعياري على الجذر التربيعي لضعف عدد العينة كما يلي :

$$\frac{\epsilon}{\sqrt{2 \times n}} = \text{الخطأ المعياري للانحراف المعياري}$$

$$\frac{20}{\sqrt{2 \times 500}} = \text{وهو في المثال السابق}$$

$$\frac{20}{\sqrt{1000}} =$$

$$\frac{20}{31,62} =$$

$$0,632 =$$

ويكون الانحراف المعياري الحقيقي في حالة قبول نسبة خطأ ٠,٠٥ ، يتراوح بين ٢٠ - ١,٩٦ × ٠,٦٣٢ = ١,٢٣ - ٢٠) (١٨,٧٧ وبين ٢٠ + ١,٩٦ × ٠,٦٣٢ = ١,٢٣ + ٢٠) أي بين ١٨,٧٧ وبين ٢١,٢٣ .

كما يكون الانحراف المعياري في حالة قبول نسبة خطأ ٠,٠١ يتراوح بين ٢٠ - ٢,٥٨ × ٠,٦٣٢ = ١,٦٣ - ٢٠) (١٨,٣٧ وبين ٢٠ + ٢,٥٨ × ٠,٦٣٢ = ١,٦٣ + ٢٠) أي بين ١٨,٣٧ وبين ٢١,٦٣ .

٣ - الخطأ المعياري للوسيط :

ويتم استخراجها من خلال المعادلة الآتية :

$$\frac{ع \times 1,253}{ن} \sqrt{\quad} = \text{الخطأ المعياري للوسيط}$$

مثال: بلغ الوسيط لدى عينة من التلاميذ عددهم ١٠٠ في أحد اختبارات التحصيل ٥٠ والانحراف المعياري ١٠ فيكون الخطأ المعياري

$$\frac{10 \times 1,253}{100} \sqrt{\quad} = \text{للسيط}$$

$$1,253 = \frac{12,53}{10} =$$

حدود الوسيط:

$$1 - \text{الوسيط} + \text{الخطأ المعياري} = 1,253 \times 1,96 + 50 = 2,455 + 50 = 52,455$$

$$2 - \text{الوسيط} - \text{الخطأ المعياري} = 1,253 \times 1,96 - 50 = 2,455 - 50 = 47,545$$

وذلك بنسبة ثقة ٠,٩٥ وبنسبة شك ٠,٠٥ أما عند نسبة ثقة ٠,٩٩ وبنسبة شك ٠,٠١ فيكون كالاتي:

$$1 - \text{الوسيط} + \text{الخطأ المعياري} = 1,253 \times 2,58 + 50 = 3,23 + 50 = 53,23$$

$$2 - \text{الوسيط} - \text{الخطأ المعياري} = 1,253 \times 2,58 - 50 = 3,23 - 50 = 46,77$$

أي أن الوسيط عند نسبة تأكيد ٠,٩٥ تتراوح قيمته بين ٥٢,٤٥، ٤٧,٥٤

وعند نسبة تأكيد ٠,٩٩ تتراوح قيمته بين ٥٣,٢٣، ٤٦,٧٧

#### ٤- الخطأ المعياري للنسبة المئوية :

ويتم الحصول عليه بحساب الجذر التربيعي للنسبة  $\times$  باقي النسبة مطروحاً من الواحد صحيح مقسوماً على مائة كالاتي :

$$\text{الخطأ المعياري للنسبة} = \sqrt{\frac{\text{النسبة} \times \text{باقي النسبة من الواحد صحيح}}{\text{عدد العينة}}}$$

وعندما تكون النتائج على شكل نسب مئوية يكون القانون :

$$\text{الخطأ المعياري للنسبة المئوية} = 100 \sqrt{\frac{\text{النسبة المئوية} \times \text{الباقي من مائة}}{\text{عدد العينة}}}$$

مثال : أجب ٠,٧٥ من الطلاب بالموافقة على إجراء الانتخابات الطلابية تحت إشراف لجنة محايدة وكان عدد عينة الطلاب الذين طبق عليهم البحث ٥٠٠ خمسمائة طالب، فما المدى الذي تتغير فيه هذه النسبة إذا أعيد إجراء البحث .

$$\text{باقي النسبة يكون} = 1 - 0,75 = 0,25 \text{ ، باقي النسبة المئوية} = 100\% - 75\% = 25\%$$

حل المثال في حالة النسبة :

$$\text{الخطأ المعياري للنسبة} = \sqrt{\frac{0,25 \times 0,75}{500}} = 0,02$$

$$\text{الخطأ المعياري للنسبة المئوية} = 100 \sqrt{\frac{25 \times 75}{500}} = 2$$

- ١- عند مستوى ٠,٠٥ تقع النسبة بين ٠,٧٥ + ١,٩٦  $\times$  ٠,٠٢ = ٠,٧٨ و بين ٠,٧٥ - ١,٩٦  $\times$  ٠,٠٢ = ٠,٧٢
- ٢- عند مستوى ٠,٠١ تقع النسبة بين ٠,٧٥ + ٢,٥٨  $\times$  ٠,٠٢ = ٠,٨٠



$$0,70 = 0,02 \times 2,08 - 0,75$$

حل المثال في حالة النسبة المئوية :

ويمكن تكرار ٢,١ في حالة النسبة المئوية وتنتج نفس النتائج لكن في صورة نسبة مئوية ففي حالة ٠,٠٥ تقع النسبة المئوية بين ٧٢٪ - ٧٨٪، وفي حالة ٠,٠١ تقع النسبة المئوية بين ٧٠٪ - ٨٠٪

٥ - الخطأ المعياري لمعامل الارتباط

ويتم حسابه عن طريق المعادلة الآتية :

$$\frac{r - 1}{\sqrt{1 - n}} = \text{الخطأ المعياري لمعامل الارتباط}$$

مثال : تم حساب معامل الارتباط بين القدرة اللفظية وبين القدرة المكانية وكانت قيمة هذا المعامل ٠,٣ في عينة من ١٠٠ مائة تلميذ .

$$\frac{r(0,3) - 1}{\sqrt{1 - 100}} = \text{الخطأ المعياري لمعامل الارتباط}$$

$$\frac{0,91}{9,94} = \frac{0,09 - 1}{99} =$$

$$0,09 =$$

١ - عند ٠,٠٥ قيمة معامل الارتباط تقع بين ٠,٣ + ١,٩٦ × ٠,٠٩ = ٠,٤٧

وبين ٠,٣ - ١,٩٦ × ٠,٠٩ = ٠,١٣ (بين ٠,١٣ ، ٠,٤٧)

٢ - عند ٠,٠١ قيمة معامل الارتباط وتقع بين ٠,٣ + ٢,٥٨ × ٠,٠٩ =

٠,٥٣ وبين ٠,٣ - ٢,٥٨ × ٠,٠٩ = ٠,٠٧ (بين ٠,٠٧ ، ٠,٥٣)

## ثانياً: مقاييس الدلالة الإحصائية

### Measurement of Statistical Significance

يقوم الباحث في البحوث النفسية والاجتماعية بإجراء بحثه على عينة محدودة العدد طبقاً لإمكانياته، لأنه لا يستطيع عادة أن يطبق البحث على المجتمع الأصلي بأكمله، لكن عندما يستخرج نتيجته فإنه يكون في حالة شك من أن هذه النتيجة التي استخرجها هل راجعة إلى مجرد الصدفة أم راجعة إلى ظاهرة حقيقية في المجتمع الأصلي. ويقتضي هذا تكرار البحث عدة مرات واختيار عينات مختلفة من المجتمع الأصلي للتأكد من أن النتائج التي حصل عليها لا تختلف ولا تتغير في اتجاه مضاد باختلاف العينات التي يجري عليها البحث. وتكرار التجربة يحتاج إلى قدر كبير من الوقت والجهد والنفقات كما سبق الإشارة في خطأ العينة. وتوفر مقاييس الدلالة الإحصائية على الباحث هذا التكرار فهي تبين إلى أي حد يستطيع أن يتأكد من ثبات نتائجه وإلى أي حد يستطيع إرجاعها إلى عامل الصدفة وحده. وستناول هنا مقاييس كثيرة الاستخدام في البحوث هما: مقياس كا<sup>2</sup> أو Quai Square ومقياس «ت» أو T. test، وهذان المقياسان من المقاييس البارامترية Parametre وستناول النوع الآخر من المقاييس وهي المقاييس اللابارامترية Non-parametric عند تناول موضوع الإحصاء المتقدم<sup>(\*)</sup>. كما سنعرض كذلك هنا لدلالة الفرق بين الانحرافات المعيارية، ولدلالة الفرق بين معاملات الارتباط، ولدلالة الإحصائية في المنهج القبلي - بعدي.

(\*) د. سيد محمد خيرى، الإحصاء في البحوث النفسية والتربوية والاجتماعية النهضة العربية -

(١)

مقياس كا<sup>٢</sup>

مقدمة: نفرض أن لدينا صندوقاً من المكعبات كل مكعب فيه ملون بلون من هذه الألوان: أبيض - أزرق - أحمر - أسود، وكان عدد المكعبات الملونة في كل لون متساوياً. فإذا أردنا التأكد من تساوي العدد في هذه الألوان الأربعة فإن الطريقة المباشرة هي القيام بعد جميع الألوان مهما كان الصندوق يتضمن بضعة آلاف من المكعبات. ولكننا نستطيع أن نوفر هذا الوقت والجهد فنأخذ عينة عشوائية وليكن عددها ٢٠ عشرون مكعباً فإذا كان المكتوب صحيحاً فإننا نتوقع أن عدد المكعبات في الألوان المختلفة سيكون ٥ خمسة. ولنفترض أننا حصلنا من العينة على أعداد تختلف عن ذلك بالنسبة للألوان الأربعة فإنه بتطبيق مقياس كا<sup>٢</sup> يتم معرفة هل الاختلاف بين عدد الألوان في العينة وما كنا نتوقع لها اختلافاً جوهرياً أم اختلافاً يرجع إلى الصدفة في اختيار العينة. ولإجراء ذلك نقدم المثال الآتي:

مثال: تم سحب عشرين مكعباً من أحد الصناديق فوجد أن سبعة ٧ منها أبيض اللون، وثلاثة ٣ أحمر اللون، وثلاثة ٣ أزرق اللون، وسبعة ٧ أسود. فهل الاختلاف دالاً في عدد الألوان أم راجع للصدفة؟ وللتحقق من ذلك يتم ما يلي:

١- حساب التكرار النظري بقسمة مجموع المكعبات على عدد الألوان

$$. ٥ = ٤ \div ٢٠$$

٢- أوجد الفرق بين التكرار النظري والتكرار التجريبي حيث يمثل ذلك

الأخير كما في المثال ٧ (أبيض)، ٣ (أحمر)، ٣ (أزرق)، ٧ (أسود).

٣- أوجد مربعات هذه الفروق للتخلص من الإشارات.

(\*) الرمز اللاتيني هو  $\chi^2$ .

٣ - أقسم هذه المربعات على التكرارات النظرية فيكون مجموع خارج القسمة هو قيمة  $\chi^2$ .

٤ - أحسب درجات الحرية بطرح واحد من عدد الفئات (عدد الألوان) في المثال التالي ، درجات الحرية =  $4 - 1 = 3$ .

مثال :

| ف    | ك (تجريبي) ك | ك - ك | (ك - ك) <sup>٢</sup> ك | ك - ك (ك <sup>٢</sup> ) |
|------|--------------|-------|------------------------|-------------------------|
| أبيض | ٧            | ٢ +   | ٤                      | ٠,٨                     |
| أحمر | ٣            | ٢ -   | ٤                      | ٠,٨                     |
| أزرق | ٣            | ٢ -   | ٤                      | ٠,٨                     |
| أسود | ٧            | ٢ +   | ٤                      | ٠,٨                     |
|      | ٢٠           |       |                        | ٣,٢                     |

درجات الحرية (د. ح.) = عدد الفئات - ١ =  $4 - 1 = 3$

أ - حساب دلالة قيمة  $\chi^2$  :

نبحث في جدول دلالة  $\chi^2$  عند درجة الحرية ٣ وتحت مستوى القيمة الموجودة تحت ٠,٠٥ ، ٠,٠١ ، ٠,٠٠١ ، فإذا كانت قيمة  $\chi^2$  مساوية أو أكبر من القيمة الموجودة تحت ٠,٠٥ كان الفرق دالاً عند ٠,٠٥ وإذا كانت قيمة  $\chi^2$  مساوية أو أكبر من القيمة الموجودة تحت ٠,٠١ كان الفرق بين التكرار النظري والتجريبي دالاً عند ٠,٠١ وإذا كانت قيمة  $\chi^2$  مساوية أو أكبر من القيمة الموجودة تحت ٠,٠٠١ كان الفرق بين التكرار التجريبي والتكرار النظري دالاً عند ٠,٠٠١ وفيما يلي جدول قيم  $\chi^2$  عند مستوى ٠,٠٥ ، ٠,٠١ ، ٠,٠٠١ .

جدول قيم كا<sup>٢</sup> عند مستويات الدلالة ٠,٠٥ ، ٠,٠١ ، ٠,٠٠١

| ٠,٠٠١ | ٠,٠١  | ٠,٠٥  | د  | ٠,٠٠١ | ٠,٠٠١ | ٠,٠٥  | ح.٥ |
|-------|-------|-------|----|-------|-------|-------|-----|
| ٣٩,٢٥ | ٣٢,٠٠ | ٢٦,٣٠ | ١٦ | ١٠,٨٣ | ٦,٦٤  | ٣,٨٤  | ١   |
| ٤٢,٧٩ | ٣٣,٤١ | ٢٧,٥٩ | ١٧ | ١٣,٨٢ | ٩,٢١  | ٥,٩٩  | ٢   |
| ٤٢,٣١ | ٣٤,٨٠ | ٢٨,٧٨ | ١٨ | ١٦,٢٧ | ١١,٣٤ | ٧,٨٢  | ٣   |
| ٤٣,٨٢ | ٣٦,١٩ | ٣٠,١٤ | ١٩ | ١٨,٤٦ | ١٣,٢٨ | ٩,٤٩  | ٤   |
| ٤٥,٣٢ | ٣٧,٥٧ | ٣١,٤١ | ٢٠ | ٢٠,٥٢ | ١٥,٠٩ | ١١,٠٧ | ٥   |
| ٤٦,٨٠ | ٣٨,٩٣ | ٣٢,٦٧ | ٢١ | ٢٢,٤٦ | ١٦,٨١ | ١٢,٥٩ | ٦   |
| ٤٨,٢٧ | ٤٠,٢٩ | ٣٣,٩٢ | ٢٢ | ٣٤,٣٢ | ١٨,٤٨ | ١٤,٠٧ | ٧   |
| ٤٩,٧٣ | ٤١,٦٤ | ٣٥,١٧ | ٢٣ | ٢٦,٧٢ | ٢٠,٠٩ | ١٥,٥١ | ٨   |
| ٥١,١٨ | ٤٢,٩٨ | ٣٦,٤٢ | ٢٤ | ٢٧,٨٨ | ٢١,٦٧ | ١٦,٩٢ | ٩   |
| ٥٢,٦٢ | ٤٤,٣١ | ٣٧,٦٥ | ٢٥ | ٢٩,٥٩ | ٢٣,٢١ | ١٨,٣١ | ١٠  |
| ٥٤,٠٥ | ٤٥,٦٤ | ٣٨,٨٨ | ٢٦ | ٤١,٢٦ | ٢٤,٧٢ | ١٩,٦٨ | ١١  |
| ٥٥,٤٨ | ٤٦,٩٦ | ٤٠,١١ | ٢٧ | ٣٢,٩١ | ٢٦,٢٢ | ٢١,٠٣ | ١٢  |
| ٥٦,٨٩ | ٤٨,٢٨ | ٤١,٣٤ | ٢٨ | ٣٤,٥٣ | ٢٧,٦٩ | ٢٢,٣٦ | ١٣  |
| ٥٨,٣٠ | ٤٩,٥٩ | ٤٢,٥٦ | ٢٩ | ٣٦,١٢ | ٢٩,١٤ | ٢٣,٦٨ | ١٤  |
| ٥٩,٧٠ | ٥٠,٨٩ | ٣٧,٧٧ | ٣٠ | ٣٧,٢٠ | ٣٠,٥٨ | ٢٥,٠٠ | ١٥  |

والمقصود بمستويات الدلالة الثلاث في الجدول:

- ١- دال عند ٠,٠٥ أي أن مستوى الثقة ٩٥% والشك ٥%.
- ٢- دال عند ٠,٠١ أي أن مستوى الثقة ٩٩% والشك ١%.
- ٣- دال عند ٠,٠٠١ أي مستوى الثقة ٩٩,٩% والشك ٠,١%.

وبالنظر للمثال السابق نجد أن قيمة كا<sup>٢</sup> والتي تساوي ٣,٢ ليس لها دلالة إحصائية لأنها أقل من قيم كا<sup>٢</sup> الموجودة في الجدول عند درجة الحرية

ثلاثة وتحت المستويات ٠٥,٠١ ، ٠١,٠١ ، ٠٠,٠٠١ فالمفروض إذا كانت دالة عند ٠,٠٥ تكون قيمتها بين ٧,٨٢ - ١١,٣٣ ، وإذا كانت دالة عند ٠,٠١ تكون قيمتها بين ١١,٣٤ - ١٦,٢٦ ، وإذا كانت دالة عند ٠,٠٠١ تكون قيمتها ١٦,٢٧ فما فوق .

ب - استخدام ك<sup>٢</sup> في حساب مدى قرب أو بعد التوزيع التجريبي عن التوزيع الاعتمالي :

عرفنا عندما تكلمنا عن تعديل التوزيع التجريبي لأقرب توزيع اعتمالي الخطوات الخاصة بذلك حتى نصل للتوزيع النظري المتوقع والذي رمزنا له بالرمز ك<sup>٢</sup>. والسؤال هو هل ينطبق التوزيع التجريبي على التوزيع الاعتمالي؟. ونحتاج إلى اختبار ك<sup>٢</sup> لحساب مدى قرب أو بعد التوزيع التجريبي عن التوزيع الاعتمالي كما في المثال الآتي :

| ف     | ك  | ح   | ك <sup>٢</sup> ح | س   | س - م | س - م<br>ع | ص    | ك    |
|-------|----|-----|------------------|-----|-------|------------|------|------|
| صفر - | ٣  | ٢ - | ٦ -              | ١٢  | ١     | ٤ -        | ٠,١٥ | ١,٥  |
| -٢    | ٦  | ١ - | ٦ -              | ٦   | ٣     | ٢ -        | ٠,٢٤ | ٧,٢  |
| -٤    | ١٢ | صفر | صفر              | صفر | ٥     | صفر        | ٠,٤٠ | ١٢   |
| -٦    | ٦  | ١ + | ٦ +              | ٦   | ٧     | ٢ +        | ٠,٢٤ | ٧,٢  |
| -٨    | ٣  | ٢ + | ٦ +              | ١٢  | ٩     | ٤ +        | ٠,١٥ | ١,٥  |
|       | ٣٠ | صفر | صفر              | ٣٦  |       |            |      | ٢٩,٤ |

$$٥ = م$$

$$٢ = ع$$

$$٣٠ = \frac{٣٠ \times ٢}{٢} = \text{المقدار الثابت}$$

وبعد الحصول على التكرار النظري ك<sup>٢</sup> يتم استخدام كا<sup>٢</sup> لاختيار مدى انطباق التوزيع :

| ك - ك <sup>٢</sup>          | ك - ك <sup>٢</sup> | ك - ك <sup>٢</sup> | ك <sup>٢</sup> | ك  | ف   |
|-----------------------------|--------------------|--------------------|----------------|----|-----|
| ١,٥٠                        | ٢,٢٥               | ١,٥ +              | ١,٥            | ٣  | صفر |
| ١,٢٠                        | ١,٤٤               | ١,٢ -              | ٧,٢            | ٦  | - ٢ |
| صفر                         | صفر                | صفر                | ١٢             | ١٢ | - ٤ |
| ١,٢٠                        | ١,٤٤               | ١,٢ -              | ٧,٢            | ٦  | - ٦ |
| <u>١,٥٠</u>                 | ٢,٢٥               | ١,٥ +              | ١,٥            | ٣  | - ٨ |
| قيمة كا <sup>٢</sup> = ٣,٤٠ |                    |                    |                |    |     |

ج - حساب دلالة كا<sup>٢</sup> :

ولحساب دلالة كا<sup>٢</sup> في حالة مدى انطباق التوزيع على التوزيع الاعتمالي يتم حساب درجة الحرية وهي في هذه الحالة تساوي عدد الفئات - ٣ لأننا نكون مقيدين بثلاثة قيود هي المتوسط والانحراف المعياري والمقدار الثابت .

$$د . ح = ٥ - ٣ = ٢$$

وبالنظر لجدول قيم كا<sup>٢</sup> عند درجة الحرية اثنين وتحت مستوى ٠,٠٥ ، ٠,٠١ ، ٠,٠٠١ نجد أن القيمة المستخرجة من المثال السابق أقل من الموجودة في الجدول عند المستويات الثلاث ٠,٠٥ ، ٠,٠١ ، ٠,٠٠١ . ومعنى ذلك أن التوزيع التجريبي لا يختلف عن التوزيع الاعتمالي .

تعديل ييتس Yates للتكرارات الصغيرة عند حساب كا<sup>٢</sup>

يتم تعديل الفرق بين التكرار النظري والتجريبي (ك - ك<sup>٢</sup>) بطرح قيمة

مقدارها ٠,٥ من كل فرق وذلك إذا احتوت إحدى التكرارات التجريبية على قيمة أقل من خمسة مثال :

| ك - ك <sup>٢</sup>    | ك - ك (ك المعدل) | ك - ك <sup>٢</sup> | ك - ك | ك | ك |
|-----------------------|------------------|--------------------|-------|---|---|
| ٠,٥٦                  | ٢,٢٥             | ١,٥ -              | ٢ -   | ٤ | ٢ |
| ٠,٠٦                  | ٦,٢٥             | ,٥ +               | ٣ +   | ٤ | ٧ |
| <u>٠,٠٦</u>           | ٠,٢٥             | ٠,٥ -              | ١ -   | ٤ | ٣ |
| ١,٦٨ = ك <sup>٢</sup> |                  |                    |       |   |   |

والملاحظ على التكرارات التجريبية أن بها تكرارين أقل من خمسة ولذلك قمنا بعمل التعديل الذي اقترحه بيتس Yates Correction\* فتم طرح قيمة مقدارها نصف من كل فرق بين التكرار النظري والتكرار التجريبي، ويتم بعد تربيع (ك - ك المعدل) وإجراء باقي الخطوات المعتادة.

د- حساب قيمة ك<sup>٢</sup> من الجدول المزدوج :

يمكن حساب قيمة ك<sup>٢</sup> من الجدول المزدوج ومعرفة دلالتها وفيما يلي مثالاً لذلك :

أجرى باحث دراسة على مجموعتين من الذكور والإناث بهدف معرفة هل هناك فرقاً له دلالة إحصائية بين تكرارات المجموعتين والتكرارات المتوقعة بالنسبة لإجابتهما على أحد مقاييس الرأي العام. وكانت تكرارات كل مجموعة على أحد أسئلة المقياس كما يلي :

(\*) هناك تصحيح اقترحه فيشر Fisher وذلك بطرح قيمة مقدارها واحد من كل فرق بين ك - ك<sup>٢</sup> ويسمى هذا التصحيح باسم : تصحيح فيشر بيتس Fisher Yates Correction



| المجموع | إناث | ذكور | الجنس<br>الإيجابية |
|---------|------|------|--------------------|
| ٥٠      | ب ٢٠ | أ ٣٠ | موافق              |
| ٢٠      | د ٨  | ح ١٢ | معارض              |
| ٨       | و ٦  | هـ ٢ | محايد              |
| ٧٨      | ٣٤   | ٤٤   | المجموع            |

وتتلخص الخطوات الخاصة بحساب  $\chi^2$  فيما يلي :

١ - الحصول على التكرار النظري لكل تكرار تجريبي وذلك بضرب مجموع عمود التكرار الأول في مجموع تكرار الصف كالاتي :

$$\chi^2_A = 28, 21 = \frac{50 \times 44}{78} = 30 \text{ المقابل للتكرار التجريبي}$$

$$\chi^2_B = 21, 79 = \frac{50 \times 34}{78} = 20 \text{ المقابل للتكرار التجريبي}$$

$$\chi^2_C = 11, 28 = \frac{20 \times 44}{87} = 12 \text{ المقابل للتكرار التجريبي}$$

$$\chi^2_D = 8, 71 = \frac{20 \times 34}{78} = 8 \text{ المقابل للتكرار التجريبي}$$

$$\chi^2_E = 4, 51 = \frac{8 \times 44}{78} = 2 \text{ المقابل للتكرار التجريبي}$$

$$\chi^2 = 3, 49 = \frac{8 \times 34}{78} = 6 \text{ والمقابل للتكرار التجريبي}$$

٢ - يتم حساب  $\chi^2$  بالطريقة العادية على النحو الاتي :

(ك - ك')

| ك  | ك' | ك - ك' المعدل (**) | ك - ك' | ك  | ك' |
|----|----|--------------------|--------|----|----|
| ٣٠ | ٢٨ | ١,٥ +              | ٢ +    | ٢٨ | ٣٠ |
| ٢٠ | ٢٢ | ١,٥ -              | ٢ -    | ٢٢ | ٢٠ |
| ١٢ | ١١ | ٠,٥ +              | ١ +    | ١١ | ١٢ |
| ٨  | ٩  | ٠,٥ -              | ١ -    | ٩  | ٨  |
| ٢  | ٥  | ٢,٥ -              | ٣ -    | ٥  | ٢  |
| ٦  | ٤  | ١,٥ +              | ٢ +    | ٤  | ٦  |

٢,٠٦ = كا

٣- ويتم حساب درجات الحرية في هذا المثال كما يلي :

$$د. ح = \text{عدد الأعمدة}(**) - ١ \times \text{عدد الصفوف}(**) - ١$$

$$د. ح = ١ - ٣ \times ١ - ٢ = ١$$

$$د. ح = ٢ \times ١ = ٢$$

٤- يتم البحث عن قيمة كا' في الجدول عند درجة الحرية ٢ تحت مستوى ٠,٠٥, ٠,٠١, ٠,٠٠١، فنجد أن القيمة المستخرجة من المثال السابق أقل من تلك القيم.

هـ- حساب معامل التوافق من كا' :

يمكن حساب معامل التوافق من قيمة كا' بالمعادلة الآتية :

(\*) وذلك لوجود أحد التكرارات التجريبية (ك) يقل مقداره عن خمسة وهو التكرار الأخير وقيمه اثنين .

(\*\*) عدد الأعمدة اثنين أي ذكور وإناث، وعدد الصفوف ثلاثة أي موافق، معارض ومحيد.

$$\sqrt{\frac{١٤}{١٤ + ق}} = ق$$

(٢)

### اختبار «ت» T. Test

يستخدم اختبار «ت» للمقارنة بين متوسطين تجريبيين . وهدفه التأكد من أن الفرق بين المتوسطين الناتجين من عينتين فرق ثابت أي له دلالة ، أم أنه فرق ناتج عن الصدفة وظروف اختيار العينة بمعنى أنه إذا تكرر البحث عدة مرات فإن هذا الفرق لن يظهر مرة ثانية .

ولاختبار «ت» قانونين أحدهما في حالة تساوي عدد أفراد العينة في المجموعتين والثانية في حالة عدم تساوي العدد في المجموعتين .  
أ - قانون اختبار «ت» في حالة تساوي العدد في المجموعتين .

$$ت^{(*)} = \sqrt{\frac{٢م - ١م}{١ع + ٢ع}} = \frac{٢م - ١م}{١ - ن}$$

- ١م = المتوسط الحسابي للمجموعة الأولى .
- ٢م = المتوسط الحسابي للمجموعة الثانية .
- ١ع = الانحراف المعياري للمجموعة الأولى .
- ٢ع = الانحراف المعياري للمجموعة الثانية .
- ن = عدد أفراد العينة في أي (واحد) من المجموعتين .

ب - قانون اختبار «ت» في حالة اختلاف العدد في المجموعتين

$$ت = \sqrt{\frac{٢م - ١م}{\frac{١}{٢ن} + \frac{١}{١ن} \times \frac{٢ع٢ن + ١ع١ن}{٢-١ن + ١ن}}}$$

حيث أن :

- م ١ = المتوسط الحسابي للمجموعة الأولى .  
 م ٢ = المتوسط الحسابي للمجموعة الثانية .  
 ن ١ = عدد أفراد المجموعة الأولى .  
 ن ٢ = عدد أفراد المجموعة الثانية .  
 ع ١ = الانحراف المعياري للمجموعة الأولى .  
 ع ٢ = الانحراف المعياري للمجموعة الثانية .

ج- مستوى الدلالة الإحصائية (ألفاً) :

يرمز لمستوى الدلالة الإحصائية Statistical level of significance بالحرف الإغريقي:  $\alpha$  ألفا. وقيم الدلالة الإحصائية تكون في الغالب في معظم البحوث عند المستويات الآتية :

٠,٠٥

٠,٠١

٠,٠٠١

وفي العادة يختار الباحث مستوى دلالة الفرق الذي يقبله بين المجموعتين في دراسته منذ البداية ليرفض الفرض أو يقبله إذا كانت القيمة المستخرجة أقل من تلك الموجودة عند ذلك المستوى الذي قبله .

### أمثلة

١- حساب اختبار «ت» في حالة تساوي العدد في المجموعتين

أولاً : من القيم الخام

طبق باحث اختباراً للطلاقة اللفظية على مجموعتين من الذكور

والإناث عدد كل منهما ستة ، فكانت درجات كل مجموعة على هذا الاختبار كما يلي :

| المجموعة ب |           |         |     | المجموعة أ |           |         |     |
|------------|-----------|---------|-----|------------|-----------|---------|-----|
| ق          | القيم (س) | ح (م-س) | ح   | ق          | القيم (س) | ح (م-س) | ح   |
| ١          | ٣         | ٣-      | ٩   | ١          | ٥         | صفر     | صفر |
| ٢          | ١٢        | ٦+      | ٣٦  | ٢          | ١٠        | ٥+      | ٢٥  |
| ٣          | ١٥        | ٩+      | ٨١  | ٣          | ٨         | ٣+      | ٩   |
| ٤          | ٤         | ٢-      | ٤   | ٤          | ٤         | ١-      | ١   |
| ٥          | ١         | ٥-      | ٢٥  | ٥          | ٢         | ٣-      | ٩   |
| ٦          | ١         | ٥-      | ٢٥  | ٦          | ١         | ٤-      | ١٦  |
|            | ٣٩        |         | ١٨٠ |            | ٣٠        |         | ٦٠  |

$$٦ = \frac{٣٦}{٦} = ٦م$$

$$٥,٤٨ = \frac{\sqrt{١٨٠}}{٦} = ٦ع$$

$$٥ = \frac{٣٠}{٦} = \frac{\text{مجموع القيم}}{\text{ق}} = ٦م$$

$$\frac{\sqrt{٦٠}}{٦} = \frac{\sqrt{\sum \frac{١}{ق}}}{٦} = ٦ع$$

$$\sqrt{\frac{٣,١٦}{١٠}} =$$

فهل هناك فرق له دلالة إحصائية بين متوسط المجموعتين ؟ . وبحساب

قيمة «ت» كما يلي :

$$ت = \frac{\frac{١}{٣٠+١٠} \sqrt{\frac{٥-٦}{١-٦}}}{\frac{١(٥,٤٨) + ١(٣,١٦)}{١-٦}}$$

$$\frac{1}{\sqrt{8,004}} = \frac{\sqrt{30,03 + 9,99}}{5} = \frac{1}{\sqrt{5}} =$$

$$0,35 = \frac{1}{\sqrt{8,12}} = \frac{1}{\sqrt{8}} = t$$

حساب دلالة قيمة «ت» :

يتم الكشف عن دلالة قيمة اختبار «ت» من الجدول الخاص بذلك ويتم الحصول أولاً على درجة الحرية وهي تساوي في مثالنا السابق ٦ - ١ = ٥ . وبعد ذلك ننظر في الجدول عند درجة الحرية ٥ تحت مستوى ٠,٠٥ ، ٠,٠١ ، ٠,٠٠١ فإذا كانت قيمة اختبار «ت» التي في الجدول عند أي من النسب الثلاث أكبر من القيمة المستخرجة في المثال كان الفرق غير دال بين المجموعتين أما إذا كانت قيمة اختبار «ت» التي في الجدول عند أي من النسب الثلاث (٠,٠٥ ، ٠,٠١ ، ٠,٠٠١) أقل من القيمة المستخرجة في المثال كان الفرق دالاً عند النسبة التي تكون قيمتها أقل من القيمة المستخرجة من المثال .

جدول دلالة «ت»

|       | ٠,٠١  | ٠,٠٥  | د.ح.    | ٠,٠٠١   | ٠,٠١   | ٠,٠٥   | دخ |
|-------|-------|-------|---------|---------|--------|--------|----|
| ٣,٩٢٢ | ٢,٨٧٨ | ٢,١٠١ | ١٨      | ٦٣٩,٦١٩ | ٦٣,٦٥٧ | ١٢,٧٠٦ | ١  |
| ٣,٨٨٣ | ٢,٨٦١ | ٢,٠٩٣ | ١٩      | ٣٠,٥٩٨  | ٩,٩٢٥  | ٤,٣٥٢  | ٢  |
| ٣,٨٥٠ | ٢,٨٤٥ | ٢,٠٨٦ | ٢٠      | ٢٢,٩٤١  | ٥,٨٤١  | ٣,١٨٢  | ٣  |
| ٣,٨١٩ | ٢,٨٣٠ | ٢,٠٨٠ | ٢١      | ٨,٦١٠   | ٤,٦٠٤  | ٢,٧٧٦  | ٤  |
| ٣,٧٩٢ | ٣,٨١٩ | ٢,٠٧٤ | ٢٢      | ٦,٨٥٩   | ٤,٠٣٢  | ٢,٥٧١  | ٥  |
| ٣,٧٦٧ | ٢,٨٠٧ | ٢,٠٦٩ | ٢٣      | ٥,٤٥٩   | ٣,٧٧٠  | ٢,٤٤٧  | ٦  |
| ٣,٧٤٥ | ٢,٧٩٧ | ٢,٠٦٤ | ٢٤      | ٥,٤٠٥   | ٣,٤٩٩  | ٢,٣٦٥  | ٧  |
| ٣,٧٢٥ | ٢,٧٨٧ | ٢,٠٦٠ | ٢٥      | ٥,٠٤١   | ٣,٣٥٥  | ٢,٣٠٦  | ٨  |
| ٣,٧٠٧ | ٢,٧٧٩ | ٢,٠٥٦ | ٢٦      | ٤,٧٨٠   | ٣,٢٥٠  | ٢,٢٦٢  | ٩  |
| ٣,٦٩٠ | ٢,٧٧١ | ٢,٠٥٢ | ٢٧      | ٤,٥٨٧   | ٣,١٦٩  | ٢,٢٢٨  | ١٠ |
| ٣,٦٧٤ | ٢,٧٦٣ | ٢,٠٤٨ | ٢٨      | ٤,١٣٧   | ٣,١٠٦  | ٢,٢٠١  | ١١ |
| ٣,٦٥٩ | ٢,٧٥٦ | ٢,٠٤٥ | ٢٩      | ٤,٣١٨   | ٣,٠٥٥  | ٢,١٨٩  | ١٢ |
| ٣,٦٤٦ | ٢,٧٥٠ | ٢,٠٣٢ | ٣٠      | ٤,٣٢١   | ٣,٠١٢  | ٢,١٦٠  | ١٣ |
| ٣,٥٥١ | ٢,٧٠٤ | ٢,٠٢  | ٤٠      | ٤,١٤٠   | ٢,٩٧٧  | ٢,١٤٥  | ١٤ |
| ٣,٤٦  | ٢,٦٦٠ | ٢,٠٠  | ٦٠      | ٤,٠٧٣   | ٢,٩٤٧  | ٢,١٣١  | ١٥ |
| ٣,٣٧٣ | ٢,٦١٧ | ١,٩٨٠ | ١٢٠     | ٤,٠١٥   | ٢,٩٢١  | ٢,١٢٠  | ١٦ |
| ٣,٢٩١ | ٢,٥٧٦ | ١,٩٦٠ | فما فوق | ٣,٩٦٥   | ٢,٨٩٨  | ٢,١١٠  | ١٧ |

وبالنظر للجدول السابق نجد أن قيمة «ت» المستخرجة في المثال السابق وهي ٠,٣٥ ليس لها دلالة إحصائية عند ٠,٠٥ أو ٠,٠١ أو ٠,٠٠١ أمام درجة الحرية ٥.

ثانياً: من الجدول التكراري

وتتبع الخطوات الآتية في حساب قيمة ت من الجداول التكرارية حيث يتم حساب م، ع أولاً:

| ب               |     |     |    |    | أ               |     |     |    |     |
|-----------------|-----|-----|----|----|-----------------|-----|-----|----|-----|
| لح <sup>٢</sup> | لح  | ح   | ك  | ف  | كح <sup>٢</sup> | كح  | ح   | ك  | ف   |
| ٥               | ٥ - | ١ - | ٥  | -٣ | ٥               | ٥ - | ١ - | ٥  | -٤  |
| -               | -   | صفر | ١٠ | -٥ | -               | -   | صفر | ٨  | -   |
| ٥               | ٥ + | ١ + | ٥  | -٧ | ٧               | ٧ + | ١ + | ٧  | -١٢ |
| ١٠              | صفر |     | ٢٠ |    | ١٢              | ٢ + | ٢٠  | ٢٠ |     |

$$٦ = م$$

$$ع = \sqrt{٢,٥}$$

$$١,٤٢ = ,٧١ \times ٢ =$$

$$١٠,٤ = ٤ \times \frac{٢}{٢٠} + ١٠ = م$$

$$ع = \sqrt{\frac{٢(٢)}{٢٠} - \frac{١٢}{٢}}$$

$$ع = \sqrt{٠,٠١ - ,٦}$$

$$ع = ,٥٩٩٤ = ,٧٧ \times ٤ = ٣,٠٨$$

وبعد حساب قيمة م، ع لكل من المجموعتين أ، ب يتم استخراج قيمة

ت كما يلي:

$$ت = \frac{\frac{٤,٤}{٢,٠٢ + ٩,٤٩}}{١٩} \sqrt{٦ - ١٠,٤} = \frac{\sqrt{٢(١,٤٢) + ٢(٣,٠٨)}}{١ - ٢٠}$$

$$ت = \frac{٤,٤}{١,٥١}$$

$$ت = ٥,٧٩ = \frac{٤,٤}{,٠٧٦} = \frac{٤,٤}{,٥٨} \sqrt{١١,٢} = \frac{٤,٤}{١٩} \sqrt{١١,٢}$$



الدلالة: بالنظر في جدول قيم ت السابق عند درجة حرية (٢٠ - ١) ١٩  
 وتحت مستوى ٠,٠٥, ٠,٠١, ٠,٠٠١ نجد أن قيمة ت المستخرجة في هذا  
 المثال لها دلالة عند ٠,٠٠١ وذلك لأن قيمة ت المستخرجة من المثال  
 السابق أكبر من القيمة الموجودة عند مستوى ٠,٠٠١.

## ٢- حساب اختبار «ت» في حالة اختلاف

العدد في المجموعتين

أولاً: من القيم الخام

أجريت دراسة على مجموعتين من الذكور والإناث طبق عليهم فيها:  
 اختباراً سوسيو مترياً (العلاقة الاجتماعية) فكانت درجات كل مجموعة من  
 المجموعتين والتي بلغ عدد الذكور فيها ستة وعدد الإناث خمسة كما يلي:

| الإناث |       |     |                | الذكور |       |     |                |
|--------|-------|-----|----------------|--------|-------|-----|----------------|
| ق      | القيم | ح   | ح <sup>٢</sup> | ق      | القيم | ح   | ح <sup>٢</sup> |
| ١      | ١٥    | ١+  | ١              | ١      | ٥     | صفر | ١              |
| ٢      | ١٩    | ٥+  | ٢٥             | ٢      | ١٠    | ٥+  | ٢٥             |
| ٣      | ١٦    | ٢+  | ٩              | ٣      | ٨     | ٣+  | ٩              |
| ٤      | ١٠    | ٤-  | ١٦             | ٤      | ٤     | ١-  | ١              |
| ٥      | ١٠    | ٤-  | ١٦             | ٥      | ٢     | ٣-  | ٩              |
| ٦      |       |     |                | ٦      | ١     | ٤-  | ١٦             |
|        | ٧٠    | صفر | ٦٢             |        | ٣٠    | صفر | ٦٠             |

$$١٤ = \frac{٧٠}{٥} = م$$

$$٣,٥٢ = \sqrt{١٢,٤} = \sqrt{\frac{١٢٤}{١٠}} = ع$$

$$٥ = \frac{٣٠}{٦} = م$$

$$٣,١٦ = \sqrt{١٠} = \sqrt{\frac{٦٠}{٦}} = ع$$

وبعد حساب م، ع لمجموعة الذكور ولمجموعة الإناث يتم استخراج قيمة (ت):

$$ت = \frac{0 - 14}{\frac{1}{6} + \frac{1}{5} \times \frac{{}^2(3,52) \times 0 + {}^2(3,16) \times 6}{2 - 0 + 6}}$$

$$ت = \frac{9}{0,17 + 0,20 \times \frac{12,39 \times 0 + 10 \times 6}{9}}$$

$$ت = 0,37 \times \frac{9}{12,90} = 0,37 \times \frac{9}{61,90 + 60}$$

$$ت = \frac{9}{0,37 \times 13,00}$$

$$ت = 0,02 = \frac{9}{4,24} = 0,0135$$

الدلالة: بالنظر في جدول قيم ت السابق عند درجة حرية (2 - 6 + 0) نجد أن قيمة ت لها دلالة إحصائية عند مستوى 0,01 وذلك لأن قيمة ت المستخرجة من المثال السابق أكبر من القيمة الموجودة عند مستوى 0,01.

ثانياً: من الجدول التكراري

وتتبع الخطوات الآتية في حساب قيمة ت من الجداول التكرارية حيث يتم استخراج م، ع أولاً:

| المجموعة ٢ |     |     |    |    | المجموعة ١ |     |     |    |     |
|------------|-----|-----|----|----|------------|-----|-----|----|-----|
| ك ح        | ك ح | ح   | ك  | ف  | ك ح        | ك ح | ح   | ك  | ف   |
| ٥          | ٥ - | ١ - | ٥  | -٣ | ٢٥         | ٥ - | ١ - | ٥  | -٤  |
| صفر        | صفر | صفر | ١٥ | -٥ | صفر        | صفر | صفر | ٨  | -٨  |
| ٥          | ٥ + | ١ + | ٥٠ | -٧ | ٤٩         | ٧ + | ١ + | ٧  | -١٢ |
| ١٠         | صفر |     | ٢٥ |    | ٧٤         | ٢ + |     | ٢٠ |     |

$$٦ = ٢ م$$

$$\sqrt{\left(\frac{\text{صفر}}{٢٥}\right) - \frac{١}{٢٥}} \sqrt{٢} = ٢ ع$$

$$١,٢٦ = ,٦٣ \times ٢ = ٢ ع$$

$$١٠,٤ = ٤ \times \frac{١}{٢} + ١٠ = ١ م$$

$$٦,٨٨ = \sqrt{\left(\frac{٢}{٢٠}\right) - \frac{٧٤}{٢٠}} \sqrt{٤} = ١ ع$$

$$٣,٦٩ \sqrt{٤} = ,٠١ - ٣,٧ \sqrt{٤} = ١ ع$$

$$٧,٦٨ = ١,٩٢ \times ٤ = ١ ع$$

وبعد حساب م، ع للمجموعة ١، وللمجموعة ٢ يتم استخراج قيمة

ت:

$$٦ - ١٠,٤$$

$$\sqrt{\frac{١}{٢٥} + \frac{١}{٢٠} \frac{^٢(١,٢٦) ٢٥ + ^٢(٧,٧٨) \times ٢٠}{٢ - ٢٥ + ٢٠}} = ت$$

$$٤,٤$$

$$,٠٤ + ,٠٥ \times \frac{(١,٥٩) ٢٥ + ٥٨,٩٨ \times ٢٠}{٢٣ + ٢٠} =$$

$$,٠٩ \times \frac{٤,٤}{٤٣} \sqrt{\quad} = ت, ,٠٩ \times ٣٩,٧٥ + \frac{٤,٤}{٤٣} \sqrt{\quad} = ت$$

$$t = \frac{4,4}{,09 \times 28,36}$$

$$t = \frac{4,4}{1,6} = \frac{4,4}{2,55\sqrt{}}$$

$$t = 2,75$$

الدلالة : وبالكشف عن قيمة ت أمام درجة الحرية (٢٠ + ٢٥ - ٢ = ٤٣) عند مستوى ٠,٠٥ ، ٠,٠١ ، ٠,٠٠١ نجد أن قيمة ت المستخرجة من المثال السابق نجد أن لها دلالة عند مستوى ٠,٠١ لأن قيمة ت في المثال أكبر من الموجودة في الجدول عند مستوى ٠,٠١

### تمارين

١ - احسب هل هناك فرق له دلالة إحصائية بين المجموعتين أ ، ب والذي يمثل درجاتهما الجدول التكراري الآتي :

| المجموعة ب |      | المجموعة أ |      |
|------------|------|------------|------|
| ك          | ف    | ك          | ف    |
| ٣          | - ١٠ | ٧          | - ٥  |
| صفر        | - ٢٠ | ٨          | - ١٠ |
| ١٥         | - ٣٠ | ١٢         | - ١٥ |
| ١٥         | - ٤٠ | ١٣         | - ٢٠ |
| ١٢         | - ٥٠ | ١٠         | - ٢٥ |
| ١١         | - ٦٠ | ٠٩         | - ٣٠ |
| ٥          | - ٧٠ | ٠١         | - ٣٥ |
| ٥٠         |      | ٦٠         |      |

٢ - عدل توزيع المجموعة لأقرب توزيع اعتدالي .

٣ - احسب مدى قرب أو بعد (انطباق) توزيع المجموعة ب من التوزيع الاعتدالي .

٤ - أجرى باحث دراسة على عينة من الأطفال الذكور والأطفال الإناث طبق عليهم فيها اختبار التوافق الشخصي فكانت درجاتهم على الاختيار:

الأطفال الذكور: ٥ - ٩ - ١٢ - ١٩ - ٨ - ٧ - ٦

الأطفال الإناث: ٩ - ٥ - ٣ - ٣ - ١٨ - ٦ - ١١

احسب هل هناك فرق له دلالة الإحصائية بين المجموعتين .

### ٣ - درجة الحرية

تعني درجة الحرية عدد الدرجات أو عدد التكرارات التي يمكن أن تتغير حول قيمة ثابتة أو مقياس معين للمجتمع الأصلي. فإذا جمعنا مجموعة من الدرجات عدد ٢٠ عشرون درجة وهذه الدرجات العشرون لها متوسط معروف ١٠ عشرة مثلاً، ومن المعلوم من خلال حساب الانحراف عن المتوسط أن مجموع انحراف القيم عنه يساوي صفرأ (أنظر الانحراف عن المتوسط في مقاييس التشتت) فإنه يترتب على ذلك أن تكون أية تسعة عشرة درجة من هذه الدرجات العشرين حرة في تغير قيمتها بينما تكون الدرجة العشرين مقيدة بقيمة معينة تضاف للقيم التسعة عشر حتى يصبح المتوسط ١٠ عشرة ولذلك تكون درجات الحرية التي تشتتت حول متوسط ذلك التوزيع مساوية ن - ١

### ٤ - الدلالة والفرض (واحد الذنب - ثنائي الذنب)

إذا كانت صياغة الفرض تعتمد على أن مجموعة من المجموعتين أعلى أو

أقل من الأخرى في الصفة المقاسة فإن تحديد اتجاه الفرق يشير إلى اختبار واحد الطرف أو واحد الذنب One-tailed test ، أما إذا كانت الصياغة قائمة على أساس أن المجموعتين تختلطان دون تحديد لأي اتجاه لهذا الاختلاف كنا بصدد اختبار ثنائي الذنب أو الطرف Two-tailed test وكلمة طرف تشير إلى طرف المنحنى .

والأساسي في تحديد واحد الذنب هو أننا نشير لطرف واحد من أطراف التوزيع (العالي - المنخفض) والمتمثل في القيمة المحتملة التي تم الحصول عليها كقيمة واحدة الذنب One-tailed P Value .

أما الأساس في تحديد ثنائي الذنب (أو الطرف) هو أننا نشير لطرفي التوزيع كأن يقول الباحث في دراسته ما هي الدرجة المحتمل الحصول عليها وتنحرف عن المتوسط؟ . أو أن هناك فرقاً دالاً في متوسط درجات الذكور والإناث في القدرة اللفظية . والباحث هنا يكون أمام متوسطين وانحرافين معياريين أي يكون في تعبيره عن الدرجة ، المحتملة واضعاً في الحسبان كلا طرفي التوزيع Two-tailed test .

### (٣) حساب الدلالة

#### الإحصائية في المنهج القبلي - بعدي

يستخدم الخطأ المعياري للفرق بين المتوسطات المرتبطة لحساب الدلالة الإحصائية لدرجات مجموعة واحدة من الأفراد على مقياس للاتجاهات قبل مشاهدتها لفيلم يهدف لتغيير اتجاه هذه المجموعة وبعد مشاهدتها للفيلم . ومعادلة الخطأ المعياري للفرق بين المتوسطات المرتبطة

هي :

$$\text{معادلة الخطأ المعياري للفرق بين المتوسطات المرتبطة} = \sqrt{\frac{24-14}{24 \times 24 + 14 \times 14}} = \sqrt{\frac{10}{1000}} = \sqrt{0.01} = 0.1$$

أي أن :

$$م١ = \text{المتوسط قبل مشاهدة الفيلم} .$$

$$م٢ = \text{المتوسط بعد مشاهدة الفيلم} .$$

$$ع١ م١ = \text{مربع الخطأ المعياري لمتوسط الدرجات قبل مشاهدة الفيلم} .$$

$$ع٢ م٢ = \text{مربع الخطأ المعياري لمتوسط الدرجات بعد مشاهدة الفيلم} .$$

$$ر = \text{معامل الارتباط بين درجات الأفراد قبل وبعد مشاهدة الفيلم} .$$

$$ع١ م١ = \text{الخطأ المعياري لمتوسط الدرجات قبل المشاهدة} .$$

$$ع٢ م٢ = \text{الخطأ المعياري لمتوسط الدرجات بعد المشاهدة} .$$

مثال : أراد باحث أن يعرف مدى تأثير مشاهدة خمسة من الطلبة الجامعيين لفيلم عن العمل في الصحراء في تغيير اتجاهاتهم نحو العمل في تلك الجهة . فقام الباحث أولاً بقياس اتجاهاتهم نحو العمل في تلك المناطق النائية ثم عرض عليهم فيلماً عن التعمير الذي حدث في هذه المناطق وتبع ذلك قياس اتجاهاتهم مرة ثانية نحو العمل في تلك الأماكن . وفيما يلي درجاتهم على مقياس الاتجاه قبل وبعد مشاهدة الفيلم :

الأشخاص : (١) (٢) (٣) (٤) (٥)

الدرجات قبل : ٢ ٤ ٥ ١ ٣

الدرجات بعد : ٣ ٥ ٦ ٢ ٤

حل المثال :

$$١ - \text{المتوسط قبل مشاهدة} = ٢ + ٤ + ٥ + ١ + ٣ = ١٥ \div ٣ = ٥$$

$$٢ - \text{المتوسط بعد مشاهدة} = ٣ + ٥ + ٦ + ٢ + ٤ = ٢٠ \div ٤ = ٥$$

٣ - الخطأ المعياري لمتوسط الدرجات قبل المشاهدة =  $\sqrt[3]{\frac{3}{5}}$

$$\frac{3}{2,23} =$$

$$1,34 =$$

٤ - الخطأ المعياري لمتوسط الدرجات بعد المشاهدة =  $\sqrt[4]{\frac{4}{5}}$

$$\frac{4}{2,23} =$$

$$1,79 =$$

٥ - معامل الارتباط بين الدرجات قبل وبعد المشاهدة.

| ق | قبل | بعد | رتبة قبل | رتبة بعد | ف                          | ف <sup>٢</sup> |
|---|-----|-----|----------|----------|----------------------------|----------------|
| ١ | ٢   | ٣   | ٤        | ٤        | صفر                        | صفر            |
| ٢ | ٤   | ٥   | ٢        | ٢        | صفر                        | صفر            |
| ٣ | ٥   | ٦   | ١        | ١        | صفر                        | صفر            |
| ٤ | ١   | ٢   | ٥        | ٥        | صفر                        | صفر            |
| ٥ | ٣   | ٤   | ٣        | ٣        | صفر                        | صفر            |
|   |     |     |          |          | مجموع ف <sup>٢</sup> = صفر |                |

$$r = \frac{6 \times \text{صفر}}{(1 - 25)5} - 1 = 1$$

$$\text{القيمة} = \sqrt[3-4]{1,79 \times 1,34 \times 1 \times 2 - (1,79) + (1,34)}$$

$$= \sqrt[4]{\frac{1}{4,79 - 1,79 + 3,20}}$$



$$\frac{1}{\sqrt{4,79 - 4,99}} =$$

$$\frac{1}{\sqrt{0,20}} =$$

$$\frac{1}{0,44} =$$

$$2,27 =$$

ويصبح الفرق بين اتجاهات الطلاب دالاً عند مستوى ٠,٥ , إذا بلغت النتيجة ١,٩٦ - ٢,٥٧ ، ودالاً عند مستوى ٠,١ , إذا بلغت النتيجة ٢,٥٨ ، فما فوق .

وفي المثال السابق يعتبر الفرق بين اتجاهات الطلاب قبل مشاهدة الفيلم وبعد مشاهدة الفيلم دالاً إحصائياً أي أن مشاهدة الفيلم عملت على تغيير اتجاهات الطلاب إلى النواحي الإيجابية الخاصة بقبول فكرة العمل في الصحراء .

(٤)

### دلالة الفرق بين معاملات الارتباط

أولاً: في حالة المجموعات المستقلة :

إذا أراد الباحث مقارنة مصفوفة معاملات الارتباط لمجموعة من المتغيرات كالقدرة اللفظية والقدرة العددية والمترادفات لدى عينة من الذكور بمصفوفة معاملات الارتباط لنفس المتغيرات لدى عينة من الإناث فإنه يلجأ في ذلك لمعادلة دلالة الفرق بين معاملات الارتباط الآتية :

$$\frac{z_1 - z_2}{\sqrt{\frac{1}{n_1 - 3} + \frac{1}{n_2 - 3}}} = \text{معادلة دلالة الفرق بين معاملات الارتباط}$$

حيث أن :

ز ١ = المقابل اللوغاريتمي لمعامل الارتباط في المجموعة الأولى (١)

ز ٢ = المقابل اللوغاريتمي لمعامل الارتباط في المجموعة الثانية (٢)

ن ١ = العدد في المجموعة الأولى .

ن ٢ = العدد في المجموعة الثانية .

الخطوات :

١ - يتم حساب معامل الارتباط بين درجات الاختبارين (س ، ص) في المجموعة الأولى ، وكذلك في المجموعة الثانية .

٢ - استخراج المقابل اللوغاريتمي لمعامل ارتباط المجموعة الأولى ولمعامل ارتباط المجموعة الثانية (أنظر الارتباط المتعدد حيث يوجد الجدول الخاص بالمقابل اللوغاريتمي) .

٣ - إحسب الفرق بين المقابلين اللوغاريتميين (بسط المعادلة) .

٤ - إحسب الخطأ المعياري للعينتين (مقام المعادلة) كالآتي :

$$\text{الخطأ المعياري} = \sqrt{\frac{1}{3 - n_1} + \frac{1}{3 - n_2}}$$

٥ - اقسم الفرق بين المقابلين اللوغاريتميين (في الخطوة رقم ٣) على الخطأ المعياري لتحصل على القيمة النهائية .

٦ - إذا كانت القيمة الناتجة :

أ - تقع بين ١,٩٦ - ٢,٥٨ كان الفرق دالاً عند ٠,٠٥

ب - تقع بين ٢,٥٨ فما فوق كأن الفرق دالاً عند ٠,٠١

ح- أقل من ١,٩٦ كان الفرق غير دال أي يتم قبول الفرق الصفري.

مثال :

أجرى باحث دراسة على مجموعة من أطفال الريف ومجموعة من أطفال المدينة طبق فيها على كل مجموعة اختبارين أحدهما يقيس السرعة الحركية والثاني يقيس السرعة الإدراكية وقام بحساب معامل الارتباط بين الاختبارين في كل مجموعة على حدة ، علماً بأن العدد في المجموعة الأولى ٥٣ وفي المجموعة الثانية ٧٠ . والمطلوب حساب دلالة الفرق بين معاملي الارتباط في المجموعتين إذا كان الارتباط في مجموعة الريف ٠,٧٠ ، وفي مجموعة الحضر ٠,٥٠ .

خطوات الحل :

- ١ - المقابل اللوغاريتمي (\*) لمعامل الارتباط ٠,٧٠ الخاص بأطفال الريف من الجداول الخاصة بذلك هو ٠,٨٧ (\*\*).
- ٢ - والمقابل اللوغاريتمي (\*) لمعامل الارتباط ٠,٥٠ الخاص بأطفال الحضر من الجداول الخاصة بذلك هو ٠,٥٥ (\*\*).

(\*) يمكن حساب المقابل اللوغاريتمي لمعامل الارتباط كالآتي :

$$\text{المقابل اللوغاريتمي (Log) لمعامل الارتباط ورمزه (z) = } \frac{\frac{1}{r} + 1}{\frac{1}{r} - 1} \text{ لو } \frac{1}{r}$$

$$z = 1 \text{ لو } \frac{1}{r} = \frac{1 + \frac{1}{r}}{\frac{1}{r} - 1} = \frac{1 + \frac{1}{0,66}}{\frac{1}{0,66} - 1} = 1,66$$

(لو) هنا توجد في الآلات الحاسبة تحت رمز Ln

$$= 1,73 \times 0,866 = 1,486$$

$$z = 2 \text{ لو } \frac{1}{r} = \frac{1 + \frac{1}{r}}{\frac{1}{r} - 1} = \frac{1 + \frac{1}{0,5}}{\frac{1}{0,5} - 1} = 2,3$$

(لو) هنا توجد في الآلات الحاسبة تحت رمز Ln أيضاً

$$= 1,20 \times 0,60 = 0,72$$

(\*\*) نتيجة للتقريب تلاحظ فروق بسيطة بين المقابل اللوغاريتمي من الجدول وبين المقابل المستخرج من المعادلة باستخدام الآلة الحاسبة بالنسبة لـ : «لو» والتي تقابلها Ln من الآلات الحاسبة الرياضية .

$$٣- \text{الفرق بين المقابلين اللوغاريتميين} = ٠,٨٧ - ٠,٥٥ = ٠,٣٢$$

$$٤- \text{الخطأ المعياري للعينة} = \sqrt{\frac{1}{٣-٧٠} + \frac{1}{٣-٥٣}}$$

$$= \sqrt{\frac{1}{٦٧} + \frac{1}{٥٠}}$$

$$= ٠,١٨٤$$

$$٥- \text{القيمة الناتجة} = \frac{٠,٣٢}{٠,١٨٤} = ١,٧٣$$

وبما أن هذه القيمة أقل من القيمة الواقفة عند مستوى ٠,٠٥، وعند مستوى ٠,٠١. إذا الفرق غير دال إحصائياً بين معاملي الارتباط وفي مجموعتي الريف والحضر من الأطفال.

ثانياً: لدى المجموعة الواحدة.

في أولاً قارنا بين اثنين من معاملات الارتباط في مصفوفتين لمجموعتين من أطفال الريف وأطفال الحضر. وأحياناً يريد الباحث معرفة دلالة معاملات الارتباط بين اثنين من هذه المعاملات في مصفوفة ارتباط المجموعة الواحدة أي مجموعة الريف أو الحضر. ولنفترض أن مصفوفة مجموعة الريف كان من بينها ثلاثة اختبارات هي:

١- القدرة العددية.

٢- القدرة اللفظية.

٣- القدرة الحركية.

وأراد الباحث أن يعرف دلالة الفرق بين معامل الارتباط الناتج بين القدرة العددية (١) وبين القدرة اللفظية (٢) والذي بلغت قيمته ٠,٧٠، وبين معامل الارتباط الناتج بين القدرة العددية (١) وبين القدرة الحركية (٣) والذي بلغت قيمته ٠,٣٠، فإنه سيكون في هذه الحالة في حاجة لحساب معامل الارتباط بين القدرة اللفظية (٢)، وبين القدرة الحركية (٣) والذي يبلغ ٠,٤٢، فما دلالة الفرق بين الارتباطيين الآتين كما أشرنا علماً بأن عدد العينة ٧٠:

٠,٧ معامل الارتباط بين القدرة العددية والقدرة اللفظية ( ر ٢٠١ ) .

٠,٣ معامل الارتباط بين القدرة العددية والقدرة الحركية ( ر ٣٠١ )

٠,٤٢ معامل الارتباط بين القدرة اللفظية والقدرة الحركية ( ر ٣٠٢ ) .

١ - يطبق القانون الآتي :

$$\frac{( ر ٢٠١ - ر ٣٠١ )^2 ( ن - ٣ ) + ( ر ٣٠٢ + ١ )}{٢ ( ر ٣٠١ - ر ٢٠١ - ر ٣٠٢ - ٢ + ر ٣٠١ )^2 - ٢ ( ر ٣٠٢ - ١ )} = \text{الدلالة (ف)}$$

$$= \frac{(٠,٤٢ + ١) (٣ - ٧٠)^2 (٠,٣ - ٠,٧٠)}{٢ (٠,٣) (٠,٧٠) (٠,٤٢) + ٢ (٠,٣) - ٢ (٠,٧٠) - ٢ (٠,٤٢) - ٢ (١)}$$

$$= \frac{(١,٤٢) (٦٧)^2 (٠,٤)}{٢ (٠,٠٨) + (٠,٠٩) - (٠,٤٩) - (٠,١٧ - ١)}$$

$$= \frac{١٥,٢٢}{٢ (٠,٨٣) - (٠,٤٩) - (٠,٠٩) + ٠,١٦}$$

$$= \frac{١٥,٢٢}{٠,١٦ + ٠,٠٩ - ٠,٤٩ - ٠,١٧}$$

$$\frac{15,22}{1,25} =$$

$$12,176 =$$

يعتبر عدد العينة ممثلاً للتباين الصغير وتستخرج درجة حريته كالاتي ن  
 $3 - 70 = 3 - 67$  ، كما أن درجة حرية التباين الكبير تعتبر مساوية للقيمة 1  
 وبالبحث في جدول دلالة نسبة ف عند درجة حرية التباين الصغير 67  
 نجد أن الأقرب لها درجة الحرية 65 ، وعند درجة حرية التباين الكبير 1  
 نجد:

$$\text{القيمة عند } 0,05 = 3,99$$

$$\text{القيمة عند } 0,01 = 7,04$$

وبما أن القيمة الناتجة في المثال السابق أكبر من القيمتين السابقتين  
 إذاً هناك فرق له دلالة إحصائية عند مستوى 0,01 بين معامل الارتباط 0,201 ،  
 ومعامل الارتباط 0,301 .

(5)

## دلالة الفرق

### بين الانحرافات المعيارية

في كثير من الدراسات النفسية والتربوية يكون للفرق في التغير بين  
 المجموعات أهمية كبيرة. فالباحث في هذه الدراسات يهتم معرفة أي  
 المجموعات تختلف اختلافاً دالاً في الانحراف المعياري أكثر من اختلافها  
 في متوسط الإنجاز والتحصيل. والمثال على ذلك الباحث التربوي أو  
 النفسي الذي يريد أن يختبر جدوى طريقة جديدة في تعليم الرياضيات بمدى  
 التغير الذي تحدثه في الدرجات عن الطريقة الحالية المأخوذ بها. وعندما يتم

دراسة مجموعات مختلفة أو مستقلة أو عندما تعطي الاختبارات لنفس المجموعات غير المرتبطة فإن دلالة الفرق تحسب بالمعادلة الآتية :

أولاً - في حالة العينات الكبيرة العدد :

معادلة دلالة الفرق بين الانحرافات المعيارية =

$$\frac{\text{الفرق بين الانحراف المعياري (1)، (2)}}{\sqrt{\text{مربع الخطأ المعياري للانحراف (1)} \times \text{مربع الخطأ المعياري للانحراف (2)}}$$

وفيما يلي المثال التوضيحي لتطبيق تلك المعادلة .

مثال : طبق اختبار يقيس الاستدلال الحسابي على ٨٣ ولداً، ولداً ٩٥ بنتاً وكان الانحراف المعياري لدرجات الأولاد ٧,٨١، وللبنات ١١,٥٦ والمطلوب حساب دلالة الفرق بين هذين الانحرافين أي هل الفرق بين الانحرافين (٧,٨١ - ١١,٥٦) وهو ٣,٧٥ دال عند ٠,٠١ ؟

الخطوات :

١ - الخطأ المعياري للانحراف المعياري للمجموعة الأولى

(الذكور) :

$$\text{الخطأ المعياري}^{(*)} = \frac{7,81}{\sqrt{83 \times 2}} = \frac{7,81}{166} = \frac{7,81}{12,88} = 0,61$$

٢ - الخطأ المعياري للانحراف المعياري للمجموعة الثانية (الإناث)

$$\text{الخطأ المعياري} = \frac{11,56}{\sqrt{95 \times 2}} = \frac{11,56}{190} = \frac{11,56}{13,78} = 0,84$$

(\*) يمكن حساب الخطأ المعياري بطريقة أخرى هي :

$$\text{الخطأ المعياري} = \frac{0,71 \times \text{الانحراف المعياري}}{\sqrt{\text{عدد أفراد العينة}}}$$

حيث ٠,٧١ رقم ثابت .

$$\frac{3,75}{\sqrt{0,70 + 0,37}} = \frac{7,81 - 11,56}{\sqrt{(0,84)^2 + (0,61)^2}} = \text{القيمة الناتجة (**)}$$

$$\frac{3,75}{1,04} = \frac{3,75}{1,07} =$$

$$3,61 = \text{القيمة الناتجة}$$

ولما كانت القيمة الناتجة أعلى من 2,58 وهو مستوى الدلالة عند 0,01 فإن ذلك يشير إلى أن مستوى أداء البنات على الاستدلال الرياضي أكثر تغيراً بوجه عام من الأولاد. أما مستوى الدلالة 0,05 فيكون عند 1,96. والمعادلة السابقة تصلح في المجموعات الكبيرة الأعلى من 30 فرداً.

ثانياً - في حالة العينات الصغيرة العدد:

تحسب دلالة الفرق في حالة المجموعات الصغيرة بواسطة اختبار «ف» F test. وذلك بقسمة التباين (الانحراف المعياري) الأكبر على التباين الأصغر ويوضح ذلك المثال التالي:

مثال:

عدد المجموعة الأولى (1) = 6

عدد المجموعة الثانية (2) = 10

التباين في المجموعة (1) = 22.

التباين في المجموعة (2) = 39,1.

$$1,78 = \frac{39,1}{22} = \text{اختبار «ف»}$$

وبالنظر في جدول دلالة «ف» عند درجات الحرية الآتية:

---

(\*\*) أو النسبة الحرجة CR.



١ - درجة الحرية للمجموعة الثانية =  $10 - 1 = 9$  (تباين كبير)

٢ - درجة الحرية للمجموعة الأولى =  $6 - 1 = 5$  (تباين صغير).

ومعنى ذلك أنه لا يوجد ما يشير إلى أن المجموعتين مختلفتين اختلافاً جوهرياً.



الجزء الثالث  
الاحصاء المنقّم



## مقدمة

يهتم هذا الجزء الأخير من الإحصاء بالمعاملات التي تفيد الباحث في حل كثير من المشاكل التي قد يقع فيها ويواجهها سواءاً وهو ما زال على الطريق يجمع بيانات بحثه أو يكون قد انتهى من جمعها ثم فطن لوقوعه في ثغرة من الثغرات. وهنا تساعده الإحصاء وتأخذ بيده فتعينه على حل مشكلته. كما أن هذا الجزء أيضاً يهتم بما يقدمه للباحث بتحقيق هدفه من خلال إعطائه الأسلوب العلمي الدقيق ونعني به التحليل العاملي ليستقرىء به من الجزئيات الكلديات التي تشيع بينها. ويقدم لنا الإحصاء المتقدم أسلوب الدلالة الإحصائية المناسب للتوزيعات غير الاعتدالية أي المقاييس اللابارامترية، ثم دلالة النسب المئوية، وتحليل التباين البسيط والمزدوج.

## أولاً : معاملات الارتباط الخاصة بمشاكل البحوث

(١)

### العلاقة المستقيمة والمنحنية

مقدمة: قبل أن يستخدم الباحث معامل الارتباط عن طريق جدول الانتشار (بيرسون الشكل الثالث من جدول الانتشار المزدوج) لا بد أن يتأكد من أن المتغير س، ص والذي يقوم بإيجاد العلاقة بينهما - عادة - اعتداليان في توزيعهما. فإذا لم يكن التوزيع اعتدالياً في المتغيرين استخدم الباحث في هذه الحالة نسبة الارتباط(\*) .

#### أساليب الكشف عن العلاقة: مستقيمة أم منحنية

ويمكن للباحث أن يتأكد من أن التوزيع اعتدالي والعلاقة مستقيمة بين المتغيرين عن طريق الأساليب الآتية:

- أ - الرسم البياني .
- ب - المتوسطات الحسابية للمتغيرين س، ص .
- ج - اختبار مدى دلالة التوزيعين س، ص .

مثال: فيما يلي جدول انتشار مزدوج لدرجات ١٧ شخصاً على اختبارين س، ص، والمطلوب معرفة هل التوزيع اعتدالي أم لا؟

---

(\*) د . سيد محمد خيرى - الإحصاء في البحوث النفسية والتربوية والاجتماعية - دار التأليف -

| ص   | س | -٤  | -٦ | -٨ | مج |
|-----|---|-----|----|----|----|
| -٥  | ٢ | ١   | ٢  | ٥  | ٥  |
| -١٠ | ٣ | ٤   | ٢  | ٩  | ٩  |
| -١٥ | ٢ | صفر | ١  | ٣  | ٣  |
| مج  | ٧ | ٥   | ٥  | ١٧ | ١٧ |

(جدول انتشار مزدوج يبين العلاقة بين س، ص)

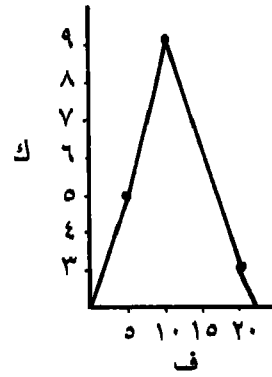
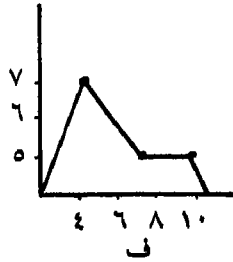
أ- بالرسم البياني

ويمثل المضلعان التكراريان الآتيان توزيع المتغير س وتوزيع المتغير

ص .

المضلع التكراري للمتغير س

المضلع التكراري للمتغير  
(ص)



ويلاحظ في المضلعين السابقين أنهما يتعدان عن التوزيع الاعتمالي الذي يقترب من شكل الجرس فالمضلع التكراري للمتغير (س) ذا قيمة مدببة، والثاني ذا قيمتين تقريباً كما أنه يميل للالتواء. ويجب أن لا يكتفي الباحث للتأكد من أن التوزيع اعتمالي بطريقة واحدة بل عليه أن يستخدم أكثر من طريقة وأكثر من أسلوب.

## ب - المتوسطات الحسابية للمتغيرين س، ص

ولمعرفة هل العلاقة مستقيمة أم منحنية نقوم بحساب المتوسط الحسابي للأعمدة في جدول الانتشار المزدوج والمتوسط الحسابي للصفوف في نفس الجدول على النحو التالي:

### ١ - المتوسط الحسابي للأعمدة

ويتم حساب المتوسط الحسابي لأعمدة من خلال الجدول التكراري للمتغير س جدول الانتشار المزدوج وذلك على النحو الآتي:

| م : العمود الأول |               |     |                 | م : العمود الثاني |                 |     |                 |
|------------------|---------------|-----|-----------------|-------------------|-----------------|-----|-----------------|
| ف                | ك             | ح   | كخ              | ف                 | ك               | ح   | كخ              |
| - ٥              | ٢             | - ١ | ٢ -             | - ٥               | ١               | - ١ | ١ -             |
| - ١٠             | ٣             | صفر | -               | - ١٠              | ٤               | صفر | صفر             |
| - ١٥             | $\frac{٢}{٧}$ | ١ + | $\frac{٢}{٧}$ + | - ١٥              | $\frac{صفر}{٥}$ | ١ + | $\frac{صفر}{١}$ |
|                  | ٧             |     | صفر             |                   | ٥               |     | ١ -             |

$$١١,٥ = ٥ \times \frac{١}{٥} - ١٢,٥ = م$$

$$١٢,٥ = ٥ \times \frac{صفر}{٧} - ١٢,٥ = م$$

### م : العمود الثالث

| ف    | ك             | ح   | كخ              |
|------|---------------|-----|-----------------|
| - ٥  | ٢             | - ١ | ٢ -             |
| - ١٠ | ٢             | صفر | صفر             |
| - ١٥ | $\frac{١}{٥}$ | ١ + | $\frac{١}{٥}$ + |
|      | ٥             |     | ١ -             |



$$11,5 = 5 \times \frac{1}{5} - 12,5 = م$$

## ٢ - المتوسط الحسابي للصفوف

ويتم حساب المتوسط الحسابي للصفوف من خلال الجدول التكراري للمتغير ص في جدول الانتشار المزدوج على النحو الآتي:

م: للصف الأول (١)

|                  |     |               |    |
|------------------|-----|---------------|----|
| كـ               | حـ  | ك             | ف  |
| ٢-               | ١-  | ٢             | -٤ |
| صفر              | صفر | ١             | -٦ |
| +                | ١+  | $\frac{٢}{٥}$ | -٨ |
| $\frac{٢+}{٢+}$  |     |               |    |
| $\frac{٢-}{صفر}$ |     |               |    |

$$م = ٢ \times \frac{صفر}{٥} + ٧ = ١$$

م: للصف الثاني (٢)

|                 |     |               |    |
|-----------------|-----|---------------|----|
| كـ              | حـ  | ك             | ف  |
| ٣-              | ١-  | ٣             | -٤ |
| صفر             | صفر | ٤             | -٦ |
| $\frac{٢+}{٣-}$ | ١+  | $\frac{٢}{٩}$ | -٨ |
| $\frac{٢+}{١-}$ |     |               |    |

$$٦,٧٨ = ,٢٢ - ٧ = ٢ \times \frac{١}{٩} - ٧ = ٢ م$$

م: للصف الثالث (٣)

|                 |     |               |    |
|-----------------|-----|---------------|----|
| ك ح             | ح   | ك             | ف  |
| ٢ -             | ١ - | ٢             | -٤ |
| صفر             | صفر | صفر           | -٦ |
| $\frac{١+}{٢-}$ | ١+  | $\frac{١}{٣}$ | -٨ |
| $\frac{١+}{١-}$ |     |               |    |

$$٦,٣٣ = ٢ \times \frac{١}{٣} - ٧ = ٣ م$$

وبعد حساب المتوسطات الحسابية لكل من الأعمدة والصفوف على النحو السابق يتم وضع هذه المتوسطات في مواقعها بجدول الانتشار المزدوج على النحو الآتي:

(جدول الانتشار المزدوج وبه متوسطات الصفوف والأعمدة)

|    |      |           |      |        |
|----|------|-----------|------|--------|
|    |      |           |      | ص<br>س |
| بج | -٨   | -٦        | -٤   |        |
|    |      | ٧         |      | -٥     |
|    | ١١,٥ | ٦,٧٨,١١,٥ | ١٢,٥ | -١٠    |
|    |      | ٦,٣٣      |      | -١٥    |
|    |      |           |      | بج     |

وبتمثيل المتوسطات السابقة بعلامات يمكن توصيلها ببعضها ببعض كل على حدة (الأعمدة - الصفوف) في جدول الانتشار يصير شكل الجدول السابق كما يلي :

(جدول الانتشار المزدوج وبه مستقيم متوسطات الصفوف . . . . . ومستقيم متوسطات الأعمدة - - . .)

|      |     |     |     |    |
|------|-----|-----|-----|----|
| ص    | - ٤ | - ٦ | - ٨ | مج |
| س    |     |     |     |    |
| - ٥  |     |     |     |    |
| - ١٠ |     |     |     |    |
| - ١٥ |     |     |     |    |
| مج   |     |     |     |    |

ويلاحظ على الجدول السابق أن العلاقة بين المتوسطات مستقيمة وليست منحنية .

جـ - اختبار مدى دلالة التوزيعين س، ص

ويتم ذلك من خلال خطوتين ، الأولى تحويل التوزيع إلى أقرب توزيع اعتدالي ، والخطوة الثانية اختبار دلالة التوزيع باستخدام كاي<sup>٢</sup> وذلك بالنسبة لكل من المتغيرين .

١ - بالنسبة للمتغير (س)

أولاً: تحويل توزيع المتغير (س) إلى أقرب توزيع

| ف   | ك  | ح   | لح | س | س-م   | $\frac{م-س}{ع}$ | ص    | ك     |
|-----|----|-----|----|---|-------|-----------------|------|-------|
| -٥  | ٥  | ١-  | ٥- | ٥ | ٧,٥ - | ٤,٥ -           | ١,٣٢ | ,١٧   |
| -١٠ | ٩  | صفر | -  | - | ١٢,٥  | ٠,٥ +           | ,١٥  | ,٣٩   |
| -١٥ | ٣  | ١+  | ٣+ | ٣ | ١٧,٥  | ٥,٥ +           | ١,٦٢ | ,١١   |
|     | ١٧ |     | ٢- | ٨ |       |                 |      | ١٦,٧٥ |

$$م = ١٢,٥ - ٥ \times \frac{٢}{١٧} = ١٢,٥ - ٠,٥٩ = ١١,٩١ \approx ١٢ \text{ بالتقريب}$$

$$ع = \sqrt{\frac{١}{١٧} - \left(\frac{٣}{١٧}\right)^2} = \sqrt{٠,٠١ - ٠,٤٧} = ٠,٤٦$$

$$= ٠,٦٨ \times ٥ = ٣,٤ \text{ بالتقريب}$$

$$\text{المقدار الثابت} = \frac{١٧ \times ٥}{٣,٤} = ٢٥$$

اختبار دلالة التوزيع باستخدام كاي

| ف   | ك | ك    | ك - ك  | ك - ك | ك - ك | $\frac{ك - ك}{ك}$ |
|-----|---|------|--------|-------|-------|-------------------|
| -٥  | ٥ | ٤,٢٥ | ٠,٧٥ + | ٠,٦٥  | ,١٥   |                   |
| -١٠ | ٩ | ٩,٧٥ | ٠,٧٥ - | ٠,٦٥  | ,٠٧   |                   |
| -١٥ | ٣ | ٢,٧٥ | ٠,٢٥ + | ٠,٠٦  | ,٠٢   |                   |
|     |   |      |        |       |       | ك = ٢,٢٤          |

وكما يتضح من قيمة  $\bar{x}$  نجد أنه ليس لها دلالة إحصائية وذلك من خلال الكشف عن دلالتها في جدول قيم  $\bar{x}$ . ومعنى هذا أنه لا يوجد فرق بين التوزيع التجريبي والتوزيع الاعتمالي أي أن هذين التوزيعين ينطبقان على بعضهما. ونتيجة لذلك يمكن استخدام معامل الارتباط عن طريق جدول الانتشار وذلك إذا كان توزيع المتغير ص ينطبق أيضاً على التوزيع الاعتمالي.

ب - بالنسبة للمتغير (ص)

أولاً: تحويل التوزيع إلى أقرب توزيع اعتمالي

| ك     | ص    | $\frac{م-س}{ع}$ | م-س    | س | ك-ح' | ك-ح | ح   | ك  | ف  |
|-------|------|-----------------|--------|---|------|-----|-----|----|----|
| ٤,٦   | ٠,٢٣ | ١,٠٦ -          | ١,٨ -  | ٥ | ٧    | ٧ - | ١ - | ٧  | -٤ |
| ٨,٠   | ٠,٤٠ | ٠,١٢ +          | ٠,٠٢ + | ٧ | -    | صفر | صفر | ٥  | -٦ |
| ٣,٤   | ٠,١٧ | ١,٣٠ +          | ٢,٢ +  | ٩ | ٥    | ٥ + | ١ + | ٥  | -٨ |
| ١٦,٠٠ |      |                 |        |   | ١٢   | ٢ - |     | ١٧ |    |

$$م = \frac{٢ \times ١٧}{١٧} - ٧ = ٦,٧٦$$

$$ع = \sqrt{\frac{٢}{١٧} - \frac{١٢}{١٧}} = ١,٧ = ٠,٧١٢ - ٠,٠١ = ٠,٨٤ \times ٢ = ١,٦٨$$

$$\text{المقدار الثابت} = \frac{١٧ \times ٢}{١,٧} = ٢٠$$

ثانياً: اختبار دلالة التوزيع باستخدام كا<sup>٢</sup>

| ك - ك <sup>٢</sup>     | ك    | ك - ك <sup>٢</sup> | ك   | ك  | ف   |
|------------------------|------|--------------------|-----|----|-----|
| ١,٢٥                   | ٥,٧٦ | ٢,٤ +              | ٤,٦ | ٧  | - ٤ |
| ١,١٣                   | ٩,٠٠ | ٣,٠ -              | ٨,٠ | ٥  | - ٦ |
| ٠,٧٥                   | ٢,٥٦ | ١,٦ +              | ٣,٤ | ٥  | - ٨ |
| ٣,١٣ = كا <sup>٢</sup> |      |                    | ١٦  | ١٧ |     |

ويتضح لنا من قيمة كا<sup>٢</sup> السابقة أنه ليس لها دلالة إحصائية ومعنى ذلك أن التوزيع التجريبي ينطبق على التوزيع الاعتمالي أي يمكن استخدام معامل ارتباط بيرسون عن طريق جدول الانتشار لحساب العلاقة بين المتغير (س) والمتغير (ص) في جدول الانتشار المزدوج السابق.

أما إذا لم تكن العلاقة مستقيمة وكانت منحنية، ولم ينطبق التوزيع التجريبي على التوزيع الاعتمالي فإن على الباحث في هذه الحالة استخدام نسبة الارتباط.

(٢)

نسبة الارتباط

**Correlation Ratio**

وجدنا في الجزء السابق أنه عندما لا يكون التوزيع اعتمالياً في المتغيرين، وعندما لا تكون العلاقة بينهما مستقيمة لا يستخدم الباحث معامل ارتباط بيرسون Pearson عن طريق جدول الانتشار المزدوج أو غيره للكشف عن العلاقة بين المتغيرين بل يستخدم في هذه الحالة نسبة الارتباط. ويستطيع الباحث أن يستخرج من جدول الانتشار المزدوج نسبي ارتباط حسب تحديده لأي

المتغيرين س أو ص هو المتغير المستقل أو المتغير المعتمد. فإذا كان س هو المتغير المستقل، ص المتغير التابع يستخرج الباحث نسبة ارتباط س على ص أما إذا كان ص هو المتغير المستقل، س هو المتغير التابع يستخرج الباحث نسبة ارتباط ص على س.

### ١ - نسبة ارتباط س . ص

ويتم حساب نسبة الارتباط بطرح متوسط صفوف المتغير ص (والسابق الحصول عليها عند حساب هل العلاقة مستقيمة أم منحنية؟) من المتوسط العام لهذا المتغير ثم تربيع هذا الانحراف وضربه في تكرارات س. وذلك على النحو الآتي:

مثال:

| ف | ك | س  | [م: صفوف ص] | [ح م: ص. ص<br>عن م العام لـ ص] | [مربع انحراف م: ص. ص<br>المتوسط العام لـ ص] | [ك س × مربع<br>الانحرافات] |
|---|---|----|-------------|--------------------------------|---|----------------------------|
| ٥ | - | ٥  | ٧           | ٠,٢٠ +                         | ٠,٠٤  | ٠,٢٠                       |
| ٩ | - | ١٠ | ٦,٧٧        | ٠,٠٣ -                         | ٠,٠١  | ٠,٠٩                       |
| ٣ | - | ١٥ | ٦,٣٣        | ٠,٤٧ -                         | ٠,٢٢٤                                       | ٠,٦٦                       |
|   |   |    | ١٧          |                                |   | ٠,٩٥                       |

$$\text{المتوسط العام للمتغير ص} = ٧ - ٢ \times \frac{٢}{١٧} = ٦,٨$$

$$\text{الانحراف المعياري للمتغير ص} = \sqrt{٢ \left( \frac{٢}{١٧} - \frac{١٢}{١٧} \right)} = ١,٧$$

الانحراف المعياري لـ: بجدك س × مربع انحراف صفوف ص عن متوسطها العام:

$$= \sqrt{\frac{\text{مجموع س} \times \text{مربع الانحرافات}}{\text{مجموع}}}$$

$$= \sqrt{\frac{0,95}{17}} = 0,56 = 0,24$$

$$\text{نسبة ارتباط س. ص} = \frac{\text{ع} \times \text{مجموع س} \times \text{مربع الانحرافات}}{\text{ع ص}}$$

$$\text{نسبة ارتباط س. ص} = \frac{0,24}{1,7} = 0,14$$

ويمكن إيجاز الخطوات السابقة فيما يلي :

- ١ - نضع فئات المتغير س (عند حسابنا نسبة ارتباط س. ص) وتكراراته ونضع في مقابل تلك التكرارات متوسط صفوف المتغير ص.
- ٢ - يتم حساب المتوسط العام للمتغير ص.
- ٣ - يتم طرح المتوسط العام للمتغير ص من كل متوسط من متوسطات صفوف ص ويوضع الناتج في عمود انحراف متوسط صفوف ص عن المتوسط العام للمتغير ص.
- ٤ - يتم تربيع كل انحراف تم الحصول عليه في الخطوة السابقة ويوضع الناتج في عمود مربع انحراف صفوف ص عن متوسطها العام.
- ٥ - يتم ضرب الناتج في الخطوة السابقة في تكرارات المتغير س المقابلة لها ليمت الحصول على مجموع ك س × مربع انحرافات صفوف ص عن متوسطها العام.
- ٦ - يستخرج الانحراف المعياري لمجموع ك س × مربع انحرافات



صفوف ص عن متوسطها العام بتطبيق المعادلة التالية :

$$\sqrt{\frac{\text{مجمك} \times \text{مربع الانحرافات}}{\text{مجمك}}}$$

٧- يتم حساب نسبة الارتباط كما يلي :

$$\text{نسبة ارتباط س. ص} = \frac{\text{الانحراف المعياري لـ : مجك} \times \text{مربع الانحرافات}}{\text{الانحراف المعياري للمتغير ص}}$$

وتتبع نفس الخطوات السابقة عند حساب نسبة ارتباط ص. س كما في  
المثال السابق :

مثال لحساب نسبة ارتباط ص. س .

| ف  | [ك ص] | [م: أعمدة س] | متوسطها العام | س عن متوسطها العام | (مربع انحراف م: أعمدة ك ص × مربع | [انحراف م أعمدة س عن |
|----|-------|--------------|---------------|--------------------|----------------------------------|----------------------|
| -٤ | ٧     | ١٢,٥         | ٠,٦ +         | ٠,٣٦               | ٢,٥٢                             |                      |
| -٦ | ٥     | ١١,٥         | ٠,٤ -         | ٠,١٦               | ٠,٨٠                             |                      |
| -٨ | ٥     | ١١,٥         | ٠,٤ -         |                    |                                  |                      |
|    | ١٧    |              |               |                    | ٤,١٢                             |                      |

$$م ص = ١١,٩$$

$$ع س = ٣,٤$$

$$\text{الانحراف المعياري لمجك} = \sqrt{\frac{\text{ك ص} \times \text{مربع الانحرافات}}{\text{مجمك}}} = \sqrt{\frac{٤,١٢}{١٧}}$$

$$= ٠,٥$$

$$\text{نسبة ارتباط ص. س} = \frac{٣,٤}{١١,٩} = ٠,٢٨٦$$

اتجاه العلاقة في نسبة الارتباط:

يرى المؤلف أنه يمكن تحديد اتجاه العلاقة في نسبة الارتباط من خلال:

أ - شكل التوزيع في جدول الانتشار (الجدول المزدوج) أو.

ب - حساب معامل الارتباط بين كل متغيرين حتى يمكن معرفة الارتباطات الموجبة والارتباطات السالبة ووضع هذه الإشارات السالبة والموجبة أمام نسب الارتباط الخاصة بكل من المتغيرين.

(٣)

## معامل الارتباط الجزئي Partial Correlation

مقدمة :

لا يستطيع الباحث في كثير من البحوث التي يجريها ضبط كل متغيرات بحثه أما عن صعوبة وعوائق ميدانية أو نسيان إجراء عملية الضبط والتثبيت للمتغيرات أثناء الخطوات الأولى من البحث.

ويحتاج الباحث في هذه الحالة لمعامل إحصائي يفيد في عزل تأثير هذا المتغير أو المتغيرات التي لم يثبتها على الظاهرة المدروسة من حيث علاقاته بمتغيرات أخرى.

مثال :

أراد باحث أن يدرس العلاقة بين التحصيل الدراسي والغياب لدى مجموعة من الطلبة. ومن المعروف أنه إلى جانب الغياب فإن طريقة التدريس للطلاب تؤثر في تحصيله الدراسي أيضاً. فإذا استطاع الباحث أن

يضبط هذا المتغير (المتغير الخاص بطريقة التدريس) أثناء إجراءاته للتجربة ويختار التلاميذ من بين الذين يتعلمون بطريقة تدريس واحدة فإنه يكون بذلك قد عزل تأثير هذا المتغير. أما إذا لم يستطع اختيارهم من الذين يخضعون لطريقة تدريس واحدة وكان التلاميذ يتعرضون لطرق تدريس مختلفة فإنه بذلك يكون في حاجة لمعامل الارتباط الجزئي لكي يعزل تأثير متغير طريقة التدريس في العلاقة بين التحصيل الدراسي والغياب ويتضح ذلك في المثال الآتي :

مثال :

| (ن) | (١)<br>الغياب | (٢)<br>التحصيل | (٣)<br>طريقة<br>التدريس |
|-----|---------------|----------------|-------------------------|
| ١   | ٧٠            | ١٥             | ١٣                      |
| ٢   | ١١٠           | ١٣             | ٢٠                      |
| ٣   | ١٢٠           | ١١             | ٥٥                      |
| ٤   | ٩٥            | ١٣             | ٨٠                      |
| ٥   | ١٠٥           | ٠٨             | ٠٦                      |

وفي المثال السابق وتمهيداً للحصول على معامل الارتباط الجزئي لعزل تأثير طريقة التدريس على العلاقة بين الغياب والتحصيل الدراسي يتم الحصول على معاملات الارتباط الآتية بين المتغيرات الثلاث السابقة :

أولاً: معامل الارتباط(\*) بين الغياب والتحصيل الدراسي ونرمز له بالرمز:  $r_{12}$  أي معامل الارتباط بين المتغير ١ والمتغير ٢ .

(\*) على الباحث أن يستخدم معامل الارتباط المناسب لعدد العينة ولطبيعة توزيع متغيراته .

ثانياً: معامل الارتباط بين الغياب وطريقة التدريس ونرمز له بالرمز:  $r_{301}$ ، أي معامل الارتباط بين المتغير ١ والمتغير ٣.

ثالثاً: معامل الارتباط بين التحصيل الدراسي طريقة التدريس ونرمز له بالرمز:  $r_{302}$ ، أي معامل الارتباط بين المتغير ٢ والمتغير ٣.

أولاً:  $r_{301}$

| ن | س   | ص  | رتبة س | رتبة ص | ف     | ف <sup>٢</sup> |
|---|-----|----|--------|--------|-------|----------------|
| ١ | ١٥  | ٥  | ١      | ٤,٠ +  | ١٦,٠٠ |                |
| ٢ | ١١٠ | ١٣ | ٢      | ٢,٥ -  | ٠,٥٠  | ٠٠,٢٥          |
| ٣ | ١٢٠ | ١١ | ١      | ٤ -    | ٣,٠٠  | ٠٩,٠٠          |
| ٤ | ٩٥  | ١٣ | ٤      | ٢,٥ +  | ١,٥٠  | ٢,٢٥           |
| ٥ | ١٠٥ | ٨  | ٣      | ٥ -    | ٢,٠٠  | ٤,٠٠           |
|   |     |    |        |        | ٥,٥ + | ٣١,٥           |
|   |     |    |        |        | ٥,٥ - |                |
|   |     |    |        |        | صفر   |                |

$$r_{301} = 1 - \frac{189}{120} = 1 - 1,58 = -0,58$$

ثانياً: س ٣٠١

| ن | س   | ص  | رتبة س | رتبة ص | ف   | ف <sup>٢</sup> |
|---|-----|----|--------|--------|-----|----------------|
| ١ | ٨٠  | ١٣ | ٥      | ٤      | ١+  | ١              |
| ٢ | ١١٠ | ٢٠ | ٢      | ٣      | ١-  | ١              |
| ٣ | ١٢٠ | ٥٥ | ١      | ٢      | ١-  | ١              |
| ٤ | ٩٥  | ٨٠ | ٤      | ١      | ٣+  | ٩              |
| ٥ | ١٠٥ | ٦  | ٣      | ٥      | ٢-  | ٤              |
|   |     |    |        |        | ٤-  | ١٦             |
|   |     |    |        |        | ٤+  |                |
|   |     |    |        |        | صفر |                |

$$ر ٣٠١ = ١ = \frac{١٦ \times ٦}{٢٤ \times ٥} - ١ = \frac{٩٦}{١٢٠} - ١ = ٣٠١, ٨ - ١ = ٣٠١, ٢ =$$

ثالثاً: ر ٣٠٢

| ن | س  | ص  | رتبة س | رتبة ص | ف      | ف <sup>٢</sup> |
|---|----|----|--------|--------|--------|----------------|
| ١ | ١٥ | ١٣ | ١      | ٤      | ٣,١٠ - | ٩,٠٠           |
| ٢ | ١٣ | ٢٠ | ٢,٥    | ٣      | ٠,٥٠ - | ٠,٢٥           |
| ٣ | ١١ | ٥٥ | ٤      | ٢      | ٢,١٠ + | ٤,٠٠           |
| ٤ | ١٣ | ٨٠ | ٢,٥    | ١      | ١,٥٠ + | ٢,٢٥           |
| ٥ | ٨  | ٦  | ٥      | ٥      | صفر    | صفر            |
|   |    |    |        |        | صفر    | ١٥,٥٠          |

$$ر ٣٠٢ = ١ = \frac{١٥,٥ \times ٦}{٢٤ \times ٥} - ١ =$$

$$ر ٣٠٢ = ١ = \frac{٩٣}{١٢٠} - ١ = ٣٠٢, ٧٨ - ١ = ٣٠٢, ٢٢ =$$

وبعد ذلك يتم تطبيق قانون معامل الارتباط الجزئي الآتي :

$$r_{302} = \frac{r_{301} \times r_{302} - r_{201}}{\sqrt{(r_{302})^2 - 1 \times (r_{301})^2 - 1}} = 30201$$

حيث أن :

- ر 3201 = معامل الارتباط الجزئي .
  - ر 201 = معامل الارتباط بين الغياب والتحصيل .
  - ر 301 = معامل الارتباط بين الغياب وطريقة التدريس .
  - ر 302 = معامل الارتباط بين التحصيل وطريقة التدريس .
- وبالتعويض عن المعادلة السابقة في المثال السابق فإن :

$$r_{3201} = \frac{0,20 \times 0,18 - 0,58}{\sqrt{(0,20)^2 - 1 \times (0,18)^2 - 1}} = 3201$$

$$r_{3201} = \frac{0,36 - 0,58}{\sqrt{0,04 - 1 \times 0,3 - 1}} = 3201$$

$$r_{3201} = \frac{0,62}{\sqrt{0,96 \times 0,97}} = 3201$$

$$r_{3201} = \frac{0,62}{\sqrt{0,96}} = \frac{0,62}{0,9812} = 3201$$

$$r_{3201} = \frac{0,62}{0,96} = 0,65 = 3201$$

فإن العلاقة بين الغياب والتحصيل الدراسي مع تثبيت أثر طريقة التدريس على هذه العلاقة في هذا المثال التدريبي - ٦٥, ١٠

### العلاقة بين الارتباط الجزئي ومعادلة الفروق الرباعية في التحليل العاملي

ذهب سبيرمان Spearman C. إلى أن معامل الارتباط بين أي عدد من الاختبارات التي تقيس أي ناحية من نواحي النشاط والتفكير العقلي ترجع إلى وجود عامل عام مشترك فإذا تم عزل أثر هذا العامل العام من هذه الاختبارات فإنه لا يوجد ذلك الارتباط بين هذه الاختبارات وتصير قيمته صفراً. وهذا ما تقوم عليه معادلة الفروق الرباعية والتي تشير إلى أنه إذا كانت الارتباطات التي تجمع بين تلك الاختبارات ترجع إلى عامل عام مشترك فإن الفروق الرباعية تصبح مساوية للصفر. وتسمى معادلة الفروق الرباعية بهذا الاسم لأنه لو أخذنا أي أربعة اختبارات من اختبارات المصفوفة الارتباطية وهي أ، ب، ج، د فإننا نجد أن صفة النسبية بين معاملات الارتباط العمودي كل اختبارين واحدة كأن تكون النسبة بين مجموع ارتباطات عمود اختبار أ وعمود اختبار ب هي ٢ : ١، وكذلك بين مجموع ارتباطات عمود اختبار ج وعمود اختبار د هي ٢ : ١، وعلى هذا

$$\frac{أ-ج}{ب-د} = \frac{أ-د}{ب-ج} .$$

(٤)

## معامل الارتباط المتعدد Multiple Correlation

مقدمة :

يواجه الباحث في كثير من البحوث والدراسات التي يجريها كثيراً من المشاكل تساعد الإحصاء دون شك على حلها. ويعتبر معامل الارتباط المتعدد على رأس الأساليب الإحصائية التي تساعد الباحث على تفهم الظاهرة موضوع الدراسة من حيث علاقتها بكافة المتغيرات الأخرى التي ترتبط بها. ويواجه الباحث مثل هذه المشاكل في علم النفس الاجتماعي وعلم النفس الصناعي حيث يجد كثيراً من الظواهر التي ترتبط بالعديد من المتغيرات. ففي علم النفس الاجتماعي نجد مثلاً تكوين الاتجاهات يرتبط بالتنشئة الاجتماعية وبالجماعة العضوية والجماعة المرجعية وبوسائل الاتصال وبدور الجماعة الأولية . . . وهكذا العديد من المتغيرات التي ترتبط بتكوين الاتجاه. وفي علم النفس الصناعي نجد أن الكفاية الإنتاجية للعامل ترتبط بجوانب كثيرة مثل القدرات والذكاء، والروح المعنوية، والتوحد بالعمل، والمكانة الاجتماعية والعلاقة بالرؤساء، والعلاقة بالزملاء . . . إلخ العديد من المتغيرات التي ترتبط بالكفاية الإنتاجية للعامل.

ويحتاج الباحث في مثل هذه الأحوال إلى التوصل لمعامل عددي واحد يوضح له العلاقة بين هذه الظاهرة وتلك المتغيرات التي ترتبط بها.

ويضع معامل الارتباط المتعدد على عاتقه الكشف عن هذه العلاقة في مثل هذه الأحوال. وقانون معامل الارتباط المتعدد هو:

$$r = \frac{r_{12} + r_{13} - r_{23}}{\sqrt{1 - r_{22} - r_{33}}}$$



مثال :

لو أردنا معرفة العلاقة بين الكفاية الإنتاجية لمجموعة من العمال في عملهم وبين كل من المكانة السوسيوومترية والروح المعنوية وكانت درجاتهم على كل من المتغير المستقل (الكفاية الإنتاجية) والمتغيرات المعتمدة (المكانة السوسيوومترية والروح المعنوية) كما يلي :

| ق | (١)<br>الكفاية الإنتاجية | (٢)<br>المكانة السوسيوومترية | (٣)<br>الروح المعنوية |
|---|--------------------------|------------------------------|-----------------------|
| ١ | ٧                        | ١٢                           | ٢٠                    |
| ٢ | ٨                        | ١١                           | ٢٥                    |
| ٣ | ٤                        | ٧                            | ١٧                    |
| ٤ | ٦                        | ٩                            | ٣١                    |
| ٥ | ٣                        | ١٠                           | ٣٠                    |

فإنه يتم حساب معاملات الارتباط الآتية :

١ - معامل الارتباط بين الكفاية الإنتاجية والمكانة السوسيوومترية أي  
ر٢٠١.

٢ - معامل الارتباط الكفاية الإنتاجية والروح المعنوية أي ر٣٠١.

٣ - معامل الارتباط بين المكانة السوسيوومترية والروح المعنوية أي  
ر٣٠٢.

أولاً: ر ٢٠١

| ن | (١)               | (٢)                  | رتبة (٢) | رتبة (١) | ف  | ف' |
|---|-------------------|----------------------|----------|----------|----|----|
|   | الكفاية الإنتاجية | المكانة السوسيومترية | (٢)      | (١)      |    |    |
| ١ | ٧                 | ١٢                   | ١        | ٢        | ١+ | ١  |
| ٢ | ٨                 | ١١                   | ٢        | ١        | ١- | ١  |
| ٣ | ٤                 | ٧                    | ٥        | ٤        | ١- | ١  |
| ٤ | ٦                 | ٩                    | ٤        | ٣        | ١- | ١  |
| ٥ | ٣                 | ١٠                   | ٣        | ٥        | ٢+ | ٤  |
|   |                   |                      |          |          |    | ٨  |

$$٠,٦ = \frac{٤٨}{١٢٠} - ١ = \frac{٨ \times ٦}{٢٤ \times ٥} - ١ = ٢٠١$$

ثانياً: ر ٣٠١

| ن | (١)               | (٣)            | رتبة (٣) | رتبة (١) | ف  | ف' |
|---|-------------------|----------------|----------|----------|----|----|
|   | الكفاية الإنتاجية | الروح المعنوية | (٣)      | (١)      |    |    |
| ١ | ٧                 | ٢٠             | ٤        | ٢        | ٢- | ٤  |
| ٢ | ٨                 | ٢٥             | ٣        | ١        | ٢- | ٤  |
| ٣ | ٤                 | ١٧             | ٥        | ٤        | ١- | ١  |
| ٤ | ٦                 | ٣١             | ١        | ٣        | ٢+ | ٤  |
| ٥ | ٣                 | ٣٠             | ٢        | ٥        | ٣+ | ٩  |
|   |                   |                |          |          |    | ٢٢ |

$$٠,١٠ = ١,١٠ - ١ = \frac{١٣٢}{١٢٠} = \frac{٢٢ \times ٦}{٢٤ \times ٥} - ١ = ٣٠١$$

(\* هذا مجرد مثال وقيمة الارتباط الحالي لا تكشف عن طبيعة هذه العلاقة .

ثالثاً: ر ٣٠٢

| ن | (٢)                  | (٣)            | رتبة | رتبة | ف    | ف    |
|---|----------------------|----------------|------|------|------|------|
|   | المكانة السوسيومترية | الروح المعنوية |      |      |      |      |
| ١ | ١٢                   | ٢٠             | ١    | ٤    | ٣    | ٩    |
| ٢ | ١١                   | ٢٥             | ٢    | ٣    | ١    | ١    |
| ٣ | ١٠                   | ١٧             | ٣,٥  | ٥    | ١,٥  | ٢,٢٥ |
| ٤ | ٩                    | ٣١             | ٥    | ١    | ٤+   | ١٦   |
| ٥ | ١٠                   | ٣٠             | ٣,٥  | ٢    | ١,٥+ | ٢,٢٥ |
|   |                      |                |      |      |      | ٣٠,٥ |

$$= \frac{183}{120} - = \frac{30,5 \times 6}{24 \times 5} - 1 = 302 \text{ ر}$$

$$0,53 - = 1,53 - 1 = 302 \text{ ر}$$

وبالتعويض عن معادلة معامل الارتباط المتعدد في المثال السابق تكون قيمة معامل الارتباط المتعدد بين الكفاية الإنتاجية وكل من المكانة السوسيومترية والروح المعنوية كما يلي:

$$\frac{0,10 - \times,53 - \times 0,6 \times 2 - 2(0,10 -) + 0,6}{2(0,53) - 1} \sqrt{=} 30201 \text{ س}$$

$$\frac{,10 - \times,53 - \times 1,2 - 0,01 + 0,6}{,28 - 1} \sqrt{=}$$

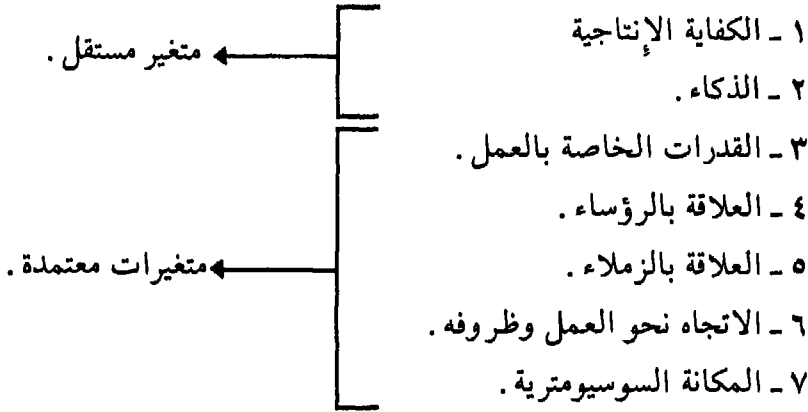
$$0,65 = \frac{,00}{,84} = \frac{,00}{,72} \sqrt{=} \frac{,064 - 0,61}{,72} \sqrt{=}$$

∴ العلاقة بين الكفاية الإنتاجية لمجموعة العمال في المثال السابق وبين كل من مكانتهم السوسيومترية وروحهم المعنوية تساوي ٠,٦٥ وذلك باستخدام معامل الارتباط المتعدد.

ملحوظة: أحياناً يرتبط بالظاهرة موضوع الدراسة كما سبق أن بينا أكثر من متغيرين فقد يكون ثلاثة أو أربعة أو خمسة أو أكثر من ذلك حسب طبيعة الظاهرة نفسها. ويحتاج الباحث في هذه الحالة كذلك لمعامل عددي واحد يعبر له عن علاقة الظاهرة بهذه المتغيرات جميعاً.

مثال:

أراد باحث أن يدرس علاقة الكفاية الإنتاجية للعامل بالمتغيرات المرتبطة بها:



والباحث في هذه الحالة عليه أن يقوم بحساب معاملات الارتباط الآتية:

١ - معامل الارتباط بين كل من الكفاية الإنتاجية والذكاء والقدرات .

٢ - معامل الارتباط المتعدد بين كل من الكفاءة الإنتاجية والعلاقة بالرؤساء والعلاقة بالزملاء .

٣- معامل الارتباط المتعدد بين الكفاية الإنتاجية والاتجاه نحو العمل والمكانة السوسيو مترية .

وللحصول على معامل عددي واحد يعبر عن علاقة الكفاية الإنتاجية بالمتغيرات الست السابقة نقوم بما يلي :

١- تحويل معامل الارتباط المتعدد إلى مقابلة اللوغاريتمي في الجدول الخاص بذلك .

٢- حساب متوسط المقابل اللوغاريتمي لمعاملات الارتباط .

٣- تحويل المتوسط اللوغاريتمي مرة أخرى إلى مقابله من معاملات الارتباط وذلك في الجدول الخاص بذلك والمشار له في ١ .

ويستخدم جدول تحويل معامل الارتباط ر إلى مقابلة اللوغاريتمي في تحويل معاملات الارتباط التي تزيد عن ٠,٥ (\*) إلى مقابلاتها اللوغاريتمية لحساب متوسطاتها . ثم يحول الناتج اللوغاريتمي بعد ذلك إلى المقابل الارتباطي ويكون هذا المقابل الارتباطي هو معامل الارتباط المتعدد بين الكفاية الإنتاجية وكل من الذكاء والقدرات الخاصة بالعمل والعلاقة بالزملاء والعلاقة بالرؤساء والاتجاه نحو العمل والمكانة السوسيو مترية . ولنفترض أن معاملات الارتباط المتعدد في المثال السابق كانت كما يلي :

أولاً: بين الكفاية الإنتاجية والذكاء والقدرات ر ٣٠٢٠١ = ٠,٣١ .

ثانياً: بين الكفاية الإنتاجية والعلاقة بالرؤساء والعلاقة بالزملاء

$$٠,٥٥ = ٥٠٤٠١ ر$$

(\*) يتم هذا الإجراء لأن التوزيع التكراري للارتباطات التي تقع بين ٠,٢٥ - ٠,٩٩٥ غير اعتدالي أما التوزيع التكراري لمقابلها اللوغاريتمي فهو اعتدالي . وعلى هذا فلا يجوز في حالة الارتباطات حساب متوسطها بينما يجوز ذلك لمقابلها اللوغاريتمي .

ثالثاً: بين الكفاية الإنتاجية والاتجاه نحو العمل والمكانة السوسيو مترية ر  $٧٠٦٠١ = ٠,٤٢$ .

وبالرجوع لجدول المعامل اللوغاريتمي (\*) ، نجد أن المقابلات اللوغاريتمية لمعاملات الارتباط المتعدد السابقة هي :

$$٠,٣٢ = ٣٠٢٠١ \text{ ر مقابلها اللوغاريتمي}$$

$$٠,٦٢ = ٥٠٤٠١ \text{ ر مقابلها اللوغاريتمي}$$

$$٠,٤٥ = ٧٦٠١ \text{ ر مقابلها اللوغاريتمي}$$

والمتوسط الحسابي للمقابلات اللوغاريتمية =  $\frac{٠,٤٥ + ٠,٦٢ + ٠,٣٢}{٣}$

$$٠,٤٦ = \frac{١,٣٩}{٣} =$$

والبحث في نفس الجدول عن معامل الارتباط ر المقابل للقيمة  $٠,٤٦$  اللوغاريتمية نجد أنه يساوي  $٠,٤٣$  وبهذا يكون معامل الارتباط المتعدد بين الكفاية الإنتاجية والذكاء والقدرات والعلاقة بالزملاء والعلاقة بالرؤساء والاتجاه نحو العمل والمكانة السوسيو مترية  $٠,٤٣$  هذا ويمكن التأكد من دلالة معامل الارتباط المتعدد كما سبق أن بينا .

---

(\*) د. فؤاد البهي السيد - الجداول الإحصائية - دار الفكر العربي - ١٩٥٨ ص ٨ جدول ١٣ وذلك بالنسبة لمعاملات الارتباط  $٠,٢٥ - ٠,٩٩٥$  ، أما بالنسبة للأقل أنظر مناهج البحث في التربية وعلم النفس لفان دالين ترجمة بإشراف سيد عثمان - الأنجلو المصرية ١٩٧٥ .

أولاً - جدول المقابل اللوغاريتمي لمعاملات  
الارتباط ٠,٢٥، فما فوق أي غير الاعتدالية التوزيع.

| ز    | ر     | ز    | ر     | ز    | ر    | ز    | ر    | ز    | ر    |
|------|-------|------|-------|------|------|------|------|------|------|
| ١,٥٦ | ٠,٩١٥ | ١,٥٠ | ٠,٧٧  | ٠,٦٨ | ٠,٥٩ | ٠,٤٥ | ٠,٤٢ | ٠,٢٦ | ٠,٢٥ |
| ١,٥٩ | ٠,٩٢٠ | ١,٥٢ | ٠,٧٧  | ٠,٦٩ | ٠,٦٠ | ٠,٤٦ | ٠,٤٣ | ٠,٢٧ | ٠,٢٦ |
| ١,٦٢ | ٠,٩٢٥ | ١,٥٥ | ٠,٧٨  | ٠,٧١ | ٠,٦١ | ٠,٤٧ | ٠,٤٤ | ٠,٢٨ | ٠,٢٧ |
| ١,٦٦ | ٠,٩٣٠ | ١,٥٧ | ٠,٧٩  | ٠,٧٣ | ٠,٦٢ | ٠,٤٨ | ٠,٤٥ | ٠,٢٩ | ٠,٢٨ |
| ١,٧٠ | ٠,٩٣٥ | ١,٦٠ | ٠,٨٠  | ٠,٧٤ | ٠,٦٣ | ٠,٥٠ | ٠,٤٦ | ٠,٣٠ | ٠,٢٩ |
| ١,٧٤ | ٠,٩٤٠ | ١,٦٣ | ٠,٨١  | ٠,٧٦ | ٠,٦٤ | ٠,٥١ | ٠,٤٧ | ٠,٣١ | ٠,٣٠ |
| ١,٧٨ | ٠,٩٤٥ | ١,٦٦ | ٠,٨٢  | ٠,٧٨ | ٠,٦٥ | ٠,٥٢ | ٠,٤٨ | ٠,٣٢ | ٠,٣١ |
| ١,٨٣ | ٠,٩٥٠ | ١,٦٩ | ٠,٨٣  | ٠,٨٩ | ٠,٦٦ | ٠,٥٤ | ٠,٤٩ | ٠,٣٣ | ٠,٣٢ |
| ١,٨٩ | ٠,٩٥٥ | ١,٧٢ | ٠,٨٤  | ٠,٨١ | ٠,٦٧ | ٠,٥٥ | ٠,٥٠ | ٠,٣٤ | ٠,٣٣ |
| ١,٩٥ | ٠,٩٦٠ | ١,٧٦ | ٠,٨٥  | ٠,٨٢ | ٠,٦٨ | ٠,٥٦ | ٠,٥١ | ٠,٣٥ | ٠,٣٤ |
| ٢,٠١ | ٠,٩٦  | ١,٧٩ | ٠,٨٦  | ٠,٨٥ | ٠,٦٩ | ٠,٥٨ | ٠,٥٢ | ٠,٣٧ | ٠,٣٥ |
| ٢,٠٩ | ٠,٩٧٠ | ١,٨٣ | ٠,٨٧  | ٠,٨٧ | ٠,٧٠ | ٠,٥٩ | ٠,٥٣ | ٠,٣٨ | ٠,٣٦ |
| ٢,١٨ | ٠,٩٧٥ | ١,٨٦ | ٠,٨٨  | ٠,٨٩ | ٠,٧١ | ٠,٦٠ | ٠,٥٤ | ٠,٣٩ | ٠,٣٧ |
| ٢,٢٦ | ٠,٩٨٠ | ١,٩٠ | ٠,٨٩  | ٠,٩١ | ٠,٧٢ | ٠,٦٢ | ٠,٥٥ | ٠,٤٠ | ٠,٣٨ |
| ٢,٣٤ | ٠,٩٨٥ | ١,٩٤ | ٠,٩٠  | ٠,٩٣ | ٠,٧٣ | ٠,٦٣ | ٠,٥٦ | ٠,٤١ | ٠,٣٩ |
| ٢,٤٢ | ٠,٩٩٠ | ١,٩٨ | ٠,٩٠٥ | ٠,٩٥ | ٠,٧٤ | ٠,٦٥ | ٠,٥٧ | ٠,٤٢ | ٠,٤٠ |
| ٢,٥٠ | ٠,٩٩٥ | ٢,٠٢ | ٠,٩١  | ٠,٩٧ | ٠,٧٥ | ٠,٦٦ | ٠,٥٨ | ٠,٤٤ | ٠,٤١ |

ثانياً - جدول المقابل اللوغاريتمي  
لمعاملات الارتباط الأقل من ٠,٢٥ أي الاعتدالية التوزيع

| ز     | ر     | ز     | ر     |
|-------|-------|-------|-------|
| ٠,١٢٦ | ٠,١٢٥ | ٠,٠٠٠ | ٠,٠٠٠ |
| ٠,١٣١ | ٠,١٣٠ | ٠,٠٠٥ | ٠,٠٠٥ |
| ٠,١٣٦ | ٠,١٣٥ | ٠,٠١٠ | ٠,٠١٠ |
| ٠,١٤١ | ٠,١٤٠ | ٠,٠١٥ | ٠,٠١٥ |
| ٠,١٤٦ | ٠,١٤٥ | ٠,٠٢٠ | ٠,٠٢٠ |
| ٠,١٥١ | ٠,١٥٠ | ٠,٠٢٥ | ٠,٠٢٥ |
| ٠,١٥٦ | ٠,١٥٥ | ٠,٠٣٠ | ٠,٠٣٠ |
| ٠,١٦١ | ٠,١٦٠ | ٠,٠٣٥ | ٠,٠٣٥ |
| ٠,١٦٧ | ٠,١٦٥ | ٠,٠٤٠ | ٠,٠٤٠ |
| ٠,١٧٢ | ٠,١٧٠ | ٠,٠٤٥ | ٠,٠٤٥ |
| ٠,١٧٧ | ٠,١٧٥ | ٠,٠٥٠ | ٠,٠٥٠ |
| ٠,١٨٢ | ٠,١٨٠ | ٠,٠٥٥ | ٠,٠٥٥ |
| ٠,١٨٧ | ٠,١٨٥ | ٠,٠٦٠ | ٠,٠٦٠ |
| ٠,١٩٢ | ٠,١٩٠ | ٠,٠٦٥ | ٠,٠٦٥ |
| ٠,١٩٨ | ٠,١٩٥ | ٠,٠٧٠ | ٠,٠٧٠ |
| ٠,٢٠٣ | ٠,٢٠٠ | ٠,٠٧٥ | ٠,٠٧٥ |
| ٠,٢٠٨ | ٠,٢٠٥ | ٠,٠٨٠ | ٠,٠٨٠ |
| ٠,٢١٣ | ٠,٢١٠ | ٠,٠٨٥ | ٠,٠٨٥ |
| ٠,٢١٨ | ٠,٢١٥ | ٠,٠٩٠ | ٠,٠٩٠ |



(تابع) جدول المقابل اللوغاريتمي

| ز      | ر      | ز      | ر      |
|--------|--------|--------|--------|
| ٠, ٢٢٤ | ٠, ٢٢٠ | ٠, ٠٩٥ | ٠, ٠٩٥ |
| ٠, ٢٢٩ | ٠, ٢٢٥ | ٠, ١٠٠ | ٠, ١٠٠ |
| ٠, ٢٣٤ | ٠, ٢٣٠ | ٠, ١٠٥ | ٠, ١٠٥ |
| ٠, ٢٣٩ | ٠, ٢٣٥ | ٠, ١١٠ | ٠, ١١٠ |
| ٠, ٢٤٥ | ٠, ٢٤٠ | ٠, ١١٦ | ٠, ١١٥ |
| ٠, ٢٥٠ | ٠, ٢٤٥ | ٠, ١٢١ | ٠, ١٢٠ |

(٥)

الانحدار والتنبوء

مقدمة : إذا طبق اختبار يقيس تحصيل التلاميذ في مادة الحساب على مجموعة منهم يوم السبت مثلاً ، وأعيد عليهم تطبيقه يوم الاثنين من نفس الأسبوع فإن الأفراد الذين حصلوا على درجات مرتفعة يوم السبت قد تميل درجاتهم إلى الانخفاض والاقتراب من المتوسط عند إعادة الاختبار عليهم يوم الاثنين . كذلك الأفراد الذين حصلوا على درجات منخفضة يوم السبت قد تميل درجاتهم إلى الارتداد نحو المتوسط يوم الاثنين .

يحدث هذا الارتداد نتيجة خطأ في القياس والذي يجعل أفراد يحصلون على درجات مرتفعة في ذلك الموقف المعين ، ولذلك فمن المحتمل أن ينخفض أداء الشخص عند إعادة الاختبار عليه . أي أنه إذا كان قد تصادف وحدث خطأ في القياس في المرة الأولى أدى إلى حصول أفراد على درجات مرتفعة أو منخفضة ، فإن الصدفة لن تحدث في المرة الثانية .

ويقصد بالمخطأ الأثار العرضية كالغش بالنسبة لمن حصل على درجة مرتفعة ، والمرض بالنسبة لمن حصل على درجة منخفضة . ويطلق اسم الارتداد أو الانحدار Regression على ذلك .

ويعتبر جالتون Galton أول من استخدم فكرة الانحدار في بحوثه عن الوراثة ، إذ لفت نظره بالنسبة لوراثة صفة طول القامة أن الأطفال الذين يكون أبواؤهم طوال القامة يميلون لأن يكونوا أقصر قامة من آبائهم ، والعكس من ذلك الأطفال الذين يكون أبواؤهم قصار القامة يميلون لأن يكونوا أطول قامة من آبواؤهم ، أي أن طول الأبناء يميل إلى التراجع أو الانحدار نحو المتوسط العام . وهو نفس الشيء الذي وجد في المثال الأول من أن الدرجات المتطرفة تميل إلى أن ترتد أو تتحرك نحو المتوسط عند إعادة الاختبار .

**فائدة الانحدار:** يفيد الانحدار في التنبؤ من خلال حساب معامل الارتباط فإذا تم حساب معامل الارتباط بين اختبار الاستدلال اللغوي واختبار تكميل الجمل فإنه من خلال معرفة درجات اختبار الاستدلال اللغوي يمكن التنبؤ بدرجات اختبار تكميل الأشكال . وتوضح الفائدة الكبرى في أهمية الانحدار كما يشير لذلك الدكتور فؤاد البهي السيد في التوصل لجداول دقيقة تمثل معايير الأعمار الزمنية .

**خطوات حساب الانحدار:** يقوم الانحدار على أساس حساب معامل الارتباط بين المتغيرين س ، ص وعلى المتوسط الحسابي والانحراف المعياري لدرجات هذين المتغيرين . فإذا كان لدينا درجات اختبار ما (س) لعينة من الأفراد وأعمار (ص) لهؤلاء الأفراد فإن التنبؤ بدرجات ص من درجات س يسمى هذا النوع من التنبؤ بانحدار ص على س أما إذا تنبأنا بدرجات الاختبار الأول س من درجات الاختبار الثاني ص فيسمى بانحدار س على ص .

مثال: فيما يلي درجات خمسة تلاميذ على اختباري التفكير اللغوي (س) وتكميل الجمل (ص).

١ - التفكير اللغوي (س): ٢ ٣ ٥ ١ ٤

٢ - تكميل الجمل (ص): ٤ ٦ ٥ ٧ ٨

والمطلوب حساب انحدار ص على س

والخطوات كالآتي:

١ - يتم حساب معامل الارتباط بين س، ص.

٢ - يتم حساب الانحراف المعياري لدرجات س (ع س)، والانحراف المعياري لدرجات ص (ع ص).

٣ - يتم حساب المتوسط لدرجات س، ودرجات ص.

٤ - يتم تطبيق المعادلة الآتية:

$$ص \text{ على } س = ر \frac{ع \text{ ص}}{ع \text{ س}} (س - س) + ص$$

حيث أن:

ر = معامل الارتباط بين س، ص.

ع ص = الانحراف المعياري لدرجات س.

ع س = الانحراف المعياري لدرجات ص.

س = الدرجة المعلومة الذي سيتم تنبؤ ص منها.

س = المتوسط الحسابي لدرجات س.

ص = المتوسط الحسابي لدرجات ص.

وفيما يلي تطبيق هذه الخطوات على المثال السابق:

أولاً: حساب معامل الارتباط بين س ، ص باستخدام معامل ارتباط بيرسون من القيم الخام.

| ن  | س  | ص  | س <sup>2</sup> | ص <sup>2</sup> | س ص |
|----|----|----|----------------|----------------|-----|
| ١  | ٤  | ٤  | ١٦             | ١٦             | ١٦  |
| ٢  | ٣  | ٦  | ٩              | ٣٦             | ١٨  |
| ٣  | ٥  | ٥  | ٢٥             | ٢٥             | ٢٥  |
| ٤  | ٤  | ٧  | ١٦             | ٤٩             | ٢٨  |
| ٥  | ٤  | ٨  | ١٦             | ٦٤             | ٣٢  |
| مج | ٢٠ | ٣٠ | ٨٢             | ١٩٠            | ١١٩ |

$$r = \frac{\frac{30 \times 20}{5} - 119}{\sqrt{\left(\frac{30}{5}\right) - 190 \times \left(\frac{20}{5}\right) - 82}}$$

$$= \frac{120 - 119}{\sqrt{180 - 190 \times 80 - 82}}$$

$$= \frac{10 \times 2}{1 - \sqrt{\quad}}$$

$$= \frac{1 -}{4,47}$$

$$r = -0,223$$

ثانياً: حساب متوسط س ، ومتوسط ص .

١ - حساب متوسط س .

$$\bar{س} = \frac{20}{5} = 4$$

٢ - حساب متوسط ص .

$$\text{ص} = \frac{3}{8} = 0,375$$

ثالثاً: حساب الانحراف المعياري لدرجات س، ص باستخدام القانون الآتي:

$$\sigma = \sqrt{\frac{\sum (\text{مجم س})^2}{n} - (\text{مجم ص})^2}$$

١ - الانحراف المعياري لدرجات س .

$$\sigma = \sqrt{\frac{2}{8} - 1,2}$$

$$= \sqrt{16 - 1,2}$$

$$= \sqrt{14,8}$$

$$= 3,847$$

٢ - الانحراف المعياري لدرجات ص .

$$\sigma = \sqrt{\frac{3}{8} - 1,9}$$

$$= \sqrt{36 - 1,9}$$

$$= \sqrt{104}$$

$$= 10,196$$

رابعاً: فيما يلي تطبيق المعادلة التي في الخطوة رقم (٤) على المثال السابق .

$$\text{ص على س} - = ٠,٢٢٣ \times \frac{١٢,٤}{٨,١٢} (\text{س} - ٤) + ٦$$

$$- = ٠,٢٢٣ \times ١,٥٢ (\text{س} - ٤) + ٦$$

$$- = ٠,٣٤١ (\text{س} - ٤) + ٦$$

$$- = ٠,٣٤١ \text{ س} + ١,٣٦ + ٦$$

$$- = ٠,٣٤١ \text{ س} + ٧,٣٦$$

وبافتراض أن س تساوي ١

$$\text{ص} - = ٠,٣٤١ \times ١ + ٧,٣٦$$

$$- = ٠,٣٤١ \text{ س} + ٧,٣٦$$

$$\text{ص} = ٧,٠١ \text{ تقريباً}$$

$$\text{ص} =$$

ويلاحظ أن هذه الدرجة هي نفسها درجة الشخص رقم أربعة في المتغير ص وتقابل الدرجة واحد في المتغير س .

تعليق: وبنفس الطريقة السابقة يمكن التنبؤ بباقي الدرجات فإذا كان الهدف معرفة الدرجة المقابلة للدرجة أربعة في س فيكون ذلك كالآتي:

$$\text{ص} - = ٠,٣٤١ + ٧,٣٦$$

$$- = ٠,٣٤١ \times ٤ + ٧,٣٦$$

$$- = ١,٣٦ + ٧,٣٦$$

$$= ٦ .$$

(\*) يتم ضرب الرقم - ٠,٣٤١ في س، ثم في - ٤ فيعطينا الناتج في الخطوة التالية - ٠,٣٤١ س،  
٠,٣٦ +

## ثانياً تحليل التباين Analysis of Variance

### أولاً: تحليل التباين البسيط(\*)

يكشف تحليل التباين البسيط عن مدى الفروق بين أكثر من مجموعتين، حيث يصلح اختبار «ت» في حالة حساب الفروق بين مجموعتين فقط. ففي أحيان كثيرة يحتاج الباحث لإجراء بحثه على أكثر من مجموعتين: كأن تتضمن عينة هذا البحث طلبة كليات مختلفة كطلبة الحقوق والطب والهندسة، وكان تتضمن عينة بحثه في حالة أخرى مستويات اجتماعية اقتصادية مختلفة كمستوى مرتفع ومستوى متوسط ومستوى منخفض... إلخ.

والباحث في هذه الحالة يحتاج لأسلوب واحد يصلح لاختبار الفرق بين المجموعات التي تتضمنها عينة بحثه ليحصل على معامل عددي واحد يكشف عما إذا كان هناك فرقاً جوهرياً بين تلك المجموعات المختلفة، ويقع على عاتق تحليل التباين الكشف عن هذا الفرق بالحصول على «نسبة ف» أو F. Ratio وذلك نسبة إلى فيشر Fisher الذي توصل إلى هذه الطريقة. وفيما يلي مثلاً نوضح من خلاله خطوات حساب «نسبة ف».

---

(\*) ويطلق عليه اسم التصميم البسيط Simple Design أو تحليل التباين ذا الاتجاه الواحد One Way Analysis of Variance .

مثال : طبق اختباراً على عينة مكونة من ثلاث مجموعات من الأطفال يمثلون مستويات اقتصادية اجتماعية مختلفة وكانت درجات كل مجموعة كما يلي :

| المجموعة الأولى | المجموعة الثانية | المجموعة الثالثة |
|-----------------|------------------|------------------|
| ٦               | ٤                | ٦                |
| ٨               | ٥                | ٨                |
| ٧               | ٧                | ٥                |
| ٧               | ٤                | ٥                |
| <u>٢٨</u>       | <u>٢٠</u>        | <u>٢٤</u>        |
| ٧ = م           | ٥                | ٦                |

$$م = \frac{18}{3} = \frac{6+5+7}{3} = 6$$

وخطوات حساب «نسبة ف» تتلخص فيما يلي :

- ١ - حساب المتوسط الحسابي لدرجات كل مجموعة وهو هنا يساوي ٧ للمجموعة الأولى ، ٥ للمجموعة الثانية ، ٦ للمجموعة الثالثة .
- ٢ - حساب المتوسط الحسابي العام للمجموعات الثلاث وهو هنا يساوي  $6 = 3 \div 18 = 6 + 5 + 7$  .
- ٣ - نقوم بحساب مربعات انحراف القيم في كل مجموعة عن المتوسط العام أي التباين العام وهو هنا يساوي :



$$\begin{aligned}
 & + \sqrt{(6-7)} + \sqrt{(6-7)} + \sqrt{(6-8)} + \sqrt{(6-6)} = \\
 & + \sqrt{(6-4)} + \sqrt{(6-7)} + \sqrt{(6-5)} + \sqrt{(6-4)} \\
 \sqrt{(2)} + \sqrt{(\text{صفر})} & = \sqrt{(6-5)} + \sqrt{(-6-5)} + \sqrt{(6-8)} + \sqrt{(6-6)} \\
 & + \sqrt{(1+)} + \sqrt{(1-)} + \sqrt{((2-)} + [\sqrt{(1)} + \sqrt{(1)} + \\
 & = [\sqrt{(1-)} + \sqrt{(1-)} + \sqrt{(2+)} + \sqrt{(\text{صفر})}] + [\sqrt{(2-)} \\
 & \text{صفر} + \text{صفر}] + [\text{صفر} + 1 + 1 + \text{صفر}] + [1 + 1 + \text{صفر} + \text{صفر}] \\
 & . 22 = [1 + 1 +
 \end{aligned}$$

٤ - يتم حساب مربعات انحراف المتوسطات الفرعية عن المتوسط العام. وهو يمثل هنا حساب التباين الكبير بين المجموعات وهو يساوي = مج مربعات الفروق  $\times$  ن . ويتم حسابه في مثالنا السابق كما يلي :

$$\begin{aligned}
 & = \sqrt{(6-6)} \text{ صفر} + \sqrt{(6-5)} \text{ صفر} + \sqrt{(6-7)} \text{ صفر} = \\
 & = \sqrt{(1)} \text{ صفر} + \sqrt{(1)} \text{ صفر} = \\
 & = \text{صفر} + \text{صفر} = 8
 \end{aligned}$$

٥ - يحسب مربع انحراف القيم داخل المجموعة عن متوسطها الحسابي . وهو هنا يمثل أيضاً حساب التباين الصغير بين المجموعات وهو يساوي = مج مربعات الفروق بين قيم المجموعة ومتوسطها الحسابي .

$$\begin{aligned}
 & [\sqrt{(1+)} + \sqrt{(1-)} + \sqrt{(\text{صفر})}] = \\
 & [\sqrt{(1-)} + \sqrt{(2+)} + \sqrt{(\text{صفر})} + \sqrt{(1-)}] + \\
 & [\sqrt{(1-)} + \sqrt{(1-)} + \sqrt{(2-)} + \sqrt{(\text{صفر})}] + \\
 & [(1) + (1) + (\text{صفر}) + (\text{صفر})] = \\
 & [(1) + (4) + (\text{صفر}) + (1)] + \\
 & 14 = [(1) + (1) + (4) + \text{صفر}] +
 \end{aligned}$$

٦ - يتم استخراج درجات الحرية تمهيداً لمعرفة هل الفروق

بين المجموعات دالة إحصائياً أم لا وذلك على النحو الآتي :

١ - درجة الحرية بين المجموعات (التباين الكبير) = عدد المجموعات - ١ = ٣ - ١ = ٢

ب - درجة الحرية داخل المجموعات (التباين الصغير) = ن - ١ + ن - ٢ + ن - ٣ = ١ - ٤ = ١ - ٤ + ١ - ٤ = ٣ + ٣ + ٣ = ٩ .

ج - درجات الحرية الكلية = عدد القيم - ١ = ١٢ - ١ = ١١

٧ - يتم بعد ذلك حساب «نسبة ف» كما يلي :

أ - التباين بين المجموعات (التباين الكبير)

=  $\frac{\text{مجموع مربعات الفروق} \times \text{ن}}{\text{درجة الحرية بين المجموعات}}$  وهو في هذا المثال =  $\frac{٨}{٣} = ٢,٦٦$

ب - التباين داخل المجموعات (التباين الصغير)

=  $\frac{\text{مجموع مربع انحراف قيم المجموعة عن متوسطها}}{\text{درجة الحرية داخل المجموعات}}$

وهو في هذا المثال =  $\frac{١٤}{٩} = ١,٥٦$

ج - «نسبة ت» =  $\frac{\text{التباين الكبير}}{\text{التباين الصغير}}$

وهي في هذا المثال =  $\frac{٢,٦٦}{١,٥٦} = ١,٧٠$

د - يتم الكشف عن دلالة «نسبة ف» أو «النسبة الفاتية» من الجداول

الخاصة بذلك عند مستوى ٠,٠٥، ومستوى ٠,٠١، وقيمة «ف» الموجودة بالجدول عند ٠,٠٥ تساوي ٤,٢٦، وعند ٠,٠١ تساوي ٨,٠٢. وعلى هذا الأساس فإن «نسبة ف» المستخرجة من هذا المثال لا دلالة لها من الناحية الإحصائية لأنها أقل من القيمتين الموجودتين بالجدول:

### استخدام تحليل التباين في حساب تجانس العينة

يرمز لمدى التجانس بالرمز ف، ومدى التجانس هو:

$$F = \frac{\text{التباين الأكبر} \cdot \text{ع}^2 \cdot \text{أ} \cdot \text{ع}^2}{(\text{أيهما الأكبر})} = \frac{\text{التباين الأصغر} \cdot \text{ع}^2 \cdot \text{أ} \cdot \text{ع}^2}{(\text{أيهما الأصغر})}$$

فإذا كان الانحراف المعياري للمجموعة الأولى هو الأكبر مثلاً فإنه يوضع فوق (في بسط المعادلة)، والانحراف المعياري الثاني الخاص بالمجموعة الثانية فإنه يوضع تحت (في مقام المعادلة).

مثال:

إذا كان العدد والانحراف المعياري لمجموعتين على النحو الآتي:

$$\text{ع للمجموعة الأولى} = ٣, ٢, \text{ ن للمجموعة الأولى} = ٦$$

$$\text{ع للمجموعة الثانية} = ٣, ٥, \text{ ن للمجموعة الثانية} = ٥$$

$$F = \frac{12,25}{10,24} = \frac{1(3,5)}{1(3,2)} = 1,19$$

د. ح التباين الكبير (المجموعة ذات الانحراف المعياري الكبير)

$$4 = 1 - 5 =$$

د. ح التباين الصغير (المجموعة ذات الانحراف المعياري الصغير) =

$$5 = 1 - 6$$

قيمة ف بالجدول = 5, 19

وبما أن قيمة ف في المثال (1, 19) أقل من قيمة ف المستخرجة من الجدول، فهي غير دالة فتكون العينتين بذلك متجانستين.

## ثانياً: تحليل التباين المزدوج (البارامتري)

أشرنا عند الكلام عن تحليل التباين أنه يعطي قيمة واحدة هي نسبة «ف» عند حساب دلالة الفرق بين أكثر من مجموعتين (ثلاث مجموعات فما فوق حسب عينات الدراسة) الأمر الذي لا يمكن استخدام اختبار «ت» لحساب دلالاته. وسواء كان الكلام على اختبار «ت» أو على نسبة «ف» في تكوينها البسيط فإن المقارنة تركزت فيهما بالنسبة لمتغير واحد فقط كالعدوان أو الانبساط أو الابتكار أو القدرة اللفظية أو الانتماء... إلخ.

لكن في كثير من البحوث يكون من أهداف البحث المقارنة بين ثلاث مجموعات أو أربعة على متغيرين أو أكثر من متغيرين وليس على متغير واحد فقط. ويأتي تحليل التباين من الدرجة الثانية أو تحليل التباين المزدوج ليتمكن الباحث من حساب دلالة الفرق بين أكثر من مجموعتين على متغيرين أو أكثر.

## تحليل التباين المزدوج «ذو الاتجاهين» (\*)

ويشمل تحليل التباين المزدوج أو ذو الاتجاهين شكلين من أشكال تحليل التباين هما:

١ - تحليل التباين المزدوج والذي يتضمن درجة واحدة أو قيمة واحدة في كل مربع من مربعات الجدول لكل ناحية أو فرع من فروع كل اتجاه من الاتجاهين.

٢ - تحليل التباين المزدوج والذي يتضمن وجود عدة قيم في كل صف أو عمود خاص بكل فرع من فروع الاتجاهين.

### (١) الشكل الأول

#### تحليل التباين المزدوج مع وجود قيمة واحدة في كل مربع

مثال: وضع باحث أربعة مجموعات من الطلاب كل مجموعة تتكون من ١٠ طلاب تحت ثلاثة أنواع من القيادة: الديمقراطية، والدكتاتورية، والفوضوية ثم قام بقياس الروح المعنوية لديهم في كل ظرف من ظروف القيادة التي تعرضوا لها فكانت كما في الجدول الآتي والذي يتضمن قيماً هي عبارة عن متوسطات لدرجات الأفراد من كل مجموعة:

---

(\*) يطلق على تحليل ذو الاتجاهين أو المزدوج Two-Way Analysis of Variance (ارجع للمرجع الثامن العربي في نهاية الكتاب).

| مجموع | مجموعات الطلاب |     |     |     | أنواع القيادة   |
|-------|----------------|-----|-----|-----|-----------------|
|       | ٤              | ٣   | ٢   | ١   |                 |
| ١٥٥   | ٣٠             | ٣٠  | ٧٠  | ٢٥  | ١ - الديمقراطية |
| ٢٢٥   | ٦٠             | ٣٥  | ٥٠  | ٨٠  | ٢ - الدكتاتورية |
| ٣١٠   | ٨٠             | ٧٥  | ٦٠  | ٩٥  | ٣ - الفوضوية    |
| ٦٩٠   | ١٧٠            | ١٤٠ | ١٨٠ | ٢٠٠ | مجموع           |

والمطلوب معرفة هل هناك فرقاً له دلالة إحصائية في الروح المعنوية لدى مجموعات الطلاب الأربعة بالنسبة لأنواع القيادة الثلاثة.  
الخطوات:

- ١ - يتم تصغير القيم بالجدول السابق بهدف تبسيط العمليات الحسابية الخاصة بالجمع والتربيع وذلك بطرح «قيمة ما» يحددها الباحث من كل درجة من الدرجات التي بالمربعات، وقسمة الناتج أيضاً على «قيمة ما».
- ٢ - في المثال السابق سيتم طرح ٥٠ من كل قيمة من القيم التي بالجدول وقسمة الناتج على عشرة.
- ٣ - يتم حساب المتوسط الحسابي العام للقيم التي بالجدول وهو في مثالنا:

$$\text{المتوسط الحسابي} = \frac{\text{مجموع القيم بالجدول}}{\text{مجموع القيم (عدد الصفوف} \times \text{عدد الأعمدة)}} = \frac{٦٩٠}{١٢} = ٥٧,٥$$

٤ - بعد عملية الطرح والقسمة يصير الجدول الجديد كالآتي:

| مجموع | الطلاب |       |     |       | أنواع القيادة   |
|-------|--------|-------|-----|-------|-----------------|
|       | ٤      | ٣     | ٢   | ١     |                 |
| ٤,٥ - | ٢ -    | ٢٠ -  | ٢   | ٢,٥ - | (١) الديمقراطية |
| ٢,٥   | ١      | ١,٥ - | صفر | ٣     | (٢) الدكتاتورية |
| ١١    | ٣      | ٢,٥   | ١   | ٤,٥   | (٣) الفوضوية    |
| ٩     | ٢      | ١ -   | ٣   | ٥     | مجموع           |

٥ - يتم تربيع كل قيمة من القيم السابقة لحساب مجموع المربعات الكلية.

$$\begin{aligned} \text{مجموع المربعات الكلية} &= [{}^2(٢) + {}^2(٤,٥) + {}^2(٣) + {}^2(٢,٥ -)] \\ &+ [{}^2(٢ -) + {}^2(٢,٥) + {}^2(١,٥٠) + {}^2(٢ -) + {}^2(١) + {}^2(\text{صفر})] \\ &+ ٤ + ١ + \text{صفر} + ٤ + ٢٠,٢٥ + ٩ + ٦,٥ = [{}^2(٣) + {}^2(١) + \\ &٦٧ = ٩ + ١ + ٤ + ٦,٢٥ + ٢,٢٥ + \end{aligned}$$

٦ - يتم حساب مجموع الدرجات الخاصة بالأعمدة بالنسبة للطلاب مقسوماً على عدد أنواع القيادة (عدد الصفوف) - عدد القيم التي بالمربعات وهي ١٢ (أي عدد الصفوف ٣ × عدد الأعمدة ٤ = ١٢).

$$\text{مجموع المربعات بين الطلاب} = \frac{{}^2(٢) + {}^2(١ -) + {}^2(٣) + {}^2(٥)}{٣} = ١٢ -$$

$$١ = ١٢ - ١٣ = ١٢ - \frac{٣٩}{٣} = ١٢ - \frac{٤ + ١ + ٩ + ٢٥}{٣} =$$

٧ - يتم حساب (مجموع) مربع مجموع الدرجات الخاصة بالصفوف بالنسبة لأنواع القيادة مقسوماً على عدد الطلاب (عدد الأعمدة) - ١٢ عدد القيم التي بالمربعات وهي ١٢ قيمة (عدد الصفوف ٣ × عدد الأعمدة ٤).

$$\text{مجموع المربعات بين أنواع القيادة} = \frac{[{}^2(11) + {}^2(2,5) + {}^2(4,5 -)]}{4} = 12 -$$

$$= 12 - \frac{147,5}{4} = 12 - \frac{121 + 6,25 + 20,25}{4} =$$

$$24,87 = 12 - 36,87 =$$

٨- يتم حساب (مجم) مجموع البواقي بالأعمدة وبالصفوف .

$$\begin{aligned} \text{مجموع البواقي} &= 11 + 2,5 + (4,5 -) + 2 + (1 -) + 3 + 5 = 23,5 \\ &18 = 5,5 - 23,5 \end{aligned}$$

٩- يتم ضرب المجموع في الخطوات ٦ ، ٧ ، ٨ في  $100 \times$  كالآتي :

$$\text{أ- مجموع المربعات بين الطلاب} = 100 \times 1 = 100 .$$

$$\text{ب- مجموع المربعات بين أنواع القيادة} = 100 \times 24,87 = 2487 .$$

$$\text{ج- مجموع البواقي} = 100 \times 18 = 1800 .$$

١٠- حساب درجات الحرية :

$$١- \text{درجة الحرية بين الطلاب} = \text{عدد الطلاب} - ١ = ٤ - ١ = ٣ .$$

$$٢- \text{درجة الحرية بين أنواع القيادة} = \text{أنواع القيادة} - ١ = ٣ - ١ = ٢$$

$$٣- \text{درجة حرية البواقي} = \text{عدد الطلاب} + \text{أنواع القيادة} - ١ = ٤ + ٣ - ١ =$$

$$٦ = ١ - ٧ = ١$$

١١- يتم قسمة مجموع المربعات في الخطوة رقم (٩) على درجة

الحرية في الخطوة (١٠) .

١٢- يوضح الجدول الآتي نتائج تحليل التباين السابق .



| متوسط مجموع المربعات | د . الحرية | مج المربعات | التباين بين :         |
|----------------------|------------|-------------|-----------------------|
| ٣٣,٣                 | ٣          | ١٠٠         | ١ - بين الطلاب        |
| ١٢٣٩,٠               | ٢          | ٢٤٧٨        | ٢ - بين أنواع القيادة |
| ٣٠٠,٠                | ٦          | ١٨٠٠        | ٣ - بين البواقي       |
|                      | ١١         | ٤٣٧٨        | ٤ - مج                |

١٣ - ولاختبار هل درجات الروح المعنوية تختلف حسب الطلاب يتم قسمة متوسط مجموع المربعات لدى الطلاب على متوسط مجموع مربعات البواقي .

$$\text{نسبة «ف» بين الطلاب} = \frac{\text{متوسط مجموع المربعات لدى الطلاب}}{\text{متوسط مجموع مربعات البواقي}}$$

$$= \frac{33,3}{300} = 0,111$$

١٤ - ولاختبار هل درجات الروح المعنوية تختلف حسب أنواع القيادة يتم قسمة متوسط مجموع المربعات الخاصة بالقيادة على متوسط مجموع مربعات البواقي .

$$\text{نسبة «ف» بين أنواع القيادة} = \frac{\text{متوسط مجموع المربعات الخاصة بأنواع القيادة}}{\text{متوسط مجموع مربعات البواقي}}$$

$$= \frac{1239}{300} = 4,13$$

١٥ - القيمتين اللتين بالخطوتين السابقتين أقل من الموجودتين في جدول دلالة نسبة «ف» (\*) وعلى هذا الأساس لا يوجد فرق دال بين الطلاب

(\*) القيمة الأولى ٠,١١١ عند درجة حرية ٣ تباين كبير، ٦ تباين صغير وتساوي بالجدول ٤,٧٦ =

أو بين نوع القيادة في الروح المعنوية وبذلك يرفض الفرض الأساسي ويقبل الفرض الصغرى .

### حقائق هامة

يجب أن يوضع في الاعتبار الحقائق التالية:

١ - القيم التي بالجدول الأصلي يمكن أن تكون متوسطات وينظر لكل متوسط منها على أنه درجة فردية لأن هذه المتوسطات قائمة على نفس عدد الأفراد .

٢ - مقام المعادلة = عدد الصفوف × عدد الأعمدة .

٣ - التباين =  $\frac{\text{مجموع المربعات لكل مصدر}}{\text{درجات الحرية لهذا المصدر}}$

٤ - ف =  $\frac{\text{تباين المصدر}}{\text{تباين الخطأ}}$

(٢)

### الشكل الثاني

تحليل التباين المزدوج  
مع وجود أكثر من قيمة في كل صف وعمود

مثال: طبق باحث نفسي ثلاثة اختبارات تقيس الذكاء اللفظي، والذكاء العملي، والذكاء العام على خمسة وأربعين تلميذاً مقسمين إلى ثلاث فئات حسب مستواهم الاجتماعي الاقتصادي. ويوضح الجدول الآتي درجاتهم في كل نوع من الذكاء .

= عند ٠,٠٥، ٩,٧٨ عند ٠,٠١. أما القيمة الثانية ٤,١٣ عند درجة حرية ٢ تباين كبير، ٦ تباين صغير وتساوي بالجدول ٥,١٤ عند مستوى ٠,٠٥، ١٠,٩٢ عند مستوى ٠,٠١.

| الذكاء<br>اللفظي | الذكاء<br>العملي | الذكاء<br>العام | الذكاء<br>الاجتماعي | الذكاء<br>الاقتصادي | الذكاء<br>المرتفع |
|------------------|------------------|-----------------|---------------------|---------------------|-------------------|
| ٣                | ٤                | ٨               | (١)                 | المستوى الاجتماعي   | الاقتصادي         |
| ١                | ٥                | ٩               |                     |                     |                   |
| ٤                | ٨                | ١٠              |                     |                     |                   |
| ٦                | ١٠               | ١٠              |                     |                     |                   |
| ٦                | ٨                | ١٣              |                     |                     |                   |
| ٢٠               | ٣٥               | ٥٠              | مجم                 |                     |                   |
| ٤                | ٥                | ١٢              | (٢)                 | المستوى الاجتماعي   | الاقتصادي         |
| ٦                | ٦                | ٨               |                     |                     | المتوسط           |
| ٦                | ١٠               | ١٠              |                     |                     |                   |
| ٩                | ٧                | ١٢              |                     |                     |                   |
| ١٠               | ١٢               | ١٣              |                     |                     |                   |
| ٣٥               | ٤٠               | ٥٥              | مجم                 |                     |                   |
| ٣                | ٥                | ٩               | (٣)                 | المستوى الاجتماعي   | الاقتصادي         |
| ٥                | ٥                | ٧               |                     |                     | المنخفض           |
| ٢                | ٨                | ٨               |                     |                     |                   |
| ٥                | ٧                | ١١              |                     |                     |                   |
| ١٠               | ١٠               | ١٠              |                     |                     |                   |
| ٢٥               | ٧٥               | ٤٥              | مجم                 |                     |                   |
| ٨٠               | ١١٠              | ١٥٠             | مجم كلي (أعمدة)     |                     |                   |

والمطلوب معرفة هل هناك فرق لدى الطلاب في نوع الذكاء، أو هل يوجد

فرق في الذكاء بالنسبة للمستويات الاجتماعية الاقتصادية، وما هو التفاعل أي هل هناك تفاعل بين تأثير نوع الذكاء والمستوى الاجتماعي الاقتصادي، وبعبارة أخرى هل تأثير المستوى الاجتماعي الاقتصادي يكون مختلفاً في كل نوع من أنواع الذكاء.

### الخطوات:

١ - حساب مجموع القيم للأعمدة أو للصفوف وهي تكون واحدة.

$$\text{للأعمدة} = 80 + 110 + 150 = 340$$

$$\text{للصفوف} = 105 + 130 + 105 = 340$$

$$\therefore \text{مجموع القيم} = 340$$

٢ - حساب مجموع مربعات القيم التي بالجدول بتربيع كل قيمة من قيم الذكاء اللفظي في المستوى الاجتماعي الاقتصادي المرتفع، ثم تربيع قيم الذكاء العملي ثم الذكاء العام في نفس المستوى ثم الانتقال إلى قيم كل نوع من الذكاء في المستوى الاجتماعي الاقتصادي المتوسط ثم في المستوى الاجتماعي الاقتصادي المنخفضة على النحو الآتي:

$$\begin{aligned} &= [{}^2(3) + {}^2(1) + {}^2(4) + {}^2(6) + {}^2(6)] \\ &+ [{}^2(4) + {}^2(5) + {}^2(8) + {}^2(10) + {}^2(8)] \\ &+ [{}^2(8) + {}^2(9) + {}^2(10) + {}^2(10) + {}^2(13)] \\ &+ [{}^2(4) + {}^2(6) + {}^2(6) + {}^2(9) + {}^2(10)] \\ &+ [{}^2(5) + {}^2(6) + {}^2(10) + {}^2(7) + {}^2(12)] \\ &+ [{}^2(12) + {}^2(8) + {}^2(10) + {}^2(12) + {}^2(13)] \end{aligned}$$

$$\begin{aligned}
 & + [{}^2(10) + {}^2(5) + {}^2(2) + {}^2(5) + {}^2(3)] \\
 & + [{}^2(10) + {}^2(7) + {}^2(8) + {}^2(5) + {}^2(5)] \\
 & [{}^2(10) + {}^2(11) + {}^2(8) + {}^2(7) + {}^2(9)] \\
 & [64 + 100 + 64 + 25 + 16] + [36 + 36 + 16 + 1 + 9] = \\
 & [100 + 81 + 36 + 36 + 16] + [169 + 100 + 100 + 81 + 64] + \\
 & [169 + 144 + 100 + 64 + 144] + [144 + 49 + 100 + 36 + 25] + \\
 & [100 + 49 + 64 + 25 + 25] + [100 + 25 + 4 + 25 + 9] + \\
 & + 354 + 269 + 514 + 269 + 98 = [100 + 121 + 64 + 49 + 81] + \\
 & . 2966 = 415 + 263 + 163 + 621
 \end{aligned}$$

٣- يتم حساب مربع مجموع الأعمدة (بين الذكاء) مقسوماً على عدد القيم في المستوى الاقتصادي الواحد وهو ١٥ (عدد الصفوف ٥ × عدد الأعمدة ٣ = ١٥).

$$\text{مجموع المربعات بين الذكاء} = \frac{\text{مربع مجموع القيم في كل عمود}}{\text{عدد القيم في المستوى الاقتصادي الواحد}}$$

$$\begin{aligned}
 & \frac{[{}^2(150) + {}^2(110) + {}^2(80)]}{15} \\
 & 2733, 33 = \frac{41000}{15} = \frac{[22500 + 12100 + 6400]}{15} =
 \end{aligned}$$

٤- يتم حساب مربع المجموع في الصفوف مقسوماً على عدد القيم في المستوى في المستوى الاقتصادي (كالسابق: عدد الصفوف × عدد الأعمدة).

$$\text{مجموع المربعات بين المستويات الاجتماعية الاقتصادية} =$$

مربع مجموع القيم في صفوف المستوى  
 عدد القيم في المستوى الاقتصادي الاجتماعي  
 (عدد الأعمدة ٣ × عدد الصفوف ٥)

$$\frac{[{}^2(100) + {}^2(130) + {}^2(100)]}{10} =$$

$$\frac{[11020 + 16900 + 11020]}{10} =$$

$$2096,66 = \frac{38940}{10} =$$

٥ - يتم حساب مربع مجموع أعمدة الذكاء في كل مستوى من المستويات الاجتماعية الاقتصادية وقسمة الناتج على عدد الصفوف وهي خمسة في المستوى الواحد.

$$= \frac{\text{مجموع مربع أعمدة الذكاء في كل مستوى}}{5}$$

$$= \frac{[{}^2(40) + {}^2(30) + {}^2(20) + {}^2(50) + {}^2(40) + {}^2(30) + {}^2(50) + {}^2(30) + {}^2(20)]}{5}$$

$$= \frac{2020 + 1220 + 620 + 3020 + 1600 + 1220 + 2500 + 1220 + 400}{5}$$

$$= \frac{13800}{5} = 2760$$

٦ - يتم حساب مجموع المربعات الكلية بطرح مربع مجموع درجات الجدول مقسوماً على مجموع عدد القيم بالجدول (جميع الصفوف وعددها ١٥ × عدد الأعمدة ٣ = ٤٥) من مجموع مربعات القيم.

مجموع المربعات الكلية = مجموع مربعات القيم (بالخطوة رقم ٢) -

$$\frac{\text{مربع مجموع قيم الجدول (بالخطوة رقم ١)}}{\text{عدد القيم بالجدول (٤٥ = ٣ × ١٥)}}$$

$$397,12 = 2568,88 - 2966 = \frac{2(340)}{45} - 2966 =$$

٧- يتم حساب مجموع المربعات بين أنواع الذكاء بطرح مربع مجموع درجات الجدول على مجموع عدد الدرجات (القيم) بالجدول من مجموع مربعات الأعمدة بين الذكاء .

مجموع المربعات بين الذكاء = مجموع مربعات الأعمدة بين الذكاء

$$\frac{\text{مربع مجموع قيم الجدول (الخطوة ١)}}{\text{عدد القيم بالجدول}} \text{ (الخطوة رقم ٣) -}$$

$$= \frac{2(340)}{45} - 2733,33 =$$

$$164,44 = 2568,88 - 2733,33 =$$

٨- يتم حساب مجموع المربعات بين المستويات الاقتصادية بطرح مربع مجموع القيم بالجدول (الخطوة رقم ١) مقسوماً على عدد القيم بالجدول من مجموع المربعات في الخطوة رقم (٤) .

مجموع المربعات بين المستويات الاجتماعية الاقتصادية = 2596,66 -

$$27,78 = 2568,88$$

٩- يتم حساب مجموع مربعات البواقي بطرح مربع مجموع أعمدة

الذكاء (الخطوة رقم ٥) من مجموع مربعات القيم (الخطوة رقم ٢)

مجموع مربعات البواقي = مجموع مربعات القيم مربع مجموع أعمدة

$$\text{الذكاء} = 2966 - 2770 = 196 .$$

١٠- يتم حساب التفاعل بطرح مجموع مربعات الذكاء (الخطوة رقم

(٧) مضافاً لها مجموع المربعات بين المستويات الاقتصادية (الخطوة رقم

(٨) ومضافاً لها كذلك مجموع مربعات البواقي (الخطوة رقم ٩) من مجموع

المربعات الكلية (الخطوة رقم ٦) .

التفاعل = مجموع المربعات الكلية - مجموع مربعات الذكاء +

مجموع المربعات بين المستويات الاجتماعية الاقتصادية + مجموع  
مربعات البواقي = ٣٩٧, ١٢ - (١٦٤, ٤٤ + ٢٧, ٧٨ + ١٩٦)

ويشير التفاعل Interaction إلى الأثر المشترك الذي يعزى لمصادر  
التباين وهما في حالة تفاعل

$$.٨, ٩٠ = ٣٨٨, ٢٢ - ٣٩٧, ١٢ =$$

١١ - يتم حساب درجات الحرية .

أ - درجات الحرية بين الذكاء = ٣ - ٢ = .

ب - درجات الحرية بين المستويات الاقتصادية = ٣ - ١ = .

ج - درجات الحرية الخاصة بالتفاعل = ١ - ٥ = .

د - درجات الحرية الخاصة بالبواقي = ٤٥ - ٩ = ٣٦ .

حيث درجات حرية التفاعل تمثل العدد في كل نوع من الذكاء في  
المستوى ، وحرية البواقي تمثل العدد الكلي للطلاب وهو ٤٥ مطروحاً منه  
أنواع الذكاء في المستويات الثلاثة وهو ٩ .

١٢ - يوضح الجدول التالي نتائج تحليل التباين بين الذكاء  
والمستويات الاجتماعية الاقتصادية والتفاعل بينها وذلك بقسمة مجموع  
المربعات على درجة الحرية المقابلة له في الجدول . .



| متوسط<br>المربعات | د. الحرية | مج. المربعات | التباين بين :            |
|-------------------|-----------|--------------|--------------------------|
| ٨٢,٢٢             | ٢         | ١٦٤,٤٤       | ١ - الذكاء               |
| ١٣,٨٩             | ٢         | ٢٧,٧٨        | ٢ - المستويات الاقتصادية |
| ٢,٢٢              | ٤         | ٨,٩٠         | ٣ - التفاعل              |
| ٥,٤٤              | ٣٦        | ١٩٦          | ٤ - البواقي              |
|                   | ٤٤        | ٣٩٧,١٢       | ٥ - مج                   |

### اختبار دلالة الفرق

١ - دلالة الفرق بين الطلاب في الذكاء =

$$\text{نسبة «ف»} = \frac{\text{متوسط مجموع مربعات الذكاء}}{\text{متوسط مجموع مربعات البواقي}}$$

$$١٥,١١ = \frac{٨٢,٢٢}{٥,٤٤} =$$

وقيمة «ف» بالجدول عند درجة حرية ٢ ، ٣٦ عند تباين صغير ٣٦ ، وتباين كبير ٢ تساوي ٣,٢٦ عند ٠,٠٥ ، ٥,٢٥ عند ٠,٠١ أي يوجد فرق بين أنواع الذكاء .

٢ - دلالة الفرق في الذكاء بين المستويات الاجتماعية الاقتصادية نسبة

$$\text{«ف»} = \frac{\text{متوسط مجموع مربعات المستوى الاجتماعي الاقتصادي}}{\text{متوسط مجموع مربعات البواقي}}$$

$$٢,٥٥ = \frac{١٣,٨٩}{٥,٤٤} = \text{نسبة «ف»}$$

وقيمة «ف» بالجدول عند درجة حرية ٢ ، ٣٦ (إرجع إلى ١ دلالة الفرق في الذكاء).

ونسبة «ف» الناتجة وهي ٢,٥٥ أقل من تلك الموجودة في الجدول أي أن الفرق غير دال إحصائياً.

$$٣ - \text{دلالة التفاعل} = \frac{\text{متوسط مجموع مربعات التفاعل}}{\text{متوسط مجموع مربعات البواقي}}$$

$$٠,٤٠٨ = \frac{٢,٢٢}{٥,٤٤} =$$

والموجودة في الجدول عند ٤ (تباين كبير)، ٣٦ (تباين صغير) تساوي ٢,٦٣ عند ٣,٨٩٠,٠٥ عند ٠,٠١

والقيمة الناتجة أقل من التي بالجدول إذ لا يوجد تفاعل بين تأثير المستوى الاجتماعي والاقتصادي وبين الذكاء.

### دلالة الفرق بين المتوسطات الحسابية في تحليل التباين

يمكن اختبار دلالة الفرق بين المتوسطات الحسابية في الذكاء كما يلي:

$$١ - \text{متوسط الذكاء اللفظي} = \frac{٨٠}{١٥} = ٥,٣٣$$

$$٢ - \text{متوسط الذكاء العملي} = \frac{١١}{١٥} = ٧,٣٣$$

$$٣ - \text{متوسط الذكاء العام} = \frac{١٥}{١٥} = ١٠,٠٠$$

$$٤ - \text{المتوسط العام} = \frac{٣٤}{٤٥} = ٧,٥٥$$

$$٥ - \text{الخطأ المعياري للمتوسط الحسابي} =$$

$$\sqrt{\frac{\text{متوسط مجموع مربعات البواقي}}{\text{العدد بالنسبة لأحد أنواع الذكاء (عدد الصفوف جميعاً)}}$$

$$\sqrt{\frac{0,44}{10}} =$$

$$0,602 = \sqrt{0,362}$$

٦ - لحساب دلالة الفرق بين أي متوسطين حسابيين من المتوسطات السابقة في ١ أو ٢ أو ٣:

مثال: بين الذكاء اللفظي

$$\frac{2m - 1m}{\sqrt{\frac{\text{متوسط مجموع مربع البواقي}}{10} \times 2}} \div \text{الخطأ المعياري للمتوسط الحسابي}$$

أ - الفرق بين الذكاء اللفظي والذكاء العملي

$$= \frac{2}{0,185} \sqrt{2} = \frac{2}{0,72} \sqrt{2} = \frac{0,33 - 7,33}{2 \times \frac{0,44}{10}} \sqrt{2} = 2,35 =$$

ب - قيمة «ت» =  $\frac{\text{قيمة الفرق}}{\text{الخطأ المعياري للمتوسط الحسابي}}$

$$23,32 = \frac{2,35}{0,60} =$$

قيمة «ت» بالجدول عند درجة حرية ٣٦ تساوي ٢,٠٢٠ عند مستوى ٠,٠٥، ٢,٧٠٤ عند مستوى ٠,٠١، ٣,٥٥١ عند مستوى ٠,٠٠١. وبذلك يكون الفرق بين الذكاء اللفظي والذكاء العملي دال عند مستوى ٠,٠١.

## ثالثاً : تحليل التباين

(١) ذو الثلاثة اتجاهات مع وجود قيمة واحدة بكل مربع  
(البارامتري)

### Three-Way Analysis of Variance

رأينا في تحليل التباين ذو الاتجاهين أن الذكاء ينقسم إلى ثلاثة أنواع وأن المستوى الاجتماعي الاقتصادي ينقسم بدوره لثلاثة مستويات .

ولا يقتصر الأمر بالنسبة للمتغيرات المدروسة على ذلك بل يمكن أن يهدف الكشف عن دلالة الفرق على وجود أقسام أخرى في جدول النتائج كأن تشمل العينة بالنسبة للمثال السابق (\*) في كل نوع من الذكاء على ذكور وإناث أو على ريف وحضر .

مثال :

طبق باحث ست وسائل من الوسائل التعليمية هي : المحاضرة ، المناقشة ، الأفلام ، الخرائط ، السبورة ، البروجكتور ، وذلك على أربع مجموعات من الطلاب بكلية الآداب والزراعة والتجارة والهندسة ، وكل مجموعة من الأربع كانت تتعلم مادة من المواد تحت ظرفين من الظروف أحدهما فيه ثواب والآخر فيه عقاب . وكانت نتائجهم في تلك المادة التي يتعلمونها كما نص الجدول الآتي :

---

(\*) أنظر الشكل الثاني من تحليل التباين المزدوج .

| طلاب الهندسة | طلاب التجارة |       | طلاب الزراعة |       | طلاب الآداب |       | الكليات   |
|--------------|--------------|-------|--------------|-------|-------------|-------|---|
|              | عقاب         | ثواب  | عقاب         | ثواب  | عقاب        | ثواب  |   |
| ٤            | ٦            | ٥     | ٤            | ٥     | ٤           | ٦     | الظروف<br>وسائل التعليم<br>١ - المحاضرة<br>٢ - المناقشة<br>٣ - الأفلام<br>٤ - الخرائط<br>٥ - السيرة<br>٦ - البروجكتور |
| ٤            | ٤            | ٢     | ١            | ٥     | ٣           | ٤     |   |
| ٣            | ٣            | ٤     | ٦            | ٢     | ٣           | ٣     |   |
| ٣            | ٤            | ٤     | ٦            | ٢     | ٢           | ٧     |   |
| ٢            | ٥            | ٣     | ٧            | ٤     | ٢           | ١     |   |
| ٢            | ٥            | ٣     | ١            | ٣     | ٤           | ٤     |   |
| ١٨           | ٢٧           | ٢١    | ٢٥           | ٢١    | ٢٩          | ٢٥    | مجموع القيم   |
| ٥٨           | ٣٢٧          | ٧٩    | ١٣٩          | ٨٣    | ١٥١         | ١٣٦   | مجموع مربع القيم بالجدول  |
| ٩,٦٧         | ٢١,١٧        | ١٣,١٧ | ٢٣,١٧        | ١٣,٨٣ | ٢٥,١٧       | ٢٢,٦٧ | مجموع مربع القيم ÷ ٦  |

## الخطوات :

١ - جمع الأعمدة .

٢ - تربيع الأعمدة .

٣ - قسمة مربع كل عمود على ستة (على عدد الصفوف) .

٤ - حساب مجموع مجاميع الأعمدة .  $25 + 21 + 29 + 18 + 25 =$

$$184 = 18 + 27 + 21 +$$

٥ - حساب مج مجموع مربع الأعمدة =

$$.831 = 58 + 127 + 79 + 139 + 83 + 151 + 58 + 136 =$$

٦ - حساب مجموع مربع مجموع الأعمدة مقسوماً على ستة =

$$+ 21, 17 + 13, 17 + 13, 83 + 25, 17 + 9, 67 + 22, 67 =$$

$$.138, 52 = 9, 67$$

٧ - حساب مجموع المربعات الكلية .

$$= \frac{\text{مربع مجموع الأعمدة}}{\text{عدد الصفوف} \times \text{عدد الأعمدة}} - \text{مربع مجموع الأعمدة}$$

$$\frac{33856}{48} - 831 = \frac{(184)^2}{8 \times 6} - 831 =$$

$$125, 67 = 705, 33 - 831 =$$

يتم تكوين جدول يشمل مجموع الثواب ومجموع العقاب في الكليات المختلفة بالنسبة لكل وسيلة من الوسائل التعليمية الستة على النحو الآتي:  
(فمثلاً الرقم ٢٢ يساوي مجموع الثواب في الآداب ٦ + الزراعة ٦ + التجارة ٤ + الهندسة ٦ = ٢٢) وهكذا الباقي .

| المجموع | الظروف         |             |             |             |              |              | الوسائل       |
|---------|----------------|-------------|-------------|-------------|--------------|--------------|---------------|
|         | (٦) البروجكتور | (٥) السبورة | (٤) الخرائط | (٣) الأفلام | (٢) المناقشة | (١) المحاضرة |               |
| ١٠٦     | ١٤             | ١٧          | ٢٠          | ١٩          | ١٤           | ٢٢           | ١ - ثواب (*)  |
| ٧٨      | ١٢             | ١١          | ١١          | ١٢          | ١٤           | ١٨           | ٢ - عقاب (**) |
| ١٨٤     | ٢٦             | ٢٨          | ٣١          | ٣١          | ٢٨           | ٤٠           | المجموع       |

أ - يتم حساب المربعات بين الظروف .

$$= \frac{\text{مربع مجموع الثواب} + \text{مربع مجموع العقاب}}{\text{عدد الوسائل (٦)} \times \text{عدد الكليات (٤)}}$$

مربع المجموع الكلي

$$\frac{\text{مربع الوسائل (٦)} \times \text{عدد الكليات (٤)} \times \text{عدد الظروف (٢)}}{\text{مربع المجموع الكلي}}$$

$$\frac{33856}{48} - \frac{6084 + 11236}{24} = \frac{2(184)}{2 \times 4 \times 6} - \frac{2(78) + 2(106)}{4 \times 6} =$$

$$16, 33 = 705, 33 - 721, 66 = 705, 33 - \frac{17320}{24} =$$

ب - يتم حساب المربعات بين الوسائل .

$$= \frac{\text{مربع المجموع الكلي}}{\text{عدد الوسائل} + \text{عدد الظروف}} - \frac{48}{(\text{عدد الوسائل} \times \text{عدد الكليات} \times \text{عدد الظروف})}$$

(\*) حيث أن قيم الثواب بهذا الجدول أصلها في الجدول السابق فالقيمة ٢٢ هي مجموع قيم

الثواب الموجودة في الصف الخاص بوسيلة المحاضرة لدى طلاب الكليات المختلفة

كالآتي : ٢٢ = ٦ + ٤ + ٦ + ٦ .

(\*\*) وبنفس الصورة من قيم الثواب يتم حساب قيم العقاب فالقيمة ١٨ حاصل جمع : ٤ + ٥ +

$$. ١٨ = ٤ + ٥$$

$$\frac{\sum (184)}{48} - \frac{\sum (26) + \sum (28) + \sum (31) + \sum (31) + \sum (28) + \sum (40)}{2+6} =$$

$$\frac{33856}{48} - \frac{676 + 784 + 961 + 961 + 784 + 1600}{8} =$$

$$.15, 42 = 705, 33 - 720, 75 = 705, 33 - \frac{5766}{8} =$$

ج- يتم حساب مجموع المربعات الكلية .

$$\frac{\text{مربع قيم كل من الطرفين}}{\text{عدد الكليات}} - \frac{\text{مربع المجموع الكلي}}{48} =$$

$$\frac{\sum (14) + \sum (18) + \sum (14) + \sum (17) + \sum (20) + \sum (19) + \sum (14) + \sum (22)}{4} =$$

$$= \frac{\sum (184)}{48} - \frac{\sum (12) + \sum (11) + \sum (11) + \sum (12)}{4}$$

$$\frac{144 + 121 + 121 + 144 + 196 + 324 + 196 + 289 + 400 + 361 + 196 + 484}{4}$$

$$38, 67 = 705, 33 - 744 = 705, 33 - \frac{2976}{4} = \frac{33856}{48} -$$

د- مجموع مربعات تفاعل الوسائل × الظروف = 15, 42 - 38, 67

$$6, 92 = 31, 75 - 38, 67 = (16, 33 +$$

9 - يتم عمل الجدول الآتي الممثل لمجموع الشواب على حدة

ومجموع العقاب على حدة في كل كلية (أنظر المجموع في الجدول الأول)

كالآتي :



| المجموع | الظروف         |                |                |               |            |
|---------|----------------|----------------|----------------|---------------|------------|
|         | (٤)<br>الهندسة | (٣)<br>التجارة | (٢)<br>الزراعة | (١)<br>الآداب | الكليات    |
| ١٠٦     | ٢٧             | ٢٥             | ٢٩             | ٢٥            | ١ - الثواب |
| ٧٨      | ١٨             | ٢١             | ٢١             | ١٨            | ٢ - العقاب |
| ١٨٤     | ٤٥             | ٤٦             | ٥٠             | ٤٣            | المجموع    |

أ - يتم حساب مجموع المربعات بين طلاب الكليات .

$$\frac{\text{مجموع مربع المجاميع في الكليات}}{\text{عدد الوسائل} \times \text{عدد الظروف}} = \frac{\text{مربع المجموع}}{٤٨}$$

$$= \frac{٢(١٨٤)}{٤٨} - \frac{٢(٤٥) + ٢(٤٦) + ٢(٥٠) + ٢(٤٣)}{١٢}$$

$$= \frac{٣٣٨٥٦}{٤٨} - \frac{٢٠٢٥ + ٢١١٦ + ٢٥٠٠ + ١٨٤٩}{١٢}$$

$$= ٧٠٥,٣٣ - \frac{٨٤٩٠}{١٢} = ٧٠٧,٥٠ = ٧٠٥,٣٣ - ١٧,١٧$$

ب - مجموع المربعات بين الظروف .

$$\frac{\text{مربع مجموع الثواب} + \text{مربع مجموع العقاب}}{\text{عدد الوسائل} \times \text{عدد الكليات}} = \frac{\text{مربع المجموع الكلي}}{٤٨}$$

$$= \frac{٢(١٨٤)}{٤٨} - \frac{٢(٧٨) + ٢(١٠٦)}{٢٤}$$

$$= ٧٠٥,٣٣ - \frac{١٧٣٢٠}{٤٨} = \frac{٣٣٨٥٦}{٤٨} - \frac{٦٠٨٤ + ١١٢٣٦}{٢٤}$$

$$= ١٦,٣٣ = ٧٠٥,٣٣ - ٧٢١,٦٦$$

ج - مجموع المربعات الكلية .

$$= \frac{\text{مربع مجموع قيم كل من الطرفين}}{\text{عدد الكليات + عدد الظروف}} - \frac{\text{مربع المجموع الكلي}}{48}$$

$$= \frac{-^2(18) + ^2(21) + ^2(21) + ^2(18) + ^2(27) + ^2(25) + ^2(29) + ^2(25)}{2 + 4}$$

$$= \frac{-324 + 441 + 441 + 324 + 729 + 625 + 841 + 625}{6} = \frac{3386}{6}$$

$$= 19,67 = 70,33 - 725 = 70,33 - \frac{4350}{6} = 70,33 -$$

د - مجموع مربعات تفاعل الكليات × الظروف =

= مجموع المربعات الكلية - (مجموع المربعات بين الكليات + مجموع المربعات بين الظروف)

$$1,27 = 18,50 - 19,67 = (16,33 + 2,17) - 19,67 =$$

١٠ - يتم عمل الجدول الآتي والذي يشمل جمع الدرجات في كل من الطرفين في كل كلية معاً كالتالي:

| المجموع | الهندسة | التجارة | الزراعة | الآداب | الوسائل | الكليات        |
|---------|---------|---------|---------|--------|---------|----------------|
| ٤٠      | ١٠      | ٩       | ١١      | ١٠     | ١٠      | ١ - المحاضرة   |
| ٢٨      | ٨       | ٣       | ١٠      | ٧      | ٧       | ٢ - المناقشة   |
| ٣١      | ٦       | ١٠      | ٩       | ٦      | ٦       | ٣ - الأفلام    |
| ٣١      | ٧       | ١٠      | ٥       | ٩      | ٩       | ٤ - الخرائط    |
| ٢٨      | ٧       | ١٠      | ٨       | ٣      | ٣       | ٥ - السبورة    |
| ٢٦      | ٧       | ٤       | ٧       | ٨      | ٨       | ٦ - البروجكتور |
| ١٨٤     | ٤٥      | ٤٦      | ٥٠      | ٤٣     | ٤٣      | المجموع        |

أ - مجموع المربعات بين الوسائل .

$$= \frac{\text{مربع مجموع الوسائل}}{\text{عدد الكليات} \times \text{عدد الظروف}} - \frac{\text{مربع المجموع}}{48}$$

$$= \frac{^2(184)}{48} - \frac{^2(26) + ^2(28) + ^2(31) + ^2(31) + ^2(28) + ^2(40)}{2 \times 4}$$

$$= 705,33 - \frac{676 + 784 + 961 + 961 + 784 + 1600}{8}$$

$$.15,42 = 705,33 - 720,75 =$$

ب - مجموع المربعات بين الكليات .

$$= \frac{\text{مربع مجموع الكليات}}{\text{عدد الوسائل} \times \text{عدد الظروف}} - \frac{\text{مربع المجموع}}{48}$$

$$705,33 - \frac{^2(45) + ^2(46) + ^2(50) + ^2(43)}{2 \times 6}$$

$$705,33 - \frac{2025 + 2116 + 2500 + 1849}{12}$$

$$2,17 = 705,33 - 707,5 =$$

ج - مجموع المربعات الكلية .

$$\frac{\text{مربع القيم}}{\text{عدد الظروف}} - \frac{\text{مربع المجموع}}{48}$$

$$= \frac{^2(9) + ^2(10) + ^2(11)}{2} + \frac{^2(8) + ^2(3) + ^2(9) + ^2(6) + ^2(7) + ^2(10)}{2}$$

$$+ \frac{^2(10)}{2} + \frac{^2(4) + ^2(10) + ^2(10) + ^2(10) + ^2(3) + ^2(9)}{2} + \frac{^2(7) + ^2(8) + ^2(5)}{2}$$

$$= 705,33 - \frac{^2(7) + ^2(7) + ^2(7) + ^2(6) + ^2(8) + ^2(4) + ^2(10) + ^2(10) + ^2(10) + ^2(10) + ^2(3) + ^2(9)}{2} - \frac{347 + 406 + 440 + 339}{2}$$

$$60,67 = 705,33 - 766 = 705,33 - \frac{1032}{2} = 705,33$$

د - مجموع مربعات تفاعل الوسائل  $\times$  الكليات =  $60,67 - 105,42 = 21,00$   
 $(2,17 +$   
 $43,92 = 17,59 - 60,67$

١١ - فيما يلي جدول النتائج النهائية .

|       | د . الحرية (*)          | مجم<br>المربعات |                                    |
|-------|-------------------------|-----------------|------------------------------------|
| ٢١,٠٠ | $5 = 1 - 6$             | ١٠٥,٤٢          | ١ - بين الوسائل                    |
| ٠,٧٢  | $3 = 1 - 4$             | ٢,١٧            | ٢ - بين الكليات                    |
| ١٦,٣٣ | $1 = 1 - 2$             | ١٦,٣٣           | ٣ - بين الظروف                     |
| ٣,١٢  | ١٥                      | ٤٣,٩٢           | ٤ - تفاعل الوسائل $\times$ الكليات |
|       | $3 = 3 - 6 = 3 - 2 + 4$ | ١,٢٧            | ٥ - تفاعل الكليات $\times$ الظروف  |
| ١,٣٨  | $5 = 3 - 8$             | ٦,٩٢            | ٦ - تفاعل                          |
| ٠,٥٥  | ١٥                      | ٨,٣٩            | ٧ - البواقي                        |
|       | ٣٦                      | ١٨٤             | ٨ - المجموع                        |

(حساب البواقي يتم بجمع من ١ - ٦ في الجدول وطرح الناتج من ١٨٤)

(\*) عدد درجة حرية الوسائل (عدد الوسائل - ١) ، درجة حرية الكليات (عدد الكليات - ١) ،  
 درجة حرية الظروف (عدد الظروف - ١) ، درجة حرية الوسائل  $\times$  الكليات (عدد صفوف  
 الوسائل + عدد أعمدة الكليات + عدد أعمدة الظروف - ٣ = ٣ + ٦ + ٤ - ٨ = ٥) (واحد للوسائل  
 وواحد للكليات وواحد للظروف) ،  $(15 = 3 - 18 = 3)$  ، درجة حرية الكليات  $\times$  الظروف (عدد  
 الكليات + عدد الظروف - ٣) ، درجة حرية الوسائل  $\times$  الظروف (عدد الوسائل + عدد  
 الظروف - ٣) .

النتيجة في الخطوة رقم ٤ بعد الجدول الأول).

$$١- «ف» بين الوسائل = \frac{٢١}{٠,٥٥} = ٣٨,١٨$$

$$٢- «ف» بين الكليات = \frac{٠,٧٢}{٠,٥٥} = ١,٣٠$$

$$٣- «ف» بين الظروف = \frac{١٦,٣٣}{٠,٥٥} = ٢٩,٦٦$$

$$٤- «ف» تفاعل الوسائل × الكليات = \frac{٣,١٢}{٠,٥٥} = ٥,٦٧$$

$$٥- «ف» تفاعل الكليات × الظروف = \frac{٠,٢٥}{٠,٥٥} = ٠,٤٥$$

$$٦- «ف» تفاعل الوسائل × الظروف = \frac{١,٣٨}{٠,٥٥} = ٢,٥٠$$

الدلالة بالنسبة للوسائل : قيمة «ف» بالجدول عند درجتي حرية الوسائل (١٥،٥) تساوي ٢،٩ عند ٠،٥٥، ٤،٥٦ عند ٠،٠١ وبما أن قيمة «ف» الوسائل هي ٣٨،١٨ أكبر إذا الفرق دال عند ٠،٠١

الدلالة بالنسبة للكليات : قيمة «ف» بالجدول عند درجتي حرية الكليات (١٥،٣) تساوي ٣،٢٩ عند ٠،٥٥، ٥،٤٢ عند مستوى ٠،٠١ . وبما أن قيمة «ف» للكليات هي ١،٣ فإن الفرق غير دال .

الدلالة بالنسبة للظروف : قيمة «ف» بالجدول عند درجتي حرية الظروف (١٥،١) أقل من الناتجة وهي ٢٩،٦٦ إذاً الفرق دال عند ٠،٠١ .

الدلالة بالنسبة لتفاعل الوسائل × الكليات : الفرق دال عند ٠،٠١ لأن القيمة الناتجة وهي ٥،٦٧ أعلى من الموجودة بالجدول .

الدلالة بالنسبة لتفاعل الكليات × الظروف : الفرق غير دال لأن القيمة الناتجة وهي ٠،٤٥ أقل من الموجودة في الجدول .

الدلالة بالنسبة لتفاعل الوسائل × الظروف :

الفرق غير دال لأن القيمة الناتجة أقل من الموجودة بالجدول .

(٢)

## تحليل التباين

ذو الثلاثة اتجاهات مع وجود أكثر من قيمة في كل صف  
وعمود (البارامتري)

مثال :

أجرى باحث دراسة على مجموعتين من الأطفال الرضع أحدهما بالريف والأخرى بالحضر، وقد أرضعت كل مجموعة بأحد طرق الرضاعة الثلاث الآتية: عن طريق الثدي، عن طريق الزجاجة، عن طريق الثدي والزجاجة معاً، كما أن كل مجموعة من مجموعات الرضاعة انقسمت إلى ثلاث مجموعات عمرية هي: ٣ ثلاثة شهور، ٦ ستة شهور، ١٢ إثني عشر شهراً. فهل يختلف التأزر البصري الحركي لدى هؤلاء الأطفال الرضع حسب طريقة الرضاعة، وحسب عمر الطفل، وحسب بعد الريف الحضر. كما تتضح نتائج تلك الدراسة في الجدول الآتي:

| الرضاعة بالالتين |         |        | الرضاعة بالرجاجة |        |        | الرضاعة بالثدي |        |        | طريق الرضاعة<br>المصر<br>الريف - الحضر |
|------------------|---------|--------|------------------|--------|--------|----------------|--------|--------|--|
| شهور ٣           | شهور ١٢ | شهور ٦ | شهور ١٢          | شهور ٦ | شهور ٣ | شهور ١٢        | شهور ٦ | شهور ٣ |  |
| ٣                | ٤       | ٣      | ٢                | ٢      | ٢      | ٤              | ٢      | ٤      | ١- ريف                                 |
| ٣                | ٤       | ٣      | ٤                | ٣      | ٢      | ٥              | ٣      | ٥      |  |
| ٤                | ٥       | ٢      | ٣                | ٤      | ٣      | ٢              | ٣      | ٣      |  |
| ٥                | ٢       | ٢      | ٣                | ١      | ١      | ٢              | ٢      | ٢      |  |
| ٢                | ٣       | ٣      | ٢                | ٣      | ٤      | ٤              | ٥      | ٣      |  |
| ٢                | ٣       | ٣      | ٢                | ٢      | ٤      | ٥              | ٥      | ٥      | ٢- حضر                                 |
| ١                | ٣       | ٢      | ٢                | ٥      | ٣      | ٢              | ٢      | ٣      |  |
| ٣                | ٢       | ٢      | ١                | ٣      | ٣      | ٣              | ٤      | ٤      |  |

١ - يتم تكوين جدول من السابق يتضمن مجموع قيم الريف في كل عمر معاً، ويتضمن كذلك مجموع قيم الحضر في كل عمر معاً أيضاً كما يلي:

| الرضاعة من الاثني |        |        | الرضاعة بالزجاجة |        |        | الرضاعة بالثدي |        |        | الريف - حضر |
|-------------------|--------|--------|------------------|--------|--------|----------------|--------|--------|-------------|
| ١٢ شهر            | ٦ شهور | ٣ شهور | ١٢ شهر           | ٦ شهور | ٣ شهور | ١٢ شهر         | ٦ شهور | ٣ شهور |             |
| ١٥                | ١٥     | ١٠     | ١٢               | ١٠     | ٨      | ١٤             | ١٠     | ١٤     | ١ - ريف     |
| ٨                 | ١٣     | ١٠     | ٩                | ١٥     | ١٤     | ١٥             | ١٦     | ١٥     | ٢ - حضر     |

٢ - يتم حساب مجموع المربعات الكلية.

مجموع المربعات الكلية = مربع العدد في كل صف (٨ صفوف  $\times$  ٩

أعمدة) في الجدول الأول - مربع المجموع الكلي للقيم في الجدول الثاني  
 ٨ صفوف  $\times$  ٩ أعمدة:

$$\begin{aligned}
 & [{}^2(3) + {}^2(4) + {}^2(3) + {}^2(2) + {}^2(2) + {}^2(2) + {}^2(4) + {}^2(2) + {}^2(4)] = \\
 & [{}^2(3) + {}^2(4) + {}^2(3) + {}^2(4) + {}^2(3) + {}^2(2) + {}^2(5) + {}^2(3) + {}^2(5)] + \\
 & \quad [{}^2(4) + {}^2(5) + {}^2(2) + {}^2(3) + {}^2(3) + {}^2(3) + {}^2(3) + {}^2(3)] + \\
 & [{}^2(5) + {}^2(2) + {}^2(2) + {}^2(3) + {}^2(1) + {}^2(1) + {}^2(2) + {}^2(2) + {}^2(2)] + \\
 & [{}^2(2) + {}^2(4) + {}^2(3) + {}^2(2) + {}^2(3) + {}^2(4) + {}^2(4) + {}^2(5) + {}^2(3)] + \\
 & [{}^2(2) + {}^2(4) + {}^2(3) + {}^2(3) + {}^2(3) + {}^2(4) + {}^2(5) + {}^2(5) + {}^2(5)] + \\
 & [{}^2(1) + {}^2(3) + {}^2(2) + {}^2(3) + {}^2(5) + {}^2(3) + {}^2(3) + {}^2(2) + {}^2(3)] + \\
 & [{}^2(3) + {}^2(2) + {}^2(2) + {}^2(1) + {}^2(4) + {}^2(3) + {}^2(3) + {}^2(4) + {}^2(4)] + \\
 & 795 = 84 + 79 + 138 + 108 + 56 + 106 + 122 + 102 =
 \end{aligned}$$



$$\frac{14 + 15 + 16 + 15 + 15 + 15 + 10 + 12 + 10 + 8 + 14 + 10 + 14}{72} - 790 =$$

$$\frac{223}{72} - 790 = \frac{8 + 13 + 10 + 9 + 15 +$$

$$104,32 = 69,68 - 790 =$$

= ٣ - مجموع المربعات بين المجموعات

$$= \frac{\text{مربع العدد في كل صف بالجدول الثاني} - \text{أي عدد الصفوف في الريف أو في الحضر}}{\text{مربع المجموع الكلي للقيم في الجدول الثاني}} = \frac{9 \times 8}{9 \times 8}$$

$$\frac{1(15) + 1(15) + 1(10) + 1(12) + 1(10) + 1(8) + 1(14) + 1(1) + 1(14)}{4}$$

$$- \frac{1(8) + 1(13) + 1(10) + 1(9) + 1(15) + 1(14) + 1(15) + 1(16) + 1(15)}{4}$$

$$.32,07 = 69,68 - 722,75 = 69,68 - \frac{2891}{4} = \frac{223}{72}$$

$$= 32,07 - 104,32 = \text{مجموع المربعات داخل المجموعات} = 72,25$$

٤ - ويوضح الجدول الآتي النتائج السابقة .

| متوسط مجموع المربعات | د. الحرية   | مجموع المربعات | التباين بين :                |
|----------------------|-------------|----------------|------------------------------|
| ١,٨٨                 | ١٧ = ١ - ١٨ | ٣٢,٠٧          | ١ - بين المجموعات            |
| ١,٣٣                 | ٥٤          | ٧٢,٢٥          | ٢ - داخل المجموعات (البواقي) |
|                      | ٧١          | ١٠٤,٣٢         |                              |

٥- يتم جمع العدد في كل طريقة من طرق الرضاعة بجميع الأعمار في كل من الريف والحضر كما يتبين بالجدول الآتي:

| المجموع | الثدي<br>والزجاجة معاً | الزجاجة | الثدي | طريقة<br>الرضاعة<br>ريف - حضر |
|---------|------------------------|---------|-------|-------------------------------|
| ١٠٨     | ٤٠                     | ٣٠      | ٣٨    | ١- ريف                        |
| ١١٥     | ٣١                     | ٣٨      | ٤٦    | ٢- حضر                        |
| ٢٢٣     | ٧١                     | ٦٨      | ٨٤    |                               |

٦- مجموع المربعات الكلية =

$$\frac{^2(223)}{72} - \frac{^2(31) + ^2(38) + ^2(46) + ^2(40) + ^2(30) + ^2(38)}{12 \times (\text{عدد الصفوف في الريف أو الحضر وهي } 12) \times 4 \times (\text{عدد أعمدة فئات العمر وهي } 3 = 12)}$$

$$14,73 = 690,68 - 705,41 = 690,68 - \frac{8465}{72} =$$

٧- مجموع المربعات بين الريف والحضر =

$$-\frac{^2(115) + ^2(108)}{36} = 690,68$$

$$= 690,68 - \frac{24889}{36} =$$

$$0,681 = 690,68 - 691,36$$

٨- مجموع المربعات بين أساليب الرضاعة =

$$= 690,68 - \frac{^2(71) + ^2(68) + ^2(84)}{24} =$$

$$= 690,68 - \frac{16721}{24} =$$

$$6,02 = 690,68 - 696,70 =$$

٩- مجموع مربعات تفاعل أساليب الرضاعة × الريف حضر = مجموع

المربعات الكلية - (مجموع المربعات بين الريف والحضر + مجموع المربعات بين أساليب الرضاعة) =

$$18,029 = 6,701 - 14,730 = (6,020 + 0,681) - 14,730 =$$

١٠ - يتم جمع العدد في كل فئة عمرية بالريف والحضر كما في

الجدول التالي :

| المجموع | ١٢ شهر | ٦ شهور | ٣ شهور | العمر     |
|---------|--------|--------|--------|-----------|
|         |        |        |        | ريف - حضر |
| ١٠٨     | ٤١     | ٣٥     | ٣٢     | ريف       |
| ١١٥     | ٣٢     | ٤٤     | ٣٩     | حضر       |
| ٢٢٣     | ٧٣     | ٧٩     | ٧١     | المجموع   |

١١ - مجموع المربعات الكلية =

$$= 690,68 - \frac{^2(32) + ^2(44) + ^2(39) + ^2(41) + ^2(35) + ^2(32)}{12}$$

$$10,23 = 690,68 - 700,91 = 690,68 - \frac{1411}{12}$$

١٢ - مجموع المربعات بين الأعمار =  $\frac{^2(73) + ^2(79) + ^2(71)}{24}$

$$= 690,68 - \frac{1111}{24} = 690,68$$

$$1,44 = 690,68 - 692,12$$

١٣ - مجموع المربعات بين الريف والحضر = (نفس نتيجة الخطوة

$$\text{رقم } 7) = 0,681$$

١٤ - مجموع مربعات تفاعل الأعمار × الريف حضر = 10,23 -

$$8,109 = 2,121 - 10,230 = (0,681 + 1,440)$$

١٥ - يتم عمل الجدول الآتي أساليب الرضاعة والعمر من الجدول الثاني الذي تم تكوينه من الجدول الأول.

| المجموع | الثدي والرضاعة | الزجاجة | الثدي | أساليب الرضاعة<br>العمر |
|---------|----------------|---------|-------|-------------------------|
| ٧١      | ٢٠             | ٢٢      | ٢٩    | ٣ شهور                  |
| ٧٩      | ٢٨             | ٢٥      | ٢٦    | ٦ شهور                  |
| ٧٣      | ٢٣             | ٢١      | ٢٩    | ١٢ شهر                  |
| ٢٢٣     | ٧١             | ٦٨      | ٨٤    | المجموع                 |

١٦ - مجموع المربعات الكلية =

$$\frac{23^2 + 21^2 + 29^2 + 28^2 + 25^2 + 26^2 + 20^2 + 22^2 + 29^2}{8}$$

٨ (عدد الصفوف في الريف والحضر)

$$= 690,68 - \frac{5621}{8} = 690,68 -$$

$$= 11,94 = 690,68 - 702,62$$

١٧ - مجموع المربعات بين الأعمار = (نفس النتيجة في الخطوة رقم

$$12) = 1,44$$

١٨ - مجموع المربعات بين أساليب الرضاعة = (نفس النتيجة في

$$\text{الخطوة رقم } 8) = 6,02$$

١٩ - مجموع مربعات تفاعل الأعمار × أساليب الرضاعة = 11,94 -

$$.4,48 = 7,46 - 11,94 = (6,02 + 1,44)$$

٢٠ - يتم من النتائج السابقة عمل جدول تحليل التباين الآتي :

| التباين بين :                              | مجموع المربعات | د. الحرية            |       |
|--|----------------|----------------------|-------|
| بين أساليب الرضاعة                         | ٦,٠٢           | ٣=١-٣                | ٣,٠١٠ |
| بين الريف - الحضر                          | ٠,٦٨١          | ١=١-٢                | ٠,٦٨١ |
| بين الأعمار                                | ١,٤٤٠          | ٢=١-٣                | ٠,٧٢٠ |
| تفاعل أساليب الرضاعة × الريف حضر           | ٨,٠٢           | ٢=١-٣                | ٤,٠١٠ |
| تفاعل الريف حضر × الأعمار                  | ٨,١٠٩          | ٢=١-٣                | ٤,٠٥٤ |
| تفاعل الأعمار × أساليب الرضاعة             | ٤,٤٨٠          | ٤=٢-٦                | ١,١٢٠ |
| تفاعل أساليب الرضاعة × الريف حضر × الأعمار | ٣,٣٢           | ٤=٣-٧ <sup>(*)</sup> | ٠,٨٣٠ |
| البواقي                                    | ٧٢,٢٥          | ٥٤                   | ١,٣٣  |
| المجموع الكلي                              | ١٠٤,٣٢         |                      |       |

والبواقي التي في الجدول السابق هي نفسها البواقي التي في الجدول الموجود بالخطوة رقم ٤. وقد استخرج تفاعل أساليب الرضاعة × الريف حضر × الأعمار بجمع مجموع المربعات من ١ - ٦ + البواقي وطرح الناتج من المجموع الكلي.

وبالكشف عن دلالة نسبة «ف» نجد أنها داللة فقط بالنسبة لما يلي :

١ - تفاعل أساليب الرضاعة × الريف حضر.

٢ - تفاعل الريف حضر × الأعمار.

(\*) حيث إن أساليب الرضاعة ٣ + الريف حضر ١ + الأعمار ٣ = ٧.

جداول قيم نسبة «ف»

| مستوى الدلالة | د. ح. - البيان الكير |       |       |       |       |       |       |       |       |       |       | درجات حرية | نسبة ف |
|---------------|----------------------|-------|-------|-------|-------|-------|-------|-------|-------|-------|-------|------------|--------|
|               | ١٢                   | ١١    | ١٠    | ٩     | ٨     | ٧     | ٦     | ٥     | ٤     | ٣     | ٢     |            |        |
| ٠.٠٥          | ٢٤٤                  | ٢٤٢   | ٢٤٢   | ٢٤١   | ٢٣٩   | ٢٣٨   | ٢٣٤   | ٢٣٠   | ٢٢٥   | ٢١٦   | ٢٠٠   | ١٦١        | ١      |
| ٠.٠١          | ٦١٠٦                 | ٦٠٨٢  | ٦٠٥٦  | ٦٠٢٢  | ٥٩٨١  | ٥٩٢٨  | ٥٨٥٩  | ٥٧٦٤  | ٥٦٢٥  | ٥٤٠٢  | ٤٩٩٩  | ٤٠٥٢       |        |
| ٠.٠٥          | ١٩٤٤١                | ١٩٤٠٠ | ١٩٣٩١ | ١٩٣٨١ | ١٩٣٧١ | ١٩٣٦١ | ١٩٣٣١ | ١٩٣٠٠ | ١٩٢٢٥ | ١٩١١٦ | ١٩٠٠٠ | ١٨١١٥      | ٢      |
| ٠.٠١          | ٤٩٤١٢                | ٤٩٤١١ | ٤٩٤٠٠ | ٤٩٣٨٠ | ٤٩٣٦٠ | ٤٩٣٤٠ | ٤٩٣٣٠ | ٤٩٣٠٠ | ٤٩٢٣٥ | ٤٩١١٧ | ٤٩٠٠١ | ٤٨١٤٩      |        |
| ٠.٠٥          | ٨٢٧٤                 | ٨٢٧٦  | ٨٢٧٨  | ٨٢٨١  | ٨٢٨٤  | ٨٢٨٨  | ٨٢٩٤  | ٨٣٠١  | ٨٣١٢  | ٨٣٢٨  | ٨٣٥٥  | ٨٣١٢       | ٣      |
| ٠.٠١          | ٢٧٣٥٠                | ٢٧٣٥٢ | ٢٧٣٥٤ | ٢٧٣٥٦ | ٢٧٣٥٩ | ٢٧٣٦١ | ٢٧٣٦٤ | ٢٧٣٦٧ | ٢٧٣٦٩ | ٢٧٣٧١ | ٢٧٣٧٤ | ٢٧٣٧٦      |        |
| ٠.٠٥          | ٦٠٩١                 | ٦٠٩٢  | ٦٠٩٦  | ٦٠٠٠  | ٦٠٠٤  | ٦٠٠٩  | ٦٠١٦  | ٦٠٢٦  | ٦٠٣٩  | ٦٠٥٩  | ٦٠٩٤  | ٦٠٧١       | ٤      |
| ٠.٠١          | ١٤٠٢٧                | ١٤٠٢٨ | ١٤٠٣٤ | ١٤٠٣٦ | ١٤٠٣٨ | ١٤٠٣٩ | ١٤٠٤١ | ١٤٠٤٢ | ١٤٠٤٤ | ١٤٠٤٦ | ١٤٠٤٨ | ١٤٠٤٩      |        |
| ٠.٠٥          | ٤٢٦٨                 | ٤٢٧٠  | ٤٢٧٤  | ٤٢٧٨  | ٤٢٨٢  | ٤٢٨٨  | ٤٢٩٥  | ٤٣٠٥  | ٤٣١٩  | ٤٣٤١  | ٤٣٧٩  | ٤٣٦١       | ٥      |
| ٠.٠١          | ٩٢٨٩                 | ٩٢٩٦  | ٩٣٠٥  | ٩٣١٥  | ٩٣٢٧  | ٩٣٤٥  | ٩٣٦٧  | ٩٣٩٧  | ٩٤٣٩  | ٩٤٥٦  | ٩٤٧٧  | ٩٤٧٦       |        |
| ٠.٠٥          | ٤٣٠٠                 | ٤٣٠٢  | ٤٣٠٦  | ٤٣١٠  | ٤٣١٥  | ٤٣٢١  | ٤٣٢٨  | ٤٣٢٩  | ٤٣٥٢  | ٤٣٧٦  | ٤٣١٤  | ٤٣١٤       | ٦      |
| ٠.٠١          | ٢٣٧٢                 | ٢٣٧٩  | ٢٣٨٧  | ٢٣٩٠  | ٢٣٩١  | ٢٣٩٦  | ٢٣٩٧  | ٢٣٩٧  | ٢٣٩٧  | ٢٣٩٧  | ٢٣٩٧  | ٢٣٩٧       |        |
| ٠.٠٥          | ٢٣٥٧                 | ٢٣٦٠  | ٢٣٦٢  | ٢٣٦٨  | ٢٣٧٢  | ٢٣٧٩  | ٢٣٨٧  | ٢٣٩٧  | ٢٤١٤  | ٢٤٣٥  | ٢٤٧٤  | ٢٤٥٩       | ٧      |
| ٠.٠١          | ٦٣٤٧                 | ٦٣٥٤  | ٦٣٦٢  | ٦٣٧١  | ٦٣٨٤  | ٦٣٩٠  | ٦٣٩٩  | ٦٣٩٩  | ٦٣٩٩  | ٦٣٩٩  | ٦٣٩٩  | ٦٣٩٩       |        |
| ٠.٠٥          | ٢٣٢٨                 | ٢٣٢١  | ٢٣٢٤  | ٢٣٢٩  | ٢٣٤٤  | ٢٣٥٠  | ٢٣٥٨  | ٢٣٦٩  | ٢٣٨٤  | ٢٣٠٧  | ٢٣٤٦  | ٢٣٢٢       | ٨      |
| ٠.٠١          | ٥٣٦٧                 | ٥٣٧٤  | ٥٣٨٢  | ٥٣٩١  | ٥٣٩٢  | ٥٣٩٩  | ٥٣٩٩  | ٥٣٩٩  | ٥٣٩٩  | ٥٣٩٩  | ٥٣٩٩  | ٥٣٩٩       |        |
| ٠.٠٥          | ٢٣٠٧                 | ٢٣١٠  | ٢٣١٢  | ٢٣١٨  | ٢٣٢٢  | ٢٣٢٩  | ٢٣٣٧  | ٢٣٤٨  | ٢٣٦٢  | ٢٣٨٦  | ٢٣٢٦  | ٢٣١٢       | ٩      |
| ٠.٠١          | ٥٣١١                 | ٥٣١٨  | ٥٣٢٦  | ٥٣٣٥  | ٥٣٤٧  | ٥٣٦٢  | ٥٣٨٠  | ٥٣٩٦  | ٥٣٩٦  | ٥٣٩٩  | ٥٣٩٩  | ٥٣٩٩       |        |
| ٠.٠٥          | ٢٣٩١                 | ٢٣٩٤  | ٢٣٩٧  | ٢٣٠٢  | ٢٣٠٧  | ٢٣١٤  | ٢٣٢٢  | ٢٣٣٢  | ٢٣٤٨  | ٢٣٧١  | ٢٣١٠  | ٢٣١٦       | ١٠     |
| ٠.٠١          | ٤٣٧١                 | ٤٣٧٨  | ٤٣٨٥  | ٤٣٩٥  | ٤٣٩٦  | ٤٣٩٦  | ٤٣٩٦  | ٤٣٩٦  | ٤٣٩٦  | ٤٣٩٦  | ٤٣٩٦  | ٤٣٩٦       |        |
| ٠.٠٥          | ٢٣٧٩                 | ٢٣٨٢  | ٢٣٨٦  | ٢٣٩٠  | ٢٣٩٥  | ٢٣٠١  | ٢٣٠٩  | ٢٣٢٠  | ٢٣٣٦  | ٢٣٥٩  | ٢٣٩٨  | ٢٣٨٤       | ١١     |
| ٠.٠١          | ٤٣٤٠                 | ٤٣٤٦  | ٤٣٥٤  | ٤٣٦٢  | ٤٣٧٤  | ٤٣٨٨  | ٤٣٩٧  | ٤٣٩٧  | ٤٣٩٧  | ٤٣٩٧  | ٤٣٩٧  | ٤٣٩٧       |        |
| ٠.٠٥          | ٢٣٦٩                 | ٢٣٧٢  | ٢٣٧٦  | ٢٣٨٠  | ٢٣٨٥  | ٢٣٩٢  | ٢٣٠٠  | ٢٣١٦  | ٢٣٢١  | ٢٣٤٩  | ٢٣٨٨  | ٢٣٧٥       | ١٢     |
| ٠.٠١          | ٤٣١٦                 | ٤٣٢٢  | ٤٣٣٠  | ٤٣٣٩  | ٤٣٥٠  | ٤٣٦٥  | ٤٣٨٢  | ٤٣٩٦  | ٤٣٩٦  | ٤٣٩٦  | ٤٣٩٦  | ٤٣٩٦       |        |
| ٠.٠٥          | ٢٣٦٠                 | ٢٣٦٢  | ٢٣٦٧  | ٢٣٧٢  | ٢٣٧٧  | ٢٣٨٤  | ٢٣٩٢  | ٢٣٠٢  | ٢٣١٨  | ٢٣٤١  | ٢٣٨٠  | ٢٣٦٧       | ١٣     |
| ٠.٠١          | ٣٠٩٦                 | ٣٠٩٧  | ٣١٠٠  | ٣١٠٩  | ٣١٢٠  | ٣١٣٠  | ٣١٤١  | ٣١٤٦  | ٣١٤٦  | ٣١٤٦  | ٣١٤٦  | ٣١٤٦       |        |

جداول نسبة «ف»

| سؤري اللان | د . ح . التيان السكيد |       |       |       |       |       |       |       |       |       |       | درجات<br>سرية<br>نسبة ف |    |
|------------|-----------------------|-------|-------|-------|-------|-------|-------|-------|-------|-------|-------|-------------------------|----|
|            | ٥٥                    | ٥٠٠   | ٢٠٠   | ١٠٠   | ٧٥    | ٥٠    | ٤٠    | ٣٠    | ٢٤    | ٢٠    | ١٦    |                         | ١٤ |
| ٠٠٥        | ٢٥٤                   | ٢٥٤   | ٢٥٤   | ٢٥٣   | ٢٥٢   | ٢٥٢   | ٢٥٠   | ٢٥٠   | ٢٤٩   | ٢٤٨   | ٢٤٦   | ٢٤٥                     | ١  |
| ٠٠١        | ٦٣٦٦                  | ٦٣٦١  | ٦٣٥٢  | ٦٣٣٤  | ٦٣٢٢  | ٦٣٠٢  | ٦٢٨٦  | ٦٢٥٨  | ٦٢٣٤  | ٦٢٠٨  | ٦١٦٩  | ٦١٤٢                    |    |
| ٠٠٥        | ١٩٥٠                  | ١٩٥٠  | ١٩٤٩  | ١٩٤٩  | ١٩٤٨  | ١٩٤٧  | ١٩٤٧  | ١٩٤٦  | ١٩٤٥  | ١٩٤٤  | ١٩٤٣  | ١٩٤٢                    | ٢  |
| ٠٠١        | ٩٩٥٠                  | ٩٩٥٠  | ٩٩٤٩  | ٩٩٤٩  | ٩٩٤٩  | ٩٩٤٨  | ٩٩٤٨  | ٩٩٤٧  | ٩٩٤٦  | ٩٩٤٥  | ٩٩٤٤  | ٩٩٤٣                    |    |
| ٠٠٥        | ٨٥٥٢                  | ٨٥٥٤  | ٨٥٥٤  | ٨٥٥٦  | ٨٥٥٧  | ٨٥٥٨  | ٨٥٦٠  | ٨٥٦٢  | ٨٥٦٤  | ٨٥٦٦  | ٨٥٦٩  | ٨٥٧١                    | ٣  |
| ٠٠١        | ٢٦١٢٧                 | ٢٦١٤٤ | ٢٦١٦٨ | ٢٦١٧٣ | ٢٦١٧٧ | ٢٦١٨٠ | ٢٦١٨٤ | ٢٦١٨٧ | ٢٦١٩٠ | ٢٦١٩٣ | ٢٦١٩٦ | ٢٦١٩٩                   |    |
| ٠٠٥        | ٥٥٦٢                  | ٥٥٦٤  | ٥٥٦٥  | ٥٥٦٦  | ٥٥٦٨  | ٥٥٧٠  | ٥٥٧١  | ٥٥٧٤  | ٥٥٧٧  | ٥٥٨٠  | ٥٥٨٤  | ٥٥٨٧                    | ٤  |
| ٠٠١        | ١٣٤٦٦                 | ١٣٤٨٨ | ١٣٤٩٢ | ١٣٤٩٧ | ١٣٤٩٦ | ١٣٤٩٩ | ١٣٤٩٨ | ١٣٤٩٧ | ١٣٤٩٦ | ١٣٤٩٥ | ١٣٤٩٤ | ١٣٤٩٣                   |    |
| ٠٠٥        | ٤٥٣٦                  | ٤٥٣٧  | ٤٥٣٨  | ٤٥٤٠  | ٤٥٤٢  | ٤٥٤٤  | ٤٥٤٦  | ٤٥٥٠  | ٤٥٥٣  | ٤٥٥٦  | ٤٥٥٩  | ٤٥٦٤                    | ٥  |
| ٠٠١        | ٩٥٠٢                  | ٩٥٠٤  | ٩٥٠٧  | ٩٥١٢  | ٩٥١٧  | ٩٥٢٤  | ٩٥٢٩  | ٩٥٣٨  | ٩٥٤٧  | ٩٥٥٥  | ٩٥٦٨  | ٩٥٧٧                    |    |
| ٠٠٥        | ٢٥٦٧                  | ٢٥٦٨  | ٢٥٦٩  | ٢٥٧١  | ٢٥٧٢  | ٢٥٧٥  | ٢٥٧٧  | ٢٥٨١  | ٢٥٨٤  | ٢٥٨٧  | ٢٥٩٢  | ٢٥٩٦                    | ٦  |
| ٠٠١        | ٦٥٨٨                  | ٦٥٩٠  | ٦٥٩٤  | ٦٥٩٩  | ٦٥٩٢  | ٦٥٩٩  | ٦٦٠٤  | ٦٦٠٣  | ٦٦٠٣  | ٦٦٠٣  | ٦٦٠٣  | ٦٦٠٣                    |    |
| ٠٠٥        | ٢٥٢٢                  | ٢٥٢٤  | ٢٥٢٥  | ٢٥٢٨  | ٢٥٢٩  | ٢٥٣٢  | ٢٥٣٤  | ٢٥٣٨  | ٢٥٤١  | ٢٥٤٤  | ٢٥٤٩  | ٢٥٥٢                    | ٧  |
| ٠٠١        | ٥٥٦٥                  | ٥٥٦٦  | ٥٥٦٧  | ٥٥٧٥  | ٥٥٧٨  | ٥٥٨٥  | ٥٥٩٠  | ٥٥٩٨  | ٥٥٩٧  | ٥٥٩٥  | ٥٥٩٧  | ٥٥٩٥                    |    |
| ٠٠٥        | ٢٥٩٢                  | ٢٥٩٤  | ٢٥٩٦  | ٢٥٩٨  | ٢٥٩٩  | ٢٥٩٩  | ٢٥٩٩  | ٢٥٩٩  | ٢٥٩٩  | ٢٥٩٩  | ٢٥٩٩  | ٢٥٩٩                    | ٨  |
| ٠٠١        | ٤٥٨٦                  | ٤٥٨٨  | ٤٥٩١  | ٤٥٩٦  | ٤٥٩٩  | ٤٥٩٩  | ٤٥٩٩  | ٤٥٩٩  | ٤٥٩٩  | ٤٥٩٩  | ٤٥٩٩  | ٤٥٩٩                    |    |
| ٠٠٥        | ٢٥٧١                  | ٢٥٧٢  | ٢٥٧٣  | ٢٥٧٦  | ٢٥٧٧  | ٢٥٨٠  | ٢٥٨٢  | ٢٥٨٦  | ٢٥٩٠  | ٢٥٩٢  | ٢٥٩٨  | ٢٥٩٩                    | ٩  |
| ٠٠١        | ٤٥٣١                  | ٤٥٣٢  | ٤٥٣٦  | ٤٥٤١  | ٤٥٤٥  | ٤٥٥١  | ٤٥٥٦  | ٤٥٦٤  | ٤٥٧٣  | ٤٥٨٠  | ٤٥٩٢  | ٤٥٩٩                    |    |
| ٠٠٥        | ٢٥٥٤                  | ٢٥٥٥  | ٢٥٥٦  | ٢٥٥٩  | ٢٥٦١  | ٢٥٦٤  | ٢٥٦٧  | ٢٥٧٠  | ٢٥٧٤  | ٢٥٧٧  | ٢٥٨٣  | ٢٥٨٦                    | ١٠ |
| ٠٠١        | ٤٥٩١                  | ٤٥٩٣  | ٤٥٩٦  | ٤٥٩٩  | ٤٥٩٩  | ٤٥٩٩  | ٤٥٩٩  | ٤٥٩٩  | ٤٥٩٩  | ٤٥٩٩  | ٤٥٩٩  | ٤٥٩٩                    |    |
| ٠٠٥        | ٢٥٤٠                  | ٢٥٤١  | ٢٥٤٢  | ٢٥٤٥  | ٢٥٤٧  | ٢٥٥٠  | ٢٥٥٢  | ٢٥٥٧  | ٢٥٦١  | ٢٥٦٥  | ٢٥٧٠  | ٢٥٧٤                    | ١١ |
| ٠٠١        | ٤٥٦٠                  | ٤٥٦٢  | ٤٥٦٦  | ٤٥٧٠  | ٤٥٧٤  | ٤٥٨٠  | ٤٥٨٦  | ٤٥٩٤  | ٤٥٩٢  | ٤٥٩٠  | ٤٥٩١  | ٤٥٩٩                    |    |
| ٠٠٥        | ٢٥٣٠                  | ٢٥٣١  | ٢٥٣٢  | ٢٥٣٥  | ٢٥٣٦  | ٢٥٣٩  | ٢٥٤٢  | ٢٥٤٦  | ٢٥٥٠  | ٢٥٥٤  | ٢٥٦٠  | ٢٥٦٤                    | ١٢ |
| ٠٠١        | ٤٥٣٦                  | ٤٥٣٨  | ٤٥٤١  | ٤٥٤٦  | ٤٥٤٩  | ٤٥٥٦  | ٤٥٦١  | ٤٥٧٠  | ٤٥٨٧  | ٤٥٨٦  | ٤٥٩٨  | ٤٥٩٥                    |    |
| ٠٠٥        | ٢٥٢١                  | ٢٥٢٢  | ٢٥٢٤  | ٢٥٢٦  | ٢٥٢٨  | ٢٥٣٢  | ٢٥٣٤  | ٢٥٣٨  | ٢٥٤٢  | ٢٥٤٦  | ٢٥٥١  | ٢٥٥٥                    | ١٣ |
| ٠٠١        | ٤٥٦٦                  | ٤٥٦٨  | ٤٥٦١  | ٤٥٦٧  | ٤٥٦٥  | ٤٥٦٧  | ٤٥٦٧  | ٤٥٦٨  | ٤٥٦٩  | ٤٥٦٧  | ٤٥٦٨  | ٤٥٦٨                    |    |

### مستويات الدلالة الإحصائية للنسبة الفئوية

| مستوى الدلالة | د . ح . التباين الكبير     |       |       |       |       |       |       |       |       |       |       |       | درجات حرية | ن                      |
|---------------|----------------------------|-------|-------|-------|-------|-------|-------|-------|-------|-------|-------|-------|------------|------------------------|
|               | ١٢ ١١ ١٠ ٩ ٨ ٧ ٦ ٥ ٤ ٣ ٢ ١ |       |       |       |       |       |       |       |       |       |       |       |            |                        |
|               | ١٢                         | ١١    | ١٠    | ٩     | ٨     | ٧     | ٦     | ٥     | ٤     | ٣     | ٢     | ١     |            |                        |
| ٠.٠٥          | ٢.٠٥٢                      | ٢.٠٥٦ | ٢.٠٦٠ | ٢.٠٦٤ | ٢.٠٦٧ | ٢.٠٧١ | ٢.٠٧٦ | ٢.٠٨١ | ٢.٠٨٦ | ٢.٠٩١ | ٢.٠٩٦ | ٢.١٠١ | ١٤         | د . ح . التباين الصغير |
| ٠.٠١          | ٢.٠٨٠                      | ٢.٠٨٦ | ٢.٠٩٤ | ٢.١٠٣ | ٢.١١٤ | ٢.١٢٨ | ٢.١٤٦ | ٢.١٦٩ | ٢.١٩٣ | ٢.٢١٦ | ٢.٢٤١ | ٢.٢٦٦ | ١٥         |                        |
| ٠.٠٥          | ٢.٢٤٨                      | ٢.٢٥١ | ٢.٢٥٥ | ٢.٢٥٩ | ٢.٢٦٤ | ٢.٢٧٠ | ٢.٢٧٩ | ٢.٢٩٠ | ٢.٣٠٦ | ٢.٣٢٩ | ٢.٣٦٨ | ٢.٤٠٤ | ١٦         |                        |
| ٠.٠١          | ٢.٢٦٧                      | ٢.٢٧٣ | ٢.٢٨٠ | ٢.٢٨٩ | ٢.٣٠٠ | ٢.٣١٤ | ٢.٣٣٢ | ٢.٣٥٦ | ٢.٣٨٩ | ٢.٤٢٢ | ٢.٤٦٣ | ٢.٥٠٣ | ١٧         |                        |
| ٠.٠٥          | ٢.٤٤٢                      | ٢.٤٥١ | ٢.٤٥٩ | ٢.٤٥٤ | ٢.٤٥٩ | ٢.٤٦٦ | ٢.٤٧٤ | ٢.٤٨٥ | ٢.٥٠١ | ٢.٥٢٤ | ٢.٥٦٣ | ٢.٦٠٣ | ١٨         |                        |
| ٠.٠١          | ٢.٤٥٥                      | ٢.٤٦١ | ٢.٤٦٩ | ٢.٤٧٨ | ٢.٤٨٩ | ٢.٥٠٣ | ٢.٥٢٠ | ٢.٥٤٤ | ٢.٥٧٤ | ٢.٦٠٦ | ٢.٦٤٣ | ٢.٦٨٣ | ١٩         |                        |
| ٠.٠٥          | ٢.٦٣٨                      | ٢.٦٤١ | ٢.٦٤٥ | ٢.٦٤٩ | ٢.٦٥٥ | ٢.٦٦٢ | ٢.٦٧٠ | ٢.٦٨١ | ٢.٦٩٦ | ٢.٧٢٠ | ٢.٧٥٩ | ٢.٨٠٠ | ٢٠         |                        |
| ٠.٠١          | ٢.٦٤٥                      | ٢.٦٥٢ | ٢.٦٥٩ | ٢.٦٦٨ | ٢.٦٧٩ | ٢.٦٩٣ | ٢.٧١٠ | ٢.٧٣٤ | ٢.٧٦٧ | ٢.٨٠١ | ٢.٨٤١ | ٢.٨٨١ | ٢١         |                        |
| ٠.٠٥          | ٢.٨٢٤                      | ٢.٨٢٧ | ٢.٨٣١ | ٢.٨٣٦ | ٢.٨٤١ | ٢.٨٤٨ | ٢.٨٥٨ | ٢.٨٦٦ | ٢.٨٧٧ | ٢.٨٩٣ | ٢.٩١٦ | ٢.٩٤١ | ٢٢         |                        |
| ٠.٠١          | ٢.٨٣٧                      | ٢.٨٤٤ | ٢.٨٥١ | ٢.٨٦٠ | ٢.٨٧١ | ٢.٨٨٤ | ٢.٩٠١ | ٢.٩٢٥ | ٢.٩٥٨ | ٢.٩٩٦ | ٣.٠٣٦ | ٣.٠٧٦ | ٢٣         |                        |
| ٠.٠٥          | ٣.٠٢٨                      | ٣.٠٣١ | ٣.٠٣٥ | ٣.٠٣٩ | ٣.٠٤٥ | ٣.٠٥٢ | ٣.٠٦٣ | ٣.٠٧٤ | ٣.٠٩٠ | ٣.١١٣ | ٣.١٥٦ | ٣.٢٠٠ | ٢٤         |                        |
| ٠.٠١          | ٣.٠٣٥                      | ٣.٠٣٦ | ٣.٠٣٦ | ٣.٠٣٦ | ٣.٠٣٦ | ٣.٠٣٦ | ٣.٠٣٦ | ٣.٠٣٦ | ٣.٠٣٦ | ٣.٠٣٦ | ٣.٠٣٦ | ٣.٠٣٦ | ٢٥         |                        |
| ٠.٠٥          | ٣.٢٢٨                      | ٣.٢٣١ | ٣.٢٣٥ | ٣.٢٣٩ | ٣.٢٤٥ | ٣.٢٥٢ | ٣.٢٦٣ | ٣.٢٧٤ | ٣.٢٩٠ | ٣.٣١٣ | ٣.٣٥٦ | ٣.٤٠٠ | ٢٦         |                        |
| ٠.٠١          | ٣.٢٣٥                      | ٣.٢٣٦ | ٣.٢٣٦ | ٣.٢٣٦ | ٣.٢٣٦ | ٣.٢٣٦ | ٣.٢٣٦ | ٣.٢٣٦ | ٣.٢٣٦ | ٣.٢٣٦ | ٣.٢٣٦ | ٣.٢٣٦ | ٢٧         |                        |
| ٠.٠٥          | ٣.٤٢٨                      | ٣.٤٣١ | ٣.٤٣٥ | ٣.٤٣٩ | ٣.٤٤٥ | ٣.٤٥٢ | ٣.٤٦٣ | ٣.٤٧٤ | ٣.٤٩٠ | ٣.٥١٣ | ٣.٥٥٦ | ٣.٦٠٠ | ٢٨         |                        |
| ٠.٠١          | ٣.٤٣٥                      | ٣.٤٣٦ | ٣.٤٣٦ | ٣.٤٣٦ | ٣.٤٣٦ | ٣.٤٣٦ | ٣.٤٣٦ | ٣.٤٣٦ | ٣.٤٣٦ | ٣.٤٣٦ | ٣.٤٣٦ | ٣.٤٣٦ | ٢٩         |                        |
| ٠.٠٥          | ٣.٦٢٨                      | ٣.٦٣١ | ٣.٦٣٥ | ٣.٦٣٩ | ٣.٦٤٥ | ٣.٦٥٢ | ٣.٦٦٣ | ٣.٦٧٤ | ٣.٦٩٠ | ٣.٧١٣ | ٣.٧٥٦ | ٣.٨٠٠ | ٣٠         |                        |
| ٠.٠١          | ٣.٦٣٥                      | ٣.٦٣٦ | ٣.٦٣٦ | ٣.٦٣٦ | ٣.٦٣٦ | ٣.٦٣٦ | ٣.٦٣٦ | ٣.٦٣٦ | ٣.٦٣٦ | ٣.٦٣٦ | ٣.٦٣٦ | ٣.٦٣٦ | ٣١         |                        |
| ٠.٠٥          | ٣.٨٢٨                      | ٣.٨٣١ | ٣.٨٣٥ | ٣.٨٣٩ | ٣.٨٤٥ | ٣.٨٥٢ | ٣.٨٦٣ | ٣.٨٧٤ | ٣.٨٩٠ | ٣.٩١٣ | ٣.٩٥٦ | ٤.٠٠٠ | ٣٢         |                        |
| ٠.٠١          | ٣.٨٣٥                      | ٣.٨٣٦ | ٣.٨٣٦ | ٣.٨٣٦ | ٣.٨٣٦ | ٣.٨٣٦ | ٣.٨٣٦ | ٣.٨٣٦ | ٣.٨٣٦ | ٣.٨٣٦ | ٣.٨٣٦ | ٣.٨٣٦ | ٣٣         |                        |
| ٠.٠٥          | ٤.٠٢٨                      | ٤.٠٣١ | ٤.٠٣٥ | ٤.٠٣٩ | ٤.٠٤٥ | ٤.٠٥٢ | ٤.٠٦٣ | ٤.٠٧٤ | ٤.٠٩٠ | ٤.١١٣ | ٤.١٥٦ | ٤.٢٠٠ | ٣٤         |                        |
| ٠.٠١          | ٤.٠٣٥                      | ٤.٠٣٦ | ٤.٠٣٦ | ٤.٠٣٦ | ٤.٠٣٦ | ٤.٠٣٦ | ٤.٠٣٦ | ٤.٠٣٦ | ٤.٠٣٦ | ٤.٠٣٦ | ٤.٠٣٦ | ٤.٠٣٦ | ٣٥         |                        |
| ٠.٠٥          | ٤.٢٢٨                      | ٤.٢٣١ | ٤.٢٣٥ | ٤.٢٣٩ | ٤.٢٤٥ | ٤.٢٥٢ | ٤.٢٦٣ | ٤.٢٧٤ | ٤.٢٩٠ | ٤.٣١٣ | ٤.٣٥٦ | ٤.٤٠٠ | ٣٦         |                        |
| ٠.٠١          | ٤.٢٣٥                      | ٤.٢٣٦ | ٤.٢٣٦ | ٤.٢٣٦ | ٤.٢٣٦ | ٤.٢٣٦ | ٤.٢٣٦ | ٤.٢٣٦ | ٤.٢٣٦ | ٤.٢٣٦ | ٤.٢٣٦ | ٤.٢٣٦ | ٣٧         |                        |



### مستويات الدلالة الإحصائية للنسبة الفئوية

| مستوى الدلالة | د . ح . التباين الكبير |       |       |       |       |       |       |       |       |       |       | درجات حرية | نسبة ف |                        |
|---------------|------------------------|-------|-------|-------|-------|-------|-------|-------|-------|-------|-------|------------|--------|------------------------|
|               | ∞                      | ∞٠٠   | ٢٠٠   | ١٠٠   | ٧٥    | ٥٠    | ٤٠    | ٣٠    | ٢٤    | ٢٠    | ١٦    |            |        | ١٤                     |
| ٠.٠٥          | ٢,٠١٣                  | ٢,٠١٤ | ٢,٠١٦ | ٢,٠١٩ | ٢,٠٢١ | ٢,٠٢٤ | ٢,٠٢٧ | ٢,٠٣١ | ٢,٠٣٥ | ٢,٠٣٩ | ٢,٠٤٤ | ٢,٠٤٨      | ١٤     | د . ح . التباين الصغير |
| ٠.٠١          | ٢,٠٠٠                  | ٢,٠٠٢ | ٢,٠٠٦ | ٢,٠١١ | ٢,٠١٤ | ٢,٠٢١ | ٢,٠٢٦ | ٢,٠٣٤ | ٢,٠٤٣ | ٢,٠٥١ | ٢,٠٦٢ | ٢,٠٧٠      |        |                        |
| ٠.٠٥          | ٢,٠٠٧                  | ٢,٠٠٨ | ٢,٠١٠ | ٢,٠١٢ | ٢,٠١٥ | ٢,٠١٨ | ٢,٠٢١ | ٢,٠٢٥ | ٢,٠٢٩ | ٢,٠٣٣ | ٢,٠٣٩ | ٢,٠٤٣      | ١٥     |                        |
| ٠.٠١          | ٢,٠٨٧                  | ٢,٠٨٩ | ٢,٠٩٢ | ٢,٠٩٧ | ٢,١٠٠ | ٢,١٠٧ | ٢,١١٢ | ٢,١٢٠ | ٢,١٢٩ | ٢,١٣٦ | ٢,١٤٨ | ٢,١٥٦      |        |                        |
| ٠.٠٥          | ٢,٠٠١                  | ٢,٠٠٢ | ٢,٠٠٤ | ٢,٠٠٧ | ٢,٠٠٩ | ٢,٠١٣ | ٢,٠١٦ | ٢,٠٢٠ | ٢,٠٢٤ | ٢,٠٢٨ | ٢,٠٣٣ | ٢,٠٣٧      | ١٦     |                        |
| ٠.٠١          | ٢,٠٧٥                  | ٢,٠٧٧ | ٢,٠٨٠ | ٢,٠٨٦ | ٢,٠٨٩ | ٢,٠٩٦ | ٢,١٠١ | ٢,١٠٠ | ٢,١٠٨ | ٢,١٢٥ | ٢,١٣٧ | ٢,١٤٥      |        |                        |
| ٠.٠٥          | ١,٩٩٦                  | ١,٩٩٧ | ١,٩٩٩ | ٢,٠٠٢ | ٢,٠٠٤ | ٢,٠٠٨ | ٢,٠١١ | ٢,٠١٥ | ٢,٠١٩ | ٢,٠٢٣ | ٢,٠٢٩ | ٢,٠٣٣      | ١٧     |                        |
| ٠.٠١          | ٢,٠٦٥                  | ٢,٠٦٦ | ٢,٠٧٠ | ٢,٠٧٦ | ٢,٠٧٩ | ٢,٠٨٦ | ٢,٠٩٢ | ٢,١٠٠ | ٢,١٠٨ | ٢,١١٦ | ٢,١٢٧ | ٢,١٣٥      |        |                        |
| ٠.٠٥          | ١,٩٩٢                  | ١,٩٩٣ | ١,٩٩٥ | ١,٩٩٨ | ٢,٠٠٠ | ٢,٠٠٤ | ٢,٠٠٧ | ٢,٠١١ | ٢,٠١٥ | ٢,٠١٩ | ٢,٠٢٥ | ٢,٠٢٩      | ١٨     |                        |
| ٠.٠١          | ٢,٠٥٧                  | ٢,٠٥٩ | ٢,٠٦٢ | ٢,٠٦٨ | ٢,٠٧١ | ٢,٠٧٨ | ٢,٠٨٣ | ٢,٠٩١ | ٢,١٠٠ | ٢,١٠٧ | ٢,١١٩ | ٢,١٢٧      |        |                        |
| ٠.٠٥          | ١,٩٨٨                  | ١,٩٩٠ | ١,٩٩١ | ١,٩٩٤ | ١,٩٩٦ | ٢,٠٠٠ | ٢,٠٠٢ | ٢,٠٠٧ | ٢,٠١٢ | ٢,٠١٥ | ٢,٠٢١ | ٢,٠٢٦      | ١٩     |                        |
| ٠.٠١          | ٢,٠٤٩                  | ٢,٠٥٠ | ٢,٠٥٤ | ٢,٠٦٠ | ٢,٠٦٣ | ٢,٠٧٠ | ٢,٠٧٦ | ٢,٠٨٤ | ٢,٠٩٢ | ٢,١٠٠ | ٢,١١٢ | ٢,١١٩      |        |                        |
| ٠.٠٥          | ١,٩٨٤                  | ١,٩٨٥ | ١,٩٨٧ | ١,٩٩٠ | ١,٩٩٢ | ١,٩٩٦ | ١,٩٩٩ | ٢,٠٠٤ | ٢,٠٠٨ | ٢,٠١٢ | ٢,٠١٨ | ٢,٠٢٣      | ٢٠     |                        |
| ٠.٠١          | ٢,٠٤٢                  | ٢,٠٤٤ | ٢,٠٤٧ | ٢,٠٥٣ | ٢,٠٥٦ | ٢,٠٦٣ | ٢,٠٦٩ | ٢,٠٧٧ | ٢,٠٨٦ | ٢,٠٩٤ | ٢,١٠٥ | ٢,١١٣      |        |                        |
| ٠.٠٥          | ١,٩٨١                  | ١,٩٨٢ | ١,٩٨٤ | ١,٩٨٧ | ١,٩٨٩ | ١,٩٩٣ | ١,٩٩٦ | ٢,٠٠٠ | ٢,٠٠٥ | ٢,٠٠٩ | ٢,٠١٥ | ٢,٠٢٠      | ٢١     |                        |
| ٠.٠١          | ٢,٠٣٦                  | ٢,٠٣٨ | ٢,٠٤٢ | ٢,٠٤٧ | ٢,٠٥١ | ٢,٠٥٨ | ٢,٠٦٣ | ٢,٠٧٢ | ٢,٠٨٠ | ٢,٠٨٨ | ٢,٠٩٩ | ٢,١٠٧      |        |                        |
| ٠.٠٥          | ١,٩٧٨                  | ١,٩٨٠ | ١,٩٨١ | ١,٩٨٤ | ١,٩٨٧ | ١,٩٩١ | ١,٩٩٣ | ١,٩٩٨ | ٢,٠٠٣ | ٢,٠٠٧ | ٢,٠١٣ | ٢,٠١٨      | ٢٢     |                        |
| ٠.٠١          | ٢,٠٣١                  | ٢,٠٣٣ | ٢,٠٣٧ | ٢,٠٤٢ | ٢,٠٤٦ | ٢,٠٥٣ | ٢,٠٥٨ | ٢,٠٦٧ | ٢,٠٧٥ | ٢,٠٨٣ | ٢,٠٩٤ | ٢,١٠٢      |        |                        |
| ٠.٠٥          | ١,٩٧٦                  | ١,٩٧٧ | ١,٩٧٩ | ١,٩٨٢ | ١,٩٨٤ | ١,٩٨٨ | ١,٩٩١ | ١,٩٩٦ | ٢,٠٠٠ | ٢,٠٠٤ | ٢,٠١٠ | ٢,٠١٤      | ٢٣     |                        |
| ٠.٠١          | ٢,٠٢٦                  | ٢,٠٢٨ | ٢,٠٣٢ | ٢,٠٣٧ | ٢,٠٤١ | ٢,٠٤٨ | ٢,٠٥٣ | ٢,٠٦٢ | ٢,٠٧٠ | ٢,٠٨٧ | ٢,٠٨٩ | ٢,٠٩٧      |        |                        |
| ٠.٠٥          | ١,٩٧٣                  | ١,٩٧٤ | ١,٩٧٦ | ١,٩٨٠ | ١,٩٨٢ | ١,٩٨٦ | ١,٩٨٩ | ١,٩٩٤ | ١,٩٩٨ | ٢,٠٠٢ | ٢,٠٠٩ | ٢,٠١٣      | ٢٤     |                        |
| ٠.٠١          | ٢,٠٢١                  | ٢,٠٢٣ | ٢,٠٢٧ | ٢,٠٣٣ | ٢,٠٣٦ | ٢,٠٤٤ | ٢,٠٤٩ | ٢,٠٥٨ | ٢,٠٦٦ | ٢,٠٧٤ | ٢,٠٨٥ | ٢,٠٩٣      |        |                        |
| ٠.٠٥          | ١,٩٧١                  | ١,٩٧٢ | ١,٩٧٤ | ١,٩٧٧ | ١,٩٨٠ | ١,٩٨٤ | ١,٩٨٧ | ١,٩٩٢ | ١,٩٩٦ | ٢,٠٠٠ | ٢,٠٠٦ | ٢,٠١١      | ٢٥     |                        |
| ٠.٠١          | ٢,٠١٧                  | ٢,٠١٩ | ٢,٠٢٣ | ٢,٠٢٩ | ٢,٠٣٢ | ٢,٠٤٠ | ٢,٠٤٥ | ٢,٠٥٤ | ٢,٠٦٢ | ٢,٠٧٠ | ٢,٠٨١ | ٢,٠٨٩      |        |                        |
| ٠.٠٥          | ١,٩٦٩                  | ١,٩٧٠ | ١,٩٧٢ | ١,٩٧٦ | ١,٩٧٨ | ١,٩٨٢ | ١,٩٨٥ | ١,٩٩٠ | ١,٩٩٥ | ١,٩٩٩ | ٢,٠٠٥ | ٢,٠١٠      | ٢٦     |                        |
| ٠.٠١          | ٢,٠١٣                  | ٢,٠١٧ | ٢,٠١٩ | ٢,٠٢٥ | ٢,٠٢٨ | ٢,٠٣٦ | ٢,٠٤١ | ٢,٠٥٠ | ٢,٠٥٨ | ٢,٠٦٦ | ٢,٠٧٧ | ٢,٠٨٦      |        |                        |

### مستويات الدلالة الإحصائية للنسبة الفئوية

| مستوى الدلالة | د . ح . العالين الكبير |       |       |       |       |       |       |       |       |       |       | درجات حرية | نسبة ف |                        |
|---------------|------------------------|-------|-------|-------|-------|-------|-------|-------|-------|-------|-------|------------|--------|------------------------|
|               | ١٢                     | ١١    | ١٠    | ٩     | ٨     | ٧     | ٦     | ٥     | ٤     | ٣     | ٢     |            |        | ١                      |
| ٠.٠٥          | ٢.١١٣                  | ٢.١١٦ | ٢.٢٠٠ | ٢.٢٢٥ | ٢.٢٣٠ | ٢.٢٢٧ | ٢.٢٤٦ | ٢.٢٥٧ | ٢.٢٧٢ | ٢.٢٩٦ | ٢.٣٣٥ | ٢.٣١٤      | ٢٧     | د . ح . العالين الصغير |
| ٠.٠١          | ٢.٢٩٣                  | ٢.٢٩٨ | ٢.٣٠٦ | ٢.٣١٤ | ٢.٣٢٦ | ٢.٣٢٩ | ٢.٣٥٦ | ٢.٣٧٩ | ٢.٤١١ | ٢.٤٦٠ | ٢.٤٤٩ | ٢.٤٦٨      |        |                        |
| ٠.٠٥          | ٢.٣١٢                  | ٢.٣١٥ | ٢.٣١٩ | ٢.٣٢٤ | ٢.٣٢٩ | ٢.٣٣٦ | ٢.٣٤٤ | ٢.٣٥٦ | ٢.٣٧١ | ٢.٣٩٥ | ٢.٣٣٤ | ٢.٣٠٠      | ٢٨     |                        |
| ٠.٠١          | ٢.٣٩٠                  | ٢.٣٩٥ | ٢.٣٠٣ | ٢.٣١١ | ٢.٣٢٣ | ٢.٣٣٦ | ٢.٣٥٣ | ٢.٣٧٦ | ٢.٤٠٧ | ٢.٤٥٧ | ٢.٤٤٥ | ٢.٤٦٤      |        |                        |
| ٠.٠٥          | ٢.٣١٠                  | ٢.٣١٤ | ٢.٣١٨ | ٢.٣٢٢ | ٢.٣٢٨ | ٢.٣٣٥ | ٢.٣٤٢ | ٢.٣٥٤ | ٢.٣٧٠ | ٢.٣٩٣ | ٢.٣٣٣ | ٢.٣١٨      | ٢٩     |                        |
| ٠.٠١          | ٢.٣٨٧                  | ٢.٣٩٢ | ٢.٣٠٠ | ٢.٣٠٨ | ٢.٣٢٠ | ٢.٣٣٣ | ٢.٣٥٠ | ٢.٣٧٣ | ٢.٤٠٤ | ٢.٤٥٤ | ٢.٤٤٢ | ٢.٤٦٠      |        |                        |
| ٠.٠٥          | ٢.٣٠٩                  | ٢.٣١٢ | ٢.٣١٦ | ٢.٣٢١ | ٢.٣٢٧ | ٢.٣٣٤ | ٢.٣٤٢ | ٢.٣٥٣ | ٢.٣٦٩ | ٢.٣٩٢ | ٢.٣٣٢ | ٢.٣١٧      | ٣٠     |                        |
| ٠.٠١          | ٢.٣٨٤                  | ٢.٣٩٠ | ٢.٣٩٨ | ٢.٣٠٦ | ٢.٣١٧ | ٢.٣٣٠ | ٢.٣٤٧ | ٢.٣٧٠ | ٢.٤٠٢ | ٢.٤٥١ | ٢.٤٣٩ | ٢.٤٥٦      |        |                        |
| ٠.٠٥          | ٢.٣٠٧                  | ٢.٣١٠ | ٢.٣١٤ | ٢.٣١٩ | ٢.٣٢٥ | ٢.٣٣٢ | ٢.٣٤٠ | ٢.٣٥١ | ٢.٣٦٧ | ٢.٣٩٠ | ٢.٣٣٠ | ٢.٣١٥      | ٣٢     |                        |
| ٠.٠١          | ٢.٣٨٨                  | ٢.٣٩٦ | ٢.٣٩٤ | ٢.٣٠١ | ٢.٣١٣ | ٢.٣٢٥ | ٢.٣٤٠ | ٢.٣٦٦ | ٢.٣٩٧ | ٢.٤٤٦ | ٢.٤٣٤ | ٢.٤٥٠      |        |                        |
| ٠.٠٥          | ٢.٣٠٥                  | ٢.٣٠٨ | ٢.٣١٢ | ٢.٣١٧ | ٢.٣٢٣ | ٢.٣٣٠ | ٢.٣٣٨ | ٢.٣٤٩ | ٢.٣٦٥ | ٢.٣٨٨ | ٢.٣٢٨ | ٢.٣١٣      | ٣٤     |                        |
| ٠.٠١          | ٢.٣٧٦                  | ٢.٣٨٢ | ٢.٣٨٩ | ٢.٣٩٧ | ٢.٣٠٨ | ٢.٣٢١ | ٢.٣٣٨ | ٢.٣٦١ | ٢.٣٩٣ | ٢.٤٤٢ | ٢.٤٣٠ | ٢.٤٤٤      |        |                        |
| ٠.٠٥          | ٢.٣٠٣                  | ٢.٣٠٦ | ٢.٣١٠ | ٢.٣١٥ | ٢.٣٢١ | ٢.٣٢٦ | ٢.٣٣٤ | ٢.٣٤٨ | ٢.٣٦٣ | ٢.٣٨٦ | ٢.٣٢٦ | ٢.٣١١      | ٣٦     |                        |
| ٠.٠١          | ٢.٣٧٢                  | ٢.٣٧٨ | ٢.٣٨٦ | ٢.٣٩٤ | ٢.٣٠٤ | ٢.٣١٨ | ٢.٣٣٥ | ٢.٣٥٨ | ٢.٣٨٩ | ٢.٤٣٨ | ٢.٤٢٦ | ٢.٤٣٩      |        |                        |
| ٠.٠٥          | ٢.٣٠٢                  | ٢.٣٠٥ | ٢.٣٠٩ | ٢.٣١٤ | ٢.٣١٩ | ٢.٣٢٦ | ٢.٣٣٥ | ٢.٣٤٦ | ٢.٣٦٢ | ٢.٣٨٥ | ٢.٣٢٥ | ٢.٣١٥      | ٣٨     |                        |
| ٠.٠١          | ٢.٣٦٩                  | ٢.٣٧٥ | ٢.٣٨٢ | ٢.٣٩١ | ٢.٣٠٢ | ٢.٣١٥ | ٢.٣٣٢ | ٢.٣٥٤ | ٢.٣٨٦ | ٢.٤٣٤ | ٢.٤٢١ | ٢.٤٣٥      |        |                        |
| ٠.٠٥          | ٢.٣٠٠                  | ٢.٣٠٤ | ٢.٣٠٧ | ٢.٣١٢ | ٢.٣١٨ | ٢.٣٢٥ | ٢.٣٣٤ | ٢.٣٤٥ | ٢.٣٦١ | ٢.٣٨٤ | ٢.٣٢٣ | ٢.٣٠٨      | ٤٠     |                        |
| ٠.٠١          | ٢.٣٦٦                  | ٢.٣٧٢ | ٢.٣٨٠ | ٢.٣٨٨ | ٢.٣٩٩ | ٢.٣٢١ | ٢.٣٣٩ | ٢.٣٥١ | ٢.٣٨٣ | ٢.٤٣١ | ٢.٤١٨ | ٢.٤٣١      |        |                        |
| ٠.٠٥          | ٢.٣٩٩                  | ٢.٣٠٢ | ٢.٣٠٦ | ٢.٣١١ | ٢.٣١٧ | ٢.٣٢٤ | ٢.٣٣٢ | ٢.٣٤٤ | ٢.٣٥٩ | ٢.٣٨٢ | ٢.٣٢٢ | ٢.٣٠٧      | ٤٢     |                        |
| ٠.٠١          | ٢.٣٦٤                  | ٢.٣٧٠ | ٢.٣٧٧ | ٢.٣٨٦ | ٢.٣٩٦ | ٢.٣١٠ | ٢.٣٢٦ | ٢.٣٤٩ | ٢.٣٨٠ | ٢.٤٢٩ | ٢.٤١٥ | ٢.٤٢٧      |        |                        |
| ٠.٠٥          | ٢.٣٩٨                  | ٢.٣٠١ | ٢.٣٠٥ | ٢.٣١٠ | ٢.٣١٦ | ٢.٣٢٣ | ٢.٣٣١ | ٢.٣٤٣ | ٢.٣٥٨ | ٢.٣٨٢ | ٢.٣٢١ | ٢.٣٠٦      | ٤٤     |                        |
| ٠.٠١          | ٢.٣٦٢                  | ٢.٣٦٨ | ٢.٣٧٥ | ٢.٣٨٤ | ٢.٣٩٤ | ٢.٣٠٧ | ٢.٣٢٤ | ٢.٣٤٦ | ٢.٣٧٨ | ٢.٤٢٦ | ٢.٤١٣ | ٢.٤٢٤      |        |                        |
| ٠.٠٥          | ٢.٣٩٧                  | ٢.٣٠٠ | ٢.٣٠٤ | ٢.٣٠٩ | ٢.٣١٤ | ٢.٣٢٢ | ٢.٣٣٠ | ٢.٣٤٢ | ٢.٣٥٧ | ٢.٣٨١ | ٢.٣٢٠ | ٢.٣٠٥      | ٤٦     |                        |
| ٠.٠١          | ٢.٣٦٠                  | ٢.٣٦٦ | ٢.٣٧٣ | ٢.٣٨٢ | ٢.٣٩٢ | ٢.٣٠٥ | ٢.٣٢٢ | ٢.٣٤٤ | ٢.٣٧٦ | ٢.٤٢٤ | ٢.٤١٠ | ٢.٤٢١      |        |                        |
| ٠.٠٥          | ٢.٣٩٦                  | ٢.٣٩٩ | ٢.٣٠٣ | ٢.٣٠٨ | ٢.٣١٤ | ٢.٣٢١ | ٢.٣٣٠ | ٢.٣٤١ | ٢.٣٥٦ | ٢.٣٨٠ | ٢.٣١٩ | ٢.٣٠٤      | ٤٨     |                        |
| ٠.٠١          | ٢.٣٥٨                  | ٢.٣٦٤ | ٢.٣٧٠ | ٢.٣٨٠ | ٢.٣٩٠ | ٢.٣٠٤ | ٢.٣٢٠ | ٢.٣٤٢ | ٢.٣٧٤ | ٢.٤٢٢ | ٢.٤٠٨ | ٢.٤١٩      |        |                        |

### مستويات الدلالة الإحصائية للنسبة الفئوية

| مستوى الدلالة | د . ح . التباين الكبير |       |       |       |       |       |       |       |       |       |       |       | درجات حرية | نسبة ف                 |
|---------------|------------------------|-------|-------|-------|-------|-------|-------|-------|-------|-------|-------|-------|------------|------------------------|
|               | ٥٥                     | ٥٠٠   | ٢٠٠   | ١٠٠   | ٧٥    | ٥٠    | ٤٤    | ٣٠    | ٢٤    | ٢٠    | ١٦    | ١٤    |            |                        |
| ٠.٠٥          | ١.٦٢٧                  | ١.٦٦٨ | ١.٦٧١ | ١.٦٧٤ | ١.٦٧٦ | ١.٦٨٠ | ١.٦٨٤ | ١.٦٨٨ | ١.٦٩٣ | ١.٦٩٧ | ١.٧٠٣ | ١.٧٠٨ | ٢٧         | د . ح . التباين الصغير |
| ٠.٠١          | ٢.٣١٠                  | ٢.٣١٢ | ٢.٣١٦ | ٢.٣٢١ | ٢.٣٢٥ | ٢.٣٢٣ | ٢.٣٢٨ | ٢.٣٤٧ | ٢.٣٥٥ | ٢.٣٦٣ | ٢.٣٧٤ | ٢.٣٨٣ |            |                        |
| ٠.٠٥          | ١.٦٦٥                  | ١.٦٦٧ | ١.٦٦٩ | ١.٦٧٢ | ١.٦٧٥ | ١.٦٧٨ | ١.٦٨١ | ١.٦٨٧ | ١.٦٩١ | ١.٦٩٦ | ١.٧٠٢ | ١.٧٠٦ | ٢٨         |                        |
| ٠.٠١          | ٢.٣٠٦                  | ٢.٣٠٦ | ٢.٣١٣ | ٢.٣١٨ | ٢.٣٢٢ | ٢.٣٢٠ | ٢.٣٢٥ | ٢.٣٤٤ | ٢.٣٥٢ | ٢.٣٦٠ | ٢.٣٧١ | ٢.٣٨٠ |            |                        |
| ٠.٠٥          | ١.٦٤٤                  | ١.٦٦٥ | ١.٦٦٨ | ١.٦٨١ | ١.٦٧٣ | ١.٦٧٧ | ١.٦٨٠ | ١.٦٨٥ | ١.٦٩٠ | ١.٦٩٤ | ١.٧٠٠ | ١.٧٠٥ | ٢٩         |                        |
| ٠.٠١          | ٢.٣٠٣                  | ٢.٣٠٦ | ٢.٣١٠ | ٢.٣١٥ | ٢.٣١٩ | ٢.٣٢٧ | ٢.٣٣٢ | ٢.٣٤١ | ٢.٣٤٩ | ٢.٣٥٧ | ٢.٣٦٨ | ٢.٣٧٧ |            |                        |
| ٠.٠٥          | ١.٦٦٣                  | ١.٦٦٤ | ١.٦٦٦ | ١.٦٦٩ | ١.٦٧٢ | ١.٦٧٦ | ١.٦٧٩ | ١.٦٨٤ | ١.٦٨٩ | ١.٦٩٣ | ١.٦٩٩ | ١.٧٠٤ | ٣٠         |                        |
| ٠.٠١          | ٢.٣٠١                  | ٢.٣٠٣ | ٢.٣٠٧ | ٢.٣١٢ | ٢.٣١٦ | ٢.٣٢٤ | ٢.٣٢٩ | ٢.٣٣٨ | ٢.٣٤٧ | ٢.٣٥٥ | ٢.٣٦٦ | ٢.٣٧٤ |            |                        |
| ٠.٠٥          | ١.٥٥٩                  | ١.٦٦١ | ١.٦٦٤ | ١.٦٦٧ | ١.٦٦٩ | ١.٦٧٤ | ١.٦٧٦ | ١.٦٨٢ | ١.٦٨٦ | ١.٦٩١ | ١.٦٩٧ | ١.٧٠٢ | ٣٢         |                        |
| ٠.٠١          | ٢.٣٩٦                  | ٢.٣٩٨ | ٢.٣٩٢ | ٢.٣٩٨ | ٢.٣٩٨ | ٢.٣٩٢ | ٢.٣٩٥ | ٢.٣٣٤ | ٢.٣٤٢ | ٢.٣٥١ | ٢.٣٦٢ | ٢.٣٧٠ |            |                        |
| ٠.٠٥          | ١.٥٧٧                  | ١.٦٥٩ | ١.٦٦١ | ١.٦٦٤ | ١.٦٦٧ | ١.٦٧١ | ١.٦٧٤ | ١.٦٨٠ | ١.٦٨٤ | ١.٦٨٩ | ١.٦٩٥ | ١.٧٠٠ | ٣٤         |                        |
| ٠.٠١          | ٢.٣٩١                  | ٢.٣٩٤ | ٢.٣٩٨ | ٢.٣٩٤ | ٢.٣٩٤ | ٢.٣٩٥ | ٢.٣٩١ | ٢.٣٣١ | ٢.٣٣٠ | ٢.٣٣٨ | ٢.٣٤٧ | ٢.٣٥٨ |            |                        |
| ٠.٠٥          | ١.٥٥٥                  | ١.٦٦٦ | ١.٦٥٩ | ١.٦٦٢ | ١.٦٦٥ | ١.٦٦٩ | ١.٦٧١ | ١.٦٧٨ | ١.٦٨٢ | ١.٦٨٧ | ١.٦٩٣ | ١.٦٩٨ | ٣٦         |                        |
| ٠.٠١          | ٢.٣٨٧                  | ٢.٣٩٠ | ٢.٣٩٤ | ٢.٣٩٠ | ٢.٣٩٠ | ٢.٣٩١ | ٢.٣٩٧ | ٢.٣٣٦ | ٢.٣٣٥ | ٢.٣٤٣ | ٢.٣٥٤ | ٢.٣٦٢ |            |                        |
| ٠.٠٥          | ١.٥٥٣                  | ١.٦٥٤ | ١.٦٥٧ | ١.٦٦٠ | ١.٦٦٣ | ١.٦٦٧ | ١.٦٧١ | ١.٦٧٦ | ١.٦٨٠ | ١.٦٨٥ | ١.٦٩٢ | ١.٦٩٦ | ٣٨         |                        |
| ٠.٠١          | ٢.٣٨٤                  | ٢.٣٨٦ | ٢.٣٩٠ | ٢.٣٩٧ | ٢.٣٩٠ | ٢.٣٩٠ | ٢.٣٩٤ | ٢.٣٣٢ | ٢.٣٣٢ | ٢.٣٤٠ | ٢.٣٥١ | ٢.٣٥٩ |            |                        |
| ٠.٠٥          | ١.٥٥١                  | ١.٦٥٣ | ١.٦٥٥ | ١.٦٥٩ | ١.٦٦١ | ١.٦٦٦ | ١.٦٦٩ | ١.٦٧٤ | ١.٦٧٩ | ١.٦٨٤ | ١.٦٩٠ | ١.٦٩٥ | ٤٠         |                        |
| ٠.٠١          | ٢.٣٨١                  | ٢.٣٨٤ | ٢.٣٨٨ | ٢.٣٩٤ | ٢.٣٩٧ | ٢.٣٩٥ | ٢.٣٩١ | ٢.٣٣٠ | ٢.٣٢٩ | ٢.٣٣٧ | ٢.٣٤٩ | ٢.٣٥٦ |            |                        |
| ٠.٠٥          | ١.٤٩٩                  | ١.٥١١ | ١.٥١٤ | ١.٥١٧ | ١.٥١٩ | ١.٥٢٤ | ١.٥٢٨ | ١.٥٣٣ | ١.٥٣٨ | ١.٥٤٢ | ١.٥٤٩ | ١.٥٥٤ | ٤٢         |                        |
| ٠.٠١          | ٢.٣٧٨                  | ٢.٣٨٠ | ٢.٣٨٥ | ٢.٣٩١ | ٢.٣٩٤ | ٢.٣٩٢ | ٢.٣٩٨ | ٢.٣٣٧ | ٢.٣٣٦ | ٢.٣٤٥ | ٢.٣٥٦ | ٢.٣٦٤ |            |                        |
| ٠.٠٥          | ١.٤٤٨                  | ١.٥٥٠ | ١.٥٥٢ | ١.٥٥٦ | ١.٥٥٨ | ١.٥٦٣ | ١.٥٦٦ | ١.٥٧٢ | ١.٥٧٦ | ١.٥٨١ | ١.٥٨٨ | ١.٥٩٢ | ٤٤         |                        |
| ٠.٠١          | ٢.٣٧٥                  | ٢.٣٧٨ | ٢.٣٨٢ | ٢.٣٨٨ | ٢.٣٩٢ | ٢.٣٩٠ | ٢.٣٩٦ | ٢.٣٣٥ | ٢.٣٣٤ | ٢.٣٣٢ | ٢.٣٤٤ | ٢.٣٥٢ |            |                        |
| ٠.٠٥          | ١.٤٤٦                  | ١.٤٤٨ | ١.٤٥١ | ١.٤٥٤ | ١.٤٥٧ | ١.٤٦٢ | ١.٤٦٥ | ١.٤٧١ | ١.٤٧٥ | ١.٤٨٠ | ١.٤٨٧ | ١.٤٩١ | ٤٦         |                        |
| ٠.٠١          | ٢.٣٧٢                  | ٢.٣٧٦ | ٢.٣٨٠ | ٢.٣٨٦ | ٢.٣٩٠ | ٢.٣٩٨ | ٢.٣٩٤ | ٢.٣٣٣ | ٢.٣٣٢ | ٢.٣٣٠ | ٢.٣٤٢ | ٢.٣٥٠ |            |                        |
| ٠.٠٥          | ١.٤٤٥                  | ١.٤٤٧ | ١.٤٥٠ | ١.٤٥٣ | ١.٤٥٦ | ١.٤٦١ | ١.٤٦٤ | ١.٤٧٠ | ١.٤٧٤ | ١.٤٧٩ | ١.٤٨٦ | ١.٤٩٠ | ٤٨         |                        |
| ٠.٠١          | ٢.٣٧٠                  | ٢.٣٧٣ | ٢.٣٧٨ | ٢.٣٨٤ | ٢.٣٨٨ | ٢.٣٩٦ | ٢.٣٩٢ | ٢.٣٣١ | ٢.٣٣٠ | ٢.٣٢٨ | ٢.٣٤٠ | ٢.٣٤٨ |            |                        |

### مستويات الدلالة الإحصائية للنسبة الفئوية

| مستوى الدلالة | د . ح . د . التباين الكبير |       |       |       |       |       |       |       |       |       |       |       | درجات حرية | نسبة ف                     |    |     |
|---------------|----------------------------|-------|-------|-------|-------|-------|-------|-------|-------|-------|-------|-------|------------|----------------------------|----|-----|
|               | ١٢                         | ١١    | ١٠    | ٩     | ٨     | ٧     | ٦     | ٥     | ٤     | ٣     | ٢     | ١     |            |                            |    |     |
| ٠.٠٥          | ٢.١٩٥                      | ٢.١٩٨ | ٢.٢٠٢ | ٢.٢٠٧ | ٢.٢١٣ | ٢.٢٢٠ | ٢.٢٢٩ | ٢.٢٤٠ | ٢.٢٥٦ | ٢.٢٧٩ | ٢.٣٠٨ | ٢.٣٤٧ | ٤.٠٠٠      | د . ح . د . التباين الصغير | ٥٠ |     |
| ٠.٠١          | ٢.٢٥٦                      | ٢.٢٦٢ | ٢.٢٧٠ | ٢.٢٧٨ | ٢.٢٨٨ | ٢.٢٩٢ | ٢.٢٩٨ | ٢.٣٠٤ | ٢.٣١١ | ٢.٣١٧ | ٢.٣٢٤ | ٢.٣٣١ | ٤.٠٠٦      |                            |    |     |
| ٠.٠٥          | ٢.١٩٣                      | ٢.١٩٧ | ٢.٢٠٠ | ٢.٢٠٥ | ٢.٢١١ | ٢.٢١٨ | ٢.٢٢٧ | ٢.٢٣٨ | ٢.٢٥٤ | ٢.٢٧٨ | ٢.٣٠٧ | ٢.٣٤٦ | ٤.٠٠٢      |                            |    | ٥٥  |
| ٠.٠١          | ٢.٢٥٣                      | ٢.٢٥٩ | ٢.٢٦٦ | ٢.٢٧٥ | ٢.٢٨٥ | ٢.٢٩٨ | ٢.٣١٥ | ٢.٣٢٧ | ٢.٣٤٨ | ٢.٣٦٨ | ٢.٣٩٦ | ٢.٤٠١ | ٤.٠٠١      |                            |    |     |
| ٠.٠٥          | ٢.١٩٢                      | ٢.١٩٥ | ٢.١٩٩ | ٢.٢٠٤ | ٢.٢١٠ | ٢.٢١٧ | ٢.٢٢٥ | ٢.٢٣٧ | ٢.٢٥٢ | ٢.٢٧٦ | ٢.٣٠٥ | ٢.٣٤٤ | ٤.٠٠٠      |                            |    | ٦٠  |
| ٠.٠١          | ٢.٢٥٠                      | ٢.٢٥٦ | ٢.٢٦٣ | ٢.٢٧٢ | ٢.٢٨٢ | ٢.٢٩٥ | ٢.٣١٢ | ٢.٣٢٤ | ٢.٣٤٥ | ٢.٣٦٥ | ٢.٣٩٣ | ٢.٤٠٨ | ٤.٠٠٨      |                            |    |     |
| ٠.٠٥          | ٢.١٩٠                      | ٢.١٩٤ | ٢.١٩٨ | ٢.٢٠٣ | ٢.٢٠٨ | ٢.٢١٥ | ٢.٢٢٤ | ٢.٢٣٦ | ٢.٢٥١ | ٢.٢٧٥ | ٢.٣٠٤ | ٢.٣٤٣ | ٤.٠٠٠      |                            |    | ٦٥  |
| ٠.٠١          | ٢.٢٤٧                      | ٢.٢٥٤ | ٢.٢٦١ | ٢.٢٧٠ | ٢.٢٧٩ | ٢.٢٩٣ | ٢.٣٠٩ | ٢.٣٢١ | ٢.٣٤٢ | ٢.٣٦٢ | ٢.٣٩٠ | ٢.٤٠٥ | ٤.٠٠٥      |                            |    |     |
| ٠.٠٥          | ٢.١٨٩                      | ٢.١٩٣ | ٢.١٩٧ | ٢.٢٠١ | ٢.٢٠٧ | ٢.٢١٤ | ٢.٢٢٣ | ٢.٢٣٥ | ٢.٢٥٠ | ٢.٢٨٤ | ٢.٣١٣ | ٢.٣٥٢ | ٤.٠٠٠      |                            |    | ٧٠  |
| ٠.٠١          | ٢.٢٤٥                      | ٢.٢٥١ | ٢.٢٥٩ | ٢.٢٦٧ | ٢.٢٧٧ | ٢.٢٩١ | ٢.٣٠٧ | ٢.٣٢٩ | ٢.٣٤٠ | ٢.٣٥٨ | ٢.٣٩٢ | ٢.٤٠٧ | ٤.٠٠٧      |                            |    |     |
| ٠.٠٥          | ٢.١٨٨                      | ٢.١٩١ | ٢.١٩٥ | ٢.١٩٩ | ٢.٢٠٥ | ٢.٢١٢ | ٢.٢٢١ | ٢.٢٣٣ | ٢.٢٤٨ | ٢.٢٧٢ | ٢.٣٠١ | ٢.٣٤٠ | ٤.٠٠٠      |                            |    | ٨٠  |
| ٠.٠١          | ٢.٢٤١                      | ٢.٢٤٨ | ٢.٢٥٥ | ٢.٢٦٤ | ٢.٢٧٤ | ٢.٢٨٧ | ٢.٣٠٤ | ٢.٣٢٥ | ٢.٣٤٦ | ٢.٣٥٤ | ٢.٣٨٨ | ٢.٤٠٣ | ٤.٠٠٣      |                            |    |     |
| ٠.٠٥          | ٢.١٨٥                      | ٢.١٨٨ | ٢.١٩٢ | ٢.١٩٦ | ٢.٢٠٣ | ٢.٢١٠ | ٢.٢١٩ | ٢.٢٣٠ | ٢.٢٤٦ | ٢.٢٧٠ | ٢.٣٠٩ | ٢.٣٤٨ | ٤.٠٠٠      |                            |    | ١٠٠ |
| ٠.٠١          | ٢.٢٣٦                      | ٢.٢٤٣ | ٢.٢٥١ | ٢.٢٥٩ | ٢.٢٦٩ | ٢.٢٨٢ | ٢.٢٩٩ | ٢.٣٢٠ | ٢.٣٤١ | ٢.٣٦٨ | ٢.٣٩٦ | ٢.٤٠١ | ٤.٠٠١      |                            |    |     |
| ٠.٠٥          | ٢.١٨٣                      | ٢.١٨٦ | ٢.١٩٠ | ٢.١٩٥ | ٢.٢٠١ | ٢.٢٠٨ | ٢.٢١٧ | ٢.٢٢٩ | ٢.٢٤٤ | ٢.٢٦٨ | ٢.٣٠٧ | ٢.٣٤٦ | ٤.٠٠٠      |                            |    | ١٢٥ |
| ٠.٠١          | ٢.٢٣٣                      | ٢.٢٤٠ | ٢.٢٤٧ | ٢.٢٥٦ | ٢.٢٦٥ | ٢.٢٧٩ | ٢.٢٩٥ | ٢.٣١٧ | ٢.٣٤٧ | ٢.٣٩٤ | ٢.٤٠٩ | ٢.٤١٨ | ٤.٠٠٩      |                            |    |     |
| ٠.٠٥          | ٢.١٨٢                      | ٢.١٨٥ | ٢.١٨٩ | ٢.١٩٤ | ٢.٢٠٠ | ٢.٢٠٧ | ٢.٢١٦ | ٢.٢٢٧ | ٢.٢٤٣ | ٢.٢٦٧ | ٢.٣٠٦ | ٢.٣٤٥ | ٤.٠٠٠      |                            |    | ١٥٠ |
| ٠.٠١          | ٢.٢٣٠                      | ٢.٢٣٧ | ٢.٢٤٤ | ٢.٢٥٣ | ٢.٢٦٢ | ٢.٢٧٦ | ٢.٢٩٢ | ٢.٣١٤ | ٢.٣٤٤ | ٢.٣٩١ | ٢.٤٠٦ | ٢.٤١٥ | ٤.٠٠٦      |                            |    |     |
| ٠.٠٥          | ٢.١٨٠                      | ٢.١٨٣ | ٢.١٨٧ | ٢.١٩٢ | ٢.١٩٨ | ٢.٢٠٥ | ٢.٢١٤ | ٢.٢٢٦ | ٢.٢٤١ | ٢.٢٦٥ | ٢.٣٠٤ | ٢.٣٤٣ | ٤.٠٠٠      |                            |    | ٢٠٠ |
| ٠.٠١          | ٢.٢٢٨                      | ٢.٢٣٤ | ٢.٢٤١ | ٢.٢٥٠ | ٢.٢٦٠ | ٢.٢٧٣ | ٢.٢٩٠ | ٢.٣١١ | ٢.٣٤١ | ٢.٣٨٨ | ٢.٤٠٣ | ٢.٤١٢ | ٤.٠٠٢      |                            |    |     |
| ٠.٠٥          | ٢.١٧٨                      | ٢.١٨١ | ٢.١٨٥ | ٢.١٩٠ | ٢.١٩٦ | ٢.٢٠٣ | ٢.٢١٢ | ٢.٢٢٣ | ٢.٢٣٩ | ٢.٢٦٢ | ٢.٣٠١ | ٢.٣٤٠ | ٤.٠٠٠      | ٤٠٠                        |    |     |
| ٠.٠١          | ٢.٢٢٣                      | ٢.٢٢٩ | ٢.٢٣٧ | ٢.٢٤٦ | ٢.٢٥٥ | ٢.٢٦٩ | ٢.٢٨٥ | ٢.٣٠٦ | ٢.٣٢٦ | ٢.٣٨٢ | ٢.٤٠٧ | ٢.٤١٦ | ٤.٠٠٦      |                            |    |     |
| ٠.٠٥          | ٢.١٧٦                      | ٢.١٨٠ | ٢.١٨٤ | ٢.١٨٩ | ٢.١٩٥ | ٢.٢٠٢ | ٢.٢١٠ | ٢.٢٢٢ | ٢.٢٣٨ | ٢.٢٦١ | ٢.٣٠٠ | ٢.٣٣٩ | ٤.٠٠٠      | ١٠٠٠                       |    |     |
| ٠.٠١          | ٢.٢٣٠                      | ٢.٢٣٦ | ٢.٢٤٣ | ٢.٢٥٢ | ٢.٢٦١ | ٢.٢٧٦ | ٢.٢٩٢ | ٢.٣١٤ | ٢.٣٤٤ | ٢.٣٩٠ | ٢.٤٠٥ | ٢.٤١٤ | ٤.٠٠٤      |                            |    |     |
| ٠.٠٥          | ٢.١٧٥                      | ٢.١٧٩ | ٢.١٨٣ | ٢.١٨٨ | ٢.١٩٤ | ٢.٢٠١ | ٢.٢٠٩ | ٢.٢٢١ | ٢.٢٣٧ | ٢.٢٦٠ | ٢.٢٩٩ | ٢.٣٣٨ | ٤.٠٠٠      | ٥٠٠                        |    |     |
| ٠.٠١          | ٢.٢١٨                      | ٢.٢٢٤ | ٢.٢٣٢ | ٢.٢٤١ | ٢.٢٥١ | ٢.٢٦٤ | ٢.٢٨٠ | ٢.٣٠٢ | ٢.٣٣٢ | ٢.٣٧٨ | ٢.٤٠٣ | ٢.٤١٢ | ٤.٠٠٢      |                            |    |     |

### مستويات الدلالة الاحصائية للنسبة الفئوية

| مستوى الدلالة | د . ح . التباين الكبير |       |       |       |       |       |       |       |       |       |       | درجات حرية | نسبة ف |                        |
|---------------|------------------------|-------|-------|-------|-------|-------|-------|-------|-------|-------|-------|------------|--------|------------------------|
|               | ١٢                     | ١١    | ١٠    | ٩     | ٨     | ٧     | ٦     | ٥     | ٤     | ٣     | ٢     |            |        | ١                      |
| ٠.٠٥          | ١.٠٩٥                  | ١.٠٩٨ | ٢.٠٢٢ | ٢.٠٢٧ | ٢.٠١٣ | ٢.٠٢٠ | ٢.٠٢٩ | ٢.٠٤٠ | ٢.٠٥٦ | ٢.٠٧٩ | ٢.٠١٨ | ٤.٠٠٢      | ٥٠     | د . ح . التباين الكبير |
| ٠.٠١          | ٢.٠٥٦                  | ٢.٠٦٢ | ٢.٠٧٠ | ٢.٠٧٨ | ٢.٠٨٨ | ٢.٠٩٢ | ٢.٠٩٨ | ٢.١٠٤ | ٢.١١٢ | ٢.١٢٠ | ٢.١٢٨ | ٤.٠٠٦      |        |                        |
| ٠.٠٥          | ١.٠٩٣                  | ١.٠٩٧ | ٢.٠٠٠ | ٢.٠٠٥ | ٢.٠١١ | ٢.٠١٨ | ٢.٠٢٧ | ٢.٠٣٨ | ٢.٠٥٤ | ٢.٠٧٨ | ٢.٠١٧ | ٤.٠٠٢      | ٥٥     |                        |
| ٠.٠١          | ٢.٠٥٣                  | ٢.٠٥٩ | ٢.٠٦٦ | ٢.٠٧٥ | ٢.٠٨٥ | ٢.٠٩٨ | ٢.١٠٥ | ٢.١١٣ | ٢.١٢٨ | ٢.١٣٦ | ٤.٠٠١ |            |        |                        |
| ٠.٠٥          | ٤.٠٩٢                  | ١.٠٩٥ | ١.٠٨٩ | ٢.٠٠٤ | ٢.٠١٠ | ٢.٠١٧ | ٢.٠٢٥ | ٢.٠٣٧ | ٢.٠٥٢ | ٢.٠٧٦ | ٢.٠١٥ | ٤.٠٠٠      | ٦٠     |                        |
| ٠.٠١          | ٢.٠٥٠                  | ٢.٠٥٦ | ٢.٠٦٣ | ٢.٠٧٢ | ٢.٠٨٢ | ٢.٠٩٥ | ٢.١٠٢ | ٢.١١٤ | ٢.١٢٥ | ٢.١٣٤ | ٤.٠٠٨ |            |        |                        |
| ٠.٠٥          | ١.٠٩٠                  | ١.٠٩٤ | ١.٠٩٨ | ٢.٠٠٢ | ٢.٠٠٨ | ٢.٠١٥ | ٢.٠٢٤ | ٢.٠٣٦ | ٢.٠٥١ | ٢.٠٧٥ | ٢.٠١٤ | ٣.٩٩٩      | ٦٥     |                        |
| ٠.٠١          | ٢.٠٤٧                  | ٢.٠٥٤ | ٢.٠٦١ | ٢.٠٧٠ | ٢.٠٧٩ | ٢.٠٩٣ | ٢.٠٩٩ | ٢.١٠٦ | ٢.١١٣ | ٢.١٢٢ | ٤.٠١٥ |            |        |                        |
| ٠.٠٥          | ١.٠٨٩                  | ١.٠٩٣ | ١.٠٩٧ | ٢.٠٠١ | ٢.٠٠٧ | ٢.٠١٤ | ٢.٠٢٣ | ٢.٠٣٥ | ٢.٠٥٠ | ٢.٠٨٤ | ٢.٠١٣ | ٢.٠٩٨      | ٧٠     |                        |
| ٠.٠١          | ٢.٠٤٥                  | ٢.٠٥١ | ٢.٠٥٩ | ٢.٠٦٧ | ٢.٠٧٧ | ٢.٠٩١ | ٢.٠٩٧ | ٢.١٠٤ | ٢.١١٠ | ٢.١١٨ | ٤.٠١٢ |            |        |                        |
| ٠.٠٥          | ١.٠٨٨                  | ١.٠٩١ | ١.٠٩٥ | ١.٠٩٩ | ٢.٠٠٥ | ٢.٠١٢ | ٢.٠٢١ | ٢.٠٣٢ | ٢.٠٤٨ | ٢.٠٧٢ | ٢.٠١١ | ٢.٠٩٦      | ٨٠     |                        |
| ٠.٠١          | ٢.٠٤١                  | ٢.٠٤٨ | ٢.٠٥٥ | ٢.٠٦٤ | ٢.٠٧٤ | ٢.٠٨٧ | ٢.٠٩٤ | ٢.١٠٥ | ٢.١١٦ | ٢.١٢٤ | ٤.٠١٨ |            |        |                        |
| ٠.٠٥          | ١.٠٨٥                  | ١.٠٨٨ | ١.٠٩٢ | ١.٠٩٧ | ٢.٠٠٢ | ٢.٠١٠ | ٢.٠١٩ | ٢.٠٣٠ | ٢.٠٤٦ | ٢.٠٧٠ | ٢.٠٠٩ | ٢.٠٩٤      | ١٠٠    |                        |
| ٠.٠١          | ٢.٠٣٦                  | ٢.٠٤٣ | ٢.٠٥١ | ٢.٠٥٩ | ٢.٠٦٩ | ٢.٠٨٢ | ٢.٠٩٩ | ٢.١٠٦ | ٢.١١٦ | ٢.١٢٨ | ٤.٠٢٦ |            |        |                        |
| ٠.٠٥          | ١.٠٨٣                  | ١.٠٨٦ | ١.٠٩٠ | ١.٠٩٥ | ٢.٠٠١ | ٢.٠٠٨ | ٢.٠١٧ | ٢.٠٢٩ | ٢.٠٤٤ | ٢.٠٦٨ | ٢.٠٠٧ | ٢.٠٩٢      | ١٢٥    |                        |
| ٠.٠١          | ٢.٠٣٣                  | ٢.٠٤٠ | ٢.٠٤٧ | ٢.٠٥٦ | ٢.٠٦٥ | ٢.٠٧٩ | ٢.٠٩٥ | ٢.١٠٧ | ٢.١١٧ | ٢.١٢٤ | ٤.٠٣٨ |            |        |                        |
| ٠.٠٥          | ١.٠٨٢                  | ١.٠٨٥ | ١.٠٨٩ | ١.٠٩٤ | ٢.٠٠٠ | ٢.٠٠٧ | ٢.٠١٦ | ٢.٠٢٧ | ٢.٠٤٣ | ٢.٠٦٧ | ٢.٠٠٦ | ٢.٠٩١      | ١٥٠    |                        |
| ٠.٠١          | ٢.٠٣٠                  | ٢.٠٣٧ | ٢.٠٤٤ | ٢.٠٥٣ | ٢.٠٦٢ | ٢.٠٧٦ | ٢.٠٩٢ | ٢.١٠٤ | ٢.١١٤ | ٢.١٢١ | ٤.٠٤٠ |            |        |                        |
| ٠.٠٥          | ١.٠٨٠                  | ١.٠٨٣ | ١.٠٨٧ | ١.٠٩٢ | ٢.٠٠٥ | ٢.٠١٤ | ٢.٠٢٦ | ٢.٠٣٦ | ٢.٠٤١ | ٢.٠٦٥ | ٢.٠٠٤ | ٢.٠٨٩      | ٢٠٠    |                        |
| ٠.٠١          | ٢.٠٢٨                  | ٢.٠٣٤ | ٢.٠٤١ | ٢.٠٥٠ | ٢.٠٦٠ | ٢.٠٧٣ | ٢.٠٩٠ | ٢.١٠١ | ٢.١١١ | ٢.١٢٨ | ٤.٠٥١ |            |        |                        |
| ٠.٠٥          | ١.٠٧٨                  | ١.٠٨١ | ١.٠٨٥ | ١.٠٩٠ | ٢.٠٠٦ | ٢.٠١٣ | ٢.٠٢٢ | ٢.٠٣٩ | ٢.٠٥٤ | ٢.٠٧٢ | ٢.٠٠٢ | ٢.٠٨٦      | ٤٠٠    |                        |
| ٠.٠١          | ٢.٠٢٣                  | ٢.٠٢٩ | ٢.٠٣٧ | ٢.٠٤٦ | ٢.٠٥٥ | ٢.٠٦٩ | ٢.٠٨٥ | ٢.٠٩٦ | ٢.١٠٦ | ٢.١٢٣ | ٤.٠٦٦ |            |        |                        |
| ٠.٠٥          | ١.٠٧٦                  | ١.٠٨٠ | ١.٠٨٤ | ١.٠٨٩ | ٢.٠٠٥ | ٢.٠١٢ | ٢.٠٢٢ | ٢.٠٣٨ | ٢.٠٥١ | ٢.٠٧٠ | ٢.٠٠٠ | ٢.٠٨٥      | ١٠٠٠   |                        |
| ٠.٠١          | ٢.٠٢٠                  | ٢.٠٢٦ | ٢.٠٣٤ | ٢.٠٤٣ | ٢.٠٥٣ | ٢.٠٦٦ | ٢.٠٨٢ | ٢.٠٩٤ | ٢.١٠٤ | ٢.١٢٠ | ٤.٠٧٦ |            |        |                        |
| ٠.٠٥          | ١.٠٧٥                  | ١.٠٧٩ | ١.٠٨٣ | ١.٠٨٨ | ٢.٠٠٤ | ٢.٠١١ | ٢.٠٢١ | ٢.٠٣٧ | ٢.٠٥٠ | ٢.٠٦٩ | ٢.٠٠٩ | ٢.٠٨٤      | ∞      |                        |
| ٠.٠١          | ٢.٠١٨                  | ٢.٠٢٤ | ٢.٠٣٢ | ٢.٠٤١ | ٢.٠٥١ | ٢.٠٦٤ | ٢.٠٨٠ | ٢.٠٩٢ | ٢.١٠٢ | ٢.١١٨ | ٤.٠٨٤ |            |        |                        |

### استخراج قيمة «ف» من الجدول :

ويمكن استخراج قيمة «ف» من الجدول الخاص بذلك على النحو الآتي :

أ - نبحث عن درجة حرية التباين الكبير في المكان الخاص بذلك في الجدول (١ - ٥٠٠) أي في الأعمدة .

ب - نبحث عن درجة حرية التباين الصغير في المكان الخاص بذلك في الجدول (الجدول) (١ - ٢٤) أي في الصفوف .

ج - نبحث عن الخلية التي تتلاقى عندها كل من درجة حرية التباين الكبير ودرجة حرية التباين الصغير ونجد أن بهذه الخلية درجتان العليا وتمثل قيمة «ف» عن مستوى ٠,٠٥ ، والسفلى وتمثل قيمة «ف» عند مستوى ٠,٠١ .

هـ - وفي مثالنا السابق نجد أن الخلية التي تلتقي عندها درجة حرية التباين الكبير وهي ٢ ودرجة حرية التباين الصغير وهي ٩ هي الخلية التي تصل فيها قيمة «ف» عند مستوى ٠,٠٥ = ٤,٢٦ وعند مستوى ٠,٠١ = ٨,٠٢ .

### أمثلة وتمارين محلولة

١ - أحسب هل هناك فرقاً له دلالة إحصائية بين المجموعات الأربع الآتية .

| أ | ب | ج | د |
|---|---|---|---|
| ٥ | ٥ | ٢ | ٣ |
| ٥ | ٣ | ٢ | ٣ |
| ٨ | ٧ | ٢ | ٣ |

٢ - طبق باحث استبياناً للاتجاهات على ثلاث مجموعات من الطلبة في كليات مختلفة فكانت درجاتهم كما يلي أحسب هل هناك فرق دال في اتجاهاتهم .

| أ  | ب | ج |
|----|---|---|
| ٧  | ٤ | ٢ |
| ١٠ | ٦ | ٢ |
| ١٠ | ٧ | ٣ |
| ١١ | ٩ | ٧ |
| ١٢ | ٩ | ٦ |

### حل التمرين الأول

| أ        | ب  | ج | د |
|----------|----|---|---|
| ٥        | ٥  | ٢ | ٣ |
| ٥        | ٣  | ٢ | ٣ |
| ٨        | ٧  | ٢ | ٣ |
| مجم = ١٨ | ١٥ | ٦ | ٩ |
| م = ٦    | ٥  | ٢ | ٣ |

$$م . عام = \frac{٣+٢+٥+٦}{٤} = ١٦ = ٤$$

١ - حساب مجموع مربع انحراف القيم عن المتوسط العام (التباين

العام)

$$\begin{aligned} & ^2(1-) + ^2(1+) + [^2(4+) ^2(1+) + ^2(1+)] = \\ & ^2(1-) \times [^2(2-) + ^2(2-) + ^2(2-)] + [^2(3+) + \\ & + [4 + 4 + 4] [9 + 1 - 1 + 1] + [16 + 1 + 1] = [^2(1-) + ^2(1-) + \\ & . 44 = 3 + 12 + 11 + 18 = [1 + 1 + 1] \end{aligned}$$

٢ - حساب مجموع مربع انحراف متوسطات المجموعات عن المتوسط العام  $\times$  ن (أي حساب التباين الكبير بين المجموعات)  $= 3(2+)^2 = 1 \times 3 + 4 \times 3 + 1 \times 3 + 4 \times 3 = 2(1-)^2 + 2(2-)^2 + 2(1+)^2 + 30 = 3 + 12$ .

٣ - حساب مجموع مربع انحراف قيم كل مجموعة عن متوسطها (أي حساب التباين الصغير داخل المجموعات)  $= [2(-)^2 + 1(-)^2 + 1(-)^2] + [(صفر)^2 + 2(+)^2 + 2(-)^2 + (صفر)^2] + [(صفر)^2 + (صفر)^2 + (صفر)^2] + [4 + 1 + 1] + [صفر + 4 + صفر] + [صفر + صفر + صفر]$ .

٤ - حساب درجات الحرية :

أ - حساب درجة التباين الكبير بين المجموعات = عدد المجموعات -  $3 = 1 - 4 = 1$

ب - حساب درجة حرية التباين الصغير داخل المجموعات = ن - ١  $+ 2 = 1 - 1 - 3 + 1 - 3 - 3 + 1 - 3 = 1 - 4$  ن + ١ - ٣ ن + ١ - ٢ ن + ٢  $. 8 = 2 + 2 + 2$

ج - درجات الحرية الكلية = عن القيم - ١  $. 11 = 1 - 12 = 1$

٥ - ويتم حساب قيمة «ف» كما يلي :

أ - التباين الكبير (بين المجموعات)  $10 = \frac{30}{4}$

ب - التباين الصغير (داخل المجموعات)  $1,75 = \frac{14}{8}$

ج - «نسبة ف»  $5,7 = \frac{1}{1,75}$

الدلالة : بالكشف عن قيمة «نسبة ف» في الجدول السابق في العمود



الثالث أي عند درجة حرية التباين الكبير ٣ وفي الصف الثامن أي عند درجة التباين الصغير ٨ نجد أن الخلية التي تلتقي عندها هاتين الدرجتين من درجات الحرية هي الخلية التي يكون مستوى ٠,٠٥ عندها مساوياً ٢٤,٧ والتي يكون مستوى ٠,٠١ عندها مساوياً ٠٧,٥٩ وعلى هذا الأساس نجد أن «نسبة ف» في مثالنا هذا لها دلالة عند ٠,٠٥ لأنها أن من تلك القيمة الموجودة في الجدول وهي ٤,٠٨ وليس لها دلالة عند ٠,٠١ لأنها أقل من القيمة الموجودة في الجدول عندها ويه ٧,٥٩.

### حل التمرين الثاني

| أ        | ب  | ج  |
|----------|----|----|
| ٧        | ٤  | ٢  |
| ١٠       | ٦  | ٢  |
| ١٠       | ٧  | ٣  |
| ١١       | ٩  | ٧  |
| ١٢       | ٩  | ٦  |
| مجموع ٥٠ | ٣٥ | ٢٠ |

$$م: مجموعات = ١٠ = ٤$$

$$م: عام = \frac{٢١}{٣} = \frac{٤ + ٧ + ١٠}{٣}$$

١ - حساب مجموع مربع انحراف القيم من المتوسط العلم (التباين

العام).

$$\begin{aligned}
 &= [(صفر) + (٣ +) + (٣) + (٤) + (٥)] + [(٣ -) + (١ -) + (صفر) + (٢) + (٢ +) + (٥ -)] \\
 &+ [(٥ -) + (٤ -) + (صفر) + (١ -)] + [١ + صفر + ٤ + ٤ + ٩] \\
 &= ١٤٤ = ٦٧ + ١٨ + ٥٩
 \end{aligned}$$

٢ - حساب مجموع مربع انحراف متوسط المجموعات عن المتوسط العام (التباين الكبير) =  $5(3+) + 5(صفر) + 5(3-) = 5 \times 9 \times 5 = 5 + صفر + 45 + 45 = 90$ .

٣ - حساب مجموع مربع انحراف قيم المجموعات عن متوسطها (التباين الصغير) =  $[5(3-) + 5(صفر) + 5(صفر) + 5(1+)] + [5(2-)] + [5(1-) + 5(2-) + 5(2-)] + [5(2+) + 5(2+) + 5(صفر) + 5(1-)] + [5(2+) + 5(3+)] + [5(2+) + 5(3+) + 5(صفر) + 5(صفر) + 5(صفر) + 5(1+)] = 14 + 18 + 22 = 54$ .

٤ - حساب درجة الحرية كما يلي :

أ - حساب درجة حرية التباين الكبير بين المجموعات =  $3 - 1 = 2$ .

ب - حساب درجة حرية التباين الصغير داخل المجموعات =  $5 - 1 = 4$   
 $12 = 4 + 4 + 4 = 1 - 5 + 1 - 5$

ج - حساب درجة الحرية الكلية =  $15 - 1 = 14$ .

٥ - حساب قيمة «نسبة ف» كما يلي :

أ - حساب التباين الكبير =  $\frac{90}{4} = 22.5$

ب - حساب التباين الصغير =  $\frac{54}{12} = 4.5$

ح - قيمة حساب نسبة ف =  $\frac{22.5}{4.5} = 5$

٦ - حساب الدلالة = بالكشف في جدول قيم «ت» نجد أن قيمة «ت» المستخرجة من المثال لها دلالة عند مستوى ٠,٠١

## خامساً

### المقارنة الزوجية

#### بين المتوسطات في تحليل التباين

قدم توكي Tukey (١٩٥٣) اختباراً سماه Hsd «اختصاراً لـ: Honestly significant test وذلك للمقارنة بين كل متوسطين وللكشف عن الدلالة بينهما. ويكون الفرق دالاً بين المتوسطين إذا كان الفرق بين المتوسطين مساوياً أو يزيد عن قيمة Hsd والتي تحسب عن طريق المعادلة الآتية:

الخطأ المعياري للفرق بين المتوسطات من خلال التباين داخل المجموعات أو:

$$HSD = \sqrt{\frac{\text{مربع التباين داخل المجموعات}}{q}}$$

حيث  $q =$  العدد في أحد المجموعات.

١ - في المثال الأخير السابق حله (التمرين الثاني) كانت قيمة التباين داخل المجموعات (التباين الصغير) ٤,٥ والعدد في كل مجموعة ٥. وبذلك تكون قيمة:

$$HSD = \sqrt{\frac{4,5}{5}} = \sqrt{0,9} = 0,9487$$

٢ - في المثال السابق (التمرين الثاني ضمن الأمثلة والتمارين المحلولة) درجة حرية التباين الصغير = ١٢. نقوم بالبحث في جداول دلالة اختبار «ت» المقابلة لدرجة حرية ١٢ عند مستوى ٠,٠١، ٠,٠٥، وهي تساوي في هذا المثال ٢,١٢ عند ٢,٩٢، عند ٤,٠١، عند ٠,٠٠١.

٣ - نقوم بعد ذلك بضرب قيمة Hsd (٢,٠١) السابقة في كل قيمة من قيم «ت» السابقة عند مستويات الدلالة الثلاثة وهي :

$$أ - \text{ضرب قيمة Hsd في قيمة «ت» عند } ٠,٠٥ = ٢,٠١ \times ٢,١٢ = ٤,٢٦١$$

$$ج - \text{ضرب قيمة Hsd في قيمة «ت» عند } ٠,٠٠١ = ٢,٠١ \times ٤,٠١ = ٨,٠٦٠$$

٤ - نقوم بعد ذلك بحساب الفروق بين المتوسطات الثلاثة وهي :

$$أ - \text{الفرق بين متوسط المجموعة أ والمجموعة ب} = ١٠ - ٧ = ٣.$$

$$ب - \text{الفرق بين متوسط المجموعة أ والمجموعة ج} = ١٠ - ٤ = ٦.$$

$$ج - \text{الفرق بين متوسط المجموعة ب والمجموعة ج} = ٧ - ٤ = ٣.$$

٥ - بالنظر للفروق بين المتوسطات في (٤) وبالنظر لضرب قيمة Hsd في كل قيمة من قيم «ت» في (٣) نجد أن الفرق بين المتوسط في المجموعة أ والمجموعة ج يساوي ٦ وهو أكبر من قيمة ضرب Hsd في قيمة «ت» عند مستويين للدلالة ٠,٠٥ ، ٠,٠١

٦ - هناك فرق دال عند مستوى ٠,٠١ بين متوسط أ ومتوسط ج

( عن : Runyon. fundamentals of behavioral statistics, second )

(édition, addison Wesley London, 1973, p. 223.

ويذكر مؤلف الكتاب السابق أن أدوارد Edwards في كتابه :

Statistical methods for Behavioral Sciences, New York 1968.

قد قام بتقديم عرض لاختبار بارتلت Bartlett عن تجانس التباينات .

(\*) وكذلك بضرب قيمة HSD في قيمة «ت» عند مستوى ٠,٠١ = ٢,٠١ × ٢,٩٢ = ٥,٨٦٩.

$$١ - \frac{\sqrt{\frac{\text{التباين داخل المجموعات}}{\text{العدد في المجموعات}}}}{\sqrt{\text{العدد في المجموعات}}} = \text{الخطأ المعياري}$$

٢- تحسب الفجوة الدالة = قيمة الخطأ المعياري في رقمين ثابتين هما  
١,٤١ ، ١,٩٦ .

٣- إذا كانت قيمة أحد الفروق بين متوسطات المجموعات (كما في ٤ السابقة) مساوياً أو يزيد عن الفجوة الدالة كان الفرق بين هذين المتوسطين دالاً .

## ثالثاً

### المقاييس اللابارامترية Non-parametric Measurement

مقدمة : من المعروف أننا نستخدم اختبار «ت» T. test لمعرفة الفروق بين متوسط مجموعتين وذلك إذا كان التوزيع اعتدالياً. أما إذا كان عدد العينة صغيراً والتوزيع غير اعتدالي Non-parametric فإن استخدام الأساليب البارامترية (اختبار «ت» والمتوسطات) يصبح مضللاً. ولذلك فإن الأساليب اللابارامترية هي التي تمكننا في هذه الحالة من المقارنة بين العينات التي على هذا النحو، وحساب الفروقات الدالة بينها، وذلك دون افتراض اعتدالية التوزيع في العينات الأصلية Populations ويطلق على هذه الأساليب: الأساليب اللابارامترية أو الأساليب المستقلة التوزيع Non-parametric or Distribution Free. كما أن هناك أساليب لابارامترية أساسية مثل: اختبار الوسيط واختبار مجموع الرتب وسنركز هنا على اختبار الوسيط والذي يستخدم في المجموعات المستقلة مثل ريف حضر، أو ذكور إناث، وعلى اختيار مجموع الرتب أيضاً.

#### (١) اختبار الوسيط

#### The Median test

مثال : أراد باحث نفسي إكلينيكي اختبار أثر أحد الأدوية المهدئة على رعشة اليد، فأعطى الدواء لـ ١٤ أربعة عشر مريضاً نفسياً (مجموعة تجريبية) ثم اختار ١٨ ثمانية عشر مريضاً متساويين مع المرضى الذين أعطوا الدواء في

السن والجنس وأعطوا دواءً آخر مضرًا لليد واعتبرت هذه المجموعة ضابطة (مجموعة ضابطة).

ولقد تم قياس الرعشة باختبار ثبات اليد. ويتضح فيما يلي درجات المجموعتين.

المجموعة الضابطة (ن = ١٨)      المجموعة التجريبية (ن = ١٤)

|    |    |
|----|----|
| ٤٨ | ٥٣ |
| ٦٥ | ٣٩ |
| ٦٦ | ٦٣ |
| ٣٨ | ٣٦ |
| ٣٦ | ٤٧ |
| ٤٥ | ٥٨ |
| ٥٩ | ٤٤ |
| ٥٣ | ٣٨ |
| ٥٨ | ٥٩ |
| ٤٢ | ٣٦ |
| ٧٠ | ٤٢ |
| ٧١ | ٤٣ |
| ٦٥ | ٤٦ |
| ٤٦ | ٤٦ |
| ٥٥ |    |
| ٦١ |    |
| ٦٢ |    |
| ٥٣ |    |

وخطوات حساب الدلالة بين درجات المجموعتين في المثال السابق باستخدام اختبار الوسيط كما يأتي :

١ - اعتبار المجموعتين مجموعة واحدة وليس بينهما فرق (الفرض الصفرى) .

٢ - ترتيب درجات المجموعتين ترتيباً تنازلياً أو تصاعدياً .

٣ - تحديد الوسيط على أساس أنه القيمة الوسطى ، بحيث أن عدد القيم التي قبله تساوي عدد القيم التي بعده ، وفي حالة وجود أكثر من قيمتين وسيطتين يتم جمعهما وأخذ متوسطهما . والوسيط في مثالنا هذا يساوي ٤٩,٥ .

٤ - يتم حساب انحراف الدرجة في كل مجموعة على حدة عن الوسيط ويوضع علامة (+) أمام الدرجة إذا كانت تنحرف انحرافاً موجباً عن الوسيط، وعلامة (-) أمام الدرجة إذا كانت تنحرف انحرافاً سالباً عن الوسيط كما يلي :



| المجموعة الضابطة |          | المجموعة التجريبية |          |
|------------------|----------|--------------------|----------|
| ن = ١٨           |          | ن = ١٤             |          |
| (العلامة)        | (القيمة) | (العلامة)          | (القيمة) |
| -                | ٤٨       | +                  | ٥٣       |
| +                | ٦٥       | -                  | ٣٩       |
| +                | ٦٦       | +                  | ٦٣       |
| -                | ٣٨       | -                  | ٣٦       |
| -                | ٣٦       | -                  | ٤٧       |
| -                | ٤٥       | +                  | ٥٨       |
| +                | ٥٩       | -                  | ٤٤       |
| +                | ٥٣       | -                  | ٣٨       |
| +                | ٥٨       | +                  | ٥٩       |
| -                | ٤٢       | -                  | ٣٦       |
| +                | ٧٠       | -                  | ٤٢       |
| +                | ٧١       | -                  | ٤٣       |
| +                | ٦٥       | -                  | ٤٦       |
| -                | ٤٦       | -                  | ٤٦       |
| +                | ٥٥       |                    |          |
| +                | ٦١       |                    |          |
| +                | ٦٢       |                    |          |
| +                | ٥٣       |                    |          |

٥- إذا وجد أن قيمة من القيم تكون مساوية للوسيط فإن معنى ذلك أن الفرق بينها وبينه ستكون مساوية للصفر، وبما أن هذه القيمة أي الصفر لا يمكن أن تصنف في فئة + أو - فيتم شطبها من القيم.

٦- يتم بعد ذلك تحديد عدد العلامات السالبة وعدد العلامات الموجبة في كل مجموعة وهي كما يلي في المثال السابق :

| المجموعة      | +  | -  |
|---------------|----|----|
| (١) التجريبية | ٤  | ١٠ |
| (٢) الضابطة   | ١٢ | ٦  |

٧- يعد جدول آخر  $٢ \times ٢$  يحدد فيه عدد العلامات الموجبة في كل مجموعة وفي المجموعتين ، وعدد العلامات السالبة في كل مجموعة وفي المجموعتين وذلك على النحو الآتي :

| مجموعات بح      | بح              | أعلى من | أقل من  | المجموعات عادة |
|-----------------|-----------------|---------|---------|----------------|
|                 |                 | الوسيط  | الوسيط  |                |
|                 |                 | +       | -       |                |
| (أ + ب)         | ١٤              | ٤ (ب)   | ١٠ (م)  | (٢) ضابطة      |
|                 | ١٨              | ١٢ (د)  | ٦ (ح)   |                |
| (أ × ب × ج × د) | ٣٢              | ١٦      | ١٦      | بح             |
|                 | (أ + ب + ج + د) | (ب + د) | (أ + ح) | مجموعات بح     |

٨- وبعد ذلك يتم تطبيق القانون الآتي :

$$K = \frac{N (A - B - C + D)^2}{(A + B)(C + D)(A + C)(B + D)}$$

حيث أن

N = عدد أفراد المجموعة الكلية (٣٢).

ا = ا أي أن الفرق بين القيم التي تكون بين هذين العمودين لا بد أن تكون موجبة .

- أ د = حاصل ضرب عدد علامات أ × عدد علامات د .
- ب ح = حاصل ضرب عدد علامات ب × عدد علامات ح .
- أ ب = حاصل جمع علامات أ + ب .
- د + ح = حاصل جمع علامات د + ح .
- أ + ح = حاصل جمع علامات أ + ح .
- ب + د = حاصل جمع علامات ب + د .

٩ - وفي حالة وجود تكرارات في الجدول أقل من خمسة تطبيق المعادلة المصححة للمعادلة السابقة على النحو الآتي :

$$\text{كا}^2 \text{ المصححة} = \frac{n \left( \frac{n}{4} - (أ - د - ب + ج) \right)}{(أ + ب) \times (ب + د) \times (أ + ج) \times (د + ح)}$$

حيث أن :

$$\frac{n}{4} = \text{عدد أفراد المجموعة الكلية مقسوماً على } 4 .$$

١٠ - ونظراً لوجود أحد التكرارات الأقل من خمسة بالجدول السابق فإنه يتم تطبيق معادلة كا<sup>٢</sup> المصححة السابقة وذلك على النحو التالي :

$$\text{كا}^2 \text{ المصححة} = \frac{32 \left( \frac{32}{4} - (124 - 120) \right)}{14 \times 18 \times 16 \times 16}$$

$$= \frac{32 \left( \frac{32}{4} - 4 \right)}{64512}$$

$$\text{كا}^2 \text{ المصححة} = \frac{32 (16 - 4)}{64512}$$

$$\text{كا}^2 \text{ المصححة} = \frac{32(80)}{64512}$$

$$\text{كا}^2 \text{ المصححة} = \frac{6400 \times 32}{64512}$$

$$\text{كا}^2 \text{ المصححة} = \frac{204800}{64512}$$

$$\text{كا}^2 \text{ المصححة} = 3,17$$

١١ - يتم بعد ذلك حساب درجة الحرية = عدد المجموعات - ١  
وتساوي في هذا المثال:  $3 - 1 = 2$ .

١٢ - وبالكشف عن قيمة كا<sup>٢</sup> بالجدول عن مستوى ٠,٠١ نجد أنها =  
٦,٦٣ وعند  $0,05 = 3,84$  وذلك أمام درجة الحرية واحد.

١٣ - وبما أن قيمة كا<sup>٢</sup> المستخرجة من مثالنا أقل من القيمتين  
الموجودتين بالجدول الفرق غير دال إحصائياً أي أن لا أثر للدواء على رعشة  
اليد.

يذهب والكر Walker في كتابه Statistical Inference ص ١٠٣ إلى أن  
كا<sup>٢</sup> لا تكون دقيقة مع اختبار الوسيط إذا كان عدد العينة صغيراً في  
المجموعتين.

مثال أن يكون عدد أفراد العينة أقل من ١٠ ويجب هنا البحث عن  
وسيلة مناسبة.

## (٢) اختبار مجموع الرتب

ويستخدم اختبار مجموع الرتب The Sum of Ranks test لاختبار الفرق  
الخاص بأنه لا يوجد فرق دال بين المجموعتين، ويشير ذلك بأنه يتطلب اختبار  
ثنائي الذنب Two-tailed test، بينما الاختبار ذا الذنب الواحد (أو الطرف

الواحد) One-tailed test يعني أن مجموعة أعلى أو منخفضة عن المجموعة الأخرى.

مثال: أراد مدرس أن يكتشف تأثير الواجبات الإضافية في مادة الإنشاء فقسم فصله لقسمين بكل منهما ١٠ عشرة تلاميذ وقد وضع التلاميذ عشوائياً بكل قسم. وقد كانت المجموعة الأولى هي المجموعة التجريبية التي أعطيت واجباً إضافياً، والمجموعة الثانية هي المجموعة الضابطة التي لم تعط واجباً إضافياً. وبعد ثلاثة شهور طبق اختبار في الموضوع على المجموعتين وكان عدد المجموعة التجريبية كما هو ١٠ عشرة بينما نقص من عدد المجموعة الضابطة اثنين بسبب الغياب والمرض. وفيما يلي درجات المجموعتين ورتبتهما.

| الرتب | درجات المجموعة (٢) | الرتب          | درجات المجموعة (١) |
|-------|--------------------|----------------|--------------------|
| ٨     | ٤١                 | ٩              | ٤٢                 |
| ٤     | ٣٦                 | ١٥             | ٥٣                 |
| ٢     | ٣٣                 | ١٣             | ٤٧                 |
| ١٦    | ٥٥                 | ٥              | ٣٨                 |
| ١٠    | ٤٤                 | ١٢             | ٤٦                 |
| ٣     | ٣٥                 | ١٤             | ٥١                 |
| ١     | ٣٢                 | ١٨             | ٦٢                 |
| ٧     | ٤٠                 | ١٧             | ٦٠                 |
|       |                    | ١١             | ٤٥                 |
|       |                    | ٦              | ٣٩                 |
|       |                    | <u>المجموع</u> | <u>١٢٠</u>         |
|       | <u>المجموع</u>     |                |                    |
|       | ٥١                 |                |                    |

وقد تم في البداية ترتيب الدرجات ١٨ الثمانية عشر ترتيباً تصاعدياً من الصغير للكبير ثم أعطيت لها الرتب الخاصة بها بحيث أعطيت أصغر درجة

الرتبة ١ ، والتي تليها الرتبة ٢ وهكذا وفي المثال نجد أن الدرجة الصغرى هي ٣٢ ولذا أعطيت الرتبة ١ ، والدرجة الكبرى هي ٦٢ ولذا أعطيت الرتبة ١٨ . ثم تم بعد ذلك عزل رتب كل مجموعة على حدة على النحو المبين سابقاً .

ويلاحظ أن مجموع رتب (١) + مجموع رتب (٢) تكون مساوية

$$\frac{ق(١ + ق)}{٣} \cdot \text{مجموع الرتب هو } ١٢٠ + ٥١$$

$$١٧١ = \frac{(١ + ١٨) ١٨}{٣} \text{ والمعادلة السابقة}$$

ويتم حساب قيمة اختبار مجموع الرتب بتطبيق المعادلة الآتية على كل مجموع من مجموع الرتب .

$$\text{اختبار مج ر } ١ = \sqrt{\frac{٢(\text{مجموع رتب } ١) - ١(١ + ن)}{\frac{١(١ + ن) ٢}{٣}}}$$

$$\text{اختبار مج ر } ٢ = \sqrt{\frac{٢(\text{مجموع رتب } ٢) - ٢(٢ + ق)}{\frac{٢(٢ + ق) ١}{٣}}}$$

$$\text{قيمة اختبار مج ر } ١ = \sqrt{\frac{١٠ - ١٢٠ \times ٢}{\frac{١٩ \times ٨ \times ١٠}{٣}}} = \frac{٥٠}{٢٢,٥} = ٢,٢٢$$

$$\text{قيمة اختبار مج ر } ٢ = \sqrt{\frac{٨ - ٥١ \times ٢}{\frac{١٩ \times ٨ \times ١٠}{٣}}} = \frac{٥٠}{٢٢,٥} = ٢,٢٢$$

وبالنظر في الجدول الخاص بمستوى الدلالة لاختبار واحد الذنب ، وثنائي الذنب نجد أن قيمة ٢,٢٢ لها دلالة إحصائية عند درجة الحرية ١٦ . (١٨ - ٢ = ١٦) .

جدول دلالة اختبار  
واحد أو ثنائي الذنب

| مستوى الدلالة لاختبار واحد الذنب  |        |        |        |       |       | د. ح |
|-----------------------------------|--------|--------|--------|-------|-------|------|
| ٠,٠٠٠٥                            | ٠,٠٠٥  | ٠,٠١   | ٠,٠٢٥  | ٠,٠٥  | ٠,١٠  |      |
| مستوى الدلالة لاختبار ثنائي الذنب |        |        |        |       |       |      |
| ٠,٠٠١                             | ٠,٠١   | ٠,٠٢   | ٠,٠٥   | ٠,١٠  | ٠,٢٠  |      |
| ٦٣٦,٦١٩                           | ٦٣,٦٥٧ | ٣١,٨٢١ | ١٢,٧٠٦ | ٦,٣١٤ | ٣,٠٧٨ | ١    |
| ٣١,٥٩٨                            | ٩,٩٢٥  | ٦,٩٦٥  | ٤,٣٠٣  | ٢,٩٢٠ | ١,٨٨٦ | ٢    |
| ٢٢,٩٤١                            | ٥,٨٤١  | ٤,٥٤١  | ٣,١٨٢  | ٢,٣٥٣ | ١,٦٣٨ | ٣    |
| ٨,٦١٠                             | ٤,٦٠٤  | ٣,٧٤٧  | ٢,٧٧٦  | ٢,١٣٢ | ١,٥٣٣ | ٤    |
| ٦,٨٥٩                             | ٤,٠٣٢  | ٣,٣٦٥  | ٢,٥٧١  | ٢,٠١٥ | ١,٤٧٦ | ٥    |
| ٥,٤٥٩                             | ٣,٧٠٧  | ٣,١٤٣  | ٢,٤٤٧  | ١,٩٤٣ | ١,٤٤٠ | ٦    |
| ٥,٤٠٥                             | ٣,٤٩٩  | ٧,٩٩٧  | ٢,٣٦٥  | ١,٨٩٥ | ١,٤١٥ | ٧    |
| ٥,٠٤١                             | ٣,٣٥٥  | ٢,٨٩٦  | ٢,٣٠٦  | ١,٨٦٠ | ١,٣٩٧ | ٨    |
| ٤,٧٨١                             | ٣,٢٥٠  | ٢,٨٢١  | ٢,٢٦٢  | ١,٨٣٣ | ١,٣٨٣ | ٩    |
| ٤,٥٨٧                             | ٣,١٦٩  | ٢,٧٦٤  | ٢,٢٢٨  | ١,٨١٢ | ١,٣٧٢ | ١٠   |
| ٤,٤٣٧                             | ٣,١٠٦  | ٢,٧١٨  | ٢,٢٠١  | ١,٧٩٦ | ١,٣٦٣ | ١١   |
| ٤,٣١٨                             | ٣,٠٥٥  | ٢,٦٨١  | ٢,١٧٩  | ١,٧٨٢ | ٣,٣٥٩ | ١٢   |
| ٤,٢٢١                             | ٣,٠١٢  | ٢,٦٥٠  | ٢,١٦٠  | ١,٧٧١ | ١,٣٥٠ | ١٣   |
| ٤,١٤٠                             | ٢,٩٧٧  | ٢,٦٢٤  | ٢,١٤٥  | ١,٧٦١ | ١,٣٤٥ | ١٤   |
| ٤,٠٧٣                             | ٢,٩٤٧  | ٢,٦٠٢  | ٢,١٣١  | ١,٧٥٣ | ١,٣٤١ | ١٥   |
| ٤,٠١٥                             | ٢,٩٢١  | ٢,٥٨٣  | ٢,١٢٠  | ١,٧٤٦ | ١,٣٣٧ | ١٦   |
| ٣,٩٦٥                             | ٢,٨٩٨  | ٢,٥٦٧  | ٢,١١٠  | ١,٧٤٠ | ١,٣٣٣ | ١٧   |

تابع جدول دلالة اختبار  
واحد أو ثنائي الذنب

| مستوى الدلالة لاختبار واحد الذنب  |       |       |       |       |       | ح.د |
|-----------------------------------|-------|-------|-------|-------|-------|-----|
| ٠,٠٠٠٥                            | ٠,٠٠٥ | ٠,٠١  | ٠,٠٢٥ | ٠,٠٥  | ٠,١٠  |     |
| مستوى الدلالة لاختبار ثنائي الذنب |       |       |       |       |       |     |
| ٠,٠٠١                             | ٠,٠١  | ٠,٠٢  | ٠,٠٥  | ٠,١٠  | ٠,٢٠  |     |
| ٣,٩٢٢                             | ٢,٨٧٨ | ٢,٥٥٢ | ٢,١٠١ | ١,٧٣٤ | ١,٣٣٠ | ١٨  |
| ٣,٨٨٣                             | ٢,٨٦١ | ٢,٥٣٩ | ٢,٠٩٣ | ١,٧٢٩ | ١,٣٢٨ | ١٩  |
| ٣,٨٥٠                             | ٢,٨٤٥ | ٢,٥٢٨ | ٢,٠٨٦ | ١,٧٢٥ | ١,٣٢٥ | ٢٠  |
| ٣,٨١٩                             | ٢,٨٣١ | ٢,٥١٨ | ٢,٠٨٠ | ١,٧٢١ | ١,٣٢٣ | ٢١  |
| ٣,٧٩٢                             | ٢,٨١٩ | ٢,٥٠٨ | ٢,٠٧٤ | ١,٧١٧ | ١,٣٢١ | ٢٢  |
| ٣,٧٦٧                             | ٢,٨٠٧ | ٢,٥٠٠ | ٢,٠٦٩ | ١,٧١٤ | ١,٣١٩ | ٢٣  |
| ٣,٧٤٥                             | ٢,٧٩٧ | ٢,٤٩١ | ٢,٠٦٤ | ١,٧١١ | ١,٣١٨ | ٢٤  |
| ٣,٧٢٥                             | ٢,٧٨٧ | ٢,٤٨٥ | ٢,٠٦٠ | ١,٧٠٨ | ١,٣١٦ | ٢٥  |
| ٣,٧٠٧                             | ٢,٧٧٩ | ٢,٤٧٩ | ٢,٠٥٦ | ١,٧٠٦ | ١,٣١٥ | ٢٦  |
| ٣,٦٩٠                             | ٢,٧٧١ | ٢,٤٧٣ | ٢,٠٥٢ | ١,٧٠٣ | ١,٣١٤ | ٢٧  |
| ٣,٦٧٤                             | ٢,٧٦٢ | ٢,٤٦٧ | ٢,٠٤٨ | ١,٧٠١ | ١,٣١٣ | ٢٨  |
| ٣,٦٥٩                             | ٢,٧٥٦ | ٢,٤٦٢ | ٢,٠٤٥ | ١,٦٩٩ | ١,٣١١ | ٢٩  |
| ٣,٦٤٦                             | ٢,٧٥٠ | ٢,٤٥٧ | ٢,٠٤٢ | ١,٦٩٧ | ١,٣١٠ | ٣٠  |
| ٣,٥٥١                             | ٢,٧٠٤ | ٢,٤٢٣ | ٢,٠٢١ | ١,٦٨٤ | ١,٣٠٣ | ٤٠  |
| ٣,٤٦٠                             | ٢,٦٦٠ | ٣,٣٩٠ | ٢,٠٠٠ | ١,٦٧١ | ١,٢٩٦ | ٦٠  |
| ٣,٣٧٣                             | ٢,٦١٧ | ٢,٣٥٨ | ١,٩٨٠ | ١,٦٥٨ | ١,٢٨٩ | ١٢٠ |
| ٣,٢٩١                             | ٢,٥٧٦ | ٢,٣٢٦ | ١,٩٦٠ | ١,٦٤٥ | ١,٢٨٢ |     |



## رابعاً: حساب دلالة النسبة المئوية

### The Significance of Percentage

تعتمد الكثير من البحوث خاصة التي تتطرق لمجالات قياس الرأي العام والاتجاهات على النسب المئوية. كما أن كثيراً من النتائج التي يتم عرضها في بعض هذه البحوث لا تكون إلا على صورة نسب مئوية لمن أجابوا بنعم على سؤال ما في أحد المجموعات ولمن أجابوا بنعم على نفس السؤال في مجموعة أخرى. أي تكون المقارنة بين النسب المئوية للذكور والنسب المئوية للإناث فيما يختص بمتغير من المتغيرات. وأحياناً تكون المقارنة داخل المجموعة الواحدة بين من أجاب بنعم على السؤال الأول في أحد الاستبيانات ومن أجاب بنعم على السؤال الثاني في نفس الاستبيان، ويكون الهدف في البحث معرفة الدلالة بين النسبتين.

وفي حالة المقارنة بين النسب في المجموعتين يكون حساب الدلالة الإحصائية للنسب غير المرتبطة، وفي حالة المقارنة بين النسب داخل المجموعة الواحدة يكون حساب الدلالة الإحصائية للنسب المرتبطة.

### أولاً - حساب الدلالة للنسب المئوية غير المرتبطة

ونعرض فيما يلي ثلاثة طرق يختار الباحث من بينها أيسرها له في

الخطوات:

مثال : طبق استبيان على مجموعتين أحدهما من المرضى والأخرى من الأسوياء وكان عدد المرضى ٥٠ خمسون ، وعدد الأسوياء ١٠٠ مائة . فأجاب عشرون من المرضى بنعم على أحد أسئلة الاستبيان ، كما أجاب ٤٥ خمسة وأربعون من الأسوياء بنعم على نفس السؤال . فهل هناك فرقاً له دلالة إحصائية بين من أجابوا بنعم في المجموعتين على هذا السؤال .

١ - الطريقة الأولى : وخطواتها ومعادلاتها كما يلي :

١ - نحسب النسبة المئوية لمن أجابوا بنعم في المجموعتين على النحو

الآتي :

أ - النسبة المئوية لمن أجابوا بنعم على السؤال من المرضى :

$$\%٤٠ = ١٠٠ \times \frac{٢٠}{٥٠} =$$

ب - النسبة المئوية لمن أجابوا بنعم على السؤال من الأسوياء :

$$\%٤٥ = ١٠٠ \times \frac{٤٥}{١٠٠} =$$

٢ - نحصل على النسبة المئوية ١ (P1) حسب القانون الآتي :

$$\%١ = \frac{١ \text{ ن} \times \text{النسبة المئوية للمجموعة ١} + ٢ \text{ ن} \times \text{النسبة المئوية للمجموعة ٢}}{٢ \text{ ن} + ١ \text{ ن}}$$

$$\text{وهي في المثال} = \frac{٤٥ \times ١٠٠ + ٤٠ \times ٥٠}{١٠٠ + ٥٠} = \frac{٦٥٠٠}{١٥٠} = \%٤٣,٣$$

٣ - نحصل على النسبة المئوية ٢ (P2) حسب القانون الآتي :

$$P2 = ١٠٠ - \text{النسبة المئوية } \% (١) .$$

وبتطبيق ذلك على المثال السابق :

$$P2 = ١٠٠ - ٤٣,٣ = \%٥٦,٧ (*) .$$

(\*) ثم تقريب النسبتين المئويتين الأولى من ٤٣,٣ إلى والثانية من ٥٦,٧ إلى ٥٧ .

٤ - تحصل على P1P2 حسب القانون الآتي :

$$\sqrt{\left[\frac{1}{1n} + \frac{1}{2n}\right] P1 \times P2} = P1 P2$$

وبتطبيق ذلك على المثال السابق .

$$\sqrt{\left[\frac{1}{100} + \frac{1}{50}\right] 57 \times 43} = P1 P2$$

$$\sqrt{0,01 + 0,02 \times 2451} = P1 P2$$

$$\sqrt{0,03 \times 2451} = P1 P2$$

$$\sqrt{73,53} = P1 P2$$

$$8,57 = P1 P2$$

٥ - يتم بعد ذلك حساب الفرق بين النسبة المئوية أ والنسبة المئوية ب  
وبتطبيق ذلك على المثال السابق أ، ب تكون النتيجة .

$$\text{الفرق بين النسبتين المئويتين أ، ب من الخطوة (١) = } 40 - 48 = 8$$

٦ - يتم بعد ذلك قسمة الناتج من الفرق بين النسبتين المئويتين (في  
الخطوة رقم ٥) على الناتج في P1' P2 (الخطوة رقم ٤) للحصول  
على النسبة المخرجة (اختصاراً لـ: Critical Ratio) وذلك حسب القانون .

$$\frac{\text{الفرق بين النسبتين أ، ب}}{P1 P2} = \text{النسبة المخرجة أو CR}$$

وفي مثالنا السابق نجد أن قيمة CR كما يلي :

$$0,66 = \frac{0}{7,57} = CR$$

٧- تعتبر النتيجة التي في الخطوة السابقة :

أ- دالة عند ٠,٠٥ إذا كانت هذه النتيجة تتراوح بين ١,٩٦ - ٢,٥٧ .

ب- دالة عند ٠,٠١ إذا كانت هذه النتيجة مساوية لـ ٢,٥٨ فما فوق .

٢- الطريقة الثانية : وخطواتها كما يلي :

أ- معادلة النسبة الحرجة لدلالة النسبة المئوية :

$$\frac{\text{نسبة أ - نسبة ب}}{\sqrt{\frac{أ(٢-١٠٠)}{ن} + \frac{ب(١٠٠-ب)}{ن}}} = \text{النسبة الحرجة}$$

حيث أ = النسبة الأولى .

حيث ب = النسبة الثانية .

حيث ن ١ = العينة الأولى .

حيث ن ٢ = العينة الثانية .

ب- وحساب النسبة الحرجة من نفس المثال السابق .

$$\frac{٤٠ - ٤٥}{\sqrt{\frac{(٤٠ - ١٠٠) ٤٠}{٢٠} + \frac{(٤٥ - ١٠٠) ٤٥}{٤٥}}} = \text{النسبة الحرجة}$$

$$\frac{0}{\sqrt{\frac{(٦٠) ٤٠}{٢٠} + \frac{(٥٥) ٤٥}{٤٥}}} =$$

$$\frac{0}{\sqrt{١٢٠ + ٥٥}} =$$

$$\frac{0}{\sqrt{١٧٥}} =$$

$$0,37 = \frac{0}{13,22} =$$

وهي غير دالة إحصائياً حسب الخطوة رقم (٧) في الطريقة الأولى .

٣ - الطريقة الثالثة : وخطواتها كالآتي :

$$أ - نسبة من أجاب بنعم من المرضى = \frac{20}{50} \times 100 = 40\% = 0,40$$

$$ب - نسبة من أجاب بنعم من الأسوياء = \frac{45}{100} \times 100 = 45\% = 0,45$$

ج - عدد من أجاب بنعم من المرضى والأسوياء للمجموع الكلي =

$$0,43 = \frac{65}{150} = \frac{45 + 20}{100 + 50} = \frac{\text{عدد نعم في (٢) + عدد نعم في (١)}}{ن + ١ ن}$$

د - الفرق بين النسبة الكلية وواحد صحيح =  $0,57 = 0,43 - 1$

$$هـ - الخطأ المعياري لتقدير التباين = \sqrt{\frac{0,57 \times 45 + 20}{100 \times 50}}$$

$$= \sqrt{\frac{0,57}{5000}}$$

$$= \sqrt{0,000114}$$

$$= 0,0107$$

و - القيمة الناتجة =  $\frac{(2)\% - (1)\%}{\text{الخطأ المعياري}}$

$$= \frac{0,40 - 0,45}{0,0107}$$

$$= \frac{-0,05}{0,0107}$$

$$= -4,67$$

وهي غير دالة حسب الخطوة رقم (٧) في الطريقة الأولى .

تعليق على الطرق الثلاثة : اتفقت في أن النسبة الحرجة غير دالة بصرف النظر عن قيمتها .

استخدام النسبة الحرجة في المقارنة بين درجات فردين .

ويذكر ماكنمار في كتابه :

Mc nemar, G; Psychological Statistical, New York, Johnwisley & Son  
1957, 53-154.

أنه يمكن استخدام النسبة الحرجة (C. R.) للمقارنة بين درجة فردين (النجم والنبوذ في الاختبار السوسيو متري مثلاً) باستخدام المعادلة الآتية :

$$\text{النسبة الحرجة} = \frac{\text{درجة الشخص أ} - \text{درجة الشخص ب}}{\frac{2}{\sqrt{r-1}} \times \frac{2}{\sqrt{r-1}}}$$

حيث ع = الانحراف المعياري للمجموعة التي ينتمي لها أ ، ب على الاختبار .

ر = معامل ثبات الاختبار .

٢ - رقم ثابت (فردين أ ، ب) .

## ثانياً : حساب الدلالة للنسبة المئوية المرتبطة

كما سبق الإشارة فإنه يمكن حساب دلالة النسب المئوية داخل المجموعة الواحدة بالنسبة لمتغير من المتغيرات .

مثال : أجابت مجموعة من ٢٥٠ من الطلبة على السؤالين الآتيين في أحد الاستبيانات .

س (١): هل تحدث لك حالات من الصداع؟

أجاب ١٥٠ بنعم

وأجاب ١٠٠ بلا.

س (٢) هل تخاف من التواجد في الأماكن المزدحمة؟

أجاب ١٢٥ بنعم.

وأجاب ١٢٥ بلا.

الحل:

١ - يتم وضع النتائج للسؤالين في الجدولين التاليين للتبسيط.

الجدول رقم (١)

| س (١)<br>س (٢) | لا  | نعم | مج  |
|----------------|-----|-----|-----|
| نعم            | ٢٥  | ١٠٠ | ١٢٥ |
| لا             | ٧٥  | ٥٠  | ١٢٥ |
| مج             | ١٠٠ | ١٥٠ | ٢٥٠ |

وقد تم توزيع النتائج الداخلية في المربعات من مجاميع الأعمدة والصفوف كالآتي:

١ - طرح مجموع العمود الأول من مجموع الصف الأول للحصول

$$\text{على القيمة الأولى بالصف الأول } ١٢٥ - ١٠٠ = ٢٥.$$

٢ - طرح القيمة التي تم الحصول عليها من الخطوة السابقة من

مجموع الصف الأول للحصول على من أجابوا بنعم على السؤالين ١٢٥ -

$$١٠٠ = ٢٥.$$

٣ - طرح القيمة الناتجة في الخطوة الأولى من مجموع العمود الأول للحصول على من أجابوا بلا على السؤال الأول وبلا على السؤال الثاني ١٠٠  
 - ٢٥ = ٧٥ .

٤ - طرح القيمة الناتجة في الخطوة الثانية من مجموع العمود الثاني للحصول على من أجابوا بنعم على السؤال الأول وأجابوا بلا على السؤال الثاني ١٥٠ - ١٠٠ = ٥٠

### الجدول رقم (٢)

٢ - يتم حساب النسبة المئوية للنتائج التي في الجدول رقم (١) كالآتي :

| المجموع | نعم     | لا      | س (١) / س (٢) |
|---------|---------|---------|---------------|
| %٥٠     | %٤٠ (أ) | %١٠ (ب) | نعم           |
| %٥٠     | %٢٠ (ج) | %٣٠ (د) | لا            |
| %١٠٠    | %٦٠     | %٤٠     | المجموع       |

٣ - يتم حساب معامل ارتباط فاي Ph C. من الجدول السابق (أنظر في الجزء الخاص بالإحصاء التطبيقي كيفية حساب معامل ارتباط فاي) وقيمة المثال السابق = ٠,٤١ .

٤ - يتم حساب النسب المئوية للإجابات كما يلي :

أ - النسبة المئوية (١) لمن أجاب بنعم على السؤال الأول =  $\frac{١٥٠}{٢٥٠} \times ١٠٠ = ٦٠\%$

ب - النسبة المئوية (٢) لمن أجاب بنعم على السؤال الثاني =  $١٠٠ \times \frac{١٢٥}{٢٥٠} = ٥٠\%$



٥ - يتم عمل تقدير للنسبة بحساب المتوسط للنسبة (١)، (٢) في الخطوة السابقة كالاتي:

$$\text{متوسط النسبة} = 60 + 50 = 110 = 2 - 55 \text{ (النسبة أ).}$$

٦ - يتم طرح متوسط النسبة من ١٠٠ = ٥٥ - ١٠٠ = ٤٥ (النسبة ب).

٧ - يتم حساب الفرق بين النسبتين (١)، (٢) في الخطوة رقم (٤).  
٦٠ - ٥٠ = ١٠.

٨ - تطبق معادلة النسبة المئوية الآتية.

$$\text{دلالة النسبة المئوية} = \sqrt{\frac{\text{الفرق بين النسبتين (١)، (٢)} \times 2 \times \frac{\text{النسبة (أ)} \times \text{النسبة (ب)}}{\text{المجموع الكلي (ن)}}}{(1 - \text{معامل الارتباط})}}$$

$$٩ - \text{دلالة النسبة المئوية} = \sqrt{\frac{0,50 - 0,60}{(1 - 0,41) \frac{45 \times 55 \times 2}{250}}}$$

$$= \sqrt{\frac{0,10}{(0,59) 19,8}}$$

$$= \frac{0,10}{0,034}$$

$$= 2,94$$

الفرق يكون دالاً عند ٠,٠٥ لو بلغت قيمته من ١,٩٦ إلى ٢,٥٧، ويكون دالاً عند ٠,٠١ لو بلغت قيمة ٢,٥٨ فما فوق.

## خامساً

### التحليل العاملي

### Factor Analysis

مقدمة: يمكن القول بأن التحليل العاملي يمثل نهاية رحلة المطاف في الإحصاء التي بين أيدينا اليوم، كما يمكن أن يعتبر التحليل العاملي في نفس الوقت قمة التطبيق العملي للمنهج الاستقرائي أي من الجزئيات إلى الكليات.

ويمكن أن نتعقب ذلك المشوار للكشف عن أهداف التحليل العاملي منذ بداية الدروس الأولى للإحصاء حتى استخدام التحليل العاملي في هذا الجزء من الكتاب. فعندما يجري الباحث دراسته على عينة من الأفراد يطبق فيها اختباراً لقياس الذكاء أو الشخصية فإنه يحصل على عدد من الدرجات مماثل لحجم عينة بحثه، وهذه الدرجات في ذلك الإطار المبدئي الذي تكون عليه لا تمثل ولا تعني شيئاً، أي لا يمكن أن يستنتج منها الباحث شيئاً يفيد تساؤلات بحثه أو فروض دراسته لأنها لا تمثل إلا جزئيات مستقلة متباعدة عن بعضها البعض. وبإجراء أولى خطوات المعالجات الإحصائية وهي تصنيف تلك الدرجات في جدول تكراري تتبلور وتتكشف حقيقة المنهج الاستقرائي الذي يتضح في أن هذا الكم الهائل من الدرجات والذي قد يبلغ المئات أو الآلاف أو أكثر من ذلك يبدأ في التجمع في عدد قليل من الدرجات في ذلك الجدول التكراري، كما أنه بإجراء مزيد من المعالجات الإحصائية كحساب المتوسط أو الوسيط نجد أن قيمة واحدة قد حلت محل مئات أو

آلاف الدرجات . وبهذه الصورة يتبين أن المنهج الاستقرائي يأخذ شكل التدرج الهرمي في قاعدة مليئة بدرجات كثيرة (جزئيات) إلى قيمة تقف عليها مجموعة صغيرة من القيم (الكليات) .

هذا إذا كان الباحث بصدد متغير واحد أما إذا كان الباحث يدرس أكثر من متغير في وقت واحد لدى مجموعة من الأشخاص فإن الجزئيات التي لديه يتسع حجمها ويكبر . فإذا كانت عينة الدراسة ألف طالب مثلاً ففي حالة المتغير الواحد أي إذا طبق اختباراً للذكاء تكون لديه ألف درجة (١٠٠٠) ، أما في حالة وجود متغيرين كأن يطبق اختباراً لقياس الذكاء وآخر لقياس القدرة اللفظية فسيكون لديه درجتين لهذين الاختبارين بالنسبة لكل طالب ويكون المجموع الكلي لعدد درجات الاختبارين بالنسبة للألف طالب هو ألفان من الدرجات . ويزيد هذا العدد إلى ثلاثة آلاف درجة لو أضاف الباحث إلى الاختبارات اختباراً ثالثاً وهكذا . وبحساب العلاقة بين اختبار الذكاء واختبار القدرة اللفظية يحصل الباحث على قيمة واحدة متمثلة في معامل الارتباط ، فبدلاً من ألفي درجة كل ألف منها مستقل عن الآخر صار في يد الباحث قيمة واحدة هي معامل الارتباط والتي تكشف عن علاقة الذكاء بالقدرة العددية .

ويتضح مما سبق أنه باستخدام المنهج الاستقرائي تحولت الألفي درجة (جزئيات) إلى معامل ارتباط واحد (كليات) . وبالطبع ليس هذا هو نهاية المطاف لأنه بزيادة عدد المتغيرات أو الاختبارات المطبقة على أفراد العينة يزداد عدد معاملات الارتباط والتي يشكل في نهاية الأمر ما يسمى بمصفوفة الارتباط Correlation Matri .

هدف التحليل العاملي : يهدف التحليل العاملي إلى تحليل مجموعة من معاملات الارتباط إلى عدد أقل من العوامل . فمثلاً إذا كان لدينا

معاملات ارتباط لسته اختبارات فمعنى ذلك أننا لدينا ستة متغيرات ترتبط بعضها ببعض ويبلغ مجموع هذه الارتباطات ١٥ خمسة عشر معامل ارتباط وذلك باستخدام القانون الآتي:

$$\frac{n \times (n-1)}{2} \text{ (حيث } n = \text{ عدد الاختبارات) .}$$

وبالتعويض عن القانون في المثال السابق نجد النتيجة =

$$15 = \frac{6 \times 5}{2} = \frac{1-6 \times 6}{2}$$

وفي التحليل نحاول رد هذه الارتباطات إلى عدد أقل من العوامل والتي تكون عادة ثلاثة عوامل أو عاملين على أكثر تقدير وذلك في حالة المثال السابق أيضاً وذلك على أساس أن كل اختبارين أو ثلاثة يمثلون عاملاً واحداً. ويوضح كلامنا السابق المثال الآتي:

«إذا طبقنا ٤٢ اثنين وأربعين اختباراً على مائتين من الأفراد فإنه سيكون لدينا ٨٤٠٠ (٤٢ × ٢٠٠) ثمانية آلاف وأربعمائة درجة. ودرجات الأفراد هذه اختصارها إلى ٧٨٠ معامل ارتباط حسب المعادلة السابقة.

$$\frac{42 \times 42}{2} = \frac{41 \times 42}{2} = \frac{1590}{2} = 861 \text{ وإذا حللنا هذه المعاملات تحليلاً}$$

عملياً فإننا نصل أربعة عشر عاملاً حيث يتفق العاملون أن كل ثلاثة اختبارات تمثل عاملاً واحداً فيكون في مثالنا  $\frac{42}{3} = 14$  تقريباً.

مثال تطبيقي:

يمكن أن نأخذ مجال الاختيار المهني كمثال للإجراءات التي تسبق استخدام التحليل العاملي ويستفاد بها في البحوث استفادة تطبيقية وذلك على النحو الآتي:

١- تبدأ الدراسة العملية لقدرة من القدرات المطلوبة في اختيار العمال

لمهنة من المهن بعدة فروض يتضمن كل فرض من هذه الفروض ناحية معينة من نواحي تلك القدرة (كالقدرة الحركية مثلاً تتضمن نواحي مثل : مهارة . الأصابع - مهارة اليد - زمن الرجوع . . . إلخ) . والتي كشف تحليل العمل Job Analysis لهذه الوظيفة أو المهنة أنه متطلب للقيام بواجباتها .

٢ - بعد ذلك يتم تحديد الاختبارات اللازمة لقياس تلك النواحي من نواحي القدرة ويكون ذلك بتمثيل كل ناحية بثلاثة اختبارات . فالقدرة العددية لا بد أن يمثلها ثلاثة اختبارات مثل الجمع والضرب . . . إلخ . ونتائج التحليل هي التي ستحدد أكثر الاختبارات تشعباً بهذه القدرة .

٣ - بعد تقنين الأدوات السابقة بإعداد التعليمات والزمن والثبات والصدق الخاص بها يتم تطبيقها على عينة من الأفراد لا يقل عددهم عن مائتين وذلك لكي نصل إلى عوامل لها دلالة كما يذهب المتخصصون . ولكن من المعتقد أن هذا الشرط لا يمكن الوفاء به وخاصة عند دراسة بعض الظواهر المرضية كما أنه من ناحية أخرى يمكن للباحث أخذ عينات تتمشى مع ظروفه وإمكانياته من حيث العدد وعليه بعد ذلك التأكد من دلالة الارتباطات المستخرجة .

٤ - تطبيق الاختبارات على العينة ثم يتم إيجاد معاملات الارتباط بين بعضها البعض فلو فرض أننا لدينا ٦ ست اختبارات طبقت على ثلاث أفراد على النحو الآتي :

| ق | (١)   | (٢)  | (٣)  | (٤) | (٥)     | (٦)    |
|---|-------|------|------|-----|---------|--------|
| ق | ذاكرة | عددي | لفظي | رجع | معلومات | مفردات |
| ١ | ٢     | ٤    | ٤    | ٢   | ٤       | ١      |
| ٢ | ٣     | ٣    | ٥    | ١   | ٣       | ٣      |
| ٣ | ٣     | ٢    | ٣    | ٢   | ٥       | ٥      |

فإننا نحصل على معاملات الارتباط الآتية :

- أولاً: معاملات الارتباط بين ١، ٢ ثم ١، ٣ ثم ١، ٤ ثم ١، ٥ ثم ١، ٦ .  
ثانياً: معاملات الارتباط بين ٢، ٣ ثم ٢، ٤ ثم ٢، ٥ ثم ٢، ٦ .  
ثالثاً: معاملات الارتباط بين ٣، ٤ ثم ٣، ٥ ثم ٣، ٦ .  
رابعاً: معاملات الارتباط بين ٤، ٥ ثم ٤، ٦ .  
خامساً: معاملات الارتباط بين ٥، ٦ .

وتمثل معاملات الارتباط السابقة مصفوفة الارتباط الأولى والتي يتم من خلالها الحصول على العوامل المختلفة .

٥ - إن أبسط الاختبارات ما كان مشعباً بعامل واحد وأعقدها ما كان مشعباً بأكثر من عامل ، ولما كان التحليل العائلي يهدف إلى فصل العوامل فإن الاختبارات المعقدة تعوق عملية الفصل وتعوق أيضاً عملية تدوير المحاور .

### نظرية العاملين في التحليل العائلي (\*)

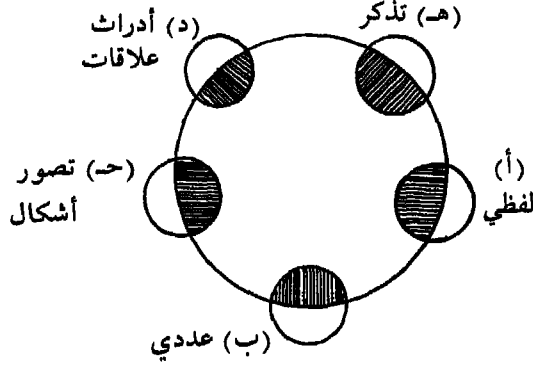
- ١ - نبتت بذور التحليل العائلي من بحوث وتجارب سبيرمان عام ١٩٠٤ حيث قام بحساب الارتباطات بين الاختبارات وانتهى منها إلى النتيجةين :  
أ - وجود عامل عام يدخل في جميع العمليات العقلية ويرمز له بالرمز "g" اختصاراً لـ : General Factor .  
ب - وجود عامل خاص تختلف فيه كل عملية عن الأخرى ويرمز له بالرمز "S" اختصاراً لـ : Specific Factor .

ولقد سمى سبيرمان نظريته بنظرية ذات العاملين "Two Factor T" ويبين الشكل التالي هذا الكلام (\*) .

---

(\*) أنظر بالتفصيل : د . سيد محمد خيرى - الإحصاء في البحوث النفسية والتربوية والاجتماعية - النهضة العربية - ١٩٧٠ .

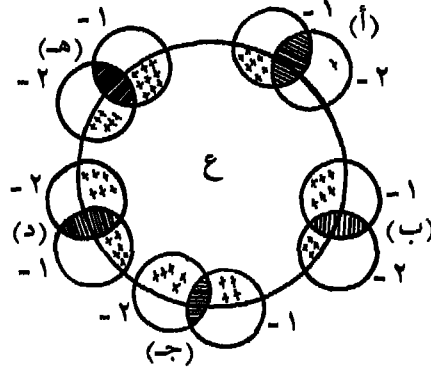
### شكل يبين نظرية العاملين لسبيرمان



فنجند في الشكل السابق أن مجموعة القدرات : (أ) اللفظي ، (ب) العددي ، (جـ) تصور الأشكال ، (د) إدراك علاقات ، (هـ) تذكر ، تشترك جميعاً في وجود عامل (ع) يربط بينها وبين بعضها البعض (يصور ذلك في الشكل الجزء داخل الدائرة) . كما أن كل قدرة من هذه القدرات تختلف في جانب منها عن باقي القدرات (يصور ذلك في الشكل أجزاء الدوائر الصغيرة خارج الدائرة الكبيرة) .

٢ - وفي عام ١٩٠٩ قام سيرل بيرت Cyril Burt بإعادة ما أجراه سبيرمان من تجارب في محاولة منه لاختبار ما توصل إليه فوجد أن معالجته الإحصائية والتي تمخضت عنها الكثير من معاملات الارتباط يعكس أن ما استخدمه من اختبارات يظهر على هيئة مجموعات يربط بين كل مجموعة عوامل مشتركة بين المجموعة الواحدة بالإضافة إلى العامل العام المشترك بين جميع الاختبارات . كما في الشكل الآتي :

### شكل يبين العوامل المشتركة لدى بيرت



ويتضح من الشكل السابق أن بين كل مجموعة من مجموعات الاختبارات أ، ب، ج، د، هـ توجد عوامل مشتركة بينها وبين بعضها البعض بالإضافة إلى وجود عامل عام يربط بين الاختبارات (٢، ١) جميعاً في (ع).

٣- وبعد ذلك جاء ثرستون صاحب الطريقة المركزية فذهب إلى أن العمليات العقلية تنقسم إلى مجموعة من العوامل المستقلة، واستبعد في بادئ أمره وجود عامل عام إلا أنه عاد واعترف بوجوده.

(١)

### طريقة الجمع البسيط

### Simple Summation M.

١- صاحب هذه الطريقة من طرق التحليل العملي عالم النفس المعروف سيرل بيرت. ويذهب إلى أنه بعد الحصول على معاملات الارتباط بين الاختبارات المختلفة يتم معرفة تشبع Saturation هذه الاختبارات بالعامل العام وذلك على النحو الآتي:

(\*) أنظر المرجع السابق أيضاً.



| ٤                | ٣     | ٢     | ١     |   |
|------------------|-------|-------|-------|---|
| (٤٠١)            | (٣٠١) | (٢٠١) | (١٠١) | ١ |
| (٤٠٢)            | (٣٠٢) | (٢٠٢) | ١٠٢   | ٢ |
| (٤٠٣)            | (٣٠٣) | ٢٠٣   | ١٠٣   | ٣ |
| <del>(٤٠٤)</del> | ٣٠٤   | ٢٠٤   | ١٠٤   | ٤ |

١ - والخطوة السابقة تمثل تكوين مصفوفة الارتباط الأولى .

٢ - والخطوة الثانية تتمثل في جمع الصفوف على النحو الآتي :

$$١٠٤ + ١٠٣ + ١٠٢ + ١٠١ = \text{مجموع العمود الأول}$$

$$٢٠٤ + ٢٠٣ + ٢٠٢ + ٢٠١ = \text{مجموع العمود الثاني}$$

$$٣٠٤ + ٣٠٣ + ٣٠٢ + ٣٠١ = \text{مجموع العمود الثالث}$$

$$٤٠٤ + ٤٠٣ + ٤٠٢ + ٤٠١ = \text{مجموع العمود الرابع}$$

٣ - والخطوة الثالثة تتمثل أيضاً في جمع مجموع الأعمدة ويكون ذلك

على النحو الآتي :

مجموع العمود الأول + مجموع العمود الثاني + مجموع العمود الثالث = العمود

الرابع .

٤ - بعد ذلك يتم إيجاد الجذر التربيعي لمجموع الأعمدة المستخرج

من الخطوة رقم ٣ .

٥ - وتتمثل الخطوة الأخيرة في قسمة مجموع كل عمود على الجذر

التربيعي ويكون خارج القسمة هو تشعب كل اختبار بالعامل العام . ويجب أن

يكون مجموع التشعبات بالعامل العام مساوياً لقيمة الجذر التربيعي .

مثال :

فيما يلي مصفوفة الارتباط الأولى بين مجموع مكونة من ستة اختبارات

تمثل مجموعة من القدرات .

« جدول مصفوفة الارتباط الأولى »

| (٦)      | (٥)   | (٤)    | (٣)   | (٢)   | (١)   |   |
|----------|-------|--------|-------|-------|-------|---|
| متشابهات | فهم   | مفردات | ذاكرة | عددي  | لفظي  |   |
| ٠,٦٥     | ٠,١٥  | ٠,٥٩   | ٠,٢٢  | ٠,١٣  | (,٦٥) | ١ |
| ٠,٠٩     | ٠,٦٠  | ٠,٠٥   | ٠,٤٥  | (,٦٠) | ,١٣   | ٢ |
| ٠,١١     | ٠,٥٦  | ٠,١٤   | (,٥٦) | ,٤٥   | ,٢٢   | ٣ |
| ٠,٧١     | ٠,١٢  | (,٧١)  | ,١٤   | ,٠٥   | ,٥٩   | ٤ |
| ٠,٢٢     | (,٦٠) | ,١٢    | ,٥٦   | ,٦٠   | ١٥    | ٥ |
| (,٧١)    | ,٢٢   | ,٧١    | ,١١   | ,٠٩   | ,٦٥   | ٦ |

١ - ويلاحظ أن مصفوفة الارتباط السابقة لكي تكون صالحة لعمل المعالجات الإحصائية الخاصة بالتحليل العاملي عليها فلا بد من إكمالها وذلك بوضع الارتباطات الموجودة في الصف الأول في العمود الأول على النحو الآتي: معامل الارتباط بين ١، ٢ يوضع في العمود في مكان ٢، ١ ومعامل الارتباط بين ١، ٣ يوضع في العمود في مكان ٣، ١ وهكذا باقي العمود ثم العمود الثاني . . . إلخ .

٢ - كما أنه بالإضافة إلى ذلك نجد أن الخلية القطرية Diagonal Cell وهي معامل الارتباط بين الاختبار ونفسه (١، ١، ٢ - ٢، ٣ - ٣، ٤ - ٤، ٥ - ٥، ٦ - ٦) قد تركت خالية. ويرى بيرت Burt ملاً هذه الخلايا بمعاملات تقديرية، أما ثرستون Thurstone فيرى ملاً هذه الخلايا بأكبر معامل ارتباط في الصف أو في العمود .

١ - وفيما يلي مصفوفة الارتباط السابقة نجد استكمالها ووضع معاملات الخلية القطرية حسب طريقة ثرستون لسهولة عن طريقة بيرت .

| ٦      | ٥      | ٤      | ٣      | ٢      | ١      |         |
|--------|--------|--------|--------|--------|--------|---------|
| ٠,٦٥   | ٠,١٥   | ٠,٥٩   | ٠,٢٢   | ٠,١٣   | (٠,٦٥) | ١       |
| ٠,٠٩   | ٠,٦٠   | ٠,١٥   | ٠,٤٥   | (٠,٦٠) | ٠,١٣   | ٢       |
| ٠,١١   | ٠,٥٦   | ٠,١٤   | (٠,٥٦) | ٠,٤٥   | ٠,٢٢   | ٣       |
| ٠,٧١   | ٠,١٢   | (٠,٧١) | ٠,١٤   | ٠,١٥   | ٠,٥٩   | ٤       |
| ٠,٢٢   | (٠,٦٥) | ٠,١٢   | ٠,٥٦   | ٠,٦٠   | ٠,١٥   | ٥       |
| (٠,٧١) | ٠,٢٢   | ٠,٧١   | ٠,١١   | ٠,٠٩   | ٠,٥    | ٦       |
| (٢,٤٩) | ٢,٢٥   | ٢,٣٢   | ٢,٠٤   | ١,٩٢   | ٢,٣٩ = | مجموع ر |

$$\text{مجموع ر} = ١٣,٤١ \sqrt{\text{مجموع ر}} = \sqrt{١٣,٤١} = ٣,٦٦$$

$$\text{التشبع بالعامل العام} = ٠,٦٥ + ٠,٥٢ + ٠,٥٦ + ٠,٦٣ + ٠,٦١ + ٠,٦٨$$

وفيما يلي الاختبارات وتشبعاتها على العامل العام الأول.

| رقم الاختبار | الاختبار    | التشبع |
|--------------|-------------|--------|
| ١            | لفظي        | ٠,٦٥   |
| ٢            | عددي        | ٠,٥٢   |
| ٣            | حسابي       | ٠,٥٦   |
| ٤            | مفردات      | ٠,٦٣   |
| ٥            | سلاسل أعداد | ٠,٦١   |
| ٦            | متشابهات    | ٠,٦٨   |

ويلاحظ أن مجموع تشبعات العامل العام = ٠,٦٥ + ٠,٥٢ + ٠,٥٦

$$= ٣,٦٥ = ٠,٦٨ + ٠,٦١ + ٠,٦٣ +$$

٢ - وفيما يلي الجدول النظري القائم على أساس تشبعات العامل

الأول.

«جدول نظري قائم على أساس تشبعات العامل الأول»

| التشبعات |        |        |        |        |        |   | رقم الاختبار |  |
|----------|--------|--------|--------|--------|--------|---|--------------|--|
| ٦        | ٥      | ٤      | ٣      | ٢      | ١      |   |              |  |
| ٠,٤٤     | ٠,٤٠   | ٠,٤١   | ٠,٣٦   | ٠,٣٤   | (٠,٤٢) | ١ | (٠,٦٥)       |  |
| ٠,٣٥     | ٠,٣١   | ٠,٣٢   | ٠,٢٩   | (٠,٢٧) | ٠,٣٤   | ٢ | (٠,٥٢)       |  |
| ٠,٣٨     | ٠,٣٤   | ٠,٣٥   | (٠,٣١) | ٠,٢٠   | ٠,٣٦   | ٣ | (٠,٥٦)       |  |
| ٠,٤٣     | ٠,٣٨   | (٠,٤٠) | ٠,٣٥   | ٠,٣٢   | ٠,٤١   | ٤ | (٠,٦٣)       |  |
| ٠,٤١     | (٠,٣٧) | ٠,٣٨   | ٠,٣٤   | ٠,٣١   | ٠,٤٠   | ٥ | (٠,٦١)       |  |
| (٠,٤٦)   | ٠,٤١   | ٠,٤٣   | ٠,٣٨   | ٠,٣٥   | ٠,٤٤   | ٦ | (٠,٦٨)       |  |

ويتم اعداد الجدول النظري السابق كما يلي :

أ - يتم ضرب التشبع على الاختبار الأول في نفسه ويوضع الناتج بين قوسين مكان الخلية القطرية (بين ١، ١) ثم يتم ضرب تشبع نفس الاختبار في تشبع الاختبار الثاني (٠,٦٥ × ٠,٥٢) ويوضع الناتج (٠,٣٤) في ٢، ١ وهكذا باقي الاختبارات .

ب - يتم ضرب تشبع الاختبار الثاني في نفسه أيضاً (٠,٥٢ × ٠,٥٢) ويوضع الناتج بين قوسين في مكان الخلية القطرية (بين ٢، ٢) ثم يتم ضرب تشبع نفس الاختبار في تشبع نفس الاختبار الثالث (٠,٥٦ × ٠,٥٢) ويوضع الناتج (٠,٢٩) في ٣، ٢ وهكذا باقي الاختبارات .

ج - يتم تكرار الخطوة السابقة بالنسبة لباقي تشبعات الاختبارات .

د - يتم وضع الارتباطات التي في الصفوف في الأعمدة كما في الخطوة الأولى في مصفوفة الارتباط الأولى .

٣- وبعد ذلك يتم طرح الجدول النظري من جدول مصفوفة الارتباط الأولى. وذلك بطرح الارتباطات الموجودة في الصف الأول في الجدول النظري من الارتباطات المقابلة لها في الصف الأول من مصفوفة الارتباط الأولى. وهكذا الصف الثاني ثم الصف الثالث . . . إلخ.

وفيما يلي جدول البواقي الناتج من طرح الجدول النظري من مصفوفة الارتباط الأولى.

|   | ٦      | ٥      | ٤      | ٣      | ٢      | ١      |  |
|---|--------|--------|--------|--------|--------|--------|--|
| ١ | ٠,٢١   | ٠,٢٥ - | ٠,١٨   | ٠,١٤ - | ٠,٢١ - | (٠,٢٣) |  |
| ٢ | ٠,٢٦ - | ٠,٢٩   | ٠,٢٧ - | ٠,١٦   | (٠,٣٣) | ٠,٢١ - |  |
| ٣ | ٠,٢٧ - | ٠,٢٢   | ٠,٢١ - | (٠,٢٥) | ٠,١٦   | ٠,١٤ - |  |
| ٤ | ٠,٢٨   | ٠,٢٦ - | (٠,٣١) | ٠,٢١ - | ٠,٢٧ - | ٠,١٨   |  |
| ٥ | ٠,١٩ - | (٠,٢٨) | ٠,٢٦ - | ٠,٢٢   | ٠,٢٩   | ٠,٢٥ - |  |
| ٦ | (٠,٢٥) | ٠,١٩ - | ٠,٢٨   | ٠,٢٧ - | ٠,٢٦ - | ٠,٢١   |  |

«جدول البواقي الناتج من طرح الجدول النظري من مصفوفة الارتباط الأولى».

٤ - وبعد ذلك يتم ترتيب جدول البواقي السابق بحيث يتم وضع الاختبارات ذات البواقي الموجبة الإشارة بجوار بعضها والاختبارات ذات البواقي السالبة الإشارة بجوار بعضها، وذلك كما يتضح في الجدول الآتي:

|        |        |        |        |        |        |   |
|--------|--------|--------|--------|--------|--------|---|
| ٥      | ٣      | ٢      | ٦      | ٤      | ١      |   |
| ٠,٢٥ - | ٠,١٤ - | ٠,٢١ - | ٠,٢١   | ٠,١٨   | ٠,٢٢   | ١ |
| ٠,٢٦ - | ٠,٢١ - | ٠,٢٨ - | ٠,٢٨   | ٠,٣١   | ٠,١٨   | ٤ |
| ٠,١٩ - | ٠,٢٧ - | ٠,٢٦ - | ٠,٢٥   | ٠,٢٨   | ٠,٢١   | ٦ |
| ٠,٢٨   | ٠,١٦   | ٠,٣٣   | ٠,٢٦ - | ٠,٢٨ - | ٠,٢١ - | ٢ |
| ٠,٢٢   | ٠,٢٥   | ٠,١٦   | ٠,٢٧ - | ٠,٢١ - | ٠,١٤ - | ٣ |
| ٠,٢٣   | ٠,٢٢   | ٠,٢٢   | ٠,١٩ - | ٠,٢٦ - | ٠,٢٥ - | ٥ |

«جدول ترتيب البواقي حسب الإشارات».

ويلاحظ أن جدول ترتيب البواقي قد انقسم إلى أربعة أقسام:

- ١ - القسم الأيمن الأعلى وإشاراته موجبة .
- ٢ - القسم الأيمن الأسفل وإشاراته سالبة .
- ٣ - القسم الأيسر الأعلى وإشاراته سالبة .
- ٤ - القسم الأيسر الأسفل وإشاراته موجبة .

كما يلاحظ أيضاً أنه يجمع الصف الأول نجده مساوياً لمجموع العمود الأول . ومجموع الصف أو العمود يساوي صفراً .

٥ - وبعد الخطوة السابقة يتم عمل عكس للإشارات حتى يكون القسم الأيمن للجدول السابق (جدول ترتيب البواقي) موجب الإشارة وفي هذه الحالة يتم عكس إشارات القسم الأيمن الأسفل ليكون كله موجباً . ثم يتم أيضاً عكس إشارات القسم الأيسر الأسفل حتى يصير القسم الأيسر كله سالب الإشارة . وبإتمام هذه الخطوة يمكن استخراج العامل الطائفي (بإجراء نفس الخطوات التي تمت في مصفوفة الارتباط الأولى واستخراج من خلالها العام) ويصبح شكل الجدول كما يلي :

|           |        |        |      |      |        |      |
|-----------|--------|--------|------|------|--------|------|
| ٥         | ٣      | ٢      | ٦    | ٤    | ١      |      |
| ٠,٢٥ -    | ٠,١٤ - | ٠,٢١ - | ٠,٢١ | ٠,١٨ | ٠,٢٢   | ١    |
| ٠,٢٦ -    | ٠,٢١ - | ٠,٢٨ - | ٠,٣٨ | ٠,٣١ | ٠,١٨   | ٤    |
| ٠,١٩ -    | ٠,٢٧ - | ٠,٢٦ - | ٠,٢٥ | ٠,٢٨ | ٠,٢١   | ٦    |
| ٠,٢٨ -    | ٠,١٦ - | ٠,٣٣ - | ٠,٢٦ | ٠,٢٨ | ٠,٢١   | ٢    |
| ٠,٢٢ -    | ٠,٢٥ - | ٠,١٦ - | ٠,٢٧ | ٠,٢١ | ٠,١٤   | ٣    |
| ٠,٢٣ -    | ٠,٢٢ - | ٠,٢٨ - | ٠,١٩ | ٠,٢٦ | ٠,٢٥   | ٥    |
| ١,٤٣ -    | ١,٢٥ - | ١,٥٢ - | ١,٤٥ | ١,٥٢ | ١,٢٢ = | مجمس |
| ٠٠,٠١ - = | ٤,٢٠   | -      | ٤,١٩ | +    |        |      |

$$١,٤٣ + ١,٢٥ + ١,٥٢ + ١,٤٥ + ١,٥٢ + ١,٢٢ \times = (*) \text{مجمس}$$

$$.٢,٨٨ = \sqrt{٨,٣٩} =$$

التشبعات = ٠,٤٨ - ٠,٣٤ - ٠,٥٢ - ٠,٥٠ ٠,٥٢ ٠,٤٢ =

ومن الخطوة السابقة نجد أن تشبعات الاختبارات على النحو الآتي:

| التشبع | الاختبار    | رقم الاختبار* |
|--------|-------------|---------------|
| ٠,٤٢   | لفظي        | ١             |
| ٠,٥٢   | مفردات      | ٤             |
| ٠,٥٠   | متشابهات    | ٦             |
| ٠,٥٢ - | عددي        | ٢             |
| ٠,٤٣ - | حسابي       | ٣             |
| ٠,٤٨ - | سلاسل أعداد | ٥             |

(\*) بصرف النظر عن الإشارة.

٦- ويتم توضيح نتيجة التحليل العاملي بطريقة الجمع البسيط على النحو الآتي:

| رقم | الاختبارات  | التشيع بالعامل العام | العامل القطبي |      |
|-----|-------------|----------------------|---------------|------|
|     |             |                      | +             |      |
| ١-  | لفظي        | ٠,٦٥                 | ٠,٤٢          |      |
| ٢-  | عددي        | ٠,٥٢                 |               | ٠,٥٢ |
| ٣-  | حسابي       | ٠,٥٦                 |               | ٠,٤٣ |
| ٤-  | مفردات      | ٠,٦٣                 | ٠,٥٢          |      |
| ٥-  | سلاسل أعداد | ٠,٦١                 |               | ٠,٤٨ |
| ٦-  | متشابهات    | ٠,٦٨                 | ٠,٥٠          |      |

٧- كما يتم عمل التفسير النفسي للعوامل من خلال البحوث والدراسات السابقة التي تناولت هذه الاختبارات بالدراسة ونجد في الجدول الموجود في (٦) أنه نظراً لأن الاختبارات الستة مشبعة تشبعاً كبيراً بالعامل العام وهذه الاختبارات كلها اختبارات معرفية فهناك احتمال كبير بأن هذا العامل هو الذكاء العام أو القدرة العقلية العامة. أما العامل القطبي فيبدو أن يقسم بطارية الاختبارات إلى قسمين قسم موجب وقسم سالب. يتضمن القسم الموجب مجموعة من الاختبارات ذات طبيعة واحدة أي، تقيس وظائف واحدة ومن نفس النوع. ويتضمن القسم السالب مجموعة أخرى من الاختبارات ذات طبيعة مختلفة عن الاختبارات السابقة.



### تمارين

١ - حلل مصفوفة الارتباط الآتية مستخرجاً العامل العام والعامل

القطبي :

| أ | ب    | ج    | د    | هـ   | و    |
|---|------|------|------|------|------|
|   | ٠,٧٠ | ٠,٢٠ | ٠,٢٠ | ٠,١٠ | ٠,٧٠ |
|   |      | ٠,١٠ | ٠,٥٠ | ٠,٦٠ | ٠,١٠ |
|   |      |      | ٠,٤٠ | ٠,٣٠ | ٠,٣٠ |
|   |      |      |      | ٠,١٥ | ٠,١٥ |

٢ - حلل مصفوفة الارتباط التالية :

| ١ | ٢    | ٣    | ٤    | ٥    | ٦    |
|---|------|------|------|------|------|
|   | ٠,٢٢ | ٠,٧١ | ٠,١١ | ٠,٠٩ | ٠,٦٥ |
|   |      | ٠,١٢ | ٠,٥٦ | ٠,٦  | ٠,١٥ |
|   |      |      | ٠,١٤ | ٠,٠٥ | ٠,٥٩ |
|   |      |      |      | ٠,٤  | ٠,٢  |
|   |      |      |      |      | ٠,١٣ |

(٢)

## الطريقة المركزية

### Centroid Method

تعتبر الطريقة المركزية التي كونها ثرستون (١٩٣٧) من أكثر الطرق شيوعاً واستخداماً في البحوث كما أنها مبنية على الجمع البسيط، وتتطلب مجهوداً أقل في حسابها وفيما يلي خطوات هذه الطريقة:

أ- خطوات حساب التشبعات المركزية الأولى:

١ - تقدر الاشتراكيات على أساس أنها تكون مساوية لأعلى معامل ارتباط للاختبار مع أي متغير آخر في مصفوفة الارتباط بصرف النظر عن الإشارة المصاحبة لأعلى معامل ارتباط في العمود.

٢ - جمع كل عمود جمعاً جبرياً مع حذف قيمة الخلايا القطرية ووضعه في العمود الأول تحت المصفوفة.

٣ - جمع كل صف جمعاً جبرياً مع حذف قيمة الخلية القطرية ووضع المجموع في الصف الأول على يسار المصفوفة ويجب أن يكون هذا المجموع في نهاية كل من الصف والعمود واحداً وهذه وسيلة المراجعة لهذه الخطوة.

٤ - تجميع الاشتراكيات المقدرة لكل متغير على مجموع العمود لهذا المتغير ويوضع في الصف الثاني تحت المصفوفة.

٥ - يتم جمع الصف السابق للحصول على المجموع الكلي لكل القيم الموجودة في الجدول.

٦ - يتم استخراج الجذر التربيعي لهذا المجموع.

٧- يتم قسمة كل قيمة في الصف على الجذر التربيعي للحصول على العامل المركزي الأول والذي يتمثل في القيم الناتجة لهذه الخطوة والتي تم وضعها في الصف الأخير.

٨- كنوع من المراجعة الجزئية ينبغي أن يكون مجموع التشعبات على العامل المركزي مساوياً لقيمة الجذر التربيعي.

٩- وفيما يلي مصفوفة الارتباط الأولى وحساب تشعبات العامل المركزي الأول:

والنتائج التي سنستعرضها في خطوات الطريقة المركزية هي نتائج دراسة الماجستير التي قام المؤلف بإعدادها عام ١٩٦٩ وعنوانها:

«دراسة تجريبية للقدرات النفسية الحركية المتطلبة في مهنة دلفنة الصلب».

ولقد تم في هذه الدراسة إعداد مجموعة من الاختبارات الحركية المقننة والتي أعدت بناء على نتائج تحليل العمل لمهنة الدلفنة بشركة الحديد والصلب بحلوان ثم طبقت على عينة من عمال خط إنتاج الدلفنة (الاسم الشائع الدرفلة) وبعد ذلك أجريت معاملات الارتباط اللازمة بين هذه الارتباطات للتوصل لهدف هذه الدراسة وهو: إعداد مجموعة من الاختبارات الحركية التي تقيس القدرات المتطلبة في هذه المهنة.



## وفيما يلي تشبعات الاختبارات على العامل المركزي الأول :

| رقم | الاختبار           | التشبع | رقم | الاختبار         | التشبع |
|-----|--------------------|--------|-----|------------------|--------|
| ١   | قوة يدين           | ٠,١٥   | ٩   | نقر متسع         | ٠,٤٩   |
| ٢   | مثابرة عضلية يمينى | ٠,٢٠   | ١٠  | زمن رجوع عام.    | ٠,٢٧   |
| ٣   | مثابرة عضلية يسرى  | ٠,٢٦   | ١١  | تتبع تصويب (١)   | ٠,٥٦   |
| ٤   | تميز إدراكي        | ٠,٧١   | ١٢  | تتبع تصويب (٢)   | ٠,٤٧   |
| ٥   | تتبع تميز          | ٠,٥٤   | ١٣  | تصويب (جهاز)     | ٠,٠٩   |
| ٦   | تميز علامات        | ٠,٤١   | ١٤  | ثبات (ورقة وقلم) | ٠,٤٤   |
| ٧   | إدراك اختباري      | ٠,٢٤   | ١٥  | ثبات يد          | ٠,١٤   |
| ٨   | وضع علامات         | ٠,٥٦   | ١٦  | تأزر يدين        | ٠,٠٧   |
|     |                    |        | ١٧  | رأى المشرف       | ٠,١٦   |

### ب - حساب مصفوفة البواقي :

- ١ - يلزم لذلك إعداد جدول للمصفوفة وترقم الأعمدة والصفوف .
- ٢ - توضع كل من التشبعات في العامل الأول (بدون إشارة) فوق الرقم المقابل لكل متغير في العمود وكذلك بالنسبة للصف . وحينما تستخدم تشبعات العامل في حساب البواقي تعتبر كل هذه التشبعات موجبة بصرف النظر عن إشاراتها في مصفوفة العوامل . ويتم ضرب التشبعات بنفس صورة طريقة الجمع البسيط وبهذا يتكون الجدول النظري .
- ٣ - تحسب الارتباطات الباقية بطرح الناتج من تشبعات العامل في العمود والصف بالجدول النظري من الخلية المقابلة في مصفوفة الارتباط الأولى ويوضع الناتج في الخلية المقابلة في مصفوفة البواقي الجديدة (أي تطرح خلايا الجدول الناتج من حساب تشبعات العامل الأول من خلايات

مصفوفة الارتباط خلية خلية وتوضع في تلمكان لها) .

٩ - تعتبر القيم المتبقية في الخلايا القطرية مساوية للقيم السابق تقديرها لهذه الخلايا مطروحاً منها مربع تشبعات العامل على كل متغير .

٥ - ينبغي أن يكون حاصل الجمع الجبري لكل عمود أو صف في مصفوفة الارتباط المتبقية مساوياً للصفر (أو قريب منه نتيجة التقريب في العمليات الحسابية) ويتخذ هذا بمثابة مراجعة جزئية لدقة الحساب .

٦ - ويبدأ من هذه الخطوة عملية استخراج التشبعات للعامل التالي بنفس الطريقة السابقة في استخراج تشبعات العامل الأول من مصفوفة الارتباط الأولى فيما عدا أنه من الضروري عكس بعض المتغيرات وإعادة تقدير الاشتراكيات لكل اختبار في كل مصفوفة من مصفوفات البواقي . ينبغي أن يعاد تقدير الاشتراكيات بوضع أعلى معامل ارتباط متبقي في كل عمود بصرف النظر عن إشارة معامل الارتباط الذي استخدم في تقديره . وهذه الاشتراكيات المعاد تقديرها لن تستخدم إلا في الخطوة رقم (١١) من القسم التالي (ج) عند استخراج تشبعات العامل الثالث .

وفيما يلي جدول بواقي العامل الأول .

|       |   |  |  |  |  |  |  |  |  |  |  |  |  |  |  |  |  |  |  |  |  |  |  |    |    |
|-------|---|--|--|--|--|--|--|--|--|--|--|--|--|--|--|--|--|--|--|--|--|--|--|----|----|
| ١٧    |   |  |  |  |  |  |  |  |  |  |  |  |  |  |  |  |  |  |  |  |  |  |  | ١٧ |    |
| ١٦    |   |  |  |  |  |  |  |  |  |  |  |  |  |  |  |  |  |  |  |  |  |  |  |    | ١٦ |
| ١٥    |   |  |  |  |  |  |  |  |  |  |  |  |  |  |  |  |  |  |  |  |  |  |  |    | ١٥ |
| ١٤    |   |  |  |  |  |  |  |  |  |  |  |  |  |  |  |  |  |  |  |  |  |  |  |    | ١٤ |
| ١٣    |   |  |  |  |  |  |  |  |  |  |  |  |  |  |  |  |  |  |  |  |  |  |  |    | ١٣ |
| ١٢    |   |  |  |  |  |  |  |  |  |  |  |  |  |  |  |  |  |  |  |  |  |  |  |    | ١٢ |
| ١١    |   |  |  |  |  |  |  |  |  |  |  |  |  |  |  |  |  |  |  |  |  |  |  |    | ١١ |
| ١٠    |   |  |  |  |  |  |  |  |  |  |  |  |  |  |  |  |  |  |  |  |  |  |  |    | ١٠ |
| ٩     |   |  |  |  |  |  |  |  |  |  |  |  |  |  |  |  |  |  |  |  |  |  |  |    | ٩  |
| ٨     |   |  |  |  |  |  |  |  |  |  |  |  |  |  |  |  |  |  |  |  |  |  |  |    | ٨  |
| ٧     |   |  |  |  |  |  |  |  |  |  |  |  |  |  |  |  |  |  |  |  |  |  |  |    | ٧  |
| ٦     |   |  |  |  |  |  |  |  |  |  |  |  |  |  |  |  |  |  |  |  |  |  |  |    | ٦  |
| ٥     |   |  |  |  |  |  |  |  |  |  |  |  |  |  |  |  |  |  |  |  |  |  |  |    | ٥  |
| ٤     |   |  |  |  |  |  |  |  |  |  |  |  |  |  |  |  |  |  |  |  |  |  |  |    | ٤  |
| ٣     |   |  |  |  |  |  |  |  |  |  |  |  |  |  |  |  |  |  |  |  |  |  |  |    | ٣  |
| ٢     |   |  |  |  |  |  |  |  |  |  |  |  |  |  |  |  |  |  |  |  |  |  |  |    | ٢  |
| ١     |   |  |  |  |  |  |  |  |  |  |  |  |  |  |  |  |  |  |  |  |  |  |  |    | ١  |
| سجل   |   |  |  |  |  |  |  |  |  |  |  |  |  |  |  |  |  |  |  |  |  |  |  |    |    |
| بجواب |   |  |  |  |  |  |  |  |  |  |  |  |  |  |  |  |  |  |  |  |  |  |  |    |    |
| ١     | - |  |  |  |  |  |  |  |  |  |  |  |  |  |  |  |  |  |  |  |  |  |  |    | ١٧ |
| ٢     |   |  |  |  |  |  |  |  |  |  |  |  |  |  |  |  |  |  |  |  |  |  |  |    | ١٦ |
| ٣     |   |  |  |  |  |  |  |  |  |  |  |  |  |  |  |  |  |  |  |  |  |  |  |    | ١٥ |
| ٤     |   |  |  |  |  |  |  |  |  |  |  |  |  |  |  |  |  |  |  |  |  |  |  |    | ١٤ |
| ٥     |   |  |  |  |  |  |  |  |  |  |  |  |  |  |  |  |  |  |  |  |  |  |  |    | ١٣ |
| ٦     |   |  |  |  |  |  |  |  |  |  |  |  |  |  |  |  |  |  |  |  |  |  |  |    | ١٢ |
| ٧     |   |  |  |  |  |  |  |  |  |  |  |  |  |  |  |  |  |  |  |  |  |  |  |    | ١١ |
| ٨     |   |  |  |  |  |  |  |  |  |  |  |  |  |  |  |  |  |  |  |  |  |  |  |    | ١٠ |
| ٩     |   |  |  |  |  |  |  |  |  |  |  |  |  |  |  |  |  |  |  |  |  |  |  |    | ٩  |
| ١٠    |   |  |  |  |  |  |  |  |  |  |  |  |  |  |  |  |  |  |  |  |  |  |  |    | ٨  |
| ١١    |   |  |  |  |  |  |  |  |  |  |  |  |  |  |  |  |  |  |  |  |  |  |  |    | ٧  |
| ١٢    |   |  |  |  |  |  |  |  |  |  |  |  |  |  |  |  |  |  |  |  |  |  |  |    | ٦  |
| ١٣    |   |  |  |  |  |  |  |  |  |  |  |  |  |  |  |  |  |  |  |  |  |  |  |    | ٥  |
| ١٤    |   |  |  |  |  |  |  |  |  |  |  |  |  |  |  |  |  |  |  |  |  |  |  |    | ٤  |
| ١٥    |   |  |  |  |  |  |  |  |  |  |  |  |  |  |  |  |  |  |  |  |  |  |  |    | ٣  |
| ١٦    |   |  |  |  |  |  |  |  |  |  |  |  |  |  |  |  |  |  |  |  |  |  |  |    | ٢  |
| ١٧    |   |  |  |  |  |  |  |  |  |  |  |  |  |  |  |  |  |  |  |  |  |  |  |    | ١  |

وفيما يلي التشبع على العامل المركزي الثاني والمستخرج من بواقى  
العامل الأول:

| رقم | الاختبار          | التشبع | رقم  | الاختبار       | التشبع |
|-----|-------------------|--------|------|----------------|--------|
| ١ - | قوة يدين          | ٠,١٨ - | ٩ -  | نقر متسع       | ٠,٣٩   |
| ٢ - | مشاركة عضلية يمنى | ٠,٣٨ - | ١٠ - | زمن رجوع عام   | ٠,٢٧   |
| ٣ - | مشاركة عضلية يسرى | ٠,٤٠ - | ١١ - | تتبع تصويب (١) | ٠,٣٩   |
| ٤ - | تمييز إدراكي      | ٠,١٠   | ١٢ - | تتبع تصويب (٢) | ٠,٢٣   |
| ٥ - | تتبع مميز         | ٠,٣٣   | ١٣ - | تصويب          | ٠,٥٥ - |
| ٦ - | تمييز علامات      | ٠,٢٤ - | ١٤ - | ثبات           | ٠,٢١   |
| ٧ - | إدراك اختياري     | ٠,٢٤   | ١٥ - | ثبات يد        | ٠,٣٦ - |
| ٨ - | وضع علامات        | ٠,٢١   | ١٦ - | تأزر يدين      | ٠,١٠ - |
|     |                   |        | ١٧ - | رأى المشرف     | ٠,١٣ - |

جـ- الانعكاس (عكس الإشارات):

إذا كان أي من مجاميع الأعمدة (مع حذف القيم القطرية) في مصفوفة البواقى سلبياً يكون من الضروري أن نعكس إشارات الصفوف والأعمدة المقابلة له في مصفوفة البواقى ويكون هذا هو الحال عادة في كل مصفوفات البواقى في العوامل المركزية والهدف من عملية الانعكاسات هذه هو جعل المجموع الجبري الكلي لكل القيم الموجودة في الجدول موجبة بقدر الإمكان وينبغي أن يكون ذلك بإتباع الخطوات التالية:

- ١ - تجمع الأعمدة ويوضع حاصل جمعها على يسار صف المجاميع .
- ٢ - يختار العمود الذي به أكبر مجموع سلبي وينقل مجموع هذا



العمود في الصف التالي مباشرة مع تغيير إشارته إلى موجبة ويرمز لهذا الصف برقم المتغير المنعكس .

٣- توضع علامة أمام العمود المنعكس وكذلك فوق الصف المقابل له لكي تدل على أن هذا المتغير قد عكس .

٤ - تضاعف قيمة الباقي في الصف المنعكس وبالنسبة للعمود الذي عكس وتغير إشارته وتجمع هذه القيمة على مجموع العمود ثم يدخل المجموع الجديد في الخلية المقابلة في الصف التالي الذي يرمز إليه برقم العمود - المنعكس .

٦ - بعد أن نحصل على كل القيم في هذا الصف الجديد بتلك الطريقة تجمع هذه القيم وإذا كان الحساب صحيحاً فإن مجموع هذا الصف ينبغي أن يكون مساوياً لمجموع الصف السابق مضافاً إليه أربعة أضعاف مجموع العمود الذي سبق عكسه . ويجب أن نتأكد من نتيجة هذه المراجعة بالنسبة لكل صف قبل إجراء الانعكاس التالي .

٦ - إذا كان مجموع من المجاميع الجديدة للأعمدة سلبياً يختار أعلى هذه الأعمدة في المجموع السلبي باعتباره العمود التالي الذي يجب عكسه .

٧ - تكرر العملية الموجودة في الخطوات من ١ - ٤ وذلك باستخدام المجاميع المعدلة للأعمدة في الصف السابق بدلاً من المجاميع الأصلية للأعمدة . ومع هذا فإنه لا تعكس إشارات الأعمدة التي سبق عكسها مرة قبل إضافة القيم المضعفة .

٨ - إذا حدث أثناء عملية الانعكاس أن عكس عمود ما والصف المقابل له أكثر من مرة في نفس المصفوفة فبالنسبة للانعكاس الأول والثالث (أو أي رقم فردي) ينبغي أن تغير إشارة القيمة المضاعفة قبل أن نضيفها إلى

المجموع المعدل للعمود كما في الخطوة رقم (٤) وأما بالنسبة للانعكاس الثاني أو أي رقم زوجي فإن إشارة القيمة المضاعفة تبقى كما هي عند الإضافة .

٩ - يظل الاستمرار في عملية الانعكاس حتى تصبح كل مجاميع الأعمدة صفراً أو إيجابية ويتم في كل صف تطبيق المراجعة المذكورة في الخطوة (٥) .

١٠ - يتم تغيير إشارات القيم في مصفوفة الارتباطات أو مصفوفة البواقي كما يلي :

أ - تعكس إشارات كل القيم في الصفوف المنعكسة التي ليست في الأعمدة المنعكسة .

ب - تعكس إشارات كل القيم في الأعمدة المنعكسة التي ليست في الصفوف المنعكسة .

١١ - نحصل حينئذٍ على التشعبات بالنسبة للعامل التالي بالخطوات السابقة .

١٢ - توضع التشعبات في العمود المخصص لها في مصفوفة تشعبات العوامل المركزية أمام العامل المركزي الثاني .

١٣ - تجدد إشارات التشعبات المركزية كما يلي :

أ - تكون إشارة العامل الذي عكس من واحدة أو عدداً فردياً من المرات عكس إشارته في العامل السابق .

ب - تكون إشارة العامل الذي لم يعكس أو عكس عدداً زوجياً من المرات هي نفس إشارته في العامل السابق .

١٤ - نحصل على مصفوفة البواقي الثانية وما يليها من مصفوفات البواقي بنفس الإجراءات التي استخدمت في الحصول على مصفوفة البواقي الأولى .

١٥ - يمكن أن نحصل على مراجعة لصحة تشبعات العامل بإعادة استخراج الارتباطات من تشبعات العامل والفروق بين الارتباط الأصلي والارتباط المعاد استنتاجه ينبغي أن يكون مساوياً للارتباطات المتبقية المقابلة في مصفوفة البواقي الناتجة من استخراج آخر عامل مركزي .

وفيما يلي مصفوفة بواقي العامل الثاني وحساب تشبعات العامل المركزي الثالث :

|    |    |    |    |    |    |    |    |    |    |    |    |    |    |    |    |    |    |    |    |    |    |    |    |    |    |    |    |    |    |    |    |    |    |    |    |    |    |    |    |    |    |    |    |    |    |    |    |    |    |    |    |    |    |    |    |    |    |    |    |    |    |    |    |    |    |    |    |    |    |    |    |    |    |    |    |    |    |    |    |    |    |    |    |    |    |    |    |     |     |
|----|----|----|----|----|----|----|----|----|----|----|----|----|----|----|----|----|----|----|----|----|----|----|----|----|----|----|----|----|----|----|----|----|----|----|----|----|----|----|----|----|----|----|----|----|----|----|----|----|----|----|----|----|----|----|----|----|----|----|----|----|----|----|----|----|----|----|----|----|----|----|----|----|----|----|----|----|----|----|----|----|----|----|----|----|----|----|----|-----|-----|
| 18 | 10 | 13 | 14 | 15 | 16 | 17 | 18 | 19 | 20 | 21 | 22 | 23 | 24 | 25 | 26 | 27 | 28 | 29 | 30 | 31 | 32 | 33 | 34 | 35 | 36 | 37 | 38 | 39 | 40 | 41 | 42 | 43 | 44 | 45 | 46 | 47 | 48 | 49 | 50 | 51 | 52 | 53 | 54 | 55 | 56 | 57 | 58 | 59 | 60 | 61 | 62 | 63 | 64 | 65 | 66 | 67 | 68 | 69 | 70 | 71 | 72 | 73 | 74 | 75 | 76 | 77 | 78 | 79 | 80 | 81 | 82 | 83 | 84 | 85 | 86 | 87 | 88 | 89 | 90 | 91 | 92 | 93 | 94 | 95 | 96 | 97 | 98 | 99  | 100 |
| 10 | 13 | 14 | 15 | 16 | 17 | 18 | 19 | 20 | 21 | 22 | 23 | 24 | 25 | 26 | 27 | 28 | 29 | 30 | 31 | 32 | 33 | 34 | 35 | 36 | 37 | 38 | 39 | 40 | 41 | 42 | 43 | 44 | 45 | 46 | 47 | 48 | 49 | 50 | 51 | 52 | 53 | 54 | 55 | 56 | 57 | 58 | 59 | 60 | 61 | 62 | 63 | 64 | 65 | 66 | 67 | 68 | 69 | 70 | 71 | 72 | 73 | 74 | 75 | 76 | 77 | 78 | 79 | 80 | 81 | 82 | 83 | 84 | 85 | 86 | 87 | 88 | 89 | 90 | 91 | 92 | 93 | 94 | 95 | 96 | 97 | 98 | 99 | 100 |     |

وفيما يلي تشبعت العامل المركزي الثالث المستخرجة من مصفوفة  
بواقى العامل الثاني .

| رقم | الاختبارات        | التشبع | رقم  | الاختبارات     | التشبع |
|-----|-------------------|--------|------|----------------|--------|
| ١ - | قوة اليدين        | ٠,١٨   | ٩ -  | نقر متسع       | ٠,٣٠   |
| ٢ - | مثابرة عضلية يمنى | ٠,٢٠   | ١٠ - | زمن رجوع عام   | ٠,١٧   |
| ٣ - | مثابرة عضلية يسرى | ٠,٢٨   | ١١ - | تتبع تصويب (١) | ٠,٢١ - |
| ٤ - | تمييز إدراكي      | ٠,٢٣ - | ١٢ - | تتبع تصويب (٢) | ٠,١٧   |
| ٥ - | تتبع مميز         | ٠,٤٧ - | ١٣ - | تصويب          | ٠,٣٧ - |
| ٦ - | تمييز علامات      | ٠,٨٠ - | ١٤ - | ثبات           | ٠,٢٥   |
| ٧ - | إدراك اختياري     | ٠,١٠ - | ١٥ - | ثبات يد        | ٠,٤٢ - |
| ٨ - | وضع علامات        | ٠,١٥   | ١٦ - | تأزر يدين      | ٠,١٤ - |
|     |                   |        | ١٧ - | رأى المشرف     | ٠,٢٣   |

وفيما يلي مصفوفة بواقى العامل الثالث وحساب تشبعت العامل  
الرابع :

| ردیف | 1 | 2   | 3   | 4   | 5   | 6   | 7   | 8   | 9   | 10  | 11  | 12  | 13  | 14  | 15  | 16  | 17  | 18  |
|------|---|-----|-----|-----|-----|-----|-----|-----|-----|-----|-----|-----|-----|-----|-----|-----|-----|-----|
| 1    | - | 17  | ... | ... | ... | ... | ... | ... | ... | ... | ... | ... | ... | ... | ... | ... | ... | ... |
| 2    | - | ... | ... | ... | ... | ... | ... | ... | ... | ... | ... | ... | ... | ... | ... | ... | ... | ... |
| 3    | - | ... | ... | ... | ... | ... | ... | ... | ... | ... | ... | ... | ... | ... | ... | ... | ... | ... |
| 4    | - | ... | ... | ... | ... | ... | ... | ... | ... | ... | ... | ... | ... | ... | ... | ... | ... | ... |
| 5    | - | ... | ... | ... | ... | ... | ... | ... | ... | ... | ... | ... | ... | ... | ... | ... | ... | ... |
| 6    | - | ... | ... | ... | ... | ... | ... | ... | ... | ... | ... | ... | ... | ... | ... | ... | ... | ... |
| 7    | - | ... | ... | ... | ... | ... | ... | ... | ... | ... | ... | ... | ... | ... | ... | ... | ... | ... |
| 8    | - | ... | ... | ... | ... | ... | ... | ... | ... | ... | ... | ... | ... | ... | ... | ... | ... | ... |
| 9    | - | ... | ... | ... | ... | ... | ... | ... | ... | ... | ... | ... | ... | ... | ... | ... | ... | ... |
| 10   | - | ... | ... | ... | ... | ... | ... | ... | ... | ... | ... | ... | ... | ... | ... | ... | ... | ... |
| 11   | - | ... | ... | ... | ... | ... | ... | ... | ... | ... | ... | ... | ... | ... | ... | ... | ... | ... |
| 12   | - | ... | ... | ... | ... | ... | ... | ... | ... | ... | ... | ... | ... | ... | ... | ... | ... | ... |
| 13   | - | ... | ... | ... | ... | ... | ... | ... | ... | ... | ... | ... | ... | ... | ... | ... | ... | ... |
| 14   | - | ... | ... | ... | ... | ... | ... | ... | ... | ... | ... | ... | ... | ... | ... | ... | ... | ... |
| 15   | - | ... | ... | ... | ... | ... | ... | ... | ... | ... | ... | ... | ... | ... | ... | ... | ... | ... |
| 16   | - | ... | ... | ... | ... | ... | ... | ... | ... | ... | ... | ... | ... | ... | ... | ... | ... | ... |
| 17   | - | ... | ... | ... | ... | ... | ... | ... | ... | ... | ... | ... | ... | ... | ... | ... | ... | ... |

وفيما يلي تشبعات العامل الرابع المركزي والمستخرجة من مصفوفة العامل الثالث .

| رقم | الاختبار           | التشبع | رقم  | الاختبار       | التشبع |
|-----|--------------------|--------|------|----------------|--------|
| - ١ | قوة يدين           | ٠,١٧   | - ٩  | نقر متسع       | ٠,٢٨   |
| - ٢ | مثابرة عضلية يميني | ٠,٤٠ - | - ١٠ | زمن رجوع عام   | ٠,٤٦   |
| - ٣ | مثابرة عضلية يسرى  | ٠,٣٢   | - ١١ | تتبع تصويب (١) | ٠,١٣   |
| - ٤ | تميز إدراكي        | ٠,١٦   | - ١٢ | تتبع تصويب (٢) | ٠,١٨ - |
| - ٥ | تتبع مميز          | ٠,٢٩   | - ١٣ | تصويب          | ٠,١٣   |
| - ٦ | تميز علامات        | ٠,٢٥ - | - ١٤ | ثبات           | ٠,٠٥ - |
| - ٧ | إدراك اختياري      | ٠,١٤ - | - ١٥ | ثبات يد        | ٠,١٥   |
| - ٨ | وضع علامات         | ٠,١٧ - | - ١٦ | تأزر يدين      | ٠,١٨ - |
|     |                    |        | - ١٧ | رأي المشرف     | ٠,١٧   |

وفيما يلي بواقى العامل الرابع وحساب تشبعات العام الخامس :





وفيما يلي العامل المركزي الخامس المستخرج من مصفوفة بواقي  
العامل الرابع .

| رقم | الاختبار          | التشبع | رقم  | الاختبار       | التشبع |
|-----|-------------------|--------|------|----------------|--------|
| ١ - | قوة يدين          | ٠,٤٥ - | ٩ -  | نقر متسع       | ٠,٢٠   |
| ٢ - | مشاركة عضلية يمنى | ٠,٠٥ - | ١٠ - | زمن رجوع عام   | ٠,١٢   |
| ٣ - | مشاركة عضلية يسرى | ٠,١٧ - | ١١ - | تتبع تصويب (١) | ٠,١٩   |
| ٤ - | تمييز إدراكي      | ٠,٠٥ - | ١٢ - | تتبع تصويب (٢) | ٠,٠٨ - |
| ٥ - | تتبع مميز         | ٠,٤٠   | ١٣ - | تصويب          | ٠,٣٢   |
| ٦ - | تمييز علامات      | ٠,٢٦ - | ١٤ - | ثبات           | ٠,٠٦   |
| ٧ - | إدراك اختياري     | ٠,١٩   | ١٥ - | ثبات يد        | ٠,٢٠ - |
| ٨ - | وضع علامات        | ٠,١٧ - | ١٦ - | تأزر يدين      | ٠,١٥   |
|     |                   |        | ١٧ - | رأي المشرف     | ٠,٢١ - |

وفيما يلي مصفوفة بواقي العامل الخامس وحساب تشبعات العامل  
السادس .



وفيما يلي تشبعت العامل المركزي السادس المستخرجة من بواقى  
العامل الخامس .

| رقم | الاختبار          | التشيع | رقم  | الاختبار       | التشيع |
|-----|-------------------|--------|------|----------------|--------|
| ١ - | قوة اليدين        | ٠,١٥   | ٩ -  | نقر متسع       | ٠,١٦   |
| ٢ - | مثابرة عضلية يمنى | ٠,١٢ - | ١٠ - | زمن رجوع عام   | ٠,٣٤ - |
| ٣ - | مثابرة عضلية يسرى | ٠,٢٦ - | ١١ - | تتبع تصويب (١) | ٠,١٤ - |
| ٤ - | تمييز إدراكي      | ٠,٣٥   | ١٢ - | تتبع تصويب (٢) | ٠,٠٨   |
| ٥ - | تتبع مميز         | ٠,٠٨ - | ١٣ - | تصويب          | ٠,٠٧   |
| ٦ - | تمييز علامات      | ,١٢    | ١٤ - | ثبات           | ٠,١٣ - |
| ٧ - | إدراك اختياري     | ٠,١٨   | ١٥ - | ثبات يد        | ٠,٢٧   |
| ٨ - | وضع علامات        | ٠,١٤   | ١٦   | تأزر يدين      | ٠,١١ - |
|     |                   |        | ١٧ - | رأى المشرف     | ٠,٣٥ - |

د - محكات استخلاص العوامل المركزية :

لمعرفة عدد العوامل التي علينا أن نستخلصها ، من مصفوفة الارتباط  
نقوم بتطبيق المعادلة الآتية لتحديد الحد الأدنى من العوامل التي يتم  
استخلاصاً .

$$m = \frac{1 + n\sqrt{1 + n}}{2}$$

حيث يدل الرمز (م) على عدد العوامل ، والرمز (ن) على عدد  
الاختبارات . والنتيجة في حالة المثال السابق عرض مصفوفة ارتباطه  
الأصلية ، ومصفوفات بواقية هي أن العوامل التي يتم استخلاصها بناءً على  
هذه المعادلة = ٣, ١١ . وفي حالة عدم تمشي تلك النتيجة مع الفروض (وهو  
ما حدث في هذا المثال) وتسير عليه معظم البحوث هو أن عدد العوامل يجب

أن لا يزيد عن ثلث عدد الاختبارات، أي عدد الاختبارات مقسوماً على ثلاثة.

ويستخدم محك بيرت - بانكز Burt-Banks لتحديد الخطأ المعياري للتشبع الصفري فعن طريقه يمكن الوصول إلى عدد التشبعات التي ليس لها دلالة وعندما تصل إلى أكثر من ٥٠٪ من عدد الاختبارات يتم إيقاف استخلاص العوامل ومعادلة المحك هي:

الخطأ المعياري للتشبع الصفري ر =

$$\frac{\sqrt{(2r - 1)}}{\sqrt{n(n - t - 1)}}$$

حيث (ن) عدد الاختبارات، (ت) رقم العامل، (ن) عدد أفراد العينة.

وإلى جانب المحك السابق يمكن استخدام محك مويزر Moiser's والذي يقوم على أساس تفرطح التباين الكلي للعوامل المتتالية بحساب ه٢ لكل عامل ثم تمثيل العلاقة ه٢ (مجموع مربع تشبعات الاختبارات على العامل) والعامل المقابل لها فيتم الحصول على خط بياني يأخذ في التفرطح حتى يصبح خطأ مستقيماً.

هـ المعادلة الأساسية للتحليل العملي:

تنحصر المعادلة الأساسية للتحليل العملي في قسمة حاصل جمع معاملات ارتباط الاختبار بالاختبارات الأخرى على الجذر التربيعي للمجموع الكلي لمعاملات الارتباط. والمعادلة كالآتي:

$$س خ = \frac{م ج س ا خ}{\sqrt{م ج ر}}$$

س = درجة تشبع الاختبار بالعامل .

مجموع معاملات الارتباط بين الاختبار وجمع  
الاختبارات الأخرى .

مجموع معاملات الارتباط في الجدول الارتباطي .

وفيما يلي مصفوفة البواقي النهائية .

مصنوفة البراقي النهائية

| رقم الاجبار | 1 | 2   | 3   | 4   | 5   | 6   | 7   | 8   | 9   | 10  | 11  | 12  | 13  | 14  | 15  | 16  | 17  |
|-------------|---|-----|-----|-----|-----|-----|-----|-----|-----|-----|-----|-----|-----|-----|-----|-----|-----|
| 1           | - | 1.0 | 0.0 | 0.0 | 0.0 | 0.0 | 0.0 | 0.0 | 0.0 | 0.0 | 0.0 | 0.0 | 0.0 | 0.0 | 0.0 | 0.0 | 0.0 |
| 2           |   | -   | 3.0 | 0.0 | 0.0 | 0.0 | 0.0 | 0.0 | 0.0 | 0.0 | 0.0 | 0.0 | 0.0 | 0.0 | 0.0 | 0.0 | 0.0 |
| 3           |   |     | -   | 1.0 | 0.0 | 0.0 | 0.0 | 0.0 | 0.0 | 0.0 | 0.0 | 0.0 | 0.0 | 0.0 | 0.0 | 0.0 | 0.0 |
| 4           |   |     |     | -   | 1.0 | 0.0 | 0.0 | 0.0 | 0.0 | 0.0 | 0.0 | 0.0 | 0.0 | 0.0 | 0.0 | 0.0 | 0.0 |
| 5           |   |     |     |     | -   | 1.0 | 0.0 | 0.0 | 0.0 | 0.0 | 0.0 | 0.0 | 0.0 | 0.0 | 0.0 | 0.0 | 0.0 |
| 6           |   |     |     |     |     | -   | 1.0 | 0.0 | 0.0 | 0.0 | 0.0 | 0.0 | 0.0 | 0.0 | 0.0 | 0.0 | 0.0 |
| 7           |   |     |     |     |     |     | -   | 1.0 | 0.0 | 0.0 | 0.0 | 0.0 | 0.0 | 0.0 | 0.0 | 0.0 | 0.0 |
| 8           |   |     |     |     |     |     |     | -   | 1.0 | 0.0 | 0.0 | 0.0 | 0.0 | 0.0 | 0.0 | 0.0 | 0.0 |
| 9           |   |     |     |     |     |     |     |     | -   | 1.0 | 0.0 | 0.0 | 0.0 | 0.0 | 0.0 | 0.0 | 0.0 |
| 10          |   |     |     |     |     |     |     |     |     | -   | 1.0 | 0.0 | 0.0 | 0.0 | 0.0 | 0.0 | 0.0 |
| 11          |   |     |     |     |     |     |     |     |     |     | -   | 1.0 | 0.0 | 0.0 | 0.0 | 0.0 | 0.0 |
| 12          |   |     |     |     |     |     |     |     |     |     |     | -   | 1.0 | 0.0 | 0.0 | 0.0 | 0.0 |
| 13          |   |     |     |     |     |     |     |     |     |     |     |     | -   | 1.0 | 0.0 | 0.0 | 0.0 |
| 14          |   |     |     |     |     |     |     |     |     |     |     |     |     | -   | 1.0 | 0.0 | 0.0 |
| 15          |   |     |     |     |     |     |     |     |     |     |     |     |     |     | -   | 1.0 | 0.0 |
| 16          |   |     |     |     |     |     |     |     |     |     |     |     |     |     |     | -   | 1.0 |
| 17          |   |     |     |     |     |     |     |     |     |     |     |     |     |     |     |     | -   |

- وفيما يلي تشبعت العوامل المركزية الست السابقة بعد تغير إشاراتها كما جاء في الخطوة رقم ١٣ (في الجزء جـ: الانعكاس). وقد جاء في هذه الخطوة أنه يتم تغير إشارات التبعات المركزية الست السابقة وفقاً لما يلي:
- أ - تكون إشارة العامل الذي عكس مرة واحدة أو عدد إفرادياً من المرات عكس إشارته في العامل السابق .
- ب - تكون إشارة العامل الذي لم يعكس أو عكس عدداً زوجياً من المرات هي نفس إشارته في العامل السابق .

«جدول التثبعات على العوامل  
السنة قبل وبعد تغيير الإشارات»

| رقم<br>مسلسل | الاختبارات     | التثبعات قبل تغيير الإشارات |    |    |    |    | التثبعات بعد تغيير الإشارات |    |    |    |    |
|--------------|----------------|-----------------------------|----|----|----|----|-----------------------------|----|----|----|----|
|              |                | ١                           | ٢  | ٣  | ٤  | ٥  | ١                           | ٢  | ٣  | ٤  | ٥  |
| ١            | قوة اليدين     | ١٨                          | ١٨ | ١٨ | ١٧ | ١٥ | ١٨                          | ١٧ | ١٧ | ١٧ | ١٥ |
| ٢            | مثابرة يمينى   | ٢٠                          | ٣٨ | ٢٠ | ٤٠ | ١٢ | ٢٠                          | ٢٠ | ٤٠ | ١٢ |    |
| ٣            | مثابرة يسرى    | ٢٦                          | ٤٠ | ٢٨ | ٣٢ | ٢٦ | ٢٦                          | ١٧ | ٣٢ | ٢٦ |    |
| ٤            | تمييز إدراكي   | ٧١                          | ١٠ | ١٣ | ١٦ | ٣٥ | ٣٥                          | ٠٥ | ١٦ | ٣٥ |    |
| ٥            | تتبع مميز      | ٥٤                          | ٣٣ | ٤٧ | ٢٩ | ٤٠ | ٠٨                          | ٤٠ | ٢٩ | ٤٧ |    |
| ٦            | تمييز علامات   | ٤١                          | ٢٤ | ٠٨ | ٢٥ | ١٢ | ٢٦                          | ٢٥ | ٠٨ | ٢٤ |    |
| ٧            | إدراك اختياري  | ٢٤                          | ٢٤ | ١٠ | ١٤ | ١٨ | ١٩                          | ١٤ | ١٠ | ٢٤ |    |
| ٨            | وضع علامات     | ٥٦                          | ٢١ | ١٥ | ١٧ | ١٤ | ١٧                          | ١٧ | ١٥ | ٢١ |    |
| ٩            | نقر متسع       | ٤٩                          | ٣٩ | ٣٠ | ٢٨ | ١٦ | ٢٠                          | ٢٨ | ٣٠ | ٣٩ |    |
| ١٠           | زمن رجوع عام   | ٢٧                          | ٢٧ | ١٧ | ٤٦ | ٣٤ | ١٢                          | ٤٦ | ١٧ | ٢٧ |    |
| ١١           | تتبع تصويب «١» | ٥٦                          | ٣٩ | ٢١ | ١٣ | ١٤ | ١٩                          | ١٣ | ٢١ | ٣٩ |    |
| ١٢           | تتبع تصويب «٢» | ٤٧                          | ٢٣ | ١٧ | ١٨ | ٠٨ | ٠٨                          | ١٨ | ١٧ | ٢٣ |    |
| ١٣           | تصويب          | ٠٩                          | ٥٥ | ٢٧ | ١٣ | ٠٧ | ٣٢                          | ١٣ | ٢٧ | ٥٥ |    |
| ١٤           | ثبات           | ٤٤                          | ٢١ | ٠٥ | ٢٥ | ١٣ | ٠٦                          | ٠٥ | ٢٥ | ٢١ |    |
| ١٥           | ثبات مميز      | ١٤                          | ٣٦ | ٤٢ | ١٥ | ٢٧ | ٢٠                          | ١٥ | ٤٢ | ٣٦ |    |
| ١٦           | تأزر يدين      | ٠٧                          | ١٠ | ١٤ | ١٨ | ١١ | ١٥                          | ١٨ | ١٤ | ١٠ |    |
| ١٧           | رأى المشرف     | ١٦                          | ١٣ | ٢٣ | ١٣ | ٣٥ | ٢١                          | ١٣ | ٢٣ | ١٣ |    |

وفيما يلي جدول حساب قيمة الارتباط الأصلي من البواقي النهائية ومن العوامل المركزية كما جاء في الخطوة ١٥ (من ج: الانعكاس). وتتلخص هذه الطريقة في أنه لو تمكنا باستخدام البواقي بعد العامل السادس



والتشبعات على العوامل الست من الحصول على قيمة الارتباط الأصلي لدل (الارتباط الذي يقع على يسار الخلية القطرية في مصفوفة الارتباط الأولى) ذلك على دقة خطوات التحليل العائلي ، وذلك إذا كان الفرق بين قيمة الارتباط الأصلي والمجموع الناتج بعد إضافة الباقي بالإشارة المعدلة لا دلالة له . وتستلزم عملية حساب قيمة الارتباط الأصلي تغيير إشارة بواقى الاختبارات التي أجرت لها الانعكاس أثناء عملية التحليل ويكون ذلك بأن تظل إشارة التشبعات التي انعكست عدداً زوجياً من المرات كما هي ، أما التشبعات التي انعكست عدداً فردياً من المرات فتغير الإشارة الخاصة بها . وبعد ذلك يتم حساب الارتباط الأصلي بضرب تشبع كل اختبارين على العوامل الستة ثم يضاف هذا الناتج على قيمة البواقى بعد العامل السادس (وهنا قيمة البواقى على يسار الخلية القطرية في مصفوفة البواقى النهائي والباقي الخاص بالعملية رقم ١٧ هو باقي اختبار ١٧٠١) . وبعد ذلك يتم إيجاد الفرق بين هذا الناتج بعد إضافة البواقى إليه وبين قيمة الارتباط الأصلي .

«جدول حساب الارتباط الأصلي من البواقي النهائية»

| رقم الاختبارات | الانكاسات | البواقي | المجموع الناتج بعد إضافة الباقي | قيمة الارتباط الأصلي | الفرق   |
|----------------|-----------|---------|---------------------------------|----------------------|---------|
| ١              | ٦         | ١,٠٠٠٠  | ٠,٠٥٨١                          | ٠,٠٥٠٠               | ٠,٠٠٨١- |
| ٢              | ٨         | ٠,٠٤٠٠  | ٠,٤٦٧٧                          | ٠,٤٨٠٠               | ٠,٠١٢٣  |
| ٣              | ٧         | ٠,٠٦٠٠  | ٠,١٣٥٣                          | ٠,١٣٠٠               | ٠,٠٠٥٣  |
| ٤              | ٥         | ٠,١٢٠٠  | ٠,٦٨٢٩                          | ٠,٦٨٠٠               | ٠,٠٠٢٩  |
| ٥              | ٦         | ٠,٨٠٠   | ٠,١٦٢٧                          | ٠,١٦٠٠               | ٠,٠٠٢٧  |
| ٦              | ٦         | ٠,٠٤٠٠  | ٠,١٠٨٨                          | ٠,١٠٠٠               | ٠٠,٠٨٨  |
| ٧              | ٤         | ٠,٠٥٠٠  | ٠,١٥٣٥                          | ٠,١٥٠٠               | ٠,٠٠٣٥  |
| ٨              | ٢         | ٠,٠٣٠٠  | ٠,٣٧٠١                          | ٠,٣٧٠٠               | ٠,٠٠٠١  |
| ٩              | ١         | ٠,٠٩٠٠  | ٠,٤٧٧٠                          | ٠,٤٨٠٠               | ٠,٠٠٣٠  |
| ١٠             | ٣         | ٠,٠٤٠٠  | ٠,١٠٩٦                          | ٠,١١٠٠               | ٠,٠٠٠٤- |
| ١١             | ٤         | ٠,٠٤٠٠  | ٠,٢٩٦٦                          | ٠,٢٩٠٠               | ٠,٠٠٦٦  |
| ١٢             | ٥         | ٠,٠٥٠٠  | ٠,١٤١-                          | ٠,٠١٠٠               | ٠,٠٠٤١- |
| ١٣             | ٥         | ٠,٠٦٠٠  | ٠,٠٥١٨-                         | ٠,٠٥٠٠               | ٠,٠٠١٨- |
| ١٤             | ٥         | ٠,٠٦٠٠  | ٠,١٢٣٤                          | ٠,١٢٠٠               | ٠,٠٠٣٤  |
| ١٥             | ٧         | ٠,٠٥٠٠  | ٠,٠٥٤٩                          | ٠,٠٦٠٠               | ٠,٠٠٥١- |
| ١٦             | ٧         | ٠,٠٢٠٠  | ٠,٠٦٧٤-                         | ٠,٠٦٠٠               | ٠,٠٠٧٤  |
| ١٧             | ٥         | ٠,٠٤٠٠  | ٠,١٨٣٧                          | ٠,١٨٠٠               | ٠,٠٠٣٧  |

## تدوير المحاور للعوامل المركزية

### Rotation of Axse

يذهب ثرستون إلى أن العوامل المركزية لا يمكن تفسيرها تفسيراً نفسياً إلا بعد إدارة المحاور بتويل نمط التشعبات إلى التركيب البسيط Simple Structure ويوجه سيرمان النقد لهذه العملية حيث يقرر إدارة المحاور حتى تحصل على أقصى عدد من التشعبات الصفرية ينتج عنه تقسيم العامل العام إلى عدد من العوامل الصفرية عديمة الدلالة . ويؤيد سيرل بيرت سيرمان إلا أن ثرستون دحض رأيهم بأن إدارة المحاور توصل لنفس العوامل بتحليل نفس الاختبارات في بطاريات مختلفة وتؤيد دراسات جلفورد وكوكس رأيه هذا .

ويحدد ثرستون معايير التركيب البسيط بخمس .

أولاً: لا بد أن يحتوي كل صف في التحليل على تشعب صفرى على الأقل (ببساطة الاختبار) .

ثانياً: يحتوي كل عمود على عدد من التشعبات الصفرية يعادل عدد العوامل على الأقل (طائفية الاختبار) .

ثالثاً: إذا أخذنا أي عمودين من أعمدة التشعبات ينبغي أن يكون بهما عدد من الاختبارات التي تتلاشى تشعباتها بأحد العاملين فقط دون أن تتلاشى تشعباتها بالعامل الآخر معادلاً لعدد العوامل على الأقل (الاقتران البسيط) .

رابعاً: بالنسبة للدراسات التي تتضمن أربعة عوامل أو أكثر فيجب أن يكون هناك عدد من المتغيرات ذات تشعبات صغيرة جداً بأي زوج من العوامل بحيث يمكن إهمالها .

خامساً: كما يجب أن يكون هناك أيضاً عدد قليل من المتغيرات مشبعة بتشبعات ذات دالة لأي زوج من العوامل. وهذه المعايير السابقة تنطبق على التدوير المائل بسهولة أكبر مما يحدث مع التدوير المتعامد.

ويورد كاتل محكات عملية التدوير على النحو الآتي بحيث تصبح كل التشبعات موجبة أو صفرية وهي تدوير المحاور لكي تتفق مع الاكتشافات السيكولوجية أو الإكلينيكية وذلك بمرور المحاور خلال تجمعات المتغيرات أو الأعراض المعروف وجودها في هذه الاكتشافات، كذلك تدوير المحاور لتتفق مع العوامل السابقة في التحليلات العاملية السابقة، ثم تدويرها لوضعها خلال مراكز التجمعات، كذلك تدوير المحاور لتتفق مع العوامل المتعامدة التي يكشف عنها بالتالي، وأخيراً تدوير المحاور لإنتاج تشبعات تتفق مع التوقعات النفسية العامة.

#### أ - التدوير المتعامد للعوامل المركزية:

يحتفظ التدوير المتعامد Orthogonal Rotation بالتعامد القائم بين العوامل الأصلية ويدل على أن معاملات ارتباط العوامل يساوي صفرًا وذلك لما يتميز به عن التدوير المائل Oblique R. من استقلال أي عدم ارتباط المحاور وبساطة تناوله حسابياً وبالرسم البياني. كذلك فإن زواياه ثابتة بين المحاور ولا تختلف باختلاف العينة كما في التدوير المائل.

#### ب - المعادلة الأساسية لعملية التدوير:

تعتمد المعادلة الأساسية لعملية التدوير على جيب زاوية التدوير وجيب تمامها وذلك حسب اتجاه المحورين كما يلي:

١- إذا كان التدوير في اتجاه عقرب الساعة Clockwise Rotation تصبح معادلة التدوير:

ت ١ بالعامل الأول = ت ١ بالعامل السابق × جيب تمام زاوية التدوير  
+ ٢ بالعامل السابقة × جيب زاوية التدوير.

ت ٢ بالعامل الثاني = ت ١ بالعامل السابق × جيب تمام زاوية التدوير + ت  
٢ بالعامل السابق × جيب تمام زاوية التدوير.

٢ - إذا كان التدوير في عكس عقارب الساعة Counter Clockwise  
Rotation تصبح معادلة التدوير.

ت ١ بالعامل الأول = ت ١ بالعامل السابق × جيب تمام زاوية التدوير  
+ ت ٢ بالعامل السابق × جيب زاوية التدوير.

ت ٢ بالعامل الثاني = ت ١ بالعامل السابق × جيب تمام زاوية التدوير + ت  
٢ بالعامل السابق × جيب زاوية التدوير.

وتتلخص تلك المعادلة في الوضع الآتي وذلك تسهيلاً للعمليات  
الحسابية :

١ - التدوير تجاه عقرب الساعة :

ت خ ١ = ت ١ جتا (- ت ٢ جا)

ت خ ٢ = ت ٢ جتا (- ت ١ جا)

٢ - التدوير عكس عقرب الساعة :

ت خ ١ = ت ١ جتا (- ت ١ جا)

ت خ ٢ = ت ٢ جتا (+ ت ٢ جا).

تعليق :

في دراسة لنا عن «القدرات النفسية الحركية المتطلبة في مهنة دلفنة  
الصلب» أجرينا التدوير المتعامد للعوامل المركزية الست السابقة عرضها

استخدمنا ورق مربعات ملليمترات من النوع الشفاف رسم عليه محوري التدوير ثم قمنا بتجربة استخدامه في استخراج العوامل المدارة على النحو التالي بهدف الوصول إلى طريقة اقتصادية في التدوير من ناحية الوقت:

١ - يوضع محوري الشفاف على كل من محوري العوامل المركزية بعد وضع النقط التي تمثل عامل التدوير في كل عملية .

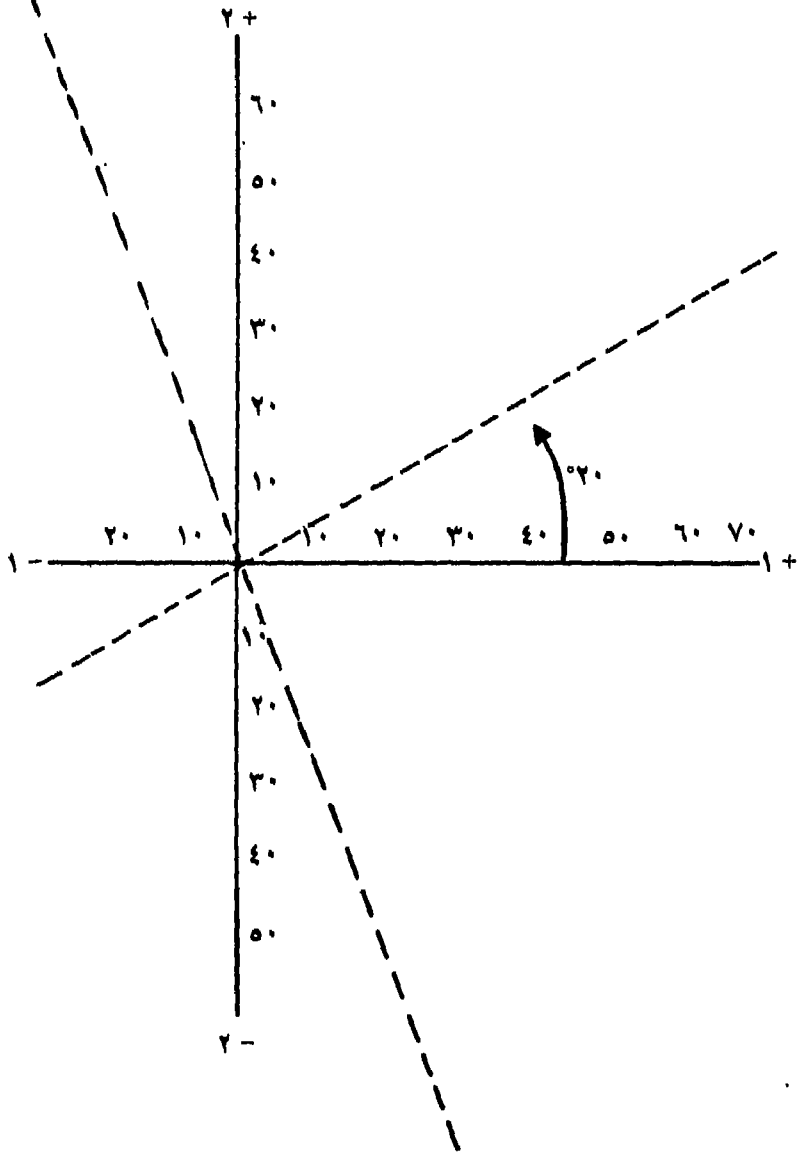
٢ - التأكد من ظهور العلامات التي تمثل الاختبارات على العاملين المراد إدارتهما .

٣ - إدارة ورق الشفاف بحيث يقع محوري الشفاف على مجموعة من النقط التي تمثل الفرض الذي في ذهن الباحث .

٤ - يحسب تشبع العاملين الذي تم تدويرها حسب ظهور النقط في ورق الشفاف بعد إدارة محورها .

وفيما يلي مثالاً بيانياً لعملية التدوير ويمثل ذلك العملية الأولى في تدوير العوامل الست السابقة وذلك بالنسبة للعامل الأول والعامل الثاني أي تدوير ١ مع ٢ . ويبين الخط المستقيم المتصل المحاور قبل التدوير كما يبين الخط المستقيم المتقطع المحاور بعد التدوير عكس اتجاه عقرب الساعة بزاوية قدرها عشرون درجة (٢٠°) .

### العملية رقم (١) تدوير العامل ١ مع ٢



وبعد إدارة محاور العوامل المركزية تدويراً متعامداً بالصورة السابق  
عرضها تم الوصول للعوامل المتعامدة الست الآتية :

| رقم | الاختبارات       | العامل (١) | العامل (٢)      | العامل (٣)      | العامل (٤)      | العامل (٥)      | العامل (٦)      |
|-----|------------------|------------|-----------------|-----------------|-----------------|-----------------|-----------------|
| ١-  | قوة اليدين       | ٧          | ٢٤              | ٣٩              | ٠٧              | $\overline{17}$ | صفر             |
| ٢-  | مثابة عضلية يمنى | صفر        | ٤٦              | ١٦              | ٢٩              | ٠٦              | ٢٤              |
| ٣-  | مثابة عضلية يسرى | صفر        | $\overline{53}$ | $\overline{19}$ | ٢٨              | $\overline{19}$ | ٢٦              |
| ٤-  | تميز إدراكي      | ٦٦         | ١٦              | ١٦              | ٠٧              | ٤٤              | ١٤              |
| ٥-  | تتبع مميز        | ٣٥         | ١٩              | صفر             | صفر             | ٧٦              | ٣٤              |
| ٦-  | تميز علامات      | ٤٢         | ١٦              | ٢٨              | $\overline{16}$ | صفر             | $\overline{19}$ |
| ٧-  | زمن رجح اختياري  | ١٧         | ٠٧              | ١٣              | ٢٦              | ٢٤              | $\overline{19}$ |
| ٨-  | وضع علامات       | ٥٦         | صفر             | ٠٥              | ٣٠              | ١٦              | $\overline{06}$ |
| ٩-  | نقر متسع         | ٢٦         | $\overline{16}$ | صفر             | ٤٨              | صفر             | ١٩              |
| ١٠- | زمن رجح عام      | ٣٠         | $\overline{19}$ | ٣٦              | ٤٦              | $\overline{19}$ | صفر             |
| ١١- | تتبع تصويب (١)   | ٥٤         | صفر             | ٠٧              | ٠٧              | ٥٠              | ١٩              |
| ١٢- | تتبع تصويب (٢)   | ٤٨         | $\overline{07}$ | ١٩              | ٢٤              | ٠٧              | صفر             |
| ١٣- | تصويب            | ١١         | ٤٦              | صفر             | ١٩              | ١٣              | ٤٧              |
| ١٤- | ثبات             | ٥٣         | صفر             | $\overline{16}$ | صفر             | صفر             | صفر             |
| ١٥- | ثبات اليد        | ١٦         | ٢٨              | ٣١              | $\overline{16}$ | ٢٣              | ٤٤              |
| ١٦- | تأزر يدين        | صفر        | ٠٩              | $\overline{16}$ | $\overline{16}$ | ٠٧              | صفر             |
| ١٧- | مقياس التقدير    | صفر        | $\overline{07}$ | ٢٨              | $\overline{19}$ | ٣٧              | $\overline{18}$ |



واتضح من الجدول السابق أن المعايير التي أوردها كاتل عن العوامل المتعامدة تنطبق إلى حد كبير على العوامل المتعامدة السابقة، ويتم بعد ذلك تفسير العوامل المتعامدة السابقة، ويعتبر التشعب ٠,٣٠ فما فوق هو الحد الذي لا يؤخذ دونه في الاعتبار عند التفسير. وفيما يلي العوامل الست ومسمياتها بناء على هذا الحد، وترتيب الاختبارات حسب تشعباتها ترتيباً تنازلياً.

### ١ - العامل الأول: زمن الرجوع

- |      |                      |
|------|----------------------|
| ٠,٦٠ | ١ - التمييز الإدراكي |
| ٠,٥٦ | ٢ - وضع علامات       |
| ٠,٥٦ | ٣ - نقر متسع         |
| ٠,٥٤ | ٤ - تتبع تصويب (١)   |
| ٠,٥٣ | ٥ - ثبات             |
| ٠,٤٨ | ٦ - تتبع تصويت (٢)   |
| ٠,٤٢ | ٧ - تمييز علامات     |
| ٠,٣٥ | ٨ - تتبع مميز        |
| ٠,٣٠ | ٩ - زمن رجوع         |

### ٢ - العامل الثاني: المثابرة العضلية

- |      |                             |
|------|-----------------------------|
| ٠,٥٣ | ١ - المثابرة العضلية اليسرى |
| ٠,٤٦ | ٢ - المثابرة العضلية اليمنى |
| ٠,٤٦ | ٣ - تصويب                   |
| ٠,٣٤ | ٤ - قوة يدين                |

### ٣ - العامل الثالث: قوة الأيدي

- |      |              |
|------|--------------|
| ٠,٣٩ | ١ - قوة يدين |
|------|--------------|

- ٢ - ومن رجع ٠,٣٦  
 ٣ - ثبات يده ٠,٣١  
 ٤ - مقياس التقدير . ٠,٢٧

#### ٤ - العامل الرابع : سرعة حركة الأصابع

- ١ - نقر متسع ٠,٤٨  
 ٢ - زمن رجع ٠,٤٦  
 ٣ - وضع علامات ٠,٣٠

#### ٥ - العامل الخامس : التأزر الحركي البسيط

- ١ - تتبع مميز ٠,٧٦  
 ٢ - تتبع تصويب (١) ٠,٥٠  
 ٣ - تمييز إدراكي ٠,٤٤  
 ٤ - مقياس التقدير ٠,٢٧

#### ٦ - العامل السادس : ثبات الذراع

- ١ - تصويب ٠,٤٧  
 ٢ - ثبات يد ٠,٤٤  
 ٣ - تتبع مميز ٠,٣٤

### التفسير النفسي للعوامل المتعامدة

يجمع الكثيرون ممن استخدموا التحليل العاملي على أن العوامل التي تنشأ في تجربة من التجارب تكون متعلقة بالاختلافات الواضحة في التعليم والخبرة والوضع الثقافي لعينة التجربة ، ليس ذلك فقط بل ذهب ثرستون إلى أن الأعمار المختلفة - لأفراد العينة تظهر تشعبات عاملية مختلفة على نفس الاختبارات ، كذلك ذهب وودرو إلى أن التدرب يلعب نفس الدور .

ويذهب جلفورد إلى أن العوامل تعتمد على الظروف المحيطة بمصدر البيانات والتي يعتمد عليها التحليل وبعض هذه الظروف يرتبط بطبيعة العينة والبعض الآخر يرتبط بطبيعة الاختبارات ومحتوياتها كمستوى صعوبة الاختبار والذي عادة ما يكون نسبياً بالنسبة للعينة المختبرة، كذلك زمن الاختبار. وعلى هذا وقبل أن نستطرد في مناقشة العوامل المركزية التي استخلصناها وتفسيرها لا بد أن نناقش ذلك في ضوء مواصفات عينة التجربة التي نحن بصددنا على اعتبار أن العوامل التي استخلصناها في تجربتنا تعتبر نتيجة للعينة بتلك المواصفات، بحيث أثرت في تركيب العوامل بالشكل التي آلت إليه في نهاية الأمر. وستكلم فيما يلي عن بعض هذه المحددات التي تؤثر في العوامل.

#### ١ - الطبقة :

وأول هذه النواحي الطبقة التي ينتمي إليها الشخص في البحث، وقد وجه سيرمان (١٩٢٧) الأنظار إلى الفروق الجماعية في النماذج العاملة بقوله «ثمة أمر هام على تشعب القدرة بالعامل يبدو أنه الطبقة التي ينتمي إليها الشخص في البحث. قد وجد مصطفى سويف فروقاً جوهرية في مستوى الاستجابة بين المصريين والإنجليز كما أمكنه في تلك الدراسة من استخلاص عامل ثالث جديد، ويتبين لنا ذلك في مثالنا السابق، الأمر الذي لا يمكن إهماله.

#### ٢ - العمر :

وثاني هذه النواحي العمر إذ تشير البحوث إلى أن القدرات تصبح فعلاً أكثر تخصصاً كلما تقدم الطفل في العمر، فبين أطفال الحضارة تبين أن العامل العام كبير نسبياً والعوامل الطائفية أقل أهمية، وقد تبينت هذه النتائج في تقنين مقياس وكسلر بلفيو (أثر تغير العمر في النمط العملي بين الكبار).

فقد متوسط معاملات الارتباط في الاختبارات الداخلية في هذا المقياس بانتظام من مجموعة أعمار التسع سنوات إلى مجموعة أعمار ٢٥ - ٢٩ وهي بهذا تتفق مع نتائج الدراسات الأخرى إلا أنه في مجموعة الأعمار ٣٥ - ٤٤ ارتفع متوسط معاملات الارتباط إلى ٠,٣١، وفي مجموعة ٥٠ - ٥٩ ارتفع ثانياً إلى ٠,٤٣، وهي بهذا تتفق مع نتائج الدراسات الأخرى. إلا أنه في مجموعة الأعمار ٥٠ - ٥٩ ارتفع ثانياً إلى ٠,٤٣، وبهذا فقد قدم التحليل دليلاً على وجود عامل عام يتدخل في اختبارات مجموعة التسع سنوات وفي مجموعة ٥٠ - ٥٩ بينما في الأعمار المتوسطة كانت العوامل الطائفية تلعب الدور الأساسي وفي بحثنا نجد أن الأعمار تتراوح بين ١٨ - ٣٣ عاماً بمتوسط عمر ٤٥, ٢٧ وانحراف معياري ٤, ٤٤، وبهذا نستطيع أن نرى أن متوسط معاملات الارتباط الذي وصل إلى ٠,٠٩٥، ينبثق تماماً عن الخصوصية التي يتم الأداء في هذه السنة.

### ٣- التعليم:

يلعب مستوى التعليم دوراً لا بأس به في التركيب العملي، فقد كتب طومسون عند مناقشته للتطورات الأخيرة في نظريته الخاصة بالعينات ما يأتي «... يمكن ملاحظة قبل عام في التقارير التجريبية ما يؤيد أن البطاريات لا يتسنى شرحها بعدد قليل من العوامل في الكبار كما هو في الأطفال، وقد يكون ذلك بسبب أن تعليم الكبار ومهنتهم قد فرضوا تركيب معيناً على عقولهم لا يوجد لدى الصغار وبعض هذا التركيب فطري دون شك إلا أن أكثره يحتمل أن يكون راجعاً إلى البيئة والتعليم والحياة». وفي بيانات وكسلر بلفيو كانت التغيرات في أنماط العوامل بين الأشخاص الأكبر سناً موازية تماماً للفروق التعليمية بمجموعة الأعمار ٢٢ - ٢٩ تبدو أكثر تخصصاً في القدرات كما أبدت نفس هذه الملاحظة المجموعة ذات التعليم الثانوي بينما أبدت المجموعة التي تراوحت أعمارها بين ٣٥ - ٤٤ والتي تراوح

مستوى تعليمها بين المرحلة السادسة إلى السنة الأولى من التعليم الثانوي تخصصاً أقل في القدرات وأما المجموعة الأكبر سناً والتي أبدت أقل قدر من التخصص فقد تراوح مستوى تعليمها بين المرحلة الخامسة والثامنة إلا أنه في بحثنا من المحتمل إلى حد كبير ألا يتفق مع وجهة النظر السابقة والتي تتلخص في أنه في كل من العمر المتوسط والذي يوازيه في التعليم مرحلة معينة مناسبة تشير الارتباطات بين أداء أفراد المجموعة على اختبارات إلى تخصص أعلى إذ لم يتفق عمر عينة البحث مع مستوى تعليمها كما في بحوث وكسلر إذا لم يصحب عمر أفراد العينة والذي يتراوح بين ١٨ - ٣٣ ارتفاع في مستوى التعليم وذلك لأن اختيار العينة تم على أساس طبقي عشوائي أي بالنسبة لفئات وظيفية معينة يعمل أفرادها دون غيرهم في خط الإنتاج بمهنة الدلفنة كما أن المستوى التعليمي تراوح بين القراءة والكتابة والإعدادية العامة والثانوية العامة والصناعية ومساوى التعليم بهذه الصورة يلعب دوراً له وزنه في العوامل المستخلصة .

#### ٤ - الخبرة :

والحقيقة أن الخبرة باعتبارها تمثل المدى الذي وصل إليه الفرد من اكتسابه للمهارات المختلفة - تلعب نفس الدور الذي يلعبه كل من التعليم والجرة فقد وجد بين جماعات الرجال الكبار أن معاملات الارتباط بين كل اختبارين من ثلاثة اختبارات للمهارة اليدوية دائماً أعلى لدى العمال في الأعمال التكرارية الروتينية عنها بين الكتبة أو العمال المهرة . إذ بلغ بين العمال العاديين ٠,٤١ وبين الكتبة ٠,٢٦ وبين العمال المهرة ٠,٢٥ ، وهذا يوضح دور الجرة التي تكتسب أثناء التدريب أو الأداء الواقعي ولقد تراوحت خبرة العينة في تجربتنا بين سنة وسبع سنوات بمتوسط حسابي ١٦,٥٦ شهراً وانحراف معياري ٢,٢٥ شهراً والانحراف المعياري يعطينا فكرة عن مدى

النشئت في الخبرة بين أفراد العينة والذي يلعب دوره في التنظيم العملي للاختبارات .

#### ٥ - التدريب :

وجد وودرو Woodrow كما سبق أن بينا تغيرات ملحوظة في تشبعات الاختبارات بالعوامل بعد تدريب طويل . ولم تكن هذه التغيرات ناتجة عن اعتماد الدرجات على السرعة أو على القدرة العامة بعد التدريب كما كان متوقفاً . وقد حدثت تغيرات معينة في التكوين العملي لأغلب الاختبارات أثناء التدريب دون أي دليل على زيادة دور السرعة أو القدرة العامة أو وجود عامل عام للتعلم وبالنسبة لعينة البحث فقد قصرت معلوماتنا عن أن تتزود بمعلومات خاصة عن من حصل منهم على برامج تدريبية ومن لم يتدرب وما هي هذه البرامج التي التحق بها البعض ، والتي تفيدنا إلى حد كبير في تفسير العوامل .

## المراجع

### أولاً: المراجع العربية

- ١ - د. السيد محمد خيرى - الإحصاء في البحوث النفسية والتربوية الاجتماعية النهضة العربية - ١٩٧٠ .
- ٢ - د. فؤاد البهي السيد علم النفس الإحصائي وقياس العقل البشري - دار الفكر العربي - ١٩٧١ .
- ٣ - د. فؤاد البهي السيد - الجداول الإحصائية لعلم النفس والعلوم الإنسانية الأخرى - دار الفكر العربي - ١٩٥٨ .
- ٤ - فان دالين - تأليف - محمد نبيل نوفل وسليمان الخضري الشيخ وطلعت منصور غبريال - ترجمة - سيد أحمد عثمان - مراجعة - مناهج البحث في التربية وعلم النفس - الأنجلو المصرية - ١٩٦٩ .
- ٥ - محمود السيد أبو النيل - دراسة تجريبية للقدرات النفسية الحركية المتطلبة في مهنة دلفنة الصلب - رسالة ماجستير غير منشورة مقدمة بكلية الآداب جامعة عين شمس تحت إشراف الأستاذ الدكتور السيد محمد خيرى عام ١٩٦٩ .
- ٦ - محمود السيد أبو النيل - اختبار الشخصية الإسقاطي الجمعي - كتيب التعليمات - مطبعة دار التأليف بالمالية - ١٩٧٥ .
- ٧ - محمود السيد أبو النيل - اختبار الشخصية الإسقاطي الجمعي - دراسة

محلية للثبات والصدق والفروق بين الجنسين - مطبعة دار التأليف  
بالمالية - ١٩٧٦ .

٨ - محرم وهبي محمود - النظرية الإحصائية وتطبيقاتها - الجزء الخامس:  
تحليل التباين والتغاير - معهد التخطيط القومي ١٩٧١ .

### ثانياً: المراجع الأجنبية

1. Garrett, E., Henry and Woodworth, R. s., Statistic in Psychology and Education, Vakils Folfer and Simons Private Lto, 1967.
2. Anne Anastasia, Psychological Testing, The Macmillan, Comp., New York, 1961.
3. Fleishman, E. A., Testing for Psychomotor Abilities by means of Apparatus Tests, Psychological Bulletin, 50, 1953.
4. Eysenck, H. J., Handbook of Abnormal Psychology, Basic Books, Inc., N. W., 1960.
5. Garrett, E., Henry, Great Experiment in Psychology, Appelton, Century Crafts, 1957.
6. Guilford, J. P., Personality, McGraw-Hill. Book Comp., New York, 1959.
7. Guilford, J. P., Psychometric Methods, McGraw-Hill. Book Comp., New York, 1954.
8. Nunally, Tests and Measurement, McGraw-Hill. Book Comp., New York, 1954.
9. Vernon, Philip, E., The Structure of Human Abulities, London, Methuen, 1955.
10. Spearman, Human Ability, Wynn Jones, 1948.
11. Fruchter, Benjamin, Introduction to Factor Analysis, Van Nostrand Comp., 1964.
12. Runyon and Hobor Fundamental of Behavioral SEtatistics, Addison-Wesley Publishing Comp., London, 1973.
13. Cassel R., N., and Kahn, T. C., The Group Personality Projective Test (GPPT), Psychological Reports, Monograph Supplement, 1-VB, 1961, p. 23.



# فهرس

|                      |       |  |
|----------------------|-------|--|
| ٥                    | ..... | مقدمة الطبعة الخامسة                           |
| ١١                   | ..... | مقدمة الطبعة الثانية                           |
| <b>الجزء الأول</b>   |       |  |
| <b>مبادئ الإحصاء</b> |       |  |
| ١٧                   | ..... | أولاً - جمع المعلومات وتصنيفها وتوضيحها بالرسم |
| ١٧                   | ..... | - تعريف الإحصاء                                |
| ١٨                   | ..... | - فوائد الإحصاء                                |
| ٢٠                   | ..... | - فوائد الإحصاء : الأمية كمثال                 |
| ٢٢                   | ..... | ثانياً - خطوات البحث الإحصائي                  |
| ٢٢                   | ..... | ١ - حجم المشكلة وأهميتها                       |
| ٢٥                   | ..... | ٢ - جمع البيانات الخاصة بالمشكلة               |
| ٢٦                   | ..... | ٣ - وسائل جمع البيانات :                       |
| ٢٦                   | ..... | أ - استمارة البحث                              |
| ٢٨                   | ..... | ب - الملاحظة                                   |
| ٣١                   | ..... | ج - الوسائل الموضوعية                          |
| ٣١                   | ..... | ٤ - مصادر جمع البيانات :                       |
| ٣١                   | ..... | أ - المصدر التاريخي                            |

- ب - المصدر الميداني ..... ٣١
- ٥ - الشروط الواجب مراعاتها في جمع البيانات : ..... ٣٢
- أ - دقة جمع البيانات ..... ٣٢
- ب - مراجعة البيانات ..... ٣٢
- ٦ - عينة البحث ..... ٣٣
- ٧ - استخدام الاستبيانات كأداة أساسية ..... ٣٤
- أ - تصميم الاستبيان ..... ٣٤
- ب - النواحي التي تراعى في تصميم الاستبيان ..... ٣٥
- ١ - السهولة وعدم الغموض ..... ٣٥
- ٢ - عدم التحيز ..... ٣٦
- ٣ - تجنب الأسئلة التي تؤدي إلى الإيحاء ..... ٣٦
- ٤ - تجنب توجيه الأسئلة الحساسة التي تمس الحياة الخاصة للفرد ..... ٣٧
- ج - مراجعة الاستبيان قبل التطبيق ..... ٣٧
- د - تفرغ البيانات ..... ٣٨
- ثالثاً - القيم وأنواعها** ..... ٤١
- ١ - القيم المتصلة ..... ٤٢
- ٢ - القيم المنفصلة ..... ٤٢
- التوزيع التكراري ..... ٤٤
- ١ - توزيع القيم توزيعاً تكرارياً ..... ٤٤
- ٢ - الجدول التكراري ..... ٤٤
- ٣ - التكرار النسبي ..... ٥٠
- ٤ - التكرار المئوي ..... ٥١
- التكرار المتجمع الصاعد والتكرار المتجمع النازل ..... ٥٣
- ١ - التكرار المتجمع الصاعد (النسبي والمئوي) ..... ٥٣

- ٥٧ . ..... ٢ - التكرار المتجمع النازل (النسبي والمثوي)
- ٦٠ ..... رابعاً - توضيح المعلومات بالرسم
- ٦٠ ..... محاور تمثيل المعلومات بالرسم
- ٦٠ ..... طرق توضيح المعلومات بالرسم
- ٦٢ ..... ١ - المضلع التكراري
- ٦٥ ..... أ - تعديل المضلع التكراري
- ٦٦ ..... ب - أسباب عدم تطابق المضلع مع المنحني الاعتدالي
- ٦٨ ..... ح - استخدام المتوسطات المتحركة في تعديل المضلع التكراري
- ٧٣ ..... ء - المقارنة بين توزيعين باستخدام المضلع التكراري
- ٧٣ ..... ١ - المقارنة في حالة عدم تساوي مجموع التكرارات
- ٧٥ ..... ٢ - المقارنة في حالة تساوي مجموع التكرارات
- ٧٧ ..... ٢ - المنحني التكراري
- ٧٨ ..... أ - تعديل المنحني التكراري
- ب - المقارنة بين توزيعين باستخدام المنحني في حالة عدم تساوي التكرارات
- ٨٠ ..... ح - تعديل التكرارات المثوية
- ٨٤ ..... ء - المقارنة بين توزيعين باستخدام المنحني في حالة تساوي التكراري
- ٨٥ ..... ٣ - المدرج التكراري
- ٨٧ ..... أ - تعديل المدرج التكراري
- ب - المقارنة بين توزيعين بالمدرج في حالة عدم تساوي التكرارات
- ٩١ ..... ح - المقارنة بين توزيعين بالمدرج في حالة تساوي التكرارات
- ٩٢ ..... توضيح

- ٩٢ ..... ٤ - التكرار المتجمع الصاعد بالرسم
- ٩٤ ..... ٥ - توضيح التكرار المتجمع النازل بالرسم
- ٩٥ ..... أسئلة للمراجعة العامة للجزء السابق
- ١٠٠ ..... خامساً: مقاييس النزعة المركزية «المتوسطات»
- ١٠١ ..... ١ - المتوسط الحسابي (الوسط الحسابي)
- ١٠٢ ..... أ - الطريقة الشائعة
- ١٠٣ ..... ب - طريقة مراكز الفئات
- ١٠٥ ..... ح - الطريقة المختصرة
- ١٠٨ ..... ٢ - الوسيط (الأوسط)
- ١٠٨ ..... أ - حساب الوسيط من القيم الخام
- ١٠٨ ..... ١ - في حالة الأعداد الفردية
- ١٠٩ ..... ٢ - في حالة الأعداد الزوجية
- ١١٠ ..... ب - حساب الوسيط من الجدول التكراري
- ١١٣ ..... ج - حساب الوسيط عن طريق الرسم
- ١١٥ ..... ٣ - المنوال
- ١١٥ ..... أ - حساب المنوال من الجدول التكراري
- ١١٦ ..... ب - حساب المنوال عن طريق الرسم
- ١١٩ ..... العلاقة بين المتوسطات الثلاثة
- ١٢١ ..... الحصول على قيمة المتوسطات في حالة غياب أحدها
- ١٢٣ ..... تمارين على المتوسطات
- ١٢٥ ..... سادساً - مقاييس التشتت
- ١٢٥ ..... مقدمة
- ١٢٦ ..... ١ - المدى المطلق
- ١٢٧ ..... ٢ - نصف المدى الربيعي

- استخدام الربع في استخراج المجموعات المتطرفة من التوزيع ..... ١٢٨
- ٣ - الانحراف عن المتوسط ..... ١٣٠
- أ - حساب الانحراف عن المتوسط من القيم الخام ..... ١٣٠
- ب - حساب الانحراف عن المتوسط من الجدول التكراري ..... ١٣٢
- ٤ - الانحراف المعياري ..... ١٣٣
- أ - حساب الانحراف المعياري من القيم الخام ..... ١٣٣
- ب - حساب الانحراف المعياري من الجدول التكراري ..... ١٣٤
- تمارين على مقاييس التشتت ..... ١٣٦
- سابعاً - المعايير ..... ١٣٨
- ١ - الدرجة المعيارية ..... ١٣٨
- تحويل الدرجات المعيارية للقيم الأصلية ..... ١٤٠
- ٢ - الدرجة التائية ..... ١٤٠
- ٣ - المئين ..... ١٤٠
- تمارين ..... ١٤٢

## الجزء الثاني

### الإحصاء التطبيقي

- أولاً - معاملات الارتباط ..... ١٤٧
- مقدمة ..... ١٤٧
- ١ - معامل ارتباط الرتب ..... ١٥٠
- أ - خطوات حساب معامل ارتباط الرتب ..... ١٥٢
- ب - حساب معامل ارتباط الرتب في حالة تكرار القيم في المتغيرين ..... ١٥٣
- ج - حساب معامل ارتباط الرتب في حالة انقسام المتغيرين انقساماً فرعياً في المتغيرين ..... ١٥٥

|     |   |
|-----|---|
| ١٥٥ | تمارين .....  |
| ١٥٩ | حدود معامل الارتباط .....                           |
| ١٥٩ | أ - من خلال النظر للرتب .....                       |
| ١٦١ | ب - من خلال جدول الانتشار .....                     |
| ١٦٥ | تمارين .....  |
| ١٦٩ | ٢ - معاملات ارتباط بيرسون .....                     |
| ١٧٠ | أ - معامل ارتباط بيرسون عن طريق الانحرافات .....    |
| ١٧٦ | ب - معامل ارتباط بيرسون عن طريق القيم الخام .....   |
| ١٧٩ | ح - معامل ارتباط بيرسون عن طريق جدول الانتشار ..... |
| ١٨٣ | تمارين .....  |
| ١٨٨ | ٣ - معامل التوافق .....                             |
| ١٩٠ | ٤ - معامل ارتباط فاي .....                          |
| ١٩٢ | ٥ - معامل الارتباط الثنائي .....                    |
| ١٩٧ | جدول ارتفاعات (ص) ومساحات المنحنى الاعتمالي .....   |
| ١٩٨ | حساب دلالة معامل الارتباط .....                     |
| ٢٠٠ | جداول دلالة معامل الارتباط .....                    |
| ٢٠٢ | تعليق على معاملات الارتباط .....                    |
| ٢٠٦ | تمارين .....  |
| ٢١٦ | ثانياً - الدلالة الإحصائية .....                    |
| ٢١٦ | أولاً - الخطأ المعياري للعينة .....                 |
| ٢١٧ | الخطأ المعياري .....                                |
| ٢١٧ | ١ - الخطأ المعياري للمتوسط الحسابي .....            |
| ٢١٨ | ٢ - الخطأ المعياري للانحراف المعياري .....          |
| ٢١٩ | ٣ - الخطأ المعياري للوسيط .....                     |

- ٢٢٠ ..... ٤ - الخطأ المعياري للنسبة والنسبة المئوية
- ٢٢١ ..... ٥ - الخطأ المعياري لمعامل الارتباط
- ٢٢٢ ..... ثانياً - مقياس الدلالة الإحصائية
- ٢٢٣ ..... ١ - مقياس مربع كاي (كا<sup>٢</sup>)
- ٢٢٤ ..... أ - حساب دلالة قيمة كا<sup>٢</sup>
- ٢٢٦ ..... ب - استخدام كا في حساب مدى انطباق التوزيع
- ٢٢٧ ..... ج - دلالة كا عند حساب مدى انطباق التوزيع
- ٢٢٨ ..... ء - حساب قيمة كا من الجدول المزدوج
- ٢٣٠ ..... هـ - حساب معامل التوافق من كا<sup>٢</sup>
- ٢٣١ ..... ٢ - اختبار «ت»
- ٢٣١ ..... أ - قانون اختبار «ت» في حالة تساوي العدد في المجموعتين
- ٢٣١ ..... ب - قانون اختبار «ت» في حالة اختلاف العدد في المجموعتين
- ٢٣٢ ..... ج - مستوى الدلالة الإحصائية (ألفا)
- ٢٣٢ ..... أمثلة
- ٢٣٢ ..... ١ - حساب اختبار «ت» في حالة تساوي العدد في المجموعتين
- ٢٣٢ ..... أولاً - من القيم الخام
- ٢٣٥ ..... ثانياً - من الجدول التكراري
- ٢٣٧ ..... ٢ - حساب اختبار «ت» في حالة اختلاف العدد في المجموعتين
- ٢٣٧ ..... أولاً - من القيم الخام
- ٢٣٨ ..... ثانياً - من الجدول التكراري
- ٢٤٠ ..... تمارين
- ٢٤١ ..... ٣ - درجة الحرية
- ٢٤١ ..... ٤ - الدلالة والفرض (واحد الذنب ثنائي الذنب)
- ٢٤٢ ..... ٣ - حساب الدلالة الإحصائية في المنهج القبلي - بعدي

- ٢٤٥ ..... ٤ - دلالة الفرق بين معاملات الارتباط
- ٢٥٠ ..... ٥ - دلالة الفرق بين الانحرافات المعيارية
- ٢٥١ ..... أولاً - في حالة العينات الكبيرة
- ٢٥٢ ..... ثانياً - في حالة العينات الصغيرة

### الجزء الثالث

#### الإحصاء المتقدم

- ٢٥٧ ..... مقدمة
- ٢٥٨ ..... أولاً - معاملات الارتباط الخاصة بمشاكل البحوث
- ٢٥٨ ..... ١ - العلاقة المستقيمة والمنحنية
- ٢٥٨ ..... أساليب الكشف عن العلاقة: مستقيمة أم منحنية
- ٢٥٩ ..... أ - بالرسم البياني
- ٢٦٠ ..... ب - المتوسطات الحسابية للمتغيرين من ، ص
- ٢٦٣ ..... ج - اختبار مدى دلالة التوزيعين س ، ص
- ٢٦٦ ..... ٢ - نسبة الارتباط
- ٢٧٠ ..... ٣ - معامل الارتباط الجزئي
- العلاقة بين الارتباط الجزئي ومعادلة الفروق الرباعية في التحليل  
العاملية
- ٢٧٥ ..... ٤ - معامل الارتباط المتعدد
- ٢٧٦ ..... أولاً - جدول المقابل اللوغاريتمي لمعاملات الارتباط ٠,٢٥ ، فما  
فوق
- ٢٨٤ ..... ثانياً - جدول المقابل اللوغاريتمي لمعاملات الارتباط الأقل من  
٠,٢٥
- ٢٨٥ ..... ٥ - الانحدار والتنبؤ



|     |       |  |
|-----|-------|--|
| ٢٨٥ | ..... | مقدمة  |
| ٢٨٦ | ..... | فائدة الانحدار   |
| ٢٨٦ | ..... | خطوات حساب الانحدار                                      |
| ٢٩١ | ..... | ثانياً - تحليل التباين                                   |
| ٢٩١ | ..... | أولاً - تحليل التباين البسيط                             |
| ٢٩٥ | ..... | استخدام تحليل التباين في حساب تجانس العينة               |
| ٢٩٦ | ..... | ثانياً - تحليل التباين ذو الاتجاهين (البارامترى)         |
| ٢٩٧ | ..... | ١ - تحليل التباين ذو الاتجاهين (قيمة واحدة)              |
| ٣٠٢ | ..... | ٢ - تحليل التباين ذو اتجاهين (عدة قيم)                   |
| ٣١٢ | ..... | ثالثاً - تحليل التباين ذو الثلاثة اتجاهات (البارامترى)   |
| ٣١٢ | ..... | ١ - تحليل التباين ذو الثلاثة اتجاهات (قيمة واحدة)        |
| ٣٢٢ | ..... | ٢ - تحليل التباين ذو الثلاثة اتجاهات (أكثر من قيمة)      |
| ٣٢٢ | ..... | رابعاً - المقارنة الزوجية بين المتوسطات في تحليل التباين |
| ٣٤٦ | ..... | ثالثاً - المقاييس اللابارامترية                          |
| ٢٤٦ | ..... | مقدمة  |
| ٣٤٧ | ..... | ١ - اختبار الوسيط  |
| ٣٥٢ | ..... | ٢ - اختبار مجموع الرتب                                   |
| ٣٥٥ | ..... | جداول دلالة اختبار واحد أو ثنائي الذنب                   |
| ٣٥٧ | ..... | رابعاً - حساب دلالة النسبة المئوية                       |
| ٣٥٧ | ..... | أولاً - الدلالة للنسبة المئوية غير المرتبطة              |
| ٣٥٨ | ..... | ١ - الطريقة الأولى                                       |
| ٣٦٠ | ..... | ٢ - الطريقة الثانية                                      |
| ٣٦١ | ..... | ٣ - الطريقة الثالثة                                      |
| ٣٦٢ | ..... | ثانياً - الدلالة للنسبة المئوية المرتبطة                 |

|     |       |                                   |
|-----|-------|-----------------------------------|
| ٣٦٦ | ..... | خامساً - التحليل العاملي          |
| ٣٦٦ | ..... | مقدمة                             |
| ٣٦٧ | ..... | هدف التحليل العاملي               |
| ٣٧٠ | ..... | نظرية العاملين في التحليل العاملي |
| ٣٧٢ | ..... | طرق التحليل العاملي               |
| ٣٧٢ | ..... | ١ - طريقة الجمع البسيط            |
| ٣٨٢ | ..... | ٢ - الطريقة المركزية              |
| ٤٠٧ | ..... | تدوير المحاور                     |
| ٤١٤ | ..... | التفسير النفسي للعوامل المتعامدة  |
| ٤١٩ | ..... | سادساً - مراجع الكتاب             |
| ٤٢١ | ..... | سابعاً - فهرس الكتاب              |











